



أسئلة اختبار الفصل الدراسي الثالث (الدور الأول) التعليم (عام - تحفيظ القرآن الكريم) للعام الدراسي : ١٤٤٥ هـ

اسم الطالب/ة :
المدرسة :
رقم الجلوس :

السؤال	السؤال الأول	السؤال الثاني	السؤال الثالث	السؤال الرابع	المجموع
الدرجة					
رقما					
كتابة					

استعن بالله تعالى وأجب عن الأسئلة التالية


السؤال الأول : أ - اختر الإجابة الصحيحة فيما يلي:

١٤

١ - الوحدة الأنسب لقياس المسافة بين مدينتين

أ	التر	ب	السنتمتر	ج	المتر	د	الكيلومتر
---	------	---	----------	---	-------	---	-----------

٢ - التقدير الأنسب لحجم الجسم التالي




أ	٩ وحدة مكعبة	ب	١٢ وحدة مكعبة	ج	١٤ وحدة مكعبة	د	١٦ وحدة مكعبة
---	--------------	---	---------------	---	---------------	---	---------------

٣ - التقدير الأنسب لسعة ملعقة صغيرة

أ	٢ مل	ب	٢ ل	ج	٢٠٠ مل	د	٢٠٠ ل
---	------	---	-----	---	--------	---	-------

٤ - صف هذا الشكل



أ	رباعي له ٤ أضلاع و ٤ زوايا	ب	مثلث له ٣ أضلاع و ٣ زوايا	ج	خماسي له ٦ أضلاع و ٦ زوايا	د	سداسي له ٦ أضلاع و ٦ زوايا
---	----------------------------	---	---------------------------	---	----------------------------	---	----------------------------

٥ - التقدير الأنسب لطول النافذة

أ	٢ ملم	ب	٢ سم	ج	٢ كلم	د	٢ م
---	-------	---	------	---	-------	---	-----

٦ - في الكيلوجرام الواحد يوجد ١٠٠٠ جرام ، فما عدد الجرامات في ٧ كيلوجرامات ؟

أ	٧٠ جراما	ب	١٠٠٠ جرام	ج	٧٠٠ جرام	د	٧٠٠٠ جرام
---	----------	---	-----------	---	----------	---	-----------

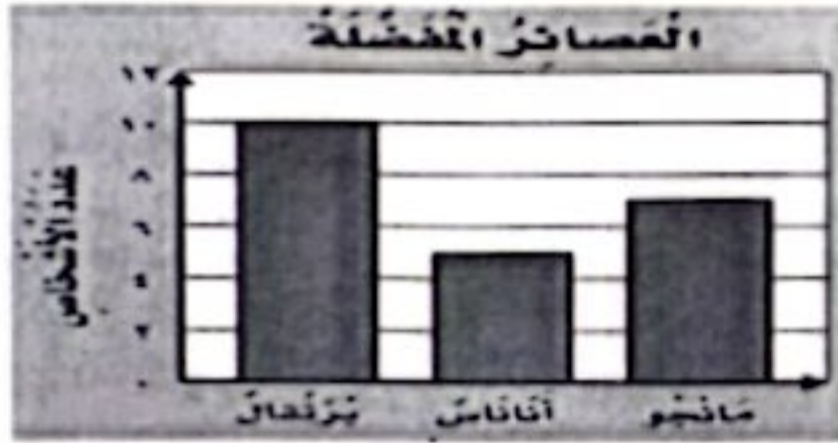
يتبع

١

٧ - مجسم له وجهان دائريان

أ	مكعب	ب	أسطوانة	ج	متوازي المستطيلات	د	كرة
---	------	---	---------	---	-------------------	---	-----


٨ - أستعمل التمثيل المجاور لإيجاد كم يزيد عدد الاشخاص الذين يفضلون عصير البرتقال على عدد الذين يفضلون عصير الأناناس.



أ	٥	ب	٨	ج	١٢	د	١٩
---	---	---	---	---	----	---	----

٩ - تلعب جميلة لعبة تستعمل فيها المكعبات المرقمة بالأرقام: ١، ٢، ٣، ٤، ٥، ٦، صف احتمال ظهور وجه مكعب مكتوب عليه العدد ٩

أ	أكيد	ب	أكثر احتمالاً	ج	أقل احتمالاً	د	مستحيل
---	------	---	---------------	---	--------------	---	--------



١٠ - ما الكسر الذي يمثل الجزء المظلل في الشكل المجاور.


أ	$\frac{1}{5}$	ب	$\frac{2}{5}$	ج	$\frac{1}{4}$	د	$\frac{1}{2}$
---	---------------	---	---------------	---	---------------	---	---------------

١١ - مع ليلي ثلاث قطع زرقاء ، وأربع قطع حمراء ، وثلاث قطع صفراء ، فما الكسر الذي يمثل القطع الحمراء .

أ	$\frac{5}{10}$	ب	$\frac{5}{8}$	ج	$\frac{4}{10}$	د	$\frac{2}{8}$
---	----------------	---	---------------	---	----------------	---	---------------

١٢ - ما الكسر الذي يكافئ الكسر $\frac{2}{3}$

أ	$\frac{7}{9}$	ب	$\frac{2}{5}$	ج	$\frac{3}{4}$	د	$\frac{1}{3}$
---	---------------	---	---------------	---	---------------	---	---------------






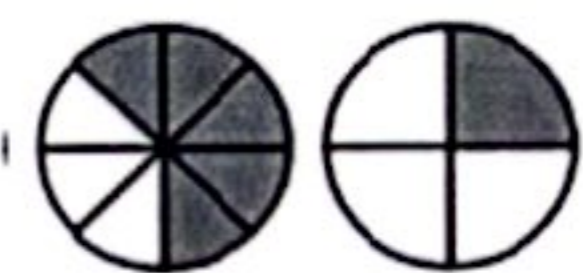


ب) محيط الشكل المجاور يساوي ٢٤ م ، ما طول الضلع المجهول فيه ؟



السؤال الثاني : ١ - أكمل الفراغات الآتية مستعيناً بالشكل المجاور :

١٣

<p>الزمن الذي تشير إليه الساعة هو.....</p>		<p>١</p>
<p>الشكل التاسع في النمط هو.....</p>		<p>٢</p>
<p>عدد الأوراق اللاصقة لدى أنس.....</p>		<p>٣</p>
<p>أكمل لأحصل على كسرين متكافئين:</p> $\frac{\square}{6} = \frac{\square}{3}$		<p>٤</p>
<p>هذا الشكل يسمى</p>		<p>٥</p>
<p>أقارن مستعملاً (< أو > أو =):</p> $\frac{5}{8} \bigcirc \frac{1}{4}$		<p>٦</p>

ب - رتب الكسور التالية من الأكبر إلى الأصغر؟

$$\frac{3}{4}, \frac{5}{8}, \frac{4}{8}$$

.....

ج - صف الشكل وسمه:



عدد الأوجه:

عدد الأحرف:

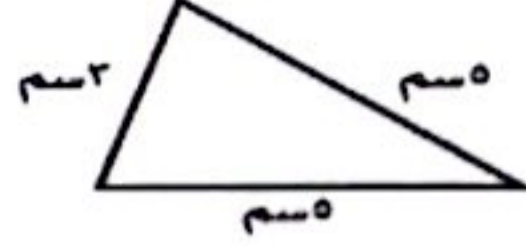

عدد الرؤوس:

يسمى الشكل:

يتبع

السؤال الثالث: اكتب الإجابة الصحيحة من العمود الثاني أمام العبارة المناسبة من العمود الأول.

٨


العمود الثاني	الإجابة الصحيحة	العمود الأول
		 <p>ما محيط المثلث بالسنتيمتر في الشكل ؟</p>
٨		إذا كان كل ▲ يمثل ٣ أشخاص يفضلون كرة القدم، فما عدد الأشخاص الذين يفضلون كرة القدم إذا ظهر هذا الرمز ▲ مرتين ؟
١٣		أوجد مساحة الجزء المظلل بالوحدات المربعة ؟
٦		أستعمل التمثيل أدناه في إيجاد عدد الطلاب الذين لديهم أكثر من ٤ كتب؟
٤		

السؤال الرابع أ- هل للشكل محور تماثل؟ اكتب نعم أو لا، وإذا كانت الإجابة: نعم، أذكر كم محور تماثل له؟

٥



ب - مثل مجموعة البيانات الموضحة أدناه بالأعمدة ؟



عدد مرات الفوز في السباق	
الإشارات	الاسم
	نعيد
	مخنف
	قاسم
	علي

انتهت الأسئلة