



# تاسع سوريا 2026

تم تحميل ونشر هذا الملف بواسطة أكبر قناة تعليمية لطلاب الصف التاسع في سوريا عبر تطبيق التيليجرام ، يمكنك الوصول للقناة عبر الرابط أدناه

 <https://t.me/Y1148Tassea>

## النموذج الأول

## ثلاث وحدات الاولى

## المادة : جغرافيا

**السؤال الأول : اختر الإجابة الصحيحة لست من الأسئلة السبعة الآتية ثم انقلها إلى ورقة إجابتك: (٦٠ درجة)**

١- يصل بين الخليج العربي وخليج عُمان والمحيط الهندي :

A	مضيق باب المندب	B	قناة السويس	C	مضيق باب السلامة	D	مضيق جبل طارق
---	-----------------	---	-------------	---	------------------	---	---------------

٢- أكبر الأقاليم العربية في الجناح الآسيوي مساحتها هو :

A	ليبيا	B	بلاد الشام	C	شبه الجزيرة العربية	D	العراق
---	-------	---	------------	---	---------------------	---	--------

٣- تشغل معظم مساحة الوطن العربي :

A	الجبال	B	الأودية	C	الهضاب	D	السواحل
---	--------	---	---------	---	--------	---	---------

٤- من أهم أقسام حوضه دمشق :

A	الحماد	B	المرج	C	سهول حوران	D	الجزيرة العليا
---	--------	---	-------	---	------------	---	----------------

٥- ينتشر الإقليم الموسمي في :

A	السودان و الصومال	B	سواحل البحر المتوسط	C	في العراق	D	مرتفعات اليمن و عُمان
---	-------------------	---	---------------------	---	-----------	---	-----------------------

٦- بحيرة طبيعية نشأت بفعل ظاهرة الترسيب هي

A	طبريا	B	المنزلة	C	مسعدة	D	ناصر
---	-------	---	---------	---	-------	---	------

٧- العامل الرئيسي في تشكل بحيرة مسعدة الطبيعية :

A	لسان بازلتية	B	البراكين	C	الترسيب	D	الحت
---	--------------	---	----------	---	---------	---	------

**السؤال الثاني: ضع كلمة (صح) أمام العبارة الصحيحة وكلمة (غلط) أمام العبارة المغلوطة لثلاث من العبارات الآتية:**

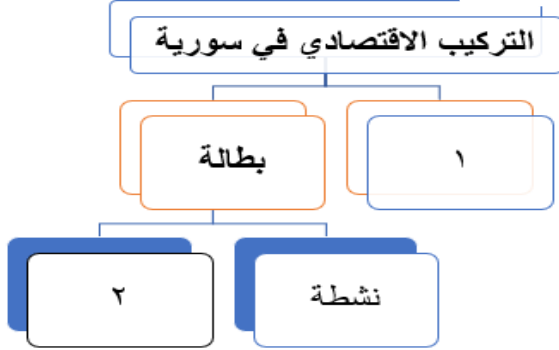
(٣٠ درجة)

- ١- الجزء الأكبر من الوطن العربي يقع في القسم الآسيوي ( )
- ٢- تعد هضبة الجولان من اغنى المناطق السورية بالمياه و التربة الخصبة ( )
- ٣-الهدف الرئيس من تقسيم العلماء الوطن العربي الى أقاليم سبعة هو تجزئته الى دويلات ( )
- ٤- تشكل سهول حوران القسم الأوسط من هضبة حوران البركانية ( )

**السؤال الثالث: فسّر ثلاثاً من العبارات الآتية تفسيراً علمياً دقيقاً: (٣٠ درجة)**

- ١- الأهمية الجغرافية الاستراتيجية للوطن العربي.
- ٢- أهمية موقع إقليم القرن الأفريقي ..
- ٣- تنوع المظاهر التي تشغل سطح الهضاب في الوطن العربي .
- ٤- محدودية تأثير المسطحات المائية التي يشرف عليها الوطن العربي في تعديل المناخ .

**السؤال الرابع: أكمل خريطة المفاهيم الآتية: (٢٠ درجة)**



١

**السؤال الخامس: أجب عن أربعة من الأسئلة الخمسة الآتية: (٨٠ درجة)**

- ١- انسب العواصم التالية الى دولها : ( نواكشوط - مقديشو - المنامة - مسقط - الرباط - الخرطوم .
- ٢- عدد أنظمة الامطار التي تسقط في الوطن العربي و ما اسباب سقوطها .
- ٣- تحدث عن **حوضه دمشق** الصفات و الامتداد و الأقسام .
- ٤- وازن في جدول بين الاقليمين المتوسطي و المداري من حيث الامتداد - الحرارة - فصل سقوط الامطار - النبات .
- ٥- ما تأثير التضاريس في المناخ و السياحة .

**السؤال السادس: حُلّل النص الآتي ثم أجب عن الأسئلة الآتية: (٣٠ درجة)**

" تُعدّ جبال اللاذقية ذات المناخ المعتدل و الانحدار اللطيف من أبرز سلاسل بلاد الشام و هي موطناً لغابات الفرنلق التي تشكل غطاءً نباتياً فريداً يجذب الزوار، مما يعزز الاستثمار وينبع من هذه الجبال الساحلية شبكة مائية هامة من أبرزها نهري الكبير الشمالي و السن اللذان يصبان في البحر المتوسط و تعرف هذه المنطقة الجبلية بأطوارها الغزيرة مما يجعل تربتها تواجه تحديات بيئية متزايدة مما يتطلب حلاً تنموية مستدامة.

- ١- صنف جبال اللاذقية وفق اصناف الجبال التي وردت في الكتاب وفق عوامل تشكلها .
- ٢- حدد نوع السياحة التي يمكن ممارستها مع ذكر مقوماتها وفق النص السابق ؟
- ٣- هل تعد الأنهار التي وردت في النص ساحلية ام داخلية ام عابرة مبينا صفاتها .
- ٤- ما المشكلة التي ستعاني منها هذه التربة مقترحا حلاً مناسباً لها .
- ٥- بين الدور السلبي الذي مارسه الانسان في هذه المنطقة و فاقم مشكلات تربتها .

**السؤال السابع : ارسم خريطة الجمهورية العربية السورية مستعيناً بالحدود البرية والبحرية، وثبت عليها مع التسمية**

**ما يلي: (٥٠ درجة)**

مجرى نهر الفرات - دير الزور - جبل عبد العزيز - حقل عمر

٢-- حوضه دمشق : منطقة منخفضة من الشرق أطراف البادية من الجنوب هضبة حوران البركانية من الغرب جبال الحرمون من الشمال جبال قاسيون والقلمون القسم الأول في الشرق أقل خصوبة وارتفاع يسمى المرج القسم الثاني في الغرب خصب يسمى الغوطة

٣- الاقليمين المتوسطي و المداري

بين درجتي عرض ٣٠,٣٧/و/٢٨ / شمال خط الاستواء	بين بين درجتي ١٥/و/٨ / شمال خط الاستواء
صيف جاف شتاء معتدل ماطر	حار دائماً أمطار صيفية غزارة
صنوبر وسنديان البطم	الماهو جاني كالهشاب

٥- التضاريس : تؤثر في المناخ من حيث :

الارتفاع : يزيد الرطوبة و يخفض درجات الحرارة مع الارتفاع لذلك نجد بعض الجبال تعج بالنشاطات الزراعية و السياحية . مقارنة بمحيطها الجاف و المرتفع الحرارة

#### تحليل النص

١	تصنف جبال التوائية - انكسارية
٢	سياحة بيئية / سياحة طبيعية / سياحة استجمام و ترفيه. سياحة جبلية المقومات المناخ المعتدل واللطيف الانحدار اللطيف لسلاسل الجبال وجود غطاء نباتي فريد (غابات الفرنلق) الاطلالة والموقع القريب من البحر المتوسط وفرة المياه (شبكة مائية هامة / الأنهار مثل الكبير الشمالي والسن).
٣	انهار ساحلية : قصيرة المجرى شديد الانحدار تتبع من الجبال الساحلية وتصب في البحر الأبيض المتوسط
٤	المشكلة التي ستعاني مشكلة انجراف التربة بسبب الأمطار الغزيرة والانحدار او فقدان الخصوبة نتيجة غسل التربة الحول بناء المدرجات الجبلية (المصاطب) للتقليل من سرعة تدفق المياه. الحفاظ على الغطاء النباتي وزيادة التشجير (لأن جذور الأشجار تثبت التربة). تنظيم الرعي ومنع الرعي الجائر
٥	س٥: الدور السلبي الذي مارسه الإنسان في قطع الأشجار وتدمير الغطاء النباتي (لأغراض التوسع الزراعي أو العمراني أو التحطيب). الرعي الجائر في المنحدرات الجبلية مما يضعف تماسك التربة التوسع العمراني العشوائي على حساب الأراضي الزراعية الحرائق المفتعلة أو الناتجة عن الإهمال في الغابات

١	مضيق باب السلامة	٥	مرتفعات اليمن وعمان
٢	شبه الجزيرة العربية	٦	المنزلة
٣	الهضاب	٧	البراكين
٤	المرج		

#### الصح و الغط

١	٢	٣	٤
غط	صح	غط	صح

#### التعاليل

١	الأهمية الاستراتيجية للوطن العربي الموقع الاستراتيجي بين قارات العالم جعله طريقاً للمواصلات البرية والبحرية والجوية . ٢- إشرافه على بحار ومحيطات هامة . ٣- تحكمه بمضائق بحرية هي . المضائق : باب السلامة (هرمز) : يصل بين الخليج العربي وخليج عمان والمحيط الهندي مضيق باب المنذب : يصل بين البحر الأحمر وخليج عدن والمحيط الهندي . ١- مضيق جبل طارق : يصل بين المحيط الأطلسي والبحر المتوسط . قناة السويس : تصل بين البحر المتوسط والبحر الأحمر
٢	أهمية موقع إقليم القرن الإفريقي : ١- موقع مميز على الساحل الشرقي لإفريقيا . ٢- يخترقه خط الاستواء من الجنوب . ١- يشرف من الشرق على البحر الأحمر ومضيق باب المنذب وخليج عدن والمحيط الهندي ٢- تعد سواحله مناطق صيد عربية مهمة .
٣	تنوع المظاهر التي تشغل سطح الهضاب (علل) : بسبب تأثير الهضاب بعدة عوامل : ١- الحت ٢- التعرية ٣- التغيرات المناخية .
٤	محدودية تأثير المسطحات المائية التي يشرف عليها الوطن العربي ١- بسبب ضيق المسطحات المائية التي تتخلله (أي تخترقه) . ٢- عدم تغل الرياح الممطرة نحو الداخل . (a) نتيجة مسابرة بعض السواحل لهذه الرياح أو تعامد الرياح مع السلاسل الجبلية

#### خريطة المفاهيم

١	٢	٣	٤
قوة عاملة	مفتحة		

#### الأسئلة الأربعة

١	نواكشوط موريتانيا	مقديشو الصومال	المنامة البحرين	مسقط سلطنة عمان	الرباط المملكة المغربية	الخرطوم السودان
٢	الأول	متوسطي	تهطل الأمطار في الشتاء ، تسببها الرياح الغربية الرطبة	الثاني	مداري	تهطل الأمطار في الصيف، تسببها الرياح الجنوبية الغربية
	صيفية	صيفية	صيفية			

**السؤال الأول: اختر الإجابة الصحيحة لست من الأسئلة السبعة الآتية ثم انقلها إلى ورقة إجابتك: (٦٠ درجة)**

١- يصل بين البحر الأحمر و خليج عدن والمحيط الهندي:

A	مضيق باب المندب	B	قناة السويس	C	مضيق باب السلامة	D	مضيق جبل طارق
---	-----------------	---	-------------	---	------------------	---	---------------

٢- الإقليم الجغرافي الأكبر مساحة في الوطن العربي هو:

A	ليبيا	B	وادي النيل	C	المغرب العربي	D	بلاد الشام
---	-------	---	------------	---	---------------	---	------------

٣- من أقسام البادية:

A	الغوطة	B	الحماد	C	سهل الغاب	D	المرج
---	--------	---	--------	---	-----------	---	-------

٤- يستخرج الصمغ العربي من أشجار:

A	السنطيات	B	الماهو جاني	C	السافانا	D	الهشاب
---	----------	---	-------------	---	----------	---	--------

٥- القطاع الأكثر استهلاكاً للمياه في سورية:

A	الصناعة	B	الاستخدام المنزلي	C	الزراعة	D	السياحة
---	---------	---	-------------------	---	---------	---	---------

٦- التربة التي تغطي المساحة الأكبر من الوطن العربي هي

A	اللحقية	B	المتوسطة	C	الصحراوية	D	الغدقة
---	---------	---	----------	---	-----------	---	--------

٧- انتقال الفرد من منطقة الى أخرى داخل دولته هي هجرة:

A	قسرية	B	داخلية	C	خارجية	D	كل ما سبق
---	-------	---	--------	---	--------	---	-----------

**السؤال الثاني: ضع كلمة (صح) أمام العبارة الصحيحة وكلمة (غلط) أمام العبارة المغلوطة ثلاث من العبارات الآتية:**

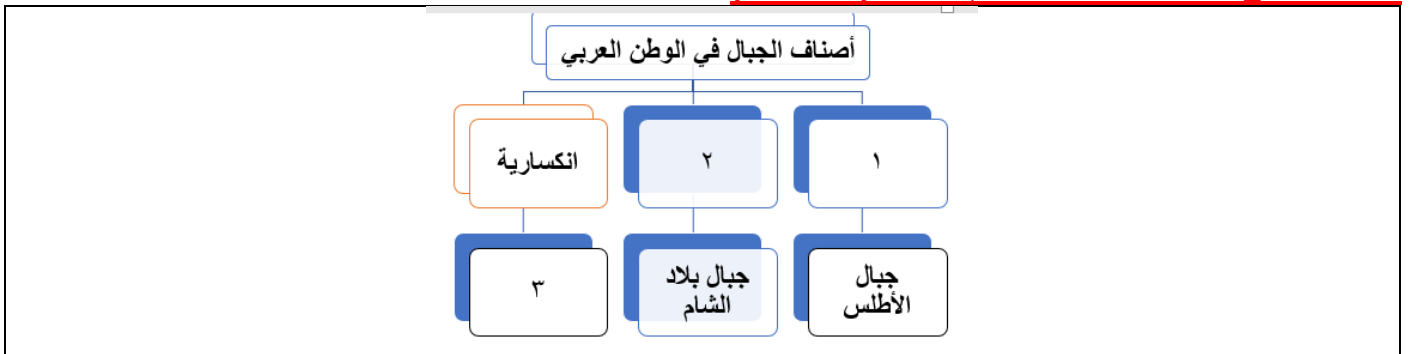
**(٣٠ درجة)**

- ١- تشغل سورية الجزء الشمالي من بلاد الشام ( )
- ٢- تعد الكثافة السكانية وفق المظاهر الطبيعية التي اعتمد عليها العلماء في تقسيمهم لأقاليم الوطن العربي ( )
- ٣- تتعامد أشعة الشمس صيفا على المنطقة الواقعة بين خط الاستواء ومدار السرطان ( )
- ٤- تتميز الدول النفطية بارتفاع نسبة الذكور و اختلاف التركيب النوعي . ( )

**السؤال الثالث: فسّر ثلاثاً من العبارات الآتية تفسيراً علمياً دقيقاً: (٣٠ درجة)**

- ١- يعاني معظم سكان القرن الأفريقي من المجاعات و سوء التغذية ...
- ٢- يعد الإقليم الصحراوي مصدراً مأمولاً للطاقة المتجددة .
- ٣- ضعف المؤثرات البحرية في المنطقة الداخلية و البادية في سورية .
- ٤- تعاني تربة البحر المتوسط من مشكلة الانجراف . .

**السؤال الرابع: أكمل خريطة المفاهيم الآتية: (٢٠ درجة)**



**السؤال الخامس: أجب عن أربعة من الأسئلة الخمسة الآتية: (٨٠ درجة)**

- ١- انسب الدول التالية الى إقاليمها الجغرافية: موريتانيا - السودان - لبنان - قطر - الجزائر
- ٢- ما العامل الرئيسي المشكل لكل مما يلي:

تشكل سلسلتين متوازيتين غرب سورية	انقسام الهضبة العربية الى هضبتين
انقسام مناخ سورية الى اربع مناخات	السهول الفيضية

- ٣- ما الصفات العامة لمناخ الوطن العربي .
- ٤- وازن في جدول بين إقليم بلاد الشام و وادي النيل من حيث: الموقع - الأهمية الجغرافية - الدول المكونة
- ٥- ما أصناف الجبال حسب تشكلها في الوطن العربي مع ذكر مثال لكل منها .

**السؤال السادس: حلل النص الآتي ثم أجب عن الأسئلة الآتية: (٣٠ درجة)**

تواجه العديد من المدن النامية تحديات عديدة جراء الهجرة الريفية المتزايدة، حيث ينتقل السكان من الأرياف إلى المراكز الحضرية. هذا التدفق البشري الهائل، غير المتناسب مع البنية التحتية للمدن، أدى إلى تحديات كبيرة في المدن وعجزت الخطط العمرانية عن استيعاب هذه الأعداد، مما أسفر عن انتشار تجمعات سكانية على أطراف المدينة وهي مناطق تفتقر لأدنى مقومات الحياة من شبكات مياه صالحة للشرب، وصرف صحي، وخدمات تعليمية وصحية.

- ١- بين أسباب تزايد الهجرة من الريف الى المدينة .
- ٢- ما نتائج تضخم المدن ؟
- ٣- استنتج أثر التزايد السكاني على الخدمات و الموارد في المدن .
- ٤- استنتج سبب ظهور المساكن العشوائية .
- ٥- اقترح حلين لمعالجة المشاكل الواردة في النص .

**السؤال السابع: ارسم خريطة الجمهورية العربية السورية مستعيناً بالحدود البرية والبحرية، وثبت عليها مع التسمية ما يلي: (٥٠ درجة)**

مجرى نهر بردى - دمشق - منطقة لانتشار التربة اللحية - حقل رميلان

**حل السؤال السادس (( التحليل ))**

**س١: بين أسباب تزايد الهجرة من الريف إلى المدينة**

البحث عن فرص عمل أفضل أو تحسين مستوى المعيشة. توفر الخدمات الأساسية في المدن (التعليمية، الصحية، الترفيهية) مقارنة بالريف. إهمال القطاع الزراعي في الأرياف أو قلة التنمية الريفية.

**س٢: ما نتائج تضخم المدن؟**

عجز الخطط العمرانية عن استيعاب الأعداد المتزايدة. الضغط الهائل على البنية التحتية للمدن. انتشار تجمعات سكانية (عشوائيات) على أطراف المدن تفتقر لمقومات الحياة.

**س٣: استنتج أثر التزايد السكاني على الخدمات والموارد في المدن. (٦ درجات)**

**أثر سلبي:** الضغط الشديد على شبكات المياه، الصرف الصحي، الكهرباء، المدارس، والمستشفيات، مما يؤدي إلى تراجع جودتها وعجزها عن تلبية الاحتياجات اما على الموارد: استنزاف الموارد الطبيعية (كالماء والطاقة)، زيادة التلوث البيئي، وارتفاع أسعار السلع والعقارات نتيجة زيادة الطلب.

**س٤: استنتج سبب ظهور المساكن العشوائية. (٦ درجات)**

التدفق البشري الهائل (الهجرة الريفية المتزايدة) غير المتناسب مع البنية التحتية، وعجز الخطط العمرانية عن استيعاب هذه الأعداد. الفقر، عجز الوافدين الجدد عن تأمين مساكن نظامية لارتفاع أسعارها، غياب الرقابة والتنظيم العمراني.

**س٥: اقترح حلين لمعالجة المشاكل الواردة في النص. (٦ درجات)**

الاهتمام بالريف وتنميته: توفير فرص عمل ومشاريع زراعية، وتطوير الخدمات (صحة، تعليم، طرق) في الأرياف للحد من الهجرة (تثبيت السكان). تنظيم التوسع العمراني: وضع خطط واستراتيجيات عمرانية مستقبلية مستدامة تستوعب الزيادة السكانية. تأهيل العشوائيات: تزويد المناطق العشوائية بالبنية التحتية الأساسية (شبكات مياه، صرف صحي، مدارس، مستشفيات). تخفيف الضغط عن المدن الكبرى من خلال بناء مراكز حضرية جديدة وتوزيع الأنشطة الاقتصادية.

-٤-

بلاد الشام	وادي النيل
الجزء الشمالي الغربي من آسيا العربية	الجزء الشمالي الشرقي من إفريقيا
١) منفذ آسيا الوسطى والغربية على البحر المتوسط	١. جسر بري يصل آسيا العربية بأفريقيا
٢) جسر يصل آسيا بأفريقيا	٢. جسر بري يصل أفريقيا الاستوائية بالبحر المتوسط.
٣) تمر عبره أقصر الطرق البرية إلى أوروبا	
سورية الأردن فلسطين لبنان	السودان مصر جنوب السودان

٥	أنصاف الجبال وردت في خريطة المفاهيم تحليل النص وردت الإجابة تحت النص
---	--

١	مضيق باب المنذب	٥	الزراعة
٢	المغرب العربي	٦	الصحراوية
٣	الحماد	٧	داخلية
٤	الهائشاب		

#### الصح و الغلط

١	٢	٣	٤
صح	غلط	صح	صح

#### التعالي

١	المجاعات وسوء التغذية نتيجة المعوقات التي تواجه الزراعة والصيد وهي : ١- استخدام الوسائل البدائية . ٢- قلة التمويل . ٣- الصراعات والحروب الأهلية
٢	□ يعد مصدراً مأمولاً للطاقة المتجددة بم تفسر : ١- لأنه يشغل (٨٠%) من مساحة الوطن العربي . ٢- لانه أشد الأقاليم حرارياً
٣	ضعف المؤثرات البحرية و انقسام مناخ سورية الى اربع مناخات : بسبب اتجاه الجبال الموازي للساحل وارتفاعها. و بسبب انفتاح البادية السورية على المؤثرات القارية من جهة الشرق
٤	تعاني من مشكلة الانجراف في الجبال /علل/ : ١- تدهور الغطاء النباتي الغابي ٢- الأمطار الغزيرة على الجبال الساحلية

#### خريطة المفاهيم

١	٢	٣	٤
التوائية	التوائية انكسارية	مرتفعات البحر الأحمر الشرقية و الغربية	

#### الأسئلة الأربعة

١	موريتانيا المغرب العربي	السودان وادي النيل	لبنان بلاد الشام	قطر شبه الجزيرة العربية	الجزائر المغرب العربي
٢	<p>العامل الرئيسي</p> <p>انقسام الهضبة العربية الى هضبتين <b>تشكل البحر الأحمر</b></p> <p>تشكل سلسلتين متوازيتين غرب سورية</p> <p><b>تعرض غربي سورية لحركات الالتوائية الانكسارية</b></p> <p>السهول الفيضية : <b>الترسيب النهري</b></p> <p>انقسام مناخ سورية : <b>انفتاح البادية على المؤثرات القارية من الشرق</b></p> <p>٣- الصفات العامة لمناخ الوطن العربي : الجفاف</p> <p>- عدم انتظام كمية الأمطار ومواعيد هطولها</p> <p>- ارتفاع المدى الحراري في معظم المناطق الداخلية</p> <p>انقسام السنة إلى فصلين واضحين هما الصيف والشتاء</p>				

النموذج الثالث

اول ثلاث وحدات

المادة : جغرافيا

**السؤال الأول: اختر الإجابة الصحيحة لست من الأسئلة السبعة الآتية ثم انقلها إلى ورقة إجابتك: (٦٠ درجة)**

١- يصل بين المحيط الأطلسي والبحر المتوسط:

A	مضيق باب المندب	B	قناة السويس	C	مضيق باب السلامة	D	مضيق جبل طارق
---	-----------------	---	-------------	---	------------------	---	---------------

٢- يتوسط الساحل الشمالي لأفريقيا هو إقليم:

A	ليبيا	B	القرن الإفريقي	C	شبه الجزيرة العربية	D	المغرب العربي
---	-------	---	----------------	---	---------------------	---	---------------

٣- من جبال السلسلة الساحلية الغربية في سورية:

A	الأفرع	B	البشري	C	العرب	D	سمعان
---	--------	---	--------	---	-------	---	-------

٤- أكبر الأقاليم العربية مساحة في الجناح الأفريقي:

A	ليبيا	B	المغرب العربي	C	شبه الجزيرة	D	القرن الأفريقي
---	-------	---	---------------	---	-------------	---	----------------

٥- يشكل المحيط الأطلسي حدود الوطن العربي من جهة:

A	الغرب	B	الشرق	C	الجنوب	D	الشمال
---	-------	---	-------	---	--------	---	--------

٦- تقع جزيرة أبو موسى في:

A	البحر المتوسط	B	البحر الأحمر	C	خليج العقبة	D	الخليج العربي
---	---------------	---	--------------	---	-------------	---	---------------

٧- من أقسام هضبة حوران البركانية

A	الغوطة	B	هضبة الجولان	C	الشامية	D	جبل البسيط
---	--------	---	--------------	---	---------	---	------------

**السؤال الثاني: ضع كلمة (صح) أمام العبارة الصحيحة وكلمة (غلط) أمام العبارة المغلوطة لثلاث من العبارات الآتية:**

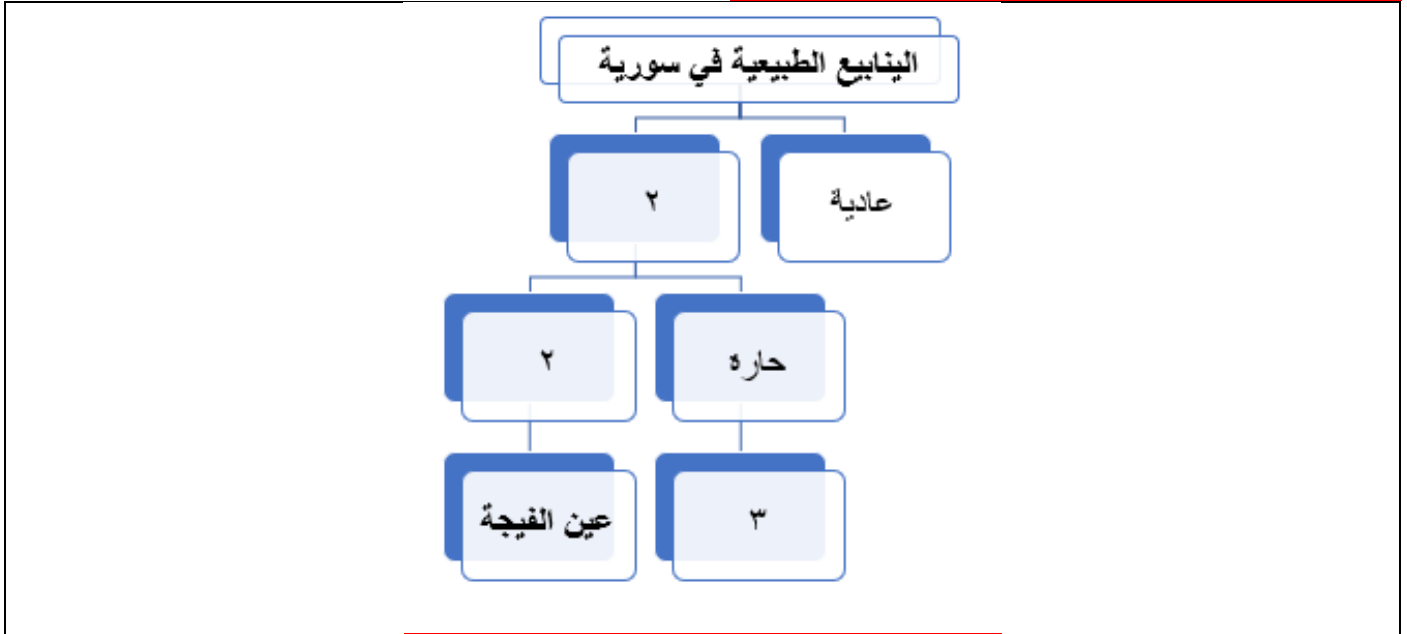
(٣٠ درجة)

- ١- تشرف سورية من الشرق على البحر المتوسط . ( )
- ٢- يحتل إقليم المغرب العربي المركز الأول في الوطن العربي على صعيد صيد الأسماك والاسفنج ( )
- ٣- تتناقص درجات الحرارة صيفا في الوطن العربي باتجاه الجنوب نتيجة الأمطار الصيفية ( )
- ٤- يتسم التركيب العمري في الوطن العربي بفتوة السكان ( )

**السؤال الثالث: فسّر ثلاثاً من العبارات الآتية تفسيراً علمياً دقيقاً: (٣٠ درجة)**

- ١- أهمية قناة السويس..
- ٢- تعرض الترب الصحراوية الى الانجراف الريحي .
- ٣- ظهور أحياء السكن العشوائية.
- ٤- تعرض التربة اللحية للتملح .

**السؤال الرابع: أكمل خريطة المفاهيم الآتية: (٢٠ درجة)**



**السؤال الخامس: أجب عن أربعة من الأسئلة الخمسة الآتية: ( ٨٠ درجة)**

١- انسب المظاهر التضريسية التالية الى دولها

واحة سيوه	واحة اوباري
جبلي شمر و طويق	سهل الغاب

٢- ما صفات الجبال في سورية

٣- ما صفات الرياح المحلية التي تهب على الوطن العربي في فصلي الربيع والخريف وما أسماؤها.

٤- قارن بين إقليمي شبه الجزيرة العربية و ليبيا من حيث الموقع - الأهمية الاقتصادية - الدول المكونة .

٥- عرف عملية حصاد المياه و ما أهميته و اساليبها .

**السؤال السادس: حلل النص الآتي ثم أجب عن الأسئلة الآتية: ( ٣٠ درجة)**

يواجه الوطن العربي تدهور الأراضي الزراعية في المناطق الجافة وشبه الجافة نتيجة الجفاف والأنشطة البشرية الخاطئة و يترافق ذلك مع ظاهرة زحف وهجرة الكثبان الرملية بفعل الرياح النشطة، مما يهدد الأراضي الزراعية والمناطق السكنية. ، اتجهت الدول إلى إقامة المحميات الطبيعية في المناطق الهامشية والصحراوية؛ بهدف إعادة تأهيل الغطاء النباتي وتثبيت التربة. و تنمية البادية بفرص استثمارية سياحية

١- اذكر بعض الممارسات الخاطئة للإنسان المسببة لتدهور الأراضي ( الأسباب البشرية للتصحّر ) ."

٢- اقترح حلين لتثبيت الكثبان الرملية .

٣- ما نوع السياحة التي يمكن ممارستها في هذه المنطقة مع اثرين ايجابيين لها ..

٤- برأيك كيف يمكن للمحميات ان تسهم في حل مشكلة تدهور الأراضي و انتشار الكثبان الرملية

**السؤال السابع: ارسم خريطة الجمهورية العربية السورية مستعيناً بالحدود البرية والبحرية، وثبت عليها مع التسمية ما يلي: ( ٥٠ درجة)**

مجرى نهر الكبير الشمالي - حمص - بيئة متوسطة شبه رطبة - حقل فوسفات خنيفس

**حل السؤال السادس تحليل النص**

س١: اذكر بعض الممارسات الخاطئة للإنسان المسببة لتدهور الأراضي (الأسباب البشرية للتصحّر).

الرعي الجائر - القطع العشوائي للأشجار والشجيرات (الاحتطاب) الحراثة العميقة في المناطق الجافة أو عدم اتباع الدورة الزراعية- الري التقليدي/ بالغمر مما يؤدي لتملح التربة. الزحف العمراني

س٢: اقترح حلين لتثبيت الكثبان الرملية.

زراعة أحزمة خضراء، أو غرس أشجار ونباتات تتحمل الجفاف والملوحة لصد الرياح وتثبيت التربة بجذورها. إقامة مصدات رياح (جدران نباتية جافة، سواتر ترابية. رش الرمال بالأسفلت

س٣- ما نوع السياحة التي يمكن ممارستها في هذه المنطقة مع أثرين إيجابيين لها؟

سياحة بيئية. او صحراوية

**الآثار الإيجابية** تنمية البادية وتوفير فرص استثمارية جديدة، وزيادة الدخل للسكان المحليين. توفير فرص عمل للشباب والحد من الهجرة من الريف/البادية إلى المدينة. - نشر الوعي بأهمية الحفاظ على المحميات والطبيعة الصحراوية.

س٤- برأيك كيف يمكن للمحميات أن تسهم في حل مشكلة تدهور الأراضي و انتشار الكثبان الرملية؟

تسهم المحميات في إعادة تأهيل الغطاء النباتي الطبيعي ومنع الرعي الجائر والاحتطاب فيها.

تساعد المحميات على امتصاص حدة الرياح النشطة وتقليل قدرتها على نقل الرمال

--٤

شبه الجزيرة	ليبيا
الجزء الجنوبي الشرقي من الوطن العربي في آسيا العربية	يتوسط الساحل الشمالي لأفريقيا
إشرافه على مضائق بحرية مهمة عالمياً . ٢- اكتشاف احتياطي ضخم من النفط والغاز على مستوى العالم في أرضه .	صلة الوصل بين إقليم وادي النيل والمغرب و بين دول وسط إفريقيا المتوسط يمتلك الإقليم ثروة نفطية كبيرة تمتاز سواحله بغناها بالإسفنج والأسماك
السعودية البحرين الكويت قطر الإمارات عُمان اليمن	ليبيا

٥ = **حصاد المياه وما أساليبيها** : عملية حجز مياه الأمطار في أوقات سقوطها وتخزينها بطرق مختلفة والاستفادة منها عند الحاجة وهي وسيلة اقتصادية فعالة لتنمية البادية .  
س: أساليب حصاد المياه في البادية السورية :  
إقامة السدود والحفر التجميعية

١	مضيق جبل طارق	٥	المغرب
٢	ليبيا	٦	الخليج العربي
٣	الأقرق	٧	هضبة الجولان
٤	المغرب العربي		

**الصح و الغلط**

١	٢	٣	٤
غَط	صَح	صَح	صَح

**التعاليل**

١	<p><b>أهمية قناة السويس :</b> ١- أهم ممر مائي في العالم ٢- تصل البحرين المتوسط بالأحمر ٣- اختصرت طرق الملاحة العالمية بين قارات العالم ٤- أدت إلى نشوء مدن جديدة كبور سعيد والإسماعيلية</p>
٢	<p><b>تعرض التربة الصحراوية الانجراف الريحي</b> - نتيجة التعدي بالزراعة البعلية غير الناجحة . - الرعي الجائر - الاحتطاب المؤدي إلى إزالة غطائها النباتي</p>
٣	<p><b>ظهور السكن العشوائي</b> 1- فقدان التوازن بين التخطيط والنمو السكاني 2- أسباب تقنية ضعف تنفيذ التخطيط العمراني</p>
٤	<p><b>تعرض التربة الحقيقية للتملح :</b> نتيجة ١- تبخر المياه ٢- ترسب الأملاح ٣- التصريف السيء - الري بالغمر</p>

**خريطة المفاهيم**

١	٢	٣	٤
معدينية	باردة	الشيخ عيسى- أبو رباح	

**الأسئلة الأربعة**

١	واحة سيوه مصر	اوباري ليبيا	شمر و طويق السعودية	سهل الغاب سورية
٢	<p><b>صفات الجبال في سورية</b> تشكل سلسلتين متوازيتين يغلب عليهما الصخور الكلسية تحصران بينهما مقعرات وحفر انهدامية تتجه السلسلتين من الشمال إلى الجنوب</p>			
٣	<p><b>صفات الرياح المحلية حارة وجافة</b> مدتها قصيرة متقطعة قادمة من الصحراء محملة بالرمال تؤذي المزروعات</p>			

**السؤال الأول: اختر الإجابة الصحيحة لست من الأسئلة السبعة الآتية ثم انقلها إلى ورقة إجابتك: (٦٠ درجة)**

١- يعد سلة الغذاء العربي هو اقليم :

A	شبه الجزيرة العربية	B	ليبيا	C	وادي النيل	D	وادي الرافدين
---	---------------------	---	-------	---	------------	---	---------------

٢- الإقليم الذي يخترقه خط الاستواء

A	القرن الأفريقي	B	المغرب العربي	C	شبه الجزيرة العربية	D	بالد الشام
---	----------------	---	---------------	---	---------------------	---	------------

٣- تقع سهول حمص و حماة في

A	هضبة الجولان	B	الجزيرة العليا	C	الهضبة الشمالية الغربية	D	البادية
---	--------------	---	----------------	---	-------------------------	---	---------

٤- مضيق يصل بين البحر المتوسط والبحر الأحمر

A	باب المندب	B	باب السلام	C	قناة السويس	D	جبل طارق
---	------------	---	------------	---	-------------	---	----------

٥- يحد الجمهورية العربية السورية من الغرب :

A	تركيا	B	لبنان و البحر المتوسط	C	الاردن	D	العراق
---	-------	---	-----------------------	---	--------	---	--------

٦- يحتل المركز الأول بصيد الأسماك و الاسفنج :

A	إقليم بلاد الشام	B	إقليم ليبيا	C	إقليم المغرب العربي	D	إقليم شبه الجزيرة العربية
---	------------------	---	-------------	---	---------------------	---	---------------------------

٧- تصنف سلاسل بلاد الشام انها جبال :

A	التوائية	B	انكسارية	C	التوائية انكسارية	D	بركانية
---	----------	---	----------	---	-------------------	---	---------

**السؤال الثاني: ضع كلمة (صح) أمام العبارة الصحيحة وكلمة (غلط) أمام العبارة المغلوطة ثلاث من العبارات الآتية:**

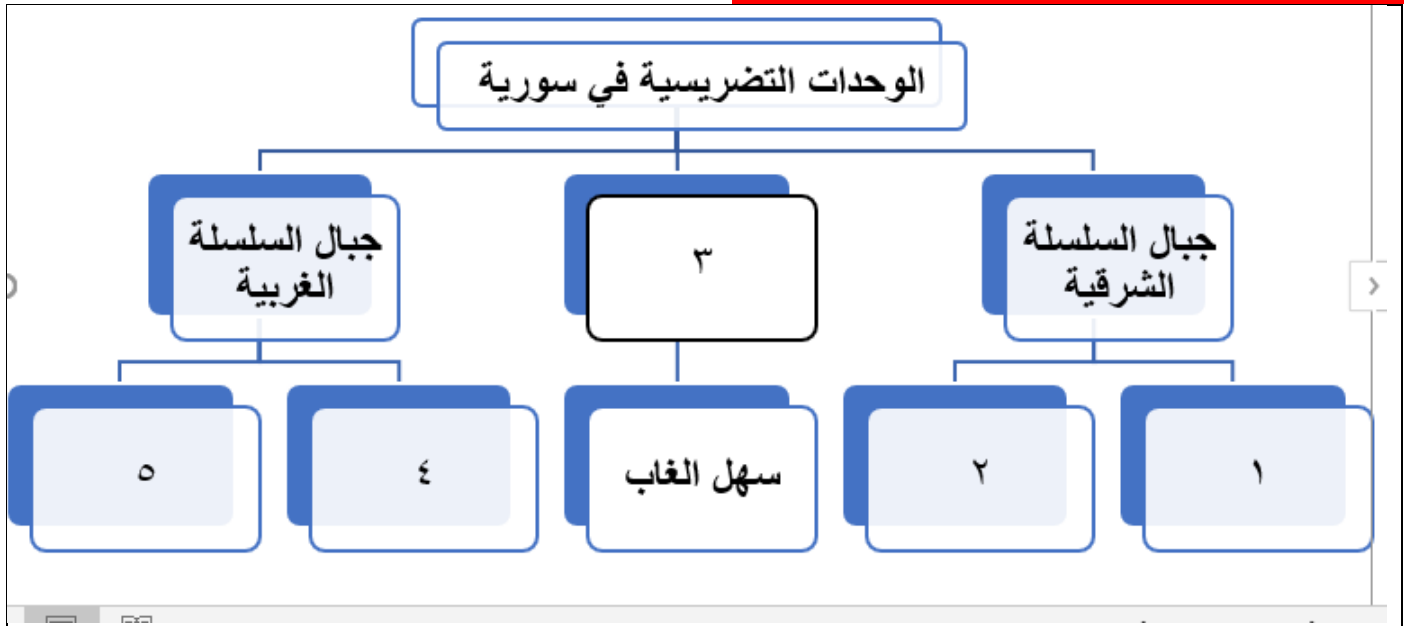
**(٣٠ درجة)**

- ١- يشرف إقليم المغرب العربي على ثلاث مضائق (ممرات) بحرية .
- ٢- تعد قمة طوبقال في المملكة المغربية هي اعلى قمة في الوطن العربي .
- ٣- سواحل الوطن العربي غنية بالموانئ الطبيعية و الحزر .
- ٤- الوطن العربي يقع في المنطقتين الحارة و المعتدلة الحارة

**السؤال الثالث: فسر ثلاثاً من العبارات الآتية تفسيراً علمياً دقيقاً: (٣٠ درجة)**

- ١- الأهمية الاقتصادية للوطن العربي
- ٢- الأهمية الجغرافية و الاستراتيجية لموقع إقليم وادي النيل .
- ٣- عرف الاودية السيلية و ما أهميتها .
- ٤- تزايد الهجرة من الريف إلى المدينة

**السؤال الرابع: أكمل خريطة المفاهيم الآتية: (٢٠ درجة)**



**السؤال الخامس: أجب عن أربعة من الأسئلة الخمسة الآتية: (٨٠ درجة)**

١- عدد مقومات السياحة في وادي النيل.

٢- ماذا ينتج عن المظاهر التالية

اقتراب الجبال من البحر	هبوب الرياح الشمالية الشرقية الباردة و الجافة شتاء	ابتعاد الساحل عن البحر
الري بالغمر	تضاعف عدد السكان على الموارد المائية	تزايد الهجرة من الريف إلى المدينة
زيادة نسبة الأطفال و الشباب في المجتمع		

٣- الهضبة الشمالية الغربية الامتداد و التضاريس .

٤- قارن بين السهول الساحلية و الفيضية من حيث الموقع - التشكل - الخصوبة

٥- انسب الأنهار التالية و الاودية الى اقاليمها :

نهر ام الربيع	نهر العوجاء	وادي الرمة	وادي درعة
نهر النيل			

**السؤال السادس: حلل النص الآتي ثم أجب عن الأسئلة الآتية: (٣٠ درجة)**

يشير الأمن المائي العربي إلى قدرة الدول على تأمين الاحتياجات المائية اللازمة للتنمية المستدامة والإنتاج الزراعي والصناعي، وحماية الموارد المائية المتاحة. وتتنوع مصادر المياه السطحية في الوطن العربي بشكل بارز كالأنهار التي تتبع من خارج الوطن العربي كالفرات و النيل او من المرتفعات الداخلية كالعاصي اضافة الى اودية سيلية مؤقتة. كما تنتشر البحيرات كبحيرة المنزلة ذات الترسيب و ناصر خلف السد العالي لكن التحديات المائية كبيرة كالهدر و سلب المياه و التلوث

١- صنف الأنهار التي وردت في النص الى انواعها".

٢- ما التحديات التي تواجه الامن المائي العربي ؟

٣- صنف البحيرات التي وردت في النص مع ذكر فائدتين للبحيرات

٤- ما أهمية الاودية السيلية .

٥- ما الحلول و المقترحات لحل مشكلة الامن المائي العربي .

**السؤال السابع: ارسم خريطة الجمهورية العربية السورية مستعيناً بالحدود البرية والبحرية، وثبت عليها مع التسمية**

**ما يلي: (٥٠ درجة)**

مجرى نهر الاعوج - درعا - منطقة لزراعة الحمضيات - سبخة الجبول الملحية

**حل السؤال السادس تحليل النص**

**ج ١: تصنيف الأنهار التي وردت في النص الى أنواعها:**

**أنهار عابرة :** تتبع من خارج الوطن العربي: الفرات، والنيل.

**أنهار داخلية :** تتبع من المرتفعات الداخلية : العاصي.

**ج ٢: التحديات التي تواجه الأمن المائي العربي:**

الهدر، وسلب المياه ، و التلوث.

**ج ٣: تصنيف البحيرات التي وردت في النص مع ذكر فائدتين للبحيرات:**

**بحيرات طبيعية :** المنزلة ذات الترسيب

**بحيرات اصطناعية :** خلف السدود (بحيرة ناصر خلف السد العالي).

**فوائد البحيرات**

تخزين المياه لتنظيم الري وتوليد الطاقة الكهربائية.

ثروة سمكية وتنشيط السياحة و زيادة الرقعة الزراعية المروية

**ج ٤: أهمية الأودية السيلية:**

تكمُن أهميتها في تغذية المياه الجوفية، وإمكانية إقامة السدود التجميعية (السدود السطحية) للاستفادة من مياهها في

الزراعة وسقاية المواشي أثناء جريانها المؤقت و تنمية البادية .

**ج ٥: الحلول والمقترحات لحل مشكلة الأمن المائي العربي:**

استخدام تقنيات الري الحديثة (كالري بالتنقيط) للحد من الهدر.

بناء السدود وحصاد مياه الأمطار للاستفادة من الأودية السيلية.

معالجة مياه الصرف الصحي والصناعي وإعادة استخدامها.

إبرام اتفاقيات دولية عادلة مع دول الجوار لضمان الحصص المائية للأنهار الدولية (كالفرات والنيل).

نشر الوعي وترشيد استهلاك المياه.

١	وادي النيل	٥	لبنان و البحر المتوسط
٢	القرن الافريقي	٦	إقليم المغرب العربي
٣	الهضبة الشمالية الغربية	٧	التوانية انكسارية
٤	قناة السويس		

#### الصح و الغلط

١	٢	٣	٤
غلط	صح	غلط	صح

#### التعاليل

١	<b>الأهمية الاقتصادية للوطن العربي :</b> تنوع الغلات الزراعية ووفرة المراعي تنوع ثرواته الباطنية و عزز هذه الأهمية توفر رؤوس الأموال واكتشاف النفط
٢	<b>الأهمية الجغرافية لإقليم وادي النيل :</b> ١. جسر بري يصل آسيا العربية بأفريقيا ٢. جسر بري يصل أفريقيا الاستوائية بالبحر المتوسط
٣	<b>عرف الأودية السيلية في الوطن العربي</b> هي مجاري مائية مؤقتة تجري فيها المياه في موسم الأمطار وتجف بعد توقف الهطول مثال : وادي الصواب في بلاد الشام <b>أهميتها</b> : وسيلة اقتصادية فعالة لتنمية البادية السورية بواسطة حصاد المياه
٤	<b>تزايد الهجرة من الريف إلى المدينة :</b> ١. نتيجة التطور العمراني والاقتصادي السريع في المدن في شتى المجالات . ٢. عجز الأرياف عن مواكبة نموها الطبيعي وتحسين أوضاعها .

#### خريطة المفاهيم

١	٢	٣	٤
حلب	سمعان الزاوية	المقعرات	اللاذقية الباير و البسيط

#### الأسئلة الاربعة

١--	<p>□ <b>مقومات السياحة في وادي النيل</b> الحضارة المصرية القديمة. الأهرامات انتشار المرجان في البحر الأحمر</p> <p><b>اقترب الجبال من البحر :</b> سواحل صخرية مرتفعة كثيرة التعاريج ضيق السهول الساحلية <b>هبوب الرياح الشمالية الشرقية الباردة و الجافة شتاء</b> تشكل موجات الصقيع</p> <p><b>ابتعاد الساحل عن البحر</b> سواحل رملية منخفضة قليلة التعاريج - اتساع السهول الساحلية .</p> <p><b>الري بالغمر :</b> هدر كميات كبيرة من المياه - تملح التربة <b>تضاعف عدد السكان على الموارد المائية</b> استنزاف المياه و تلوثها و زحف التصحر</p> <p><b>تزايد الهجرة من الريف إلى المدن و العواصم</b> ١ التضخم ٢- أزمة السكن ٣- ارتفاع أثمان الأراضي والإيجارات أزمة نقل وحوادث عجز في المرافق العامة <b>زيادة نسبة الأطفال و الشباب في المجتمع ٢</b> - زيادة الإنفاق لتأمين متطلبات الحياة المتزايدة - اتخاذ إجراءات لضبط النمو ونشر الوعي</p>
-----	--

### ٣-- الهضبة الشمالية الغربية :

وادي الفرات شرقاً - الجبال الشرقية الداخلية غرباً - قامت عليها حضارات قديمة كإبيلاء تشمل سهول حلب و سهول حماة و حمص التي تشتهر بالقطن تلامس أطراف السلاسل التدمرية في الجنوب

٤-- السهول الساحلية	السهول الفيضية
تلي السواحل	على جوانب الأنهار
بفعل الحت والترسيب الشاطئي و من الحقيبات التي رسبتها الأنهار والسيول	نتيجة الترسيب النهري
يختلف اتساعها بحسب اقتراب الجبال من الساحل .	كانت مركز زراعية و حضارية منذ القديم
تختلف خصوبتها باختلاف الظروف المناخية	تمتاز بخصوبة تربتها المتجددة
سهول موريتانيا الصحراوية و سهول بلاد الشام الخصبة	سهول الرافدين (دجلة و الفرات سهول النيل

٥	نهر ام الربيع	نهر العوجاء	وادي الرمة
	المغرب العربي	بلاد الشام	شبه الجزيرة
	وادي درعة	نهر النيل	
	المغرب العربي	وادي النيل	

## النموذج الخامس

اول ثلاث وحدات

المادة : جغرافيا

السؤال الأول: اختر الإجابة الصحيحة لست من الأسئلة السبعة الآتية ثم انقلها إلى ورقة إجابتك: (٦٠ درجة)

١- الاقليم الذي يمر منه خط الاستواء

وادي الرافدين	وادي النيل	المغرب العربي	القرن الافريقي
---------------	------------	---------------	----------------

٢- الاقليم الذي يعد سلة الغذاء العربي

وادي الرافدين	شبه الجزيرة	وادي النيل	ليبيا
---------------	-------------	------------	-------

٣- الاقليم الاول بصيد الأسماك عربيا :

ليبيا	المغرب العربي	شبه الجزيرة	القرن الافريقي
-------	---------------	-------------	----------------

٤- تقع سوريا من بلاد الشام في الجزء:

الشمالي	الشرقي	الغربي	الجنوبي
---------	--------	--------	---------

٥- مضيق يصل بين الخليج العربي وخليج عمان

باب السلام	باب المندب	مضيق جبل طارق	قناة السويس
------------	------------	---------------	-------------

٦- الاقليم الذي يقع في وسط الساحل الشمالي لافريقيا

بلاد الرافدين	ليبيا	المغرب العربي	شبه الجزيرة
---------------	-------	---------------	-------------

٧- الاقليم الذي تحيط به المياه من ثلاثه جهات ويشرف على ثلاث مضائق بحريه هو

بلاد الشام	بلاد الرافدين	شبه الجزيرة	وادي النيل
------------	---------------	-------------	------------

٨ - أفضل أنواع التربة للمحاصيل الشتوية كالقمح ، شعير

البينية المصفرة	البنية المحمرة	الصحراوية	الغدقة
-----------------	----------------	-----------	--------

السؤال الثاني: ضع كلمة (صح) أمام العبارة الصحيحة وكلمة (غلط) أمام العبارة المغلوطة لثلاث من العبارات الآتية: (٣٠ درجة)

- تشكل السواحل معظم حدود الوطن العربي
- يغلب على الوطن العربي الطابع الصحراوي وقلّة الأمطار
- تجذب الخدمات المتوافرة في المدن أهل الريف اليه
- يتأثر توزيع التربة في الوطن العربي بامتداد الأقاليم المناخية و الحت و الترسيب النهري

السؤال الثالث: فسّر ثلاثاً من العبارات الآتية تفسيراً علمياً دقيقاً: (٣٠ درجة)

- أهمية الموقع الجغرافي لسورية.
- أهمية التركيب السكاني حسب المراحل التعليمية
- زيادة نسبة التلوث في المدن العربية =.
- أهمية هضبة الجولان السورية..
- تعرض التربة الصحراوية للانجراف الريحي .

السؤال الرابع: أكمل خريطة المفاهيم الآتية: (٢٠ درجة)



**السؤال الخامس: أجب عن أربعة من الأسئلة الخمسة الآتية: (٨٠ درجة)**

- ١- تحدث عن البادية السورية الامتداد و التضاريس
- ٢- بحيرة قطينة الطبيعية : عامل تشكلها و أهميتها
- ٣- عرف التصحر مع ذكر اسبابه
- ٤- قارن بين صفات الساحل السوري شمال و جنوب مدينة اللاذقية
- ٥- ما أهم المشكلات التي تواجه الامن المائي العربي

**السؤال السادس: أجب عن أربعة من الأسئلة الخمسة الآتية: (٨٠ درجة)**

- ١- ما الرياح السائدة في سورية في فصل الشتاء و ماذا تسبب .
- ٢- صنف الأنهار التالية الى انواعها (ساحلي - داخلي - عابر- وادي سيلبي).

ام الربيع	الليطاني	الفرات	دجلة	وادي الرمة
-----------	----------	--------	------	------------

- ٣- مدينة حمص الموقع و الصفات او مدينة حماه
- ٤- وازن في جدول بين الإقليم المتوسطي و الصحراوي من حيث الامتداد - الحرارة - الامطار - النبات
- ٥- انسب مشكلات التربة التالية الى نوع التربة التي تعاني منها في سورية

التملح	الانجراف المائي	تشقق التربة أوقات الجفاف	الانجراف الريحي	تشكل طبقات قاسية من الجبس
--------	-----------------	--------------------------	-----------------	---------------------------

**حل السؤال السادس**

**١- ما الرياح السائدة في سورية في فصل الشتاء وماذا تسبب؟**

الرياح السائدة: الرياح الغربية الرطبة تسبب هطول الأمطار و الرياح الشمالية والشمالية الشرقية الجافة والباردة تؤدي إلى حدوث الصيف الجفاف و انخفاض حاد في درجات الحرارة.

**٢- صنف الأنهار التالية الى أنواعها (ساحلي - داخلي - عابر - وادي سيلبي):**

ام الربيع ( ساحلي ) - الليطاني (داخلي) -الفرات دجلة (عابرة) - وادي الرمة (وادي سيلبي)

**٣- مدينة حمص الموقع و الصفات او مدينة حماه**

حمص	تقع وسط القطر بين البادية والبحر المتوسط تشكل عقدة مواصلات مهمة ، مركز صناعي وثقافي ، فيها جامع خالد بن الوليد وجامعة البعث وصناعة عدة
حماة	مدينة النواير ، تقع على نهر العاصي ، منطقة زراعية ، فيها صناعة القضبان الحديدية ، و تعد سوق مهما بين البدو والحضر

**٤- وازن في جدول بين الإقليم المتوسطي و الصحراوي من حيث الامتداد - الحرارة - الامطار - النبات**

المتوسطي	بين درجتي عرض ٣٠,٣٧/و ٢٨/ شمال خط الاستواء	صيف حار جاف شتاء معتدل ماطر	شتوية تقل نحو الداخل	، صنوبر وسنديان وأرز السناجب والأرانب
الصحراوي	بين درجتي ٢٨/و ١٥/ شمال خط الاستواء	أشد الأقاليم حرارياً ارتفاع المدى الحراري اليومي والفصلي	أشد الأقاليم جفافاً فالأمطار نادرة وغير منتظمة	الشوكيات والأعشاب الحولية النخيل

**٥- انسب مشكلات التربة التالية الى نوع التربة التي تعاني منها في سورية**

التملح	الانجراف المائي	تشقق التربة أوقات الجفاف	الانجراف الريحي	تشكل طبقات قاسية من الجبس
اللحقية	المتوسطة او البحر المتوسط الحمراء	البنية المحمرة	الصحراوية	الصحراوية الجبسية

**السؤال السابع أجب عن أربعة من الأسئلة الخمسة الآتية: ( ٨٠ درجة)**

١- انسب المظاهر التالية الى وحدتها التضريسية الرئيسية التي تنتمي لها في سورية .

رأس البسيط	جبل الزاوية	جبال اللاذقية
سهل الغاب	الغوطة	جبال عبد العزيز

٢- التربة البنية المحمرة الانتشار - الامطار - المشكلة - المحاصيل

٣- تحديات الامن المائي في سورية .

٤- وازن بين البيئة المتوسطة الرطبة و شبه الجافة الانتشار - الحرارة - الامطار - النبات

**حل السؤال السابع**

١- انسب المظاهر التالية الى وحدتها التضريسية الرئيسية التي تنتمي لها في سورية .

رأس البسيط	المنطقة الساحلية	الغوطة	حوضه دمشق
سهل الغاب	المقعرات و الحفر	جبال اللاذقية	الجبال الغربية
جبل الزاوية	المرتفعات الشرقية	جبل عبد العزيز	منطقة الجزيرة

٣- التربة البنية المحمرة في سورية :

في الأراضي البركانية جنوب غرب سورية - في حوض العاصي - في أقصى شمال شرق سورية بين ٣٠٠ - ٧٠٠ م تشقق التربة في أوقات الجفاف أفضل أنواع التربة للمحاصيل الشتوية قمح ، شعير ، عدس الصيفية :الخضروات ، التفاحيات على الجبال للوزيات في مناطق السهول و المنحدرات .

**٤- تحديات و اخطار الأمن المائي في سورية :**

١ محدودية الموارد المائية بسبب سيطرة البيئة الجافة وشبه الجافة على معظم الأراضي السورية  
٢ تزايد معدلات النمو السكاني من أعلى معدلات النمو في العالم مما زاد الطلب على المياه و الغذاء  
٣ التوزيع الجغرافي غير المتوازن بين مصادر المياه ومناطق استهلاكها أدى استنزاف موارد المياه و تلوثها و خير مثال على ذلك  
٤- عدم تطبيق تقنيات الري الحديثة وأكثر الطرق هدراً للمياه هي الري بالغمر التي تهدر قسماً كبيراً من المياه

**٥- وازن بين البيئة المتوسطة الرطبة و شبه الجافة الانتشار - الحرارة - الامطار - النبات**

المتوسطة الرطبة منطقة الساحل معتدلة صيفاً و فيرة الأمطار شتاءً من ٨٠٠-١٢٠٠ مام ،سرو صنوبر، الغار، الأوس ضبع ، ذئب

المتوسطة شبه الجافة	منطقة الجزيرة هضبة حلب سهل وادي العاص سهول حوران	مرتفعة صيفاً منخفضة شتاءً الصقيع	من ٢٠٠-٥٠٠ مم	العزم ، العصيلان البابونج ، الميرمية ، أكليل الجبل
---------------------	--	----------------------------------	---------------	--

**السؤال الثامن : أجب عن أربعة من الأسئلة الخمسة الآتية: ( ٨٠ درجة)**

١- اقترح حلاً مناسباً لكل مما يلي .

تدفق أعداد جديدة من اليد العاملة إلى سوق العمل	الهجرة من المدن الصغيرة إلى العواصم
--	-------------------------------------

٢- هجرة الكفاءات العربية تعريفها آثارها السلبية

٣- عرف مشكلة السكن العشوائي مبينا أسبابها و مقترحا حلول مناسبة لها .

٤- وازن بين الينابيع العذبة و الينابيع المعدنية من حيث الانتشار - الفائدة - الأمثلة .

٥- وازن في جدول بين نهري السن و العاصي : المنبع ، الطول ، المصب ، الغزارة

**حل السؤال الثامن**

تدفق أعداد جديدة من اليد العاملة إلى سوق العمل	قيام مشاريع تنموية -بناء مصانع -مشاريع صغيرة -لتوفير فرص عمل ..تطوير المرافق
الهجرة من المدن الصغيرة إلى العواصم	تطوير الخدمات - دعم الأرياف - بناء مصانع - المشاريع

**٢- هجرة الكفاءات العربية تعريفها آثارها**

هي هجرة أصحاب العقول والمهارات الجامعية العلمية والتقنية . الآثار السلبية:

١- ضياع الجهود والطاقات الانتاجية والعلمية لهذه العقول العربية

٢- تبديد الموارد الإنسانية والمالية العربية التي انفقت على تعليم الكفاءات

٣- ضعف الانتاج العلمي والبحثي في البلدان العربية مقارنة مع انتاج العرب المهاجرين في بلاد الغرب

**٣- عرف السكن العشوائي وما أسبابه وما الحلول :**

- هو تجمعات نشأت من دون تخطيط حول المدن الكبرى تتدنى فيها الخدمات الاجتماعية والصحية
- وترتفع فيها الكثافة السكانية بدرجة كبيرة **أسبابها :**
- ١- فقدان التوازن بين التخطيط والنمو السكاني
- ٢- ضعف تنفيذ التخطيط العمراني **الحلول :**

**س: ما الحلول التي وضعتها الدولة السورية للتخفيف من ظاهرة تضخم المدن :**

- ١- إقامة بعض المنشآت الصناعية والحرفية
- ٢- تأمين شبكة من الطرق المعبدة بين القرى وبين القرى والمدينة
- ٣- تأمين الخدمات التعليمية والمدارس
- ٤- بناء الأبراج
- ٥- توسيع رقعة الأراضي السكنية

**٤-٥- وازن بين الينابيع العذبة و الينابيع المعدنية من حيث الانتشار - الفائدة - الأمثلة .**

الينابيع العذبة	في الوديان والواحات و الصخور الكلسية	تستخدم في مياه الشرب	الخابور والأردن في بلاد الشام - أم الربيع في المغرب العربي
الينابيع المعدنية	في المناطق البركانية	حارة تفيد في العلاج و السياحة	العليل في العراق ، ليف في تونس .

**٦- وازن في جدول بين نهري السن و العاصي : المنبع ، الطول ، المصب ، الغزارة**

العاصي	هضبة بعلبك في لبنان	٥٧١ كم	في خليج السويدية في البحر المتوسط	٨٧٣م/٣
السن	من جبال اللاذقية	٦ كم	في البحر المتوسط	١٢٣م/٣

**السؤال التاسع : ارسم خريطة الجمهورية العربية السورية مستعيناً بالحدود البرية والبحرية، وثبت عليها مع التسمية ما يلي: (٥٠ درجة)**

- مجرى نهر اليرموك - نهر الفرات و محافظة الرقة - جبل البشري - منطقة لزراعة القمح - سكة حديد الفوسفات - منطقة للتربة البنية المحمرة - منطقة لزراعة القطن

-- ٤

الساحل شمال اللاذقية	الساحل جنوب اللاذقية
الجبال قريبة من البحر	الجبال بعيدة عن البحر
صخري مرتفع كثير التعاريج	رملی منخفض قليل التعاريج
راس البسيط - خليج السويدية	جزيرة ارواد
سهول ساحلية ضيقة	سهول ساحلية واسعة

١-- سوء ترشيد استخدام الموارد المائية المتاحة	٥
٢-- سوء استثمار المياه اللازمة للإنتاج الزراعي .	
٣-- التلوث ٤- الهدر ٥- سلب المياه و التعدي عليها من قیل دول الجوار ٦- تزايد السكان و تزايد الطلب على المياه	
<u>السؤال السادس</u>	

١	القرن الافريقي	٥	باب السلام
٢	وادي النيل	٦	ليبيا
٣	المغرب العربي	٧	شبه الجزيرة
٤	الشمالي		

الصح و الغلط

١	٢	٣	٤
صح	صح	صح	صح

التعاليل

١	<b>فسر أهمية الموقع الجغرافي لسورية :</b> ١. منفذ دول غرب آسيا على المتوسط ٢. تعد طريق بري يصل شبه الجزيرة العربية بأوروبا ٣. تعد سورية ممر لنقل النفط عبر أراضيها وموانئها إلى أوروبا .
٢	<input type="checkbox"/> <b>أهمية التركيب التعليمي</b> يعد من المؤشرات الضرورية لقياس المستوى الاجتماعي والاقتصادي . <input type="checkbox"/> يعكس ما تقدمه الدولة لأبنائها من خدمات تعليمية . <input type="checkbox"/> له تأثير في التخطيط التعليمي ومحو الأمية في المستقبل
٣	<b>إزدياد التلوث نتيجة</b> ١- توسع المدن ٢- ارتفاع مستوى الحياة فيها ٣- تزايد وسائل النقل والسيارات - ومشكلة التلوث الضوضائي الناتج عن الأصوات المنبثقة من وسائل النقل .
٤	<b>أهمية الجولان :</b> لأنها من أغنى الأراضي السورية لوفرة مياهها (طبريا ومسعدة) و خصوبتها الزراعية. و يشكل الجولان أقدام جبل الشيخ الشرقية
٥	<b>- الانجراف الريحي بسبب:</b> التعدي على أرضها بالزراعة البعلية غير الناجحة . الرعي الجائر الاحتطاب المؤدي إلى إزالة غطائها النباتي

خريطة المفاهيم

١	٢	٣	٤
الحمراء المتوسطة	اللحقية	الانجراف الريحي	التشق الجفاف

الأسئلة الاربعة

١	<b>البادية السورية :</b> من أكثر المناطق الجغرافية السورية اتساعاً تشكل الحدود السورية مع العراق والأردن يفصلها نهر الفرات عن الجزيرة السورية تتداخل مع حوضه دمشق وهضبة حوران في الجنوب الغربي تحدد سطح البادية بعض الودية السيلية التي تنتهي الى نهر الفرات أو الى أحواض مغلقة بعضها ذو أهمية كبيرة كحوضه تدمر الغنية بالموارد الطبيعية لرعي الماشية و الملح من سبخة الموح والفسفات و حقول الغاز تتألف من ثلاثة أقسام هي بادية الشام (الشامية) شمالاً ٢ الجبال التدمرية في الوسط <b>الحماد</b> في الجنوب
٢	<b>بحيرة قطينة :</b> طبيعية تشكلت خلف صبة او لسان بازلي <b>أهميتها:</b> تروي سهول حمص و حماة و تامين المياه لمحطة الحرارية و معمل الأسمدة - صيد الأسماك - منتزه و مركز سياحي .
٣	<b>التصح:</b> هو تدهور الأراضي بسبب الجفاف و سوء الاستعمال فتخرج الأراضي الزراعية والمراعي والغابات عن دائرة الاستثمار . <b>الأسباب :</b> ١- الرعي الجائر ٢- قطع الغابات ٣- التوسع العمراني ٤- التملح .

التعليم الأساسي للعام الدراسي ٢٠٢٥ م - ٢٠٢٦ م الاسم: .....

المدة : ساعة واحدة الدرجة: ٣٠٠ درجة المادة جغرافية الوحدة الرابعة و الخامسة

**السؤال الأول: اختر الإجابة الصحيحة لست من الأسئلة السبعة الآتية ثم انقلها إلى ورقة إجابتك: (٦٠ درجة)**

١- تأتي في مقدمة الدول العربية إنتاجا للحبوب :

A	ليبيا	B	مصر	C	تونس	D	العراق
---	-------	---	-----	---	------	---	--------

٢- تتركز مصايد الاسفنج في الوطن العربي على سواحل :

A	الخليج العربي	B	البحر المتوسط	C	البحر الاحمر	D	المحيط الاطلسي
---	---------------	---	---------------	---	--------------	---	----------------

٣-- اغنى الدول العربية من حيث تربية الابقار :

A	مصر	B	السودان	C	العراق	D	مصر
---	-----	---	---------	---	--------	---	-----

٤- اهم الزراعات العربية و اكثرها انتشارا

A	الزيتون	B	القمح	C	الرز	D	أشجار النخيل
---	---------	---	-------	---	------	---	--------------

٥-المحافظة السورية الأولى بإنتاج القمح :

A	دير الزور	B	الحسكة	C	حلب	D	حمص
---	-----------	---	--------	---	-----	---	-----

٦- تحتل المركز الثالث بين النشاطات الاقتصادية في الوطن العربي:

A	التجارة	B	الصناعة	C	التجارة	D	السياحة
---	---------	---	---------	---	---------	---	---------

٧-مرور البضائع من دولة الى دولة عبر أخرى :

A	تجارة داخلية	B	تجارة خارجية	C	تجارة المرور الترانزيت	D	الميزان التجاري
---	--------------	---	--------------	---	------------------------	---	-----------------

**السؤال الثاني: ضع كلمة ( صح ) أمام العبارة الصحيحة وكلمة ( غلط ) أمام العبارة المغلوطة لثلاث من العبارات الآتية:**

**(٣٠ درجة)**

١- تتركز تربية الابقار في بلاد المغرب نتيجة لسيادة النباتات السهبية

٢- أكبر مشاريع الري في سورية هو سد العشارنة

٣- يختص ميناء راس التنورة بأصلاح السفن .

٤- تعد الصناعة الحرفة الرئيسية لسكان الوطن العربي

**السؤال الثالث: فسّر ثلاثاً من العبارات الآتية تفسيراً علمياً دقيقاً: (٣٠ درجة)**

١- لا يكفي إنتاج الوطن العربي سكانه من الحبوب.

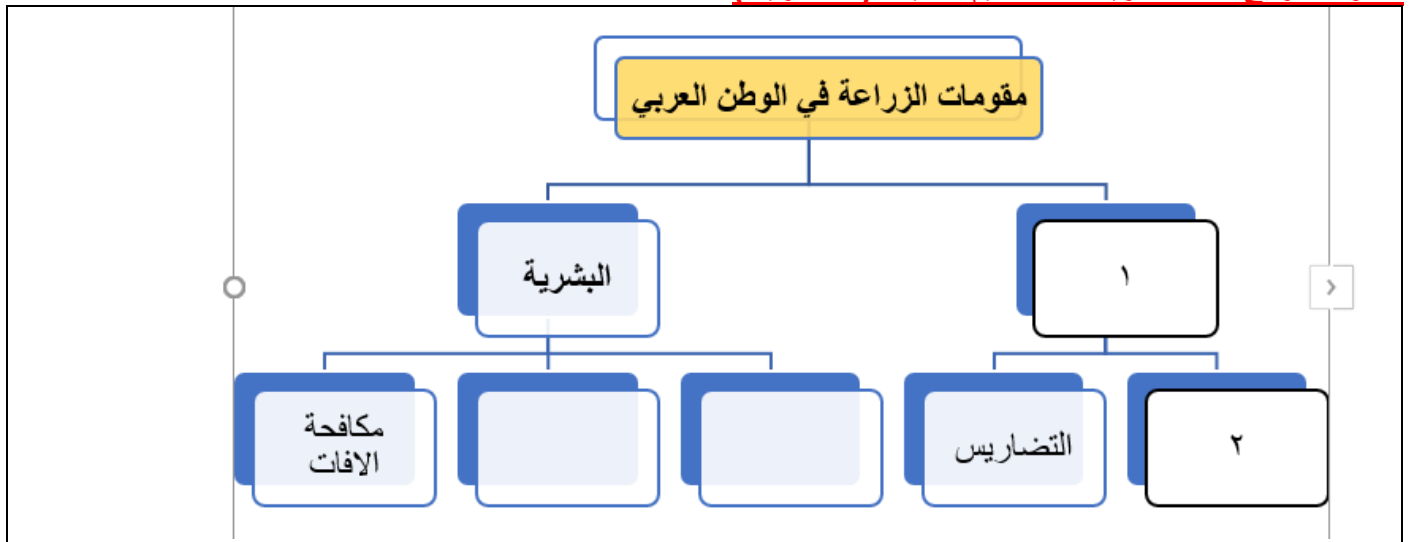
٢- تدهور المراعي في الوطن العربي .

٣- أهمية الزراعة في سورية .

٤- انخفاض نسبة العاملين في الزراعة في سورية .

٥- ضعف التجارة الداخلية بين أقطار الوطن العربي

**السؤال الرابع: أكمل خريطة المفاهيم الآتية: (٢٠ درجة)**



**السؤال الخامس: أجب عن أربعة من الأسئلة الخمسة الآتية: (٨٠ درجة)**

١- ما هي معوقات النشاط الزراعي في سورية

٢- ما مقومات الصناعة السورية .

٣- انسب السدود التالية الى الأنهار التي أقيمت عليها :

الطبقة	العالى	الرمادي	بين الويدان
			سد الوحدة

٤- الصناعة المعدنية في سورية على ماذا تعتمد وماذا تشمل وأين تتركز

٥- ما أهمية الصناعة في سورية .

٦- صناعة السكر في سورية على ماذا تعتمد و اين تتركز .

٧- صناعة تكرير النفط في سورية : أهميتها ، مصافئها ، إلى أين تنقل

### السؤال السادس: حلّ النص الآتي ثم أجب عن الأسئلة الآتية: (٣٠ درجة)

تقع احدى الدول على سواحل المحيط الهادي و تتمتع بجمال طبيعتها و طيورها النادرة و كانت ذات شهرة تجارية كبيرة و تتميز بصادراتها القوية من السلع و البرمجيات ذات الثمن المرتفع و استيرادها للمواد الأولية متدنية الثمن و رغم هذا الازدهار الاقتصادي، تواجه الدولة تحديات سكانية بارزة تتمثل في النمو السكاني المتسارع والهجرة الريفية الكثيفة نحو المدن الرئيسية، مما أدى إلى الضغط على الخدمات العامة وظهور العشوائيات. ولمواجهة هذه المشاكل، تتجه الدولة نحو تطبيق حلول مستدامة

س ١ : حدد نوعاً واحداً للسياحة تتميز بها دولة .

س ٢- هي يعد الميزان التجاري لهذه الدولة خاسراً ام رباحاً معللاً إجابتك .

س ٣ : يرتبط ظهور العشوائيات والضغط على الخدمات بمشكلة سكانية وردت في النص. حدد هذه المشكلة .

س ٤ : اقترح بعض الحلول المستدامة لهذه المشكلة .

اقترح حلاً إضافياً يمكن للدولة اتباعه لتخفيف الضغط التتموي عن العاصمة والمدن الكبرى.

### حل السؤال السادس

س ١ : حدد نوعاً واحداً للسياحة تتميز بها دولة.

السياحة البيئية او طبيعية (بسبب جمال طبيعتها و مراقبة طيورها النادرة).

السياحة الترفيهية او النشاطية (المرتبطة بالشواطئ وسواحل المحيط الهادي).

س ٢ : هل يعد الميزان التجاري لهذه الدولة خاسراً أم رباحاً؟ معللاً إجابتك.

الإجابة: الميزان التجاري راجح (فائض) لأن صادراتها قوية وقيمة (السلع والبرمجيات ذات الثمن المرتفع)، بينما استيرادها للمواد الأولية متدنية الثمن.

س ٣ : يرتبط ظهور العشوائيات والضغط على الخدمات بمشكلة سكانية وردت في النص. حدد هذه المشكلة.

تضخم المدن او النمو السكاني المتسارع او الهجرة الريفية الكثيفة نحو المدن الرئيسية.

س ٤ : اقترح بعض الحلول المستدامة لهذه المشكلة.

تنمية الريف وتوفير فرص عمل ومشاريع صغيرة لأهالي الريف لمنع هجرتهم.

تطوير الخدمات الأساسية (تعليم، صحة، كهرباء، ماء) في الأرياف والقرى لتوازي المدن.

تنظيم الأسرة والتوعية بمخاطر النمو السكاني المتسارع.

بناء مدن سكنية منظمة بأسعار مدروسة للحد من العشوائيات وإعادة تأهيل المناطق العشوائية الحالية.

نقل بعض الوزارات، المؤسسات الحكومية، أو الجامعات والمصانع الكبرى إلى المحافظات والمدن الصغيرة.

إنشاء مدن جديدة خارج نطاق العاصمة وتزويدها ببنية تحتية متطورة.

تطوير شبكة مواصلات سريعة وحديثة (مثل القطارات السريعة) تربط الريف والمدن الصغيرة بالعاصمة، مما يسمح بالعمل في

### السؤال السابع: ارسم خريطة الجمهورية العربية السورية مستعيناً بالحدود البرية والبحرية، وثبت عليها مع التسمية ما يلي: (٥٠ درجة)

مجرى نهر بردى - دمشق - الجبال التدمرية - تربة فيضية

١	مصر	٥	الحسكة
٢	البحر المتوسط	٦	التجارة
٣	السودان	٧	تجارة المرور الترانزيت
٤	القمح		

#### الصح و الغلط

١	٢	٣	٤
صح	غلط	غلط	غلط

#### التعاليق

١	لا يكفي إنتاج الوطن العربي سكانه من الحبوب بسبب : ١- التزايد الكبير والسريع لعدد السكان ٢- تحول الأراضي التي تزرع بالحبوب إلى زراعة أشجار مثمرة وخضروات ٣- تزايد هجرة سكان الريف إلى المدن
٢	علل تدهور المراعي (أسباب التدهور) ١- الرعي الجائر - الحرائق الموسمية - التوسع في الزراعة الآلية والتقليدية - الجفاف المتكرر ٥- اتساع حالات التصحر
٣	أهمية الزراعة في سورية : ١- تساهم في تحقيق الاكتفاء الذاتي من المنتجات الزراعية ٢- تساهم في تحقيق الأمن الغذائي في سورية . ٣- ترفد الصناعة بالكثير من المواد الخام اللازمة ٤- تزيد في الثروة الوطنية : عندما تدخل في قائمة الصادرات الاستراتيجية السورية كالقطن ٥- تنمي الأنشطة الأخرى كالتنقل والتسويق المستخدمة
٤	انخفاض نسبة العاملين في الزراعة علل : بسبب توجه اليد العاملة إلى قطاع الخدمات والأنشطة الأخرى و هو أبرز معوق .
٥	ضعف التجارة الداخلية بين أقطار الوطن العربي بسبب : واقع التجزئة - تشابه المنتجات بين أقطار الوطن العربي منافسة البضائع الأجنبية

#### خريطة المفاهيم

١	٢	٣	٤
الطبيعية	المناخ	الري	الاسمدة

#### الأسئلة الأربعة

١	معوقات النشاط الزراعي في سورية او مشكلاتها : ١- انخفاض نسبة العاملين في الزراعة علل : بسبب توجه اليد العاملة إلى قطاع الخدمات والأنشطة الأخرى ٢- محدودية الموارد المائية : ٣- تملح التربة : خاصة في الأراضي الخصبة علل : بسبب سوء تصريف المياه كما في وادي الفرات . ٤- تدهور التربة بشكل عام حيث تفتقد إلى الأزوت والفوسفور ٥- الجفاف : أهم المشكلات البيئية تؤثر سلبا على الزراعة ٦- قصور بعض السياسات الزراعية في التسويق فتباع
٢	مقومات الصناعة في سورية مواد خام زراعية قطن ، شوندر و معدنية فوسفات ، رأس مال -أيدي عاملة -مصادر الطاقة نفط غاز كهرباء - سوق استهلاكية
٣	انسب السدود التالية إلى الأنهار بين الويدان (ام الربيع) - الرمادي (الفرات) - العالي (النيل) الطبقة (الفرات) - سد الوحدة (اليرموك)

#### ٤ -- الصناعة المعدنية في سورية :

- تعتمد على الحديد الخردة والحديد المستوردة تشمل: ١- صناعة القضبان الحديدية في حماه  
٢- صناعة الجرارات في حلب  
٣- تجميع السيارات والأدوات الكهربائية

٥ -- ما أهمية الصناعة في سورية	٦ -- صناعة السكر تعتمد على الشوندر السكري و تكرير السكر الخام تتركز في حمص وإدلب
١- رافداً مهماً من روافد الناتج الوطني السوري	٧ -- صناعة تكرير النفط تؤمن حاجة سورية من مشتقات النفط تتركز في مصفاتي حمص : طاقتها ٥,٧/ مليون طن سنوياً و بانياس : طاقتها ٦/ مليون طن سنوياً تنقل المشتقات بالأنابيب إلى دمشق وحلب والملاذقية
٢- ترفع المستوى المعيشي للسكان	
٣- توفر فرص عمل لعدد كبير من الأيدي العاملة	
٤- تطوير الأنشطة الاقتصادية الأخرى كالزراعة والتجارة والنقل	

٥	-
---	---

التعليم الأساسي للعام الدراسي ٢٠٢٥ م - ٢٠٢٦ م الاسم: .....  
المدة : ساعة واحدة الدرجة : ٣٠٠ درجة المادة جغرافية الوحدة الرابعة و الخامسة

**السؤال الأول: اختر الإجابة الصحيحة لست من الأسئلة السبعة الآتية ثم انقلها إلى ورقة إجابتك: (٦٠ درجة)**

١- عملية يتم بواسطتها تحويل المادة من حالتها الأولية إلى مادة أكثر نفعا للإنسان:

A	الزراعة	B	التجارة	C	الصناعة	D	السياحة
---	---------	---	---------	---	---------	---	---------

٢- أهم شبكة حديد وأفضلها وأطولها في الوطن العربي :

A	وادي النيل	B	العراق	C	البحرين	D	الجزائر
---	------------	---	--------	---	---------	---	---------

٣- يختص ميناء اللاذقية بـ

A	تصدير النفط	B	الاستيراد و التصدير	C	تصدير الفوسفات	D	كل ما سبق
---	-------------	---	---------------------	---	----------------	---	-----------

٤- يختص ميناء بانباس

A	اصلاح السفن	B	تصدير النفط	C	تصدير الفوسفات	D	اصلاح السفن
---	-------------	---	-------------	---	----------------	---	-------------

٥- انتقال مؤقت للأفراد أو الجماعات من مكان الى آخر طلبا لفوائد ترفيهية أو روحية أو فكرية

A	التجارة	B	السياحة	C	الصناعة	D	كل ما سبق
---	---------	---	---------	---	---------	---	-----------

٦- استخدام الينابيع المعدنية و الكبريتية و الرمال و الشمس:

A	سياحة علمية	B	سياحة ثقافية	C	سياحة علاجية	D	ترفيهية
---	-------------	---	--------------	---	--------------	---	---------

٧- اهم الصناعات الكيماوية في سورية :

A	الحديد و الصلب	B	الأسمدة الفوسفاتية .	C	الغاز	D	السكر
---	----------------	---	----------------------	---	-------	---	-------

**السؤال الثاني: ضع كلمة (صح) أمام العبارة الصحيحة وكلمة (غلط) أمام العبارة المغلوطة لثلاث من العبارات الآتية:**

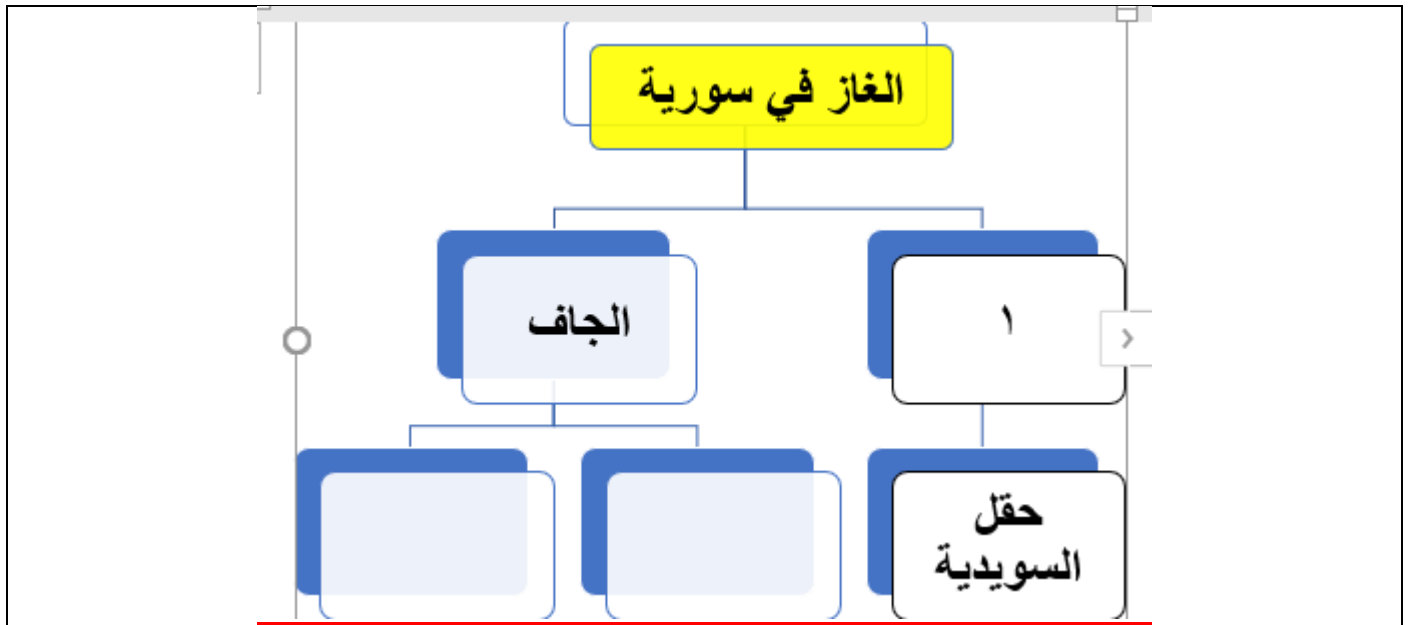
**(٣٠ درجة)**

- ١- تجود زراعة الحمضيات في سورية في سفوح المناطق الجبلية
- ٢- توجد خامات الحديد و الكروم في منطقة تدمر ( خنيفس )
- ٣- المقومات الطبيعية للسياحة تتمثل في توافر البنى التحتية كالمطارات
- ٤- من الآثار السلبية للسياحة في الوطن العربي انخفاض الأسعار
- ٥- الصناعات المعدنية هي الأكثر انتشارا في الوطن العربي

**السؤال الثالث: فسّر ثلاثاً من العبارات الآتية تفسيراً علمياً دقيقاً: (٣٠ درجة)**

- ١- أهمية زراعة القطن في سورية .
- ٢- أهمية الشوندر السكري في سورية .
- ٣- زراعة الخضروات قرب المدن .
- ٤- انخفاض أعداد الماعز في سورية .
- ٥- أهمية الصناعة النسيجية في الوطن العربي
- ٦- فقر الوطن العربي بالسكك الحديدية

**السؤال الرابع: أكمل خريطة المفاهيم الآتية: (٢٠ درجة)**



**السؤال الخامس: أجب عن أربعة من الأسئلة الخمسة الآتية: (٨٠ درجة)**

- ١- وازن بين الصناعات التقليدية و الصناعات الحديثة من حيث الاعتماد - عدد العمال - الأنواع .
- ٢- ما أهمية الرصاص و الزنك في الوطن العربي
- ٣- وازن بين التجارة الداخلية و الخارجية في الوطن العربي من حيث التعريف - سبب الضعف - السلع
- ٤- أهمية الشوندر السكري في سورية
- ٥- الفوسفات في سورية : الحقول - النقل - ميناء التصدير
- ٦- صناعة الحديد و الصلب في الوطن العربي أهميتها - الدول التي تنتشر فيها - الصناعات التي تقوم عليها .
- ٧- ما التحديات التي تواجه الصناعة العربية
- ٨- صناعة الأسمدة في الوطن العربي ما أهميتها و على ماذا تعتمد و في الدول تنتشر

**السؤال السادس: حلّل النص الآتي ثم أجب عن الأسئلة الآتية: (٣٠ درجة)**

- تتمتع مدينة حمص بموقع جغرافي استثنائي في قلب سوريا و تضم قلعة الحصن الأثرية وجامع خالد بن الوليد وكنيسة أم الزنار و تشكل بحيرة قطينة ، و نهر العاصي، و مصايف وادي النضاري بيئة مثالية للجذب السياحي اما نبع عين الكبريت الذي يقصده الزوار للاستشفاء و يمر من حمص الطريق الذي يربط الساحل السوري (مرفأى طرطوس واللاذقية) بالداخل السوري وبالذول المجاورة كالعراق والأردن و الخليج العربي و تتصف بوفرة المواد الأولية والمياه والأيدي العاملة الخبيرة و رؤوس الأموال .
- كما تحوي حمص مصفاة لتكرير النفط ومعامل الغزل والنسيج، السكر، الأسمدة الفوسفاتية، والزيوت النباتية.
- س١- هل تعتبر حمص محطة لتجارة العبور (الترانزيت) و لماذا مبينا فائدة هذه التجارة على الاقتصاد الوطني .
  - س٢- استخرج ثلاث أنواع من السياحة في مدينة حمص ذكرا المكان .
  - س٣- صنف مقومات الصناعة التي وردت في مدينة حمص .
  - س٤- صنف أنواع الصناعات في مدينة حمص و التي وردت في النص .
  - س٥- هل تصنف بحيرة قطينة ضمن البحيرات الطبيعية ام الصناعية مفسرا اجابتك .

**حل السؤال السادس**

**س١: هل تُعتبر حمص محطة لتجارة العبور (الترانزيت)؟ ولماذا؟ مبيناً فائدة هذه التجارة على الاقتصاد الوطني.**

نعم، تُعتبر حمص محطة لتجارة العبور.

السبب لأنها تمتلك موقعاً جغرافياً استثنائياً في قلب سوريا، ويمر منها الطريق الذي يربط الساحل السوري (مرفأى طرطوس واللاذقية) بالداخل السوري وبالذول المجاورة كالعراق والأردن والخليج العربي.

**س٢: ( فائدة هذه التجارة على الاقتصاد الوطني) - يُقبل أي تعليل منطقي واستنتاجي**

زيادة الدخل القومي / تنشيط الإيرادات المالية للدولة من خلال رسوم العبور (الضرائب والجمارك).

توفير فرص عمل جديدة للشباب في قطاعات النقل، والخدمات، والاستراحات، والصيانة.

تنشيط الحركة التجارية الداخلية والأسواق المحيطة بالطرق الدولية.

جذب الاستثمارات الخارجية وتطوير البنية التحتية (طرق، مستودعات، خدمات لوجستية).

**س٣: استخراج ثلاث أنواع من السياحة في مدينة حمص ذكراً المكان.**

سياحة أثرية / تاريخية / ثقافية : قلعة الحصن الأثرية، أو جامع خالد بن الوليد، أو كنيسة الزنار.

سياحة بيئية / طبيعية / ترفيهية: بحيرة قطينة، أو نهر العاصي.

سياحة اصطياف (استجمام): مصايف وادي النضارى.

سياحة علاجية / استشفائية: نبع عين الكبريت (الذي يقصده الزوار للاستشفاء).

**س٤: صنف مقومات الصناعة التي وردت في مدينة حمص.**

مقومات طبيعية: وفرة المواد الأولية. وفرة المياه. الموقع الجغرافي الاستثنائي (كمقوم موقع).

مقومات بشرية: الأيدي العاملة الخبيرة. رؤوس الأموال. توفر شبكة مواصلات وطرق

**س٥: صنف أنواع الصناعات في مدينة حمص والتي وردت في النص.**

صناعات استخراجية وتحويلية (ثقيلة / طاقة): تكرير النفط.

صناعات كيميائية: الأسمدة الفوسفاتية.

صناعات نسيجية: معامل الغزل والنسيج.

صناعات غذائية: صناعة السكر، وصناعة الزيوت النباتية.

**س٦: هل تُصنف بحيرة قطينة ضمن البحيرات الطبيعية أم الاصطناعية؟ مفسراً إجابتك**

تُصنف بحيرة قطينة بحيرة ( طبيعية / مشكّلة بفعل لسان او صبة بازلتية).

**السؤال السابع: ارسم خريطة الجمهورية العربية السورية مستعيناً بالحدود البرية والبحرية، وثبت عليها مع التسمية**

**ما يلي: (٥٠ درجة)**

مجرى نهر الكبير الشمالي - ادلب - تربة غدقة - حقل جبسة

١	الصناعة	٥	السياحة
٢	وادي النيل	٦	سياحة علاجية
٣	الاستيراد و التصدير	٧	الأسمدة الفوسفاتية
٤	تصدير النفط		

### لصح و الغلط

١	٢	٣	٤
غلط	غلط	غلط	غلط

### لتعاليل

١	<p><b>أهمية القطن في سورية :</b></p> <p>١- له أهمية استراتيجية حيث يصنع جزء منه ٢- يصدر جزء منه . ٣- يرفع قيمة الصادرات ٤- يزود خزينة الدولة بالعملة الأجنبية ٥- يعد عصب الصناعات النسيجية ٦- تستخدم بقايا الحلج في صناعة مثل الزيوت</p>
٢	<p><b>أهمية الشوندر السكري :</b></p> <p>١- دوره في الأمن الغذائي ٢- تحقيق الاكتفاء الذاتي من السكر ٣- تقليل الاستيراد من السكر . ٤- له أهمية صناعية : بقايا عصره علفاً للحيوانات</p>
٣	<p><b>الخضروات تزرع قرب المدن علل :</b></p> <p>١- لتلبية الاحتياجات الغذائية المتزايدة ٢- لأن الخضار سريع التلف ، ٣- لذا يحتاج نقله إلى الأسواق الاستهلاكية مباشرة</p>
٤	<p><b>علل انخفاض أعداد الماعز في سورية :</b></p> <p>١- بسبب سياسة حماية المناطق الجبلية الحراجية ٢- انخفاض الطلب على لحومها</p>
٥	<p><b>س: علل أهمية الصناعة النسيجية في الوطن العربي</b></p> <p>١- أقدم الصناعات ٢- أهم الصناعات من حيث عدد العاملين وعدد المعامل و رأس المال</p>
٦	<p><b>علل فقر الوطن العربي بالسكك الحديدية :</b></p> <p>لاتساع المساحة الصحراوية الخالية من السكان</p>

### خريطة المفاهيم

١	٢	٣	٤
الرطب	جبسة	التدمرية	

### لأسئلة الأربعة

<p><b>الصناعات التقليدية</b></p> <p><b>تعتمد</b> على الآلات البسيطة والخامات المتوفرة محلياً والمهارة اليدوية المكتسبة تشغل عدد <b>أقل</b> من العمال -صناعة السجاد في تونس -التطريز في الأردن -صناعة السفن الشراعية في الكويت</p>	<p><b>الصناعات الحديثة</b></p> <p><b>تعتمد</b> على الآلات الحديثة والتقنيات تشغل عدد <b>أكبر</b> من العمال . -الصناعة الغذائية -صناعة تكرير النفط . -صناعة الأسمدة</p>
<p>٢- يوجد متلازمين معاً في الطبيعة الرصاص يدخل في صناعة البطاريات السائلة وأسلاك الكهرباء <b>الزئبق</b> يدخل في صناعة هياكل السيارات ٢- الأجهزة المنزلية -٣- الدهانات.</p>	

٣--

التجارة الخارجية	التجارة الداخلية
تبادل السلع بين أقطار الوطن العربي ودول العالم	تبادل السلع والمنتجات بين أقطار الوطن العربي
<b>ضعيفة</b> في المواد المصنعة مع اعتماد الوطن العربي الواضح على التجارة الخارجية بسبب الاعتماد على تجارة المواد الخام ولاسيما النفط	<b>ضعيفة</b> بسبب واقع التجزئة وتشابه المنتجات ومناقسة البضائع الأجنبية
مواد زراعية غذائية رعية و اسمدة اسمنت	استيراد مواد مصنعة الآلات و سيارات و تكنولوجيا تصدير مواد أولية و نفط و زراعية
٤	<p><b>أهمية الشوندر السكري ١.</b> دوره في الأمن الغذائي ٢. تحقيق الاكتفاء الذاتي من السكر ٣. تقليل الاستيراد من السكر . ٤. له أهمية صناعية : بقايا عصره علفاً للحيوانات</p>
٥	<p><b>الفوسفات في سورية :</b> يستثمر من مناجم تدمر (خنيفيس و الشرقية) ينقل بسكة حديد يمر بحمص لتزويد معمل السماد بحاجاته يصدر عن طريق ميناء طرطوس</p>

### ٦-٠ الحديد و الصلب في الوطن العربي

- ١- أهم دعومات التقدم الصناعي الحديث ،  
٢- تتوفر مقوماتها في مصر والسعودية والجزائر ،  
٣- تقوم عليها صناعة الآلات وقضبان السكك الحديد والأدوات كهربائية
- ٧-س: ما التحديات التي تواجه الصناعة العربية**  
ضعف الإدارة و عدم قدرتها على الارتقاء بالمنتج وتسويقه  
ضعف الثقة بالمنتج الوطني على الرغم من جودته  
منافسة البضائع الأجنبية  
ضعف الحماية الجمركية  
لجوء بعض الدول العربية إلى الأسواق الأجنبية لتأمين احتياجاتها
- ٨ - صناعة الأسمدة :** س: ما أهميتها وعلى ماذا تعتمد :  
١. لها أثر في التنمية الزراعية ،  
٢. تعتمد على الفوسفات والنفط في الخليج العربي ومصر والمغرب

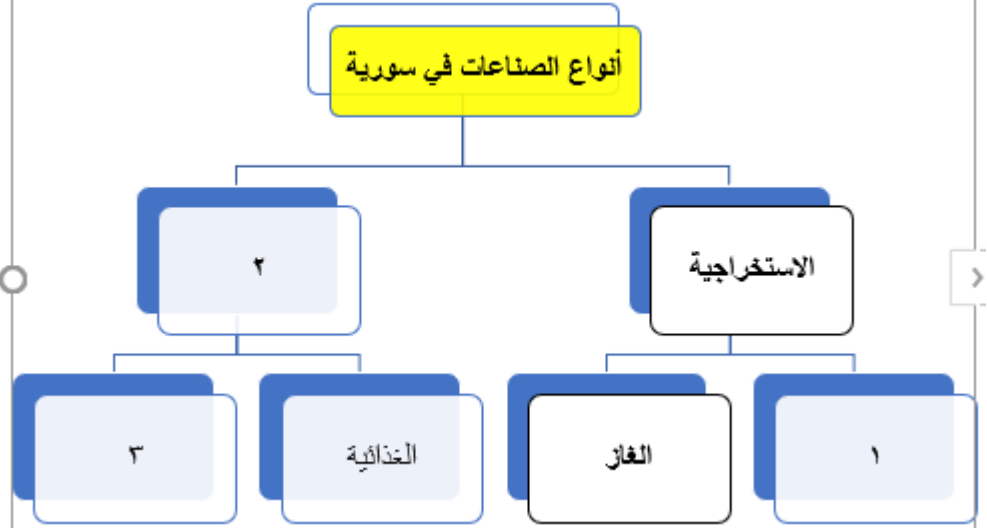
**الحل**

**الصناعات الاستخراجية :**

النفط والغاز والفسفات  
والأسفلت والملح ومواد البناء  
النفط والغاز والفسفات  
والأسفلت والملح ومواد البناء

**٢-الصناعات التحويلية :**

الصناعات الغذائية  
صناعة مواد البناء  
الصناعة المعدنية  
الصناعة البتروكيمياوية  
الصناعة الكيماوية والأسمدة



**س ما أهمية المواصلات في سورية :**

١- دورها الكبير في تسهيل انتقال الأفراد ٢-تنشيط السياحة والتنتمي ٣- ٣ تربط أجزاء الدولة بعضها ببعض وتربطها بالوطن العربي والعالم ٤ تربط مناطق الانتاج بمناطق الاستهلاك والتصدير

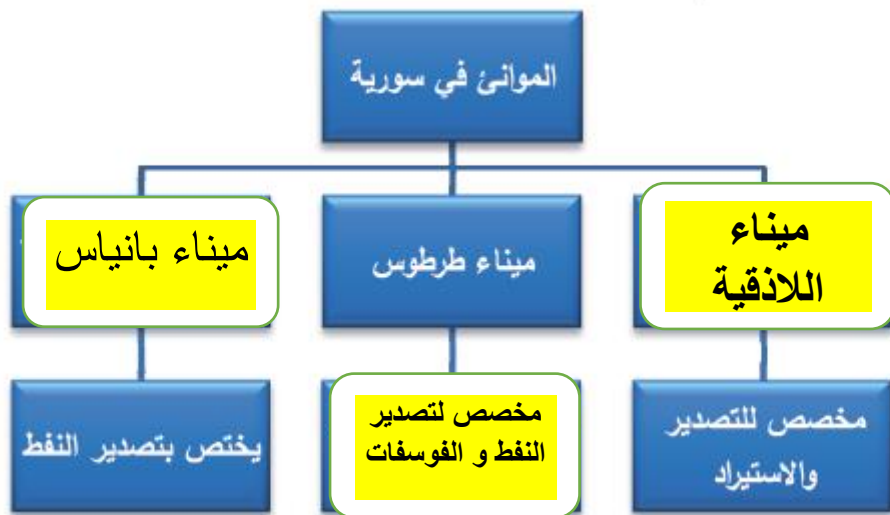
**س-ما محاور طرق السيارات في سورية و اهم عقدها:**

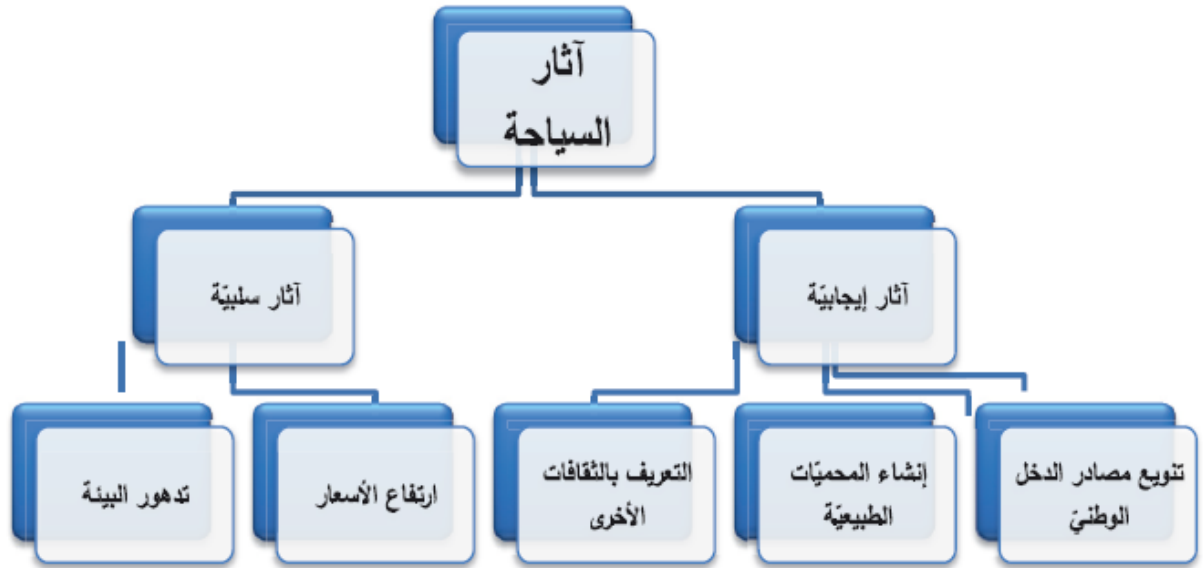
	المحور	العقدة	الامتداد
A	الطرق الساحلية		يمتد بموازة الساحل من خليج السويدية الى الحدود اللبنانية جنوبا و لها أهميتها السياحية
B	الطرق الداخلية	حمص	تمتد بموازة الطريق الساحلية من حلب الى درعا و منها الى الاردن
C	الطريق الشرقية	دير الزور	تتفرع منها طريق الى دمشق و اخر الى حلب ثم القامشلي ومنه الى العراق ،

**عرف تجارة العبور (الترانزيت) وما أثرها في التنمية الاقتصادية في سورية**

هي مرور البضائع التي تصل إلى دولة ما عن طريق البر أو البحر أو الجو ليعاد شحنها إلى دولة أخرى مع خضوعها لإجراءات جمركية مختصرة مقارنة بالإجراءات الخاصة بإدخال البضائع الأجنبية إلى داخل الدولة .  
**أهميتها أو أثرها :** تجلب إيرادات مالية كبيرة لخزينة الدولة وتزيد الدخل الوطني و تعدل الميزان التجاري

**ثانياً :أكمل خريطة المفاهيم الآتية :**





مخطّط آثار السياحة في الوطن العربي

8.07 x 11.02 in

### أهمية السياحة في سورية :

- ١- ترفع مستوى المعيشة من خلال الانتعاش الاقتصادي الذي تجلبه .
- ٢- هي قطاع رئيسي يجذب الاستثمارات الأجنبية المباشرة .
- ٣- تستوعب نسبة كبيرة من الأيدي العاملة .
- ٤- تسهم في بناء البنية التحتية مثل شبكات النقل والمواصلات والمياه .
- ٥- أداة اجتماعية للتعارف والتألف بين الشعوب

### مقومات السياحة في سورية

المقومات البشرية	المقومات الطبيعية
الجوانب التاريخية كالأثار (بصرى وتدمر	ظروف المناخ
الأماكن الدينية	تمايز الفصول
توفر البنى التحتية (المطارات ، وسائل النقل)	السواحل المشمسة
تطور القطاعات الصناعية والتجارية (كالبنوك)	الحمّامات الطبيعية
والخدمات البريد والمطاعم والفنادق ومراكز الترفيه	(الحمة في وادي
والترفيهية وتطور وسائل الإعلام .	اليرموك)
	الحياة في درعا
	غابات الفرنلق

مراجعات أخرى بدون حل

## جغرافيا - تاسع الوحدة الاولى

اولا اختر الإجابة الصحيحة

١- الاقليم الذي يمر منه خط الاستواء

وادي الرافدين	وادي النيل	المغرب العربي	القرن الافريقي
---------------	------------	---------------	----------------

٢- الاقليم الذي يعد سلته الغذاء العربي

وادي الرافدين	شبه الجزيرة	وادي النيل	ليبيا
---------------	-------------	------------	-------

٣- الاقليم الاول بصيد الأسماك عربيا :

ليبيا	المغرب	شبه الجزيرة	القرن الافريقي
-------	--------	-------------	----------------

٤- تقع سوريا من بلاد الشام في الجزء :

الشمالي	الشرقي	الغربي	الجنوبي
---------	--------	--------	---------

٥- مضيق يصل بين الخليج العربي وخليج عمان

باب السلام	باب المنذب	مضيق جبل طارق	قناه السويس
------------	------------	---------------	-------------

٦- الاقليم الذي يقع في وسط الساحل الشمالي لافريقيا

بلاد الرافدين	ليبيا	المغرب العربي	شبه الجزيرة
---------------	-------	---------------	-------------

٧- الاقليم الذي تحيط به المياه من ثلثه جهات ويشرف على ثلاث مضائق بحريه هو

بلاد الشام	بلاد الرافدين	شبه الجزيرة	وادي النيل
------------	---------------	-------------	------------

ثانيا : ضع - صح او غلط

- ١ . الاقليم الذي يعد الاكبر مساحه هو بلاد الرافدين
- ٢ . الاقليم الذي يعد الاصغر مساحته هو بلاد الشام
- ٣ . اقليم وادي النيل هو اكبر مساحه من اقليم بلاد الشام
- ٤ . الاقليم الذي يعد الاكثر انتاجا للنفط هو ليبيا
- ٥ . شبه الجزيرة يتوسط الساحل الشرقي لافريقيا

ثالثا فسر ما يلي

- ١ . الأهمية الجغرافية لسوريا
- ٢ . الأهمية الجغرافية للقرن الافريقي
- ٣ . تقسيم العلماء بلاد الشام الى اقاليم

رابعا عن اكمل خريطة المفاهيم التاليه

الاقاليم في الوطن العربي  
الجناح الاسيوي شبه الجزيرة و ..... و.....  
الجناح الافريقي ليبيا و المغرب العربي و ..... و.....ز

خامسا : اجب عن الاسئلة التاليه

- ١- انسب العواصم التاليه الى دولها :  
مقديشو - موروني - نواكشوط - القايره - المنامه - الدوحه - بغداد
- ٢- المقومات السياحية لاقليم وادي النيل
- ٣- اهميه قناه السويس

خامسا قارن بين اقليم بلاد الشام و ليبيا من حيث الموقع والاهميه والدول المكونه٦ ارسم خريطة الجمهوريه العربيه السوريه وحدد عليه

نهر الفرات وموقع سد الفرات - نهر العاصي و موقع مدينه حمص - جبل عبد العزيز - حقل رميلان



- ٥- حوضه دمشق صفاتها ، حدودها ، قسيمياها
- ٦- ما الصفات العامة لمناخ الوطن العربي
- ٧- الامطار في الوطن العربي أنظمتها و سبب سقوطها
- ٨- قارن في جدول بين البيئتين الطبيعيتين المتوسطة الرطبة و شبه الجافة من حيث الانتشار الحرارة الأمطار النبات والحيوان

### السؤال السادس: حلل النص الآتي ثم أجب عن الأسئلة الآتية: (٣٠ درجة)

تتنوع مصادر المياه في وطننا العربي؛ فالبحيرات تنقسم إلى طبيعية مثل "طبريا" واصطناعية (بشرية) مثل "بحيرة ناصر". أما الأنهار فلها ثلاثة أنواع: ساحلية (قصيرة وغزيرة)، داخلية (تنبع وتصب داخل اليابسة)، وعابرة (تأتي من خارج حدود الوطن العربي كالنيل والفرات). وبالإضافة للأنهار، توجد الأودية السيلية التي تجري فيها المياه مؤقتاً بعد المطر. ورغم هذا التنوع، يواجه الأمن المائي العربي تحديات صعبة مثل التلوث، الهدر، والزيادة السكانية، مما يتطلب تكاتفاً عربياً وحلولاً ذكية لترشيد الاستهلاك.

ي ١ صنف الأنهار التالية حسب نوعها في الجدول أدناه (ساحلية - داخلية - عابرة):  
(نهر النيل - نهر بردى - نهر أم الربيع - نهر دجلة)

عابرة: .....

داخلية: .....

ساحلية: .....

س ٢ : ما هو الفرق الأساسي بين "البحيرات الطبيعية" و"البحيرات الاصطناعية" من حيث طريقة التكوين؟ اذكر مثالاً واحداً لكل منهما.

س ٣ : تعرف "الأودية السيلية" بأنها مجار مائية مؤقتة. استنتج أثر غياب الأمطار لفترات طويلة على سكان المناطق التي تعتمد على هذه الأودية كمصدر وحيد للمياه.

س ٤- يواجه الأمن المائي العربي مشكلات مائية عديدة. اقترح حلين لهذه المشكلات.

### السؤال السابع: ارسم خريطة الجمهورية العربية السورية مستعيناً بالحدود البرية والبحرية، وثبت عليها مع التسمية

ما يلي: (٥٠ درجة)

مجرى نهر الفرات - الرقة - جبل عبد العزيز - حقل رميلان

**المدة: ساعة واحدة الدرجة: ٣٠٠ درجة المادة جغرافية الوحدة الثالثة**

**السؤال الأول: اختر الإجابة الصحيحة لست من الأسئلة السبعة الآتية ثم انقلها إلى ورقة إجابتك: (٦٠ درجة)**

٢- تقسيم السكان بحسب الجنس إلى ذكور وإناث:

A	التركيب العمري	B	الاقتصادي	C	النوعي	D	التعليمي
---	----------------	---	-----------	---	--------	---	----------

٢- معرفة نسبة توزع السكان على قوة العمل

A	التركيب النوعي	B	التركيب الاقتصادي	C	الحالة التعليمية	D	التركيب العمري
---	----------------	---	-------------------	---	------------------	---	----------------

٣- مرفأ سورية الأول يوجد في

A	دمشق	B	طرطوس	C	اللاذقية	D	حمص
---	------	---	-------	---	----------	---	-----

٤- انتقال الفرد من منطقة الى أخرى داخل دولته

A	هجرة خارجية	B	هجرة داخلية	C	هجرة قسرية	D	هجرة كفاءات
---	-------------	---	-------------	---	------------	---	-------------

٥- الهجرة الموسمية للعمل هي هجرة

A	دائمة	B	خارجية	C	مؤقتة	D	قسرية
---	-------	---	--------	---	-------	---	-------

**السؤال الثاني: ضع كلمة (صح) أمام العبارة الصحيحة وكلمة (غلط) أمام العبارة المغلوطة لثلاث من العبارات الآتية: (٣٠ درجة)**

١- يتسم التركيب العمري في الوطن العربي بفتوة السكان

٧- يمثل سكان الريف غالبية سكان الوطن العربي

٨- تجذب الخدمات المتوافرة في المدن أهل الريف إليها

٩- قسوة المناخ هي احد أسباب ندرة السكان في البادية

**السؤال الثالث: فسّر ثلاثاً من العبارات الآتية تفسيراً علمياً دقيقاً: (٣٠ درجة)**

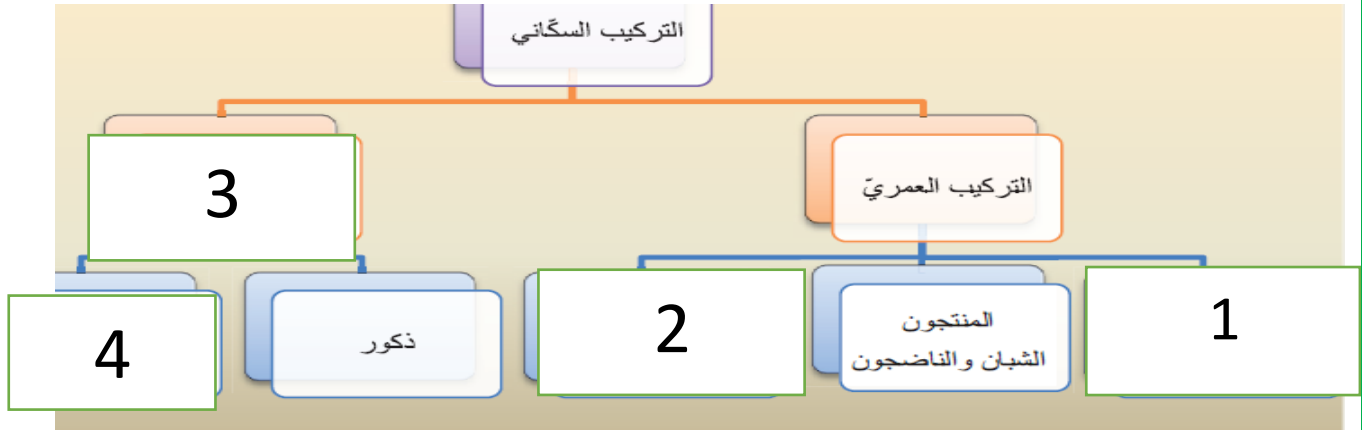
١- ارتفاع عدد الولادات في الكثير من الدول العربية.

٢- تزايد الهجرة من الريف إلى المدينة.

٣- ارتفاع الكثافة في سورية في السهول وأودية الأنهار و غوطة دمشق.

٤- ندرة السكان في البوادي العربية .

**السؤال الرابع: أكمل خريطة المفاهيم الآتية: (٢٠ درجة)**



**السؤال الخامس: أجب عن أربعة من الأسئلة الخمسة الآتية: (٨٠ درجة)**

١- عرف السكن العشوائي وما أسبابه وما الحلول ما مشكلات المدن العربية.

٢- ما المقصود بهجرة العقول

٣- مدينة حمص الموقع و الأهمية .

٤- قارن في جدول بين سكان البدو و الريف من حيث مكان السكن و العمل و سبب التناقص

٥- ما النتائج المترتبة على: استمرار الهجرة من الريف الى المدينة

٦- ما الآثار السلبية لهجرة أصحاب العقول

**السؤال السادس: حلّل النص الآتي ثم أجب عن الأسئلة الآتية: (٣٠ درجة)**

- "تواجه المدن العربية تحدياً جسيماً يتمثل في \*تضخم المدن\* بوتيرة تفوق قدرة التنظيم والخدمات، مما أدى لظهور العشوائيات وزيادة الطلب على الموارد الأساسية. كما تفاقمت \*المشكلات البيئية\* والمواصلات\* نتيجة التوسع العمراني السريع والازدحام الشديد، مما أثر سلباً على جودة الحياة الصحية والاجتماعية للسكان."
- ٦- وضح العلاقة بين النمو السكاني السريع في المدن العربية وظهور مشكلة "السكن العشوائي".
- ٧- استنتج من النص الأسباب الرئيسية التي أدت إلى تدهور الوضع البيئي (تلوث الماء والهواء) داخل المدن
- ٨- بماذا تفسر حدوث أزمة المواصلات والمرور في المدن العربية المعاصرة رغم التقدم التكنولوجي في وسائل النقل؟
- ٩- اقترح حلين عمليين للحد من ظاهرة "التلوث الضوضائي" الناتج عن وسائل النقل في مراكز المدن المزدحمة.

**السؤال السابع: ارسم خريطة الجمهورية العربية السورية مستعيناً بالحدود البرية والبحرية، وثبت عليها مع التسمية ما يلي: (٥٠ درجة)**

مجرى نهر العاصي - حمص - جبل الزاوية - حقل عمر

**المدة: ساعة واحدة الدرجة: ٣٠٠ درجة المادة جغرافية الوحدة الرابعة**

**السؤال الأول: اختر الإجابة الصحيحة لست من الأسئلة السبعة الآتية ثم انقلها إلى ورقة إجابتك: (٦٠ درجة)**

١- يستخرج الاسفلت في سورية من مكانه الطبيعي في ::

A	رميلان	B	الجبسة	C	جبل البشري	D	كراتشوك
---	--------	---	--------	---	------------	---	---------

٢- الدولة العربية الأولى بإنتاج البوتاس هي :

A	مملكة المغرب	B	الأردن	C	سلطنة عمان	D	
---	--------------	---	--------	---	------------	---	--

٣- المحافظة السورية الأولى بإنتاج القمح :

A	حلب	B	طرطوس	C	اللاذقية	D	الحسكة
---	-----	---	-------	---	----------	---	--------

٤- تعد الأكثر الصناعة الأكثر انتشارا في الوطن العربي هي ا

A	الحديد و الصلب	B	الكيميائية	C	الغذائية	D	البتروكيميائية
---	----------------	---	------------	---	----------	---	----------------

٥- الهجرة الموسمية للعمل هي هجرة

A	دائمة	B	خارجية	C	مؤقتة	D	قسرية
---	-------	---	--------	---	-------	---	-------

٦- يقع سد بين الويدان على نهر

A	الفرات	B	ام الربيع	C	دجلة	D	النيل
---	--------	---	-----------	---	------	---	-------

**السؤال الثاني: ضع كلمة (صح) أمام العبارة الصحيحة وكلمة (غلط) أمام العبارة المغلوطة لثلاث من العبارات الآتية: (٣٠ درجة)**

١- أقيم سد الرمادي على نهر ام الربيع في المغرب

٢- تتركز تربية الابقار في السودان لوفرة حشائش السافانا

٣- يعمل ثلث اليد العاملة في الوطن العربي بقطاع التجارة

٤- لا يزال اقتصاد اغلب الدول العربية قائم على الصناعة ( )

**السؤال الثالث: فسّر ثلاثاً من العبارات الآتية تفسيراً علمياً دقيقاً: (٣٠ درجة)**

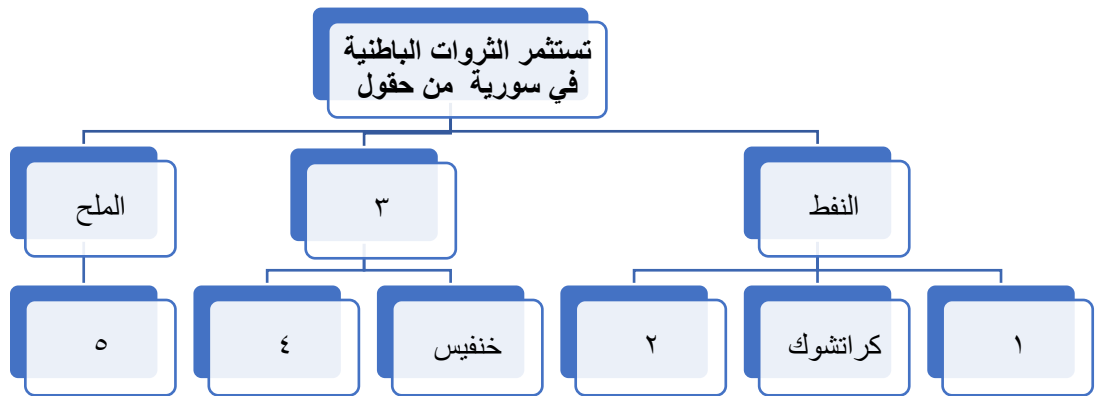
١- تراجع نسبة العاملين في الزراعة في سورية

٢- أهمية محصول القطن في سورية .

٣- أهمية الغاز بوصفه مصدراً للطاقة

٤- عدم كفاية انتاج الحبوب لسكان الوطن العربي

**السؤال الرابع: أكمل خريطة المفاهيم الآتية: (٢٠ درجة)**



**السؤال الخامس: أجب عن أربعة من الأسئلة الخمسة الآتية: (٨٠ درجة)**

١- عدد معوقات الزراعة في الوطن العربي.

٢- ما ميزات النفط العربي

٣- انسب الحقول التالية الى دولها :

كركوك - الغوار - ناصر - عمر

٤- ما هي اجراءات التخفيف من ظاهرة الجفاف.

٥- ما أنماط تربية الحيوان في سوريةما

### السؤال السادس: حُلّل النص الآتي ثم أجب عن الأسئلة الآتية: (٣٠ درجة)

"يُعدُّ الأمن الغذائي ركيزة الاستقرار في الوطن العربي، وهو المفهوم الذي تطور ليشمل توفير الغذاء بالكم والنوع المناسبين لجميع فئات المجتمع. وتعتمد فاعلية هذا القطاع على مقومات الزراعة الأساسية كالمناخ والتربة، بالإضافة إلى الاستغلال الأمثل للثروات البحرية المتنوعة على طول السواحل العربية. ولأن الجفاف يمثل تهديداً حقيقياً للإنتاج، تبرز الحاجة الملحة لتبني تقنيات الري الحديثة وبناء السدود لضمان تحقيق الاكتفاء الذاتي ومواجهة التحديات المناخية."

س١: بناءً على النص وما درست، وضح الفرق الجوهرى بين مفهومي "الاكتفاء الذاتي" و"الأمن الغذائي" من حيث الشمولية والأهداف.

س٢: استنتج (مقومات الزراعة)،

س٣: اقترح ثلاثة إجراءات عملية (تقنية أو إدارية) وردت في الصور لمواجهة آثار الجفاف وتأمين مصادر المياه الدائمة.

### السؤال السابع: ارسم خريطة الجمهورية العربية السورية مستعيناً بالحدود البرية والبحرية، وثبّت عليها مع التسمية

ما يلي: (٥٠ درجة)

مجرى نهر اليرموك - دمشق - جبل عبد العزيز - منطقة لبيئة متوسطة شبه رطبة

أولا : اختر الإجابة الصحيحة

- ١- كانت فلسطين في تقسيمات الجنرال اللنبي منطقة : فرنسية - دولية - إنكليزية - محايدة
- ٢- انضم العرب في الحرب العالمية الأولى الى جانب : الحلفاء - لم يشاركوا - المانيا - العثمانيين
- ٣- ابتداء نظام الانتداب في مؤتمر : الصلح - السوري العام - سان ريمو - برلين .

ثانيا : علل مايلي

١- قيام ثورة اذار المباركة عام ٢٠١١ م .....

٢- ظهور المسألة الشرقية.....

ثالثا : ضع كلمة (صح) او ( غلط ) بجانب العبارات التالية .

- ١- احتلت فرنسا عدن ١٨٣٩ م ( .....).
- ٢- رفضت بريطانيا وفرنسا مجيئ لجنة دولية إلى العراق و بلاد الشام ( .....).

رابعا : صل بين المجموعتان A و ما يناسبها من المجموعة B :

<u>B</u>	<u>A</u>
قائد ثورة الجولان	حاجو اغا
قائد معركة بيان دور ١٩٢٣ م	إبراهيم هنانو
قائد ثورة جبل الزاوية	أحمد مريود

خامسا : ما بنود مشروع معاهدة ١٩٣٦ بين سورية و فرنسا م :

.....

.....

.....

سادسا : قارن بين مضمون خطاب فيصل و قرارات مؤتمر الصلح

قرارات مؤتمر الصلح	مضمون خطاب فيصل

**أولا : اختر الإجابة الصحيحة**

- ١- أول رئيس للجمهورية العربية السورية ١٩٣٢ م : هاشم الاتاسي - يوسف العظمة - محمد علي العابد
- ٢- أقر نظام الانتداب بشكل فعلي في مؤتمر : الصلح - السوري العام - سان ريمو - برلين .
- ٣- حدثت اضطرابات في دمشق عام ١٩٢٢م بسبب : تردي الأوضاع الاقتصادية - سوء معاملة الأهالي - زيارة كراين .

**ثانيا : علل مايلي**

- ١- حصول الإضراب الستيني ١٩٣٦م.....
- ٢- توقف الثورة السورية الكبرى عام ١٩٢٧ م .....

**ثالثا : ضع كلمة (صح) او ( غلط ) بجانب العبارات التالية .**

- ١- أدت المسألة الشرقية الى تركيز الأطماع الأوربية في الوطن العرب ( ) .
- ٢- رحب الشعب السوري باتفاقية ( فيصل - كليمنصو ) ١٩١٩م ( ) .

**رابعا : صل بين المجموعتان A و ما يناسبها من المجموعة B :**

<b>B</b>	<b>A</b>
أحد قادة ثورة الساحل	علي رضا الركابي
تراس أول حكومة عربية	يوسف العظمة
قائد معركة ميسلون	عمر البيطار

خامسا : ما بنود انذار غورو ١٩٢٠ م

.....

.....

.....

**سادسا : قارن بين التزامات فيصل و التزامات كلمنصو بموجب الاتفاقية بينهما**

التزامات فيصل	التزامات كلمنصو

أولا : اختر الإجابة الصحيحة

- ١- كانت فلسطين في تقسيمات اتفاقية سايكس بيكو : فرنسية - دولية - إنكليزية - عربية
- ٢- تأسست أول حكومة عربية عام ١٩١٨م بقيادة : يوسف العظمة - محمد علي العابد - علي رضا الركابي
- ٣- محمد الأشمر من أبطال : ثورة الشمال - ثورة الجولان - الثورة السورية الكبرى - ثورة الساحل .

ثانيا : علل مايلي

- ١- نوقف ثورتي الشمال و الساحل.....
- ٢- ابتداء نظام الانتداب في عام ١٩١٩ م .....

ثالثا : ضع كلمة (صح) او ( غلط ) بجانب العبارات التالية .

- ١- سميت وزارة هاشم الأتاسي بالوزارة الدفاعية (.....).
- ٢- كانت القوى متكافئة بين الطرفين في معركة ميسلون (.....).

رابعا : صل بين المجموعتان A و ما يناسبها من المجموعة B :

<b>B</b>	<b>A</b>
من قرارات مؤتمر سان ريمو	رفض الانتداب
من قرارات مؤتمر الصلح	العراق تحت الانتداب البريطاني
من قرارات المؤتمر السوري العام	استقلال البلاد العربية في اسيا

خامسا : ما سياسة فرنسا الاستعمارية في سورية .

.....

.....

.....

سادسا : قارن بين اتفاقية سايكس بيكو ١٩١٦ م و قرارات مؤتمر سان ريمو ١٩٢٠ م.

قرارات مؤتمر سان ريمو ١٩٢٠ م.	بنود اتفاقية سايكس بيكو ١٩١٦ م

الوحدة الثانية

أولاً : اختر الإجابة الصحيحة

١- صحيفة كشفت خطر الصهيونية وكانت تصدر من مصر :

A	المقتطف	B	المقتبس	C	العاصمة	D	الكرمل
---	---------	---	---------	---	---------	---	--------

٢- اعترف بمنظمة التحرير ممثلاً شرعياً للشعب الفلسطيني في مؤتمر القمة العربية ١٩٧٤م المنعقد في

A	القاهرة	B	دمشق	C	الرياض	D	الرباط
---	---------	---	------	---	--------	---	--------

٣- فرض مؤتمر سان ريمو ١٩٢٠ م على لبنان الانتداب:

A	الانكليزي	B	الفرنسي	C	الامريكي	D	الاسباني
---	-----------	---	---------	---	----------	---	----------

ثانياً : ضع كلمة ( صح ) أو ( غلط ) بجانب العبارات التالية :

١. قبلت الحكومة اللبنانية مشروع أيزنهاور الأمريكي ( ) .
- ٢- وافق السلطان العثماني عبد الحميد ١٩٠١ م على بيع اراضي في فلسطين لليهود ( )
- ٣- المؤتمر الصهيوني الأول عقد في مدينة بلتيمور الامريكية ١٨٩٧ م ( )

ثالثاً : علل مايلي :

- ١- ظهور عدة حركات وطنية في لبنان عام ١٩٢٠ م .
  - ٢- علل ظهور أولى المستوطنات اليهودية في فلسطين عام ١٨٧٨م
  - ٣- سعي أمريكا لزيادة نفوذها في لبنان عام ١٩٥٨م
- رابعاً : صل بين المجموعة ( أ ) و ما يناسبها من المجموعة ( ب ) :

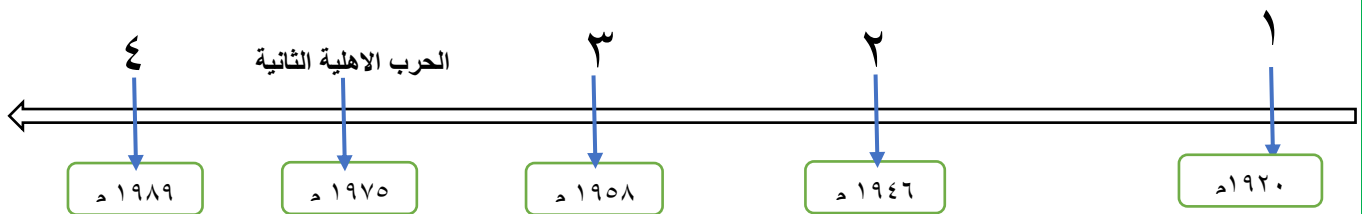
B	A
لخداع العرب و تهدئتهم	إعطاء بريطانيا وعد بلفور
لحماية الكيان الصهيوني	تأسيس منظمات يهودية إرهابية
لحماية النفط و الغاز	صدور البيان الثلاثي ١٩٥٠ م
لإجبار العرب على ترك اراضيهم	

خامساً : أجب عن الأسئلة التالية :

- ١- ما مضمون معاهدة التحالف البريطانية - الأردنية ١٩٤٦ م .
  - ٢- ما مطالب ومقترحات برنامج حكومة رياض الصلح التي تقدمت بها للمندوب السامي في لبنان عام ١٩٤٣ م
- سادساً : وازن بين مضمون مشروع الأكثرية ومشروع الأقلية في الأمم المتحدة ١٩٤٧ م

رتب الاحداث بدء بالاقدم

الاحداث هي ( استقلال لبنان - مؤتمر سان ريمو - مؤتمر الطائف - الحرب الاهلية الاولى )



الوحدة الثانية

أولا : اختر الإجابة الصحيحة

١- صحيفة كشفت خطر الصهيونية وكانت تصدر من دمشق :

A	المقتطف	B	المقتبس	C	العاصمة	D	الكرمل
---	---------	---	---------	---	---------	---	--------

٢- فرض الانتداب البريطاني على فلسطين في مؤتمر :

A	سان ريمو	B	الصلح	C	السوري العام	D	الرباط
---	----------	---	-------	---	--------------	---	--------

١- جاءت لجنة بيل ١٩٣٧ بعد

A	انتفاضة الاقصى	B	ثورة يافا	C	الثورة الفلسطينية الكبرى	D	انتفاضة الحجارة
---	----------------	---	-----------	---	--------------------------	---	-----------------

ثانيا : ضع كلمة ( صح ) أو ( غلط ) بجانب العبارات التالية :

- ١- انتهت الحرب الاهلية الثانية في لبنان عام ١٩٧٥ م برفع شعار لا غالب ولا مغلوب (.....)
- ٢- مؤسس إمارة شرقي الأردن الأمير عبدالله بن الحسين (.....)
- ٣- بدأت المشاريع الصهيونية تظهر في فلسطين بعد ضعف الدولة العثمانية (.....)

ثالثا : علل مايلي :

- ١- علل تنبه الفلسطينيين للخطر الصهيوني
  - ٢- اعلان غورو وتشكيل دولة لبنان الكبير
  - ٣- ضعف الحركة الوطنية في الأردن قبل الحرب العالمية الثانية
- رابعا : صل بين المجموعة ( أ ) و ما يناسبها من المجموعة ( ب ) :

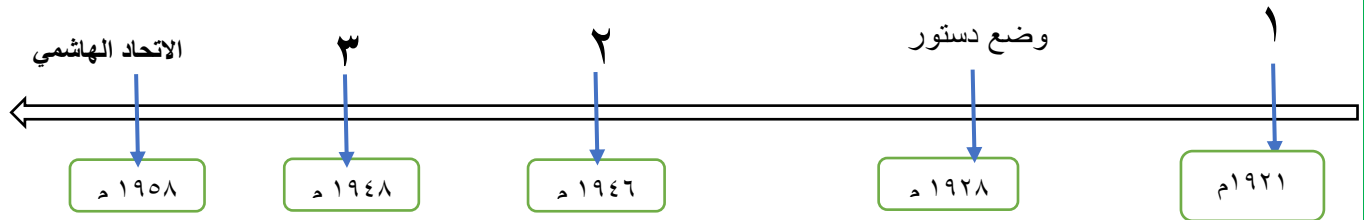
B	A
لقيام الحرب العالمية الثانية .	قيام عدوان ايار ١٩٤٥ م
لرغبة بريطانيا في تهدئة الأحوال .	صدور البيان الثلاثي ١٩٥٠ م
لحماية الكيان الصهيوني .	صدور الكتاب الأبيض الثاني ١٩٣٠ م
لرفض الامتيازات الفرنسية .	

خامسا : أجب عن الأسئلة التالية :

- ١- أسباب الحرب الأهلية الأولى في لبنان عام ١٩٥٨ م .
  - ٢- ما السياسية التي اتبعتها بريطانيا في فلسطين لتنفيذ وعد بلفور .
- سادسا : وازن بين مقررات مؤتمر بلتيمور و توصيات اللجنة الانغلو الامريكية

سابعا : رتب الاحداث بدءا بالاقدم

حرب فلسطين - تأسيس امارة شرقي الأردن- معاهدة التحالف بين بريطانيا و الأردن



**أولاً : اختر الإجابة الصحيحة**

١- صحيفة كشفت خطر الصهيونية وكانت تصدر من فلسطين :

A	المقتطف	B	المقتبس	C	العاصمة	D	الكرمل
---	---------	---	---------	---	---------	---	--------

٢- من أولى الحركات الوطنية اللبنانية ثورة جبل عامل ١٩٢٠ م قادها :

A	أحمد مريود	B	حسن الخراط	C	أدهم خنجر	D	محمد الأسمر
---	------------	---	------------	---	-----------	---	-------------

٣- كان شرقي الأردن في اتفاقية سايكس بيكو ١٩١٦م

A	المنطقة العربية الداخلية ب	B	الانكليزية	C	المنطقة العربية الداخلية أ	D	الفرنسية
---	----------------------------	---	------------	---	----------------------------	---	----------

**ثانياً : ضع كلمة ( صح ) أو ( غلط ) بجانب العبارات التالية :**

- ١- العيد الوطني ١٩٤٣م في لبنان بمناسبة جلاء المستعمر الفرنسي ( ) .
- ٢- قاد الأمير فيصل الجيوش العربية في حرب فلسطين ١٩٤٨م ( ) .
- ٣- تمتع مدينة القدس بمكانة دينية مميزة ( ) .

**ثالثاً : علل مايلي :**

- ١- علل إصدار بريطانيا وعد بلفور ١٩١٧م او تبنيها للمشروع الصهيوني .
- ٢- ثورة ١٩٣٦م في فلسطين ثورة شعبية وقومية في إن
- ٣- اعلان غورو تأسيس دولة لبنان الكبير .

**رابعاً : صل بين المجموعة ( أ ) و ما يناسبها من المجموعة ( ب ) :**

B	السبب المباشر	A
تدنيس شارون للمسجد الأقصى		الحرب الأهلية الأولى في لبنان
دهس سائق يهودي لعمال فلسطينيين		انتفاضة ٢٠٠٠ م
اغتيال الصحفي نسيب المتني		ثورة اذار ٢٠١١ م
قلع أظافر أطفال درعا		

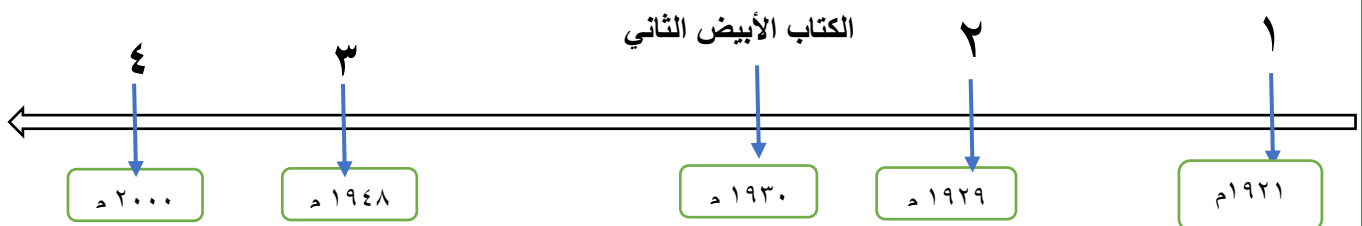
**خامساً : أجب عن الأسئلة التالية :**

- ١- سياسية فرنسة الاستعمارية في لبنان
- ٢- ما أ سباب اضطرابات يافا ١٩٢١ م .

**سادساً : وازن مشروعى الأثرية و الأقلية بشأن فلسطين فى الأمم المتحدة**

**سابعاً : رتب بدء بالأقدم**

الاحداث هى : حرب فلسطين - انتفاضة الأقصى - ثورة يافا - ثورة البراق



أولاً : اجب عن الأسئلة التالية

١- اختر الإجابة ( 30 درجة )

أ- مؤسس الدولة السعودية الثانية هو :

A	الأمير عبد الله	B	عبد العزيز آل سعود	C	الأمير تركي بن عبد الله	D	محمد بن سعود
---	-----------------	---	--------------------	---	-------------------------	---	--------------

ب- قاد انقلاب ١٩٦٢ م في اليمن الشمالي :

A	عبدالله السلال	B	قحطان الشعبي	C	الامام محمد البدر	D	علي عبدالله الصالح
---	----------------	---	--------------	---	-------------------	---	--------------------

ج- وضع مؤتمر سان ريمو ١٩٢٠م العراق تحت الانتداب:

A	البريطاني	B	الفرنسي	C	الامريكي	D	الاسباني
---	-----------	---	---------	---	----------	---	----------

٢- ضع كلمة ( صح ) أو ( غلط ) بجانب العبارات التالية : ( 30 درجة )

- أ- تصدى للبرتغاليين وطردهم من مسقط هم عرب اليعاربة ( ) .  
 ب- تمكن ابن سعود من السيطرة على عسير عام ١٩٢١ م بسبب ضعف آل الرشيد ( ) .  
 ج - قامت حرب الخليج الأولى نتيجة غزو العراق للكويت ( ١٩٨٠ م - ١٩٨٨ م ) ( ) .  
 ٣-- رتب الاحداث التالية بدءاً بالأقدم : ( 20 درجة )

أ- حرب الخليج الثانية ب - مؤتمر سان ريمو ج - حرب الخليج الثالثة د - حلف بغداد

٤- علل ( ثلاث فقط ) مايلي : ( 60 درجة )

- أ- ترشيح بريطانيا فيصل ملكا على العراق.  
 ب- تراجع النفوذ البريطاني في السعودية بعد الحرب العالمية الثانية  
 ج - توجيه بريطانيا حملات ضد القواسم  
 د- تشكيل بريطانيا اتحاد الجنوب اليمني

ثانيا : اجب عن الأسئلة التالية ( 120 درجة )

١- صل بين المجموعة ( أ ) و ما يناسبها من المجموعة ( ب ) :

المجموعة ( أ )	المجموعة ( ب )
ادى اكتشاف النفط في شبه الجزيرة العربية	ازدياد النفوذ الامريكي
ادى الخلاف على مناطق النفط	تراجع النفوذ البريطاني فيها .
ادى تأسيس قاعدة الظهران العسكرية	الى التنافس الاستعماري عليها .
	تحقيق توازن دولي

٢- صنف السياسة البريطانية في العراق الى مجالاتها: : الاقتصادي - السياسي - الاجتماعي - الثقافي .

تقسيم السكان إلى طبقات - نهب خيرات البلاد وموارده - فرض اللغة الانكليزية - تجاهل الروح القومية -

٣- ما دلالة التنافس الكبير (محليا ودوليا) على شبه الجزيرة العربية

٤- ما نتائج انقلاب ١٤ تموز ١٩٥٨م في العراق .

٥-- قارن في جدول بين مضمون معاهدة ١٩٣٠م بين بريطانيا والعراق و معاهدة ١٩٣٦ م بين فرنسا و سورية

ثالثا : اجب عن السؤال التالي : ( 40 درجة )

س: ما مضمون معاهدة ١٨٢٠م التي فرضتها بريطانيا على أمراء وحكام الخليج العربي و القواسم :

أولاً : أجب عن الأسئلة التالية

١- اختر الإجابة الصحيحة (30 درجة)

٠ أ. اتخذ الامير تركي عاصمة لدولته :

A	حائل	B	الدرعية	C	الرياض	D	عدن
---	------	---	---------	---	--------	---	-----

ب- اول رئيس لليمن الجنوبي بعد اعلان النظام الجمهوري ١٩٦٨ م هو :

A	الامام يحيى	B	علي عبد الله صالح	C	قحطان الشعبي	D	الأمير فيصل
---	-------------	---	-------------------	---	--------------	---	-------------

ج- وضع مؤتمر سان ريمو ١٩٢٠م العراق تحت الانتداب:

A	البريطاني	B	الفرنسي	C	الامريكي	D	الاسباني
---	-----------	---	---------	---	----------	---	----------

٢- ضع كلمة ( صح ) أو ( غلط ) بجانب العبارات التالية : (30 درجة)

أ- من قاد المقاومة ضد البرتغاليين هم عرب القواسم ( )  
 ب- لجنت بريطانيا إلى الأحلاف الاستعمارية لتحكم سيطرتها على العراق ( .. )

ج- أصبحت السعودية بعد تأسيسها أكبر منتج للنفط في العالم ( .. )

٣- رتب الأحداث التالية بدءاً بالاقدم (20 درجة)

أ- الاتحاد الهاشمي ب- حلف بغداد ج- حرب الخليج الثانية د- مؤتمر سان ريمو

٤- علل ( ثلاث فقط ) ممايلي : (60 درجة)

١- قيام ثورة ١٩٢٠م في العراق.

٢- إقامة حلف بغداد ١٩٥٥ م

٣- احتلال بريطانيا عدن عام ١٨٣٩م

٤- ظهور النفوذ الأمريكي في السعودية

ثانياً : اجب عن (الاسئلة التالية ) (120 درجة)

١- صل بين المجموعة ( أ ) و ما يناسبها من المجموعة ( ب ) :

المجموعة ( أ )	المجموعة ( ب )
١. من أهداف حلف بغداد عام ١٩٥٥ م	الغاء النظام الملكي
٢. من بنود معاهدة ١٩٣٠ م	بقاء الموصل مع العراق
٣. من قرارات عصبة الامم عام ١٩٢٢ م	صرف أنظار العرب عن قضية فلسطين
	استقلال العراق استقلال تاماً

٢- صنف السياسة البريطانية في العراق الى مجالاتها : : الاقتصادي - السياسي - الاجتماعي - الثقافي .

الاعتماد على الموظفين الأجانب - نهب خيرات البلاد وموارده - جعلت اللغة الانكليزية لغة رسمية -

تقسيم المجتمع الى طبقات

٣- ما رايك باهتمام بريطانيا بالعراق .

٤- قارن في جدول بين مضمون معاهدة ١٩٣٠م بين بريطانيا والعراق و معاهدة ١٩٣٦ م بين فرنسا و سورية

ثالثاً : اجب عن السؤال التالي : (40 درجة)

س: ما مضمون معاهدة ١٨٢٠م التي فرضتها بريطانيا على **أمراء وحكام الخليج العربي** و القواسم :

انتهت الاسئلة

أولا : اجب عن الأسئلة التالية

٣- اختر الإجابة ( 30 درجة )

ت- انطلقت ثورة ١٩١٩م في مصر بعد اعتقال :

A	احمد عرابي	B	سعد زغول	C	الملك فاروق	D	جمال عبد الناصر
---	------------	---	----------	---	-------------	---	-----------------

ب- اندلعت الثورة الوطنية في الصومال عام ١٨٩٩م على يد

A	محمد بن عبد الله حسن	B	قحطان الشعبي	C	حامد ادريس عواتي	D	علي عبدالله الصالح
---	----------------------	---	--------------	---	------------------	---	--------------------

خ- عندما تقاسمت الدول الاستعمارية القرن الافريقي كانت جيبوتي تحت النفوذ :

A	البريطاني	B	الفرنسي	C	الايطالي	D	الاسباني
---	-----------	---	---------	---	----------	---	----------

٤- ضع كلمة ( صح ) أو ( غلط ) بجانب العبارات التالية : ( 30 درجة )

أ - شن العدوان الثلاثي على مصر ١٩٥٦م بعد تأميم قناة السويس ( ) .

ب - دعمت بريطانيا الصناعة المصرية بعد احتلالها ( ) .

ج - حدثت معركة التل الكبير ١٨٨٢م خسر عرابي واحتل الانكليز القاهرة ( ) .

٣-- رتب الاحداث التالية بدءا بالأقدم : ( 20 درجة )

أ - باتفاقية الحكم الثنائي ب - استقلال دولة السودان ج- الثورة المهديية د - ثورة عبد القادر ود حيوية

٤- علل ( ثلاث فقط ) مايلي : ( 60 درجة )

ت- تدبير بريطانيا فتنة الاسكندرية

ث- قيام الثورة المهديية ١٨٨١م في السودان

ج - علل رغبة أثيوبيا في ضم اريتريا اليها

د- التنافس البريطاني الفرنسي للسيطرة على مصر

ثانيا : اجب عن الأسئلة التالية ( 120 درجة )

١- س - صل بين العبارات في العمود الاول و الثاني :

٢	١
ردا على اتفاقية الحكم الثنائي	قامت الثورة المهديية ١٨٨١ م
قبيل نهاية الحرب العالمية الثانية	قامت ثورة محمد الامين ١٩٠٣ م
ردا على اهمال بريطانيا و مصر شؤون السودان .	ظهرت التيارات السياسية في السودان

٢- صنف السياسة الفرنسية في جزر القمر الى مجالاتها: : الاقتصادي - السياسي - الاجتماعي - الثقافي .  
ابقت السكان في المرض و الجوع - نهب خيرات البلاد وموارده - حاربت اللغة العربية - فرضت الحماية عليها -

٣- ما دلالة التنافس الاستعماري الكبير على القرن الافريقي

٤- ما المشكلات التي واجهت السودان بعد العراق .

٥-- مضمون اتفاقية الحكم الثنائي بين بريطانيا ومصر بشأن السودان ١٨٩٩م

ثالثا : أجب عن السؤال التالي : ( 40 درجة )

س: ما سياسة بريطانيا الاستعمارية في السودان بعد اتفاقية الحكم الثنائي ١٨٩٩ م

ث- قاد ثورة ١٨٨١م في مصر:

A	احمد عرابي	B	سعد زغلول	C	الملك فاروق	D	جمال عبد الناصر
---	------------	---	-----------	---	-------------	---	-----------------

ب- اتخذها الأمير عبد القادر الجزائري عاصمة له :

A	مدينة معسكر	B	هضبة الادرار	C	جبال الاوراس	D	طنجة
---	-------------	---	--------------	---	--------------	---	------

د- عندما تقاسمت الدول الاستعمارية القرن الافريقي كانت جيبوتي تحت النفوذ :

A	البريطاني	B	الفرنسي	C	الايطالي	D	الاسباني
---	-----------	---	---------	---	----------	---	----------

٥- ضع كلمة ( صح ) أو ( غلط ) بجانب العبارات التالية : ( 30 درجة )

- أ - شن العدوان الثلاثي على مصر ١٩٥٦م بعد تأميم قناة السويس ( ) .  
 ب - دعمت بريطانيا الصناعة المصرية بعد احتلالها ( ) .  
 ج - كانت فلسطين في اتفاقية سايكس بيكو ١٩١٦ م منطقة دولية ( ) .

٣-- رتب الاحداث التالية بدءا بالأقدم : ( 20 درجة )

أ - ثورة البراق ب - مؤتمر سان ريمو ج- انتفاضة الأقصى د - الكتاب الأبيض الثالث

٤- علل ( ثلاث فقط ) مايلي : ( 60 درجة )

- ج- تدبير بريطانيا فتنة الاسكندرية  
 ح- طهور المسالة الشرقية في القرن التاسع عشر  
 ج - ابتداء مؤتمر الصلح نظام الانتداب ١٩١٩ م  
 د- التنافس الدولي على شبه الجزيرة العربية .

ثانيا : اجب عن الأسئلة التالية ( 120 درجة )

١- س - صل بين العبارات في العمود الاول والثاني :

٢	١
ردا على اتفاقية الحكم الثنائي	قامت الثورة المهدية ١٨٨١ م
قبيل نهاية الحرب العالمية الثانية	قامت ثورة محمد الامين ١٩٠٣ م
ردا على اهمال بريطانيا و مصر شؤون السودان .	ظهرت التيارات السياسية في السودان

٢- صنف السياسة الفرنسية في جزر القمر الى مجالاتها: : الاقتصادي - السياسي - الاجتماعي - الثقافي .

ابقت السكان في المرض و الجوع
حاربت اللغة العربية
نهبت خيرات البلاد وموارده
فرضت الحماية عليها

٣- ما دلالة التنافس الاستعماري الكبير على القرن الافريقي

٤- قارن بين مشروع الاكثرية و الأقلية في الأمم المتحدة بشأن فلسطين .

٥- قارن بين التزامات فيصل و التزامات كلمنصو بموجب الاتفاق بينهما

ثالثا : اجب عن السؤال التالي : ( 40 درجة )

س: ما سياسة بريطانيا الاستعمارية في السودان بعد اتفاقية الحكم الثنائي ١٨٩٩ م

أولا : اجب عن الأسئلة التالية

٦- اختر الإجابة ( 30 درجة )

ج- تشكلت الحكومة الجزائرية المؤقتة في القاهرة برئاسة :

A	هواري بو مدين	B	فرحات عباس	C	الملك فاروق	D	احمد بن بلا
---	---------------	---	------------	---	-------------	---	-------------

ب- اتخذها الأمير عبد القادر الجزائري عاصمة له :

A	مدينة معسكر	B	هضبة الادرار	C	جبال الاوراس	D	طنجة
---	-------------	---	--------------	---	--------------	---	------

د- سمحت فرنسا لإيطاليا باحتلال ليبيا في اتفاقية ١٩٠٢ م مقابل:

A	مصر	B	الجزائر	C	المغرب	D	لبنان
---	-----	---	---------	---	--------	---	-------

٧- ضع كلمة ( صح ) أو ( غلط ) بجانب العبارات التالية : ( 30 درجة )

- أ - فرضت فرنسا الحماية على تونس في معاهدة المرسى ١٨٨٣ م ( ) .  
 ب - اضطرت المانيا الى الموافقة على احتلال فرنسا للمغرب مقابل اخذها مدينة افني ( ) .  
 ج - قاد المقاومة في موريتانيا الشيخ ماء العين، ( ) .

٣-- رتب الاحداث التالية بدءا بالأقدم : ( 20 درجة )

- أ - اتفاقية ايفيان ب - احتلال فرنسا الجزائر ج- مذبحه قسنطينية د - الثورة الجزائرية الكبرى

٤- علل ( ثلاث فقط ) مايلي : ( 60 درجة )

- خ- علل تشجيع ألمانيا فرنسا لاحتلال تونس ظهور المسالة الشرقية في القرن التاسع عشر  
 ج - أقامت إيطاليا سوراً من الأسلاك الشائكة على الحدود الليبية المصرية :  
 د- التنافس الدولي على شبه الجزيرة العربية .

ثانيا : اجب عن الأسئلة التالية ( 120 درجة )

١- س - صل بين العبارات في العمود الاول و الثاني مقابل موافقة الدول على احتلال فرنسا للمغرب :

٢	١
ليبيا	اسبانيا
الريف	بريطانيا
مصر	المانيا
الكونغو	

٢- صنف سياسة إيطاليا التالية ما هي في ليبيا الى مجالاتها: الاقتصادي - السياسي - الاجتماعي - الثقافي .

اهملت الصحة و انتشرت الامراض
احتكرت الصناعة و التجارة
احتكرت الصناعة و التجارة
جعلت ليبيا جزءاً من إيطاليا

٣- ماذا نستنتج من ارتكاب فرنسا المجازر في الجزائر ؟

٤- ما مضمون معاهدة الحماية ١٩١٢ م بين فرنسا والمغرب.

٥- قارن بين سياسة إيطاليا في ليبيا و فرنسا في الجزائر

ثالثا : اجب عن السؤال التالي : ( 40 درجة )

س: ما هي أسباب الاحتلال الفرنسي للجزائر ١٨٣٠ م