



امتحان شهادة التعليم الأساسي دورة 2026م. مادة الاجتماعيات

أولاً: التاريخ 300 درجة : النموذج الأول (1)

السؤال الأول أجب عن الأسئلة الآتية: 140 درجة (الأول 30، الثاني 30، الثالث 20، الرابع 60)

1: اختر الإجابة الصحيحة، وانقلها إلى ورقة إجابتك :

- 1: القائد الذي تزعم ثورة جبل الساحل السوري ضد الاحتلال الفرنسي هو:
• أ: إبراهيم هنانو ب: سلطان الأطرش ج: عمر البيطار د: عمر المختار
- 2: القائد الذي تزعم الثورة في ليبيا ضد الاحتلال الإيطالي هو:
• أ: إبراهيم هنانو ب: سلطان الأطرش ج: عمر البيطار د: عمر المختار
- 3: انتهى الحكم الملكي في العراق وتحولت البلاد لنظام جمهوري بعد ثورة:
• أ: العشرين 1920 ب: ثورة آذار 1941 ج: 14 تموز 1958 د: رشيد عالي الكيلاني
- 4: صدر "الكتاب الأبيض الأول" البريطاني في فلسطين في عام:
• أ: 1917 م ب: 1922 م ج: 1930 م د: 1939 م

2: ضع كلمة (صح) أو (خطأ) بجانب العبارات الآتية :

- (أ): حوّل تصريح 28 شباط مصر إلى دولة ذات سيادة كاملة قانونياً وفعالياً. ()
 - (ب): سياسة فرنسا في الجزائر كانت تستهدف النخبة السياسية دون المساس بالهوية الشعبية ()
 - (ج): شرعَ صكّ الانتداب في سان ريمو الوعود الاستعمارية السابقة وحوّلها للالتزام دولي ()
- 3: رتب الأحداث التاريخية حسب تسلسلها الزمني مبتدئاً بالأقدم :

معاركة ميسلون	الثورة الكبرى	الإضراب الستيني	عدوان 29 أيار
---------------	---------------	-----------------	---------------

4: علل ثلاثة فقط من التعاليل الأربعة الآتية :

- (1): صدور وعد بلفور عام 1917م من قبل بريطانيا.
- (2): فشل الثورة العرابية في مصر عام 1882م.
- (3): لجوء فرنسا لسياسة الاستيطان في دول المغرب العربي.
- (4): اعتبار معاهدة 1930 في العراق "استقلالاً منقوصاً".

السؤال الثاني: أجب عن أربعة أسئلة فقط من الأسئلة الخمسة الآتية: 120 (لكل سؤال 30 درجة)

- (1): عدد البنود الثلاثة لإنذار غورو الموجه للحكومة السورية عام 1920م.
- (2): قارن بين معاهدة 1936 في سورية ومعاهدة 1930 في العراق من حيث (القيود العسكرية المتبقية).
- (3): ما مضمون اتفاقية "سايكس بيكو" السرية عام 1916م بخصوص تقسيم بلاد الشام والعراق ..؟
- (4): ما مضمون اتفاق لويد جورج كلمنصو عام 1919م. (انتبه مضمون الاتفاق وليس الالتزامات) ..؟
- (5): كيف فرضت فرنسا معاهدة "باردو" على تونس عام 1881م وما الذريعة التي استخدمتها ..؟

السؤال الثالث: اقرأ النص الآتي ثم أجب : (40 درجة)

" بعد الثورة الجزائرية الكبرى .. نصّت اتفاقيات إيفيان عام 1962م على الوقف الفوري لإطلاق النار في كافة أنحاء الجزائر، والاعتراف المتبادل بالسيادة الكاملة للجزائر بحدودها التاريخية بما فيها الصحراء ."

1. اذكر أسباب الثورة الجزائرية الكبرى التي اندلعت عام: 1945م.
2. ما هي بنود معاهدة إيفيان بين فرنسا والجزائر عام: 1962م. .

= انتهت أسئلة مادة التاريخ، يتبع خلف الورقة أسئلة مادة الجغرافية =

ثانياً: الجغرافية : 300 درجة النموذج الأول (1)

السؤال الأول: اختر الإجابة الصحيحة (لستة فقط) من الأسئلة السبعة وانقلها إلى ورقة إجابتك : (60 درجة)

1. يكتسب موقع الوطن العربي أهمية كبرى لكونه يمثل حلقة وصل بين قارات :
(أ) آسيا وأوروبا وأمريكا (ب) أفريقيا وآسيا وأوروبا (ج) أستراليا وأفريقيا (د) أوروبا وأمريكا الشمالية.
2. الممر المائي الذي يربط البحر المتوسط بالمحيط الأطلسي هو مضيق :
(أ) باب المندب (ب) هرمز (ج) جبل طارق (د) قناة السويس.
3. تبرز الأهمية الحضارية لسورية من خلال اكتشاف أول أبجدية في العالم في مدينة :
(أ) ماري (ب) تدمر (ج) أوغاريت (د) إيبلا.
4. ينبع نهر العاصي من المرتفعات الجبلية الموجودة في دولة :
(أ) سورية (ب) تركيا (ج) لبنان (د) الأردن.
5. يُصنف محصول القطن في سورية ضمن مجموعة المحاصيل :
(أ) الغذائية (ب) الزيتية (ج) الصناعية (د) العلفية.
6. يُستخدم معدن المنغنيز بشكل رئيسي في صناعة :
(أ) الحلي والمجوهرات (ب) الأسلاك الكهربائية (ج) الصلب والدهانات (د) الأسمدة الكيماوية.
7. الميناء السوري الذي يتميز باختصاصه في تصدير النفط والفسفات هو :
(أ) ميناء اللاذقية (ب) ميناء طرطوس (ج) ميناء بانياس (د) ميناء جبلة.

السؤال الثاني: ضع كلمة (صح) أو (خطأ) جانب العبارات الآتية : (30 درجة)

- (1) تشكل جبال طوروس الحد الطبيعي الفاصل بين سورية والجمهورية التركية من جهة الشمال () .
- (2) يتميز الإقليم المتوسطي الرطب في سورية بسيادة التربة الحمراء الغنية بأكاسيد الحديد () .
- (3) تعد الهجرة من الريف إلى المدينة سبباً رئيساً في تراجع الإنتاج الزراعي في الوطن العربي () .
- (4) تقتصر أهمية السياحة في سورية على الجانب الجمالي والترفيهي فقط دون الجانب الثقافي () .

السؤال الثالث: فسر ثلاثاً فقط من العبارات الآتية تفسيراً علمياً دقيقاً (30 درجة)

- (1) تسمية نهر العاصي بهذا الاسم.
- (2) تركز صناعة الزيوت النباتية في مدن حلب ودمشق وحماة.
- (3) تنوع الأقاليم المناخية والنباتية في أراضي الوطن العربي.
- (4) الأهمية الاستراتيجية لموقع سورية كعقدة مواصلات دولية.

السؤال الرابع: أكمل خريطة المفاهيم الآتية : (20 درجة)

مصادر المياه السطحية في سورية:

- (أ) أنهار دولية (عابرة) مثل (ب) أنهار داخلية مثل (ج) أنهار ساحلية مثل.....

السؤال الخامس: أجب عن أربعة فقط من الأسئلة الآتية: (80 درجة)

- 1) ماذا ينتج عن بناء السدود الضخمة على مجاري الأنهار الدولية في سورية؟
- 2) اقترح حلاً لمشكلة تلوث مياه الأنهار القريبة من التجمعات السكانية الكبرى.
- 3) صنف الأهمية الدينية للوطن العربي من خلال ذكر أبرز المقدسات والديانات التي نشأت فيه.
- 4) قارن بين التربة اللحية والتربة الصحراوية في سورية من حيث أماكن الانتشار والخصوبة.
- 5) ما العوامل الطبيعية التي تؤثر في توزيع السكان داخل أراضي الوطن العربي؟

السؤال السادس: حلّ النصّ الآتي، ثمّ أجب عن الأسئلة الآتية: (30 درجة)

" تعد سورية منفذاً حيويًا لدول آسيا الغربية نحو البحر المتوسط، وقد جعلها موقعها الجغرافي المتميز جسراً للتبادل التجاري والثقافي بين الشرق والغرب عبر العصور."

1. استنتج من النص الدور الذي تلعبه سورية في التجارة الدولية.
2. حدد المشكلة التي قد تواجه سورية بسبب مطامع القوى الكبرى في موقعها، واقترح حلاً لها.
3. ما مقومات السياحة الثقافية التي ترتبط بمضمون هذا النص؟
4. صنف أهمية سورية الواردة في النص (جغرافية أم اقتصادية).

السؤال السابع: أرسم خريطة سورية بحدودها البرية والبحرية، وثبت عليها مع التسمية ما يلي : (50 درجة)

مجرى نهر الفرات. - موقع مدينة تدمر الأثرية. - حقل نفط السويدية. - انتشار التربة المتوسطة (الحمراء).

= انتهت الأسئلة =

تمنياتي لجميع أبنائي وبناتي الطلبة على امتداد وطننا العظيم سورية بالنجاح، الأستاذ عبد القادر منير



امتحان شهادة التعليم الأساسي دورة 2026م. مادة الاجتماعيات

أولاً: التاريخ 300 درجة : النموذج الثاني 2

السؤال الأول أجب عن الأسئلة الآتية: 140 درجة (الأول 30، الثاني 30، الثالث 20، الرابع 60)

1: اختر الإجابة الصحيحة، وانقلها إلى ورقة إجابتك :

1: القائد الذي أعلن الثورة السورية الكبرى عام 1925م هو:

أ: إبراهيم هنانو ب: سلطان الأطرش ج: يوسف العظمة د: فوزي القاوقجي

2: وقعت معركة ميسلون في تموز عام:

أ: 1918م ب: 1919م ج: 1920م د: 1921م

3: تشكلت "الكتلة الوطنية" في سورية عام 1928م بهدف النضال:

أ: العسكري ب: الفكري ج: السياسي د: الاقتصادي

4: تم الجلاء الفرنسي عن سورية في عهد الرئيس:

أ: شكري القوتلي ب: هاشم الأتاسي ج: ناظم القدسي د: أديب الشيشكلي

2: ضع كلمة (صح) أو (خطأ) بجانب العبارات الآتية :

(أ): مثل مشروع معاهدة 1936م اعترافاً فرنسياً نهائياً بسيادة سورية المطلقة دون قيود عسكرية.

(ب): كان الإضراب الستيني عام 1936م تحولاً من الصدام المسلح إلى الضغط المدني الشامل.

(ج): إنذار غورو لم يكن مجرد مطالب عسكرية، بل استهدف تقويض الكيان السياسي للدولة العربية

3: رتب الأحداث التاريخية حسب تسلسلها الزمني مبتدئاً بالأقدم :

معركة ميسلون | إنزال العلم الفرنسي | الثورة السورية الكبرى | إنذار غورو | مشروع معاهدة 1936

4: علل ثلاثة فقط من التعاليل الأربعة الآتية :

(1): فشل معاهدة 1936 بين سورية وفرنسا

(2): قيام الثورة السورية الكبرى 1925.

(3): قصف فرنسا لدمشق 1945.

(4): انعقاد المؤتمر السوري العام 1919.

السؤال الثاني: أجب عن أربعة أسئلة فقط من الأسئلة الخمسة الآتية: 120 (لكل سؤال 30 درجة)

(1): ما مضمون اتفاق مؤتمر الجزيرة الخضراء عام: 1906 بين المغرب والدول الاستعمارية ..؟

(2): قارن بين موقف الشعب السوري من معاهدة 1936 وموقف البرلمان الفرنسي.

(3): أذكر أهم الاتجاهات السياسية في الجزائر في فترة ما بين الحربين العالميتين ..؟

(4): علل إطلاق الشعب السوري اسم الوزارة الدفاعية على وزارة الحربية ؟

(5): كيف استطاع السوريون إجبار فرنسا على توقيع معاهدة 1936 ..؟

السؤال الثالث: اقرأ النص الآتي ثم أجب : (40 درجة)

أعلن السوريون في المؤتمر السوري العام أن سورية ملكية دستورية مستقلة استقلالاً تاماً بحدودها الطبيعية.

1. عدد مقررات مؤتمر سان ريمو 1920م ..؟

2. ما هي بنود إنذار غورو التي أرسلها للملك فيصل عام: 1920م .. ؟

= انتهت أسئلة مادة التاريخ، يتبع خلف الورقة أسئلة مادة الجغرافية =

ثانياً: الجغرافية : 300 درجة النموذج الثاني (2)

السؤال الأول: اختر الإجابة الصحيحة (لسته فقط) من الأسئلة السبعة وانقلها إلى ورقة إجابتك : (60 درجة)

1. يحد الوطن العربي من جهة الشمال جبال طوروس و :
(أ) المحيط الأطلسي (ب) البحر المتوسط (ج) بحر العرب (د) الخليج العربي.
2. المضيق الذي يصل بين البحر الأحمر و بحر العرب هو مضيق :
(أ) هرمز (ب) جبل طارق (ج) باب المندب (د) تيران.
3. تقع سورية بالنسبة لقارة آسيا في الجهة :
(أ) الشمالية الشرقية (ب) الجنوبية الغربية (ج) الشمالية الغربية (د) الوسطى.
4. النهر الذي يغذي مدينة دمشق ويصب في منخفض العتبية هو :
(أ) نهر الأعوج (ب) نهر بردى (ج) نهر السن (د) نهر اليرموك.
5. المحصول الذي يلقب بـ "الذهب الأبيض" في سورية نظراً لأهميته الاقتصادية هو :
(أ) القمح (ب) الزيتون (ج) القطن (د) الشمندر السكري.
6. تحتل المملكة المغربية المرتبة الأولى عربياً في إنتاج معدن :
(أ) الحديد (ب) النحاس (ج) المنجنيز (د) الزنك.
7. موقع سياحي يشتهر بوجود النواعير التاريخية هو مدينة :
(أ) دير الزور (ب) الرقة (ج) حماة (د) إدلب.

السؤال الثاني: ضع كلمة (صح) أو (خطأ) جانب العبارات الآتية : (30 درجة)

- (1) يتميز المناخ المتوسطي في سورية بصيف حار جاف وشتاء دافئ ماطر . ()
- (2) تقتصر الثروات الباطنية في سورية على النفط والغاز فقط. ()
- (3) يعد القطاع الزراعي في سورية من الركائز الأساسية للأمن الغذائي الوطني. ()
- (4) تساهم السياحة العلاجية في سورية في جذب الزوار بفضل الينابيع الكبريتية. ()

السؤال الثالث: فسر ثلاثاً فقط من العبارات الآتية تفسيراً علمياً دقيقاً (30 درجة)

- (1) تناقص أعداد البدو في البادية العربية في السنوات الأخيرة.
- (2) الأهمية الاقتصادية لمحصول الشمندر السكري.
- (3) تركيز السكان في المناطق الساحلية والسهول الفيضية.
- (4) ضيق الرصيف القاري قبالة السواحل السورية.

السؤال الرابع: أكمل خريطة المفاهيم الآتية : (20 درجة)

المقومات السياحية في سورية:

- (أ) سياحة ثقافية مثل (ب) سياحة جمالية مثل (ج) سياحة دينية مثل.....

السؤال الخامس: أجب عن أربعة فقط من الأسئلة الآتية: (80 درجة)

- 1 ماذا ينتج عن ظاهرة الانجراف المائي والريحي للتربة في المناطق الجافة؟
- 2 استنتج فوائد استخدام الغاز الطبيعي كبديل لمصادر الطاقة التقليدية في الصناعة.
- 3 قارن بين مصفاة حمص ومصفاة باتياس من حيث الموقع الجغرافي.
- 4 ما العوامل البشرية التي أدت إلى تطور الصناعة النسيجية في مدينة حلب؟
- 5 ما مقومات الجذب السياحي في جزيرة أرواد السورية؟

السؤال السادس: حلل النص الآتي، ثم أجب عن الأسئلة الآتية: (30 درجة)

" يعد الفوسفات من أهم الثروات الباطنية في سورية، حيث تستخرج الخامات من مناجم خنيفس والشرقية، وتستخدم في صناعة الأسمدة لرفع كفاءة الإنتاج الزراعي."

- 1 حدد من النص أهمية الفوسفات في قطاع الصناعة التحويلية.
- 2 ما الرابط بين توافر الفوسفات وتطور القطاع الزراعي؟
- 3 استنتج من النص مواقع تركيز خامات الفوسفات في سورية.
- 4 ما العوامل التي تجعل الفوسفات مادة استراتيجية للتصدير؟

السؤال السابع: أرسم خريطة سورية بحدودها البرية والبحرية، وثبت عليها مع التسمية ما يلي : (50 درجة)

مجرى نهر العاصي. - موقع مدينة حلب. - حقل غاز جبسة. - السلسلة الجبلية الساحلية.

= انتهت الأسئلة =

تمنياتى لجميع أبنائى وبناتى الطلبة على امتداد وطننا العظيم سورية بالنجاح، الأستاذ عبد القادر منير



امتحان شهادة التعليم الأساسي دورة 2026م. مادة الاجتماعيات

أولاً: التاريخ 300 درجة : النموذج الثالث (3)

السؤال الأول أجب عن الأسئلة الآتية: 140 درجة (الأول 30، الثاني 30، الثالث 20، الرابع 60)

1: اختر الإجابة الصحيحة، وانقلها إلى ورقة إجابتك :

أول ثورة فلسطينية كبرى ضد الاستيطان والاعتداء على المقدسات هي:

أ: يافا ب: البراق ج: القسام د: الكرامة

صدر قرار التقسيم رقم 181 في تشرين الثاني عام:

أ: 1945م ب: 1946م ج: 1947م د: 1948م

القائد العربي الذي استشهد في (أحراش يعبد) هو:

أ: عبد القادر الحسيني ب: عز الدين القسام ج: يوسف العظمة د: عمر المختار

2: ضع كلمة (صح) أو (خطأ) جانب العبارات الآتية :

(أ): وعد بلفور يفتقر للشرعية القانونية فمن لا يملك أعطي من لا يستحق !! ()

(ب): استهدفت ثورة البراق الوجود العسكري البريطاني دون المساس بالمشروع الصهيوني ()

(ج): اتسمت قرارات الأمم المتحدة بازدواجية المعايير بين الحق الفلسطيني والواقع الاستعماري ()

3: رتب الأحداث التاريخية حسب تسلسلها الزمني مبتدئاً بالأقدم :

إ وعد بلفور | حرب 1973م. (تشرين) | ثورة البراق | قرار التقسيم | الثورة الفلسطينية الكبرى

4: علل ثلاثة فقط من التعاليل الأربعة الآتية :

(1): صدور الكتاب الأبيض الثالث 1939.

(2): فشل العرب في منع تنفيذ قرار التقسيم 1948.

(3): أهمية معركة الكرامة 1968.

(4): رفض العرب لوعد بلفور المشؤوم .

السؤال الثاني: أجب عن أربعة أسئلة فقط من الأسئلة الخمسة الآتية: 120 (لكل سؤال 30 درجة)

(1): عدد مؤسسات الصهيونية التي دعمت الاستيطان.

(2): قارن بين الكتاب الأبيض الأول والثالث من حيث المضمون.

(3): ما مضمون قرار 242 بخصوص القضية الفلسطينية ..؟

(4): ما مطالب الشعب الفلسطيني في ثورة 1936؟

(5): كيف فرضت بريطانيا الانتداب في مؤتمر سان ريمو؟

السؤال الثالث: اقرأ النص الآتي ثم أجب : (40 درجة)

1. وازن بين الثورات الفلسطينية الآتية من حيث: الأسباب والنتائج .

الثورة	الأسباب	النتائج
يافا		
البراق		
الفلسطينية الكبرى		

2. ما توصيات لجنة بيل بشأن قضية فلسطين عام 1937م

= انتهت أسئلة مادة التاريخ، يتبع خلف الورقة أسئلة مادة الجغرافية =

ثانياً: الجغرافية : 300 درجة النموذج الثالث (3)

السؤال الأول: اختر الإجابة الصحيحة (لسته فقط) من الأسئلة السبعة وانقلها إلى ورقة إجابتك : (60 درجة)

1. المسطح المائي الذي يحد الوطن العربي من جهة الغرب هو :
(أ) المحيط الهندي (ب) الخليج العربي (ج) المحيط الأطلسي (د) البحر الأحمر.
2. تتحكم سورية بممر داخلي هام هو :
(أ) مضيق هرمز (ب) مضيق جبل طارق (ج) ممرات برية دولية (د) مضيق باب المندب.
3. جبال لبنان الشرقية وجبل الشيخ تشكل الحدود الغربية لسورية مع :
(أ) الأردن (ب) العراق (ج) لبنان (د) فلسطين.
4. ينتهي مسار نهر الفرات في الأراضي السورية عند مدينة :
(أ) جرابلس (ب) الرقة (ج) البوكمال (د) دير الزور.
5. يُعتبر الزيتون من المحاصيل التي تنتشر زراعتها بكثافة في محافظة :
(أ) الحسكة (ب) إدلب (ج) دمشق (د) دير الزور.
6. المعدن الذي يستخدم في صناعة هياكل السيارات والأجهزة الدقيقة هو :
(أ) الحديد (ب) الزنك (ج) المنجنيز (د) النحاس.
7. تُصنف "قلعة الحصن" ضمن المواقع السياحية: (أ) العلاجية (ب) الجمالية (ج) الثقافية (د) البيئية.

السؤال الثاني: ضع كلمة (صح) أو (خطأ) جانب العبارات الآتية : (30 درجة)

- (1) الحدود السياسية للوطن العربي رسمها الاستعمار لتجزئة المنطقة وإضعاف قوتها. ()
- (2) التربة في بادية الشام تربة عميقة وغنية بالمواد العضوية. ()
- (3) تعتمد الصناعة الكيماوية في سورية بشكل أساسي على المشتقات النفطية والغاز. ()
- (4) تلعب السكك الحديدية دوراً ثانوياً في نقل البضائع الثقيلة مثل الفوسفات والنفط. ()

السؤال الثالث: فسّر ثلاثاً فقط من العبارات الآتية تفسيراً علمياً دقيقاً (30 درجة)

- (1) غنى الوطن العربي بالثروات الباطنية المتنوعة.
- (2) ضرورة الاتجاه نحو الزراعة المكثفة في سورية.
- (3) انتشار الغابات في المرتفعات الجبلية الساحلية.
- (4) تطور قطاع السياحة في سورية

السؤال الرابع: أكمل خريطة المفاهيم الآتية : (20 درجة)

من تقسيمات الأقاليم الجغرافية في الوطن العربي:

- (أ) إقليم بلاد الشام (ب) إقليم (ج) إقليم (د) إقليم

السؤال الخامس: أجب عن أربعة فقط من الأسئلة الآتية: (80 درجة)

- 1) ماذا ينتج عن الهجرة الوافدة إلى دول الخليج العربي؟
- 2) استنتج العلاقة بين المناخ وتوزيع الغطاء النباتي في سورية.
- 3) صنّف الصناعات في سورية إلى استخراجية وتحويلية (مع ذكر مثال لكل نوع).
- 4) ما مقومات نجاح تجارة العبور (الترانزيت) عبر الأراضي السورية؟
- 5) قارن بين نهر السن ونهر بردى من حيث طبيعة المياه (عذبة/معدنية) والاستخدام.

السؤال السادس: حلّ النصّ الآتي، ثمّ أجب عن الأسئلة الآتية: (30 درجة)

" تعدّ أبجدية أوغاريت في سورية أول محاولة لتنظيم الكتابة في التاريخ، مما يعكس عبقرية الإنسان السوري ودوره في بناء الحضارة الإنسانية العالمية."

- 1) استنتج من النصّ المساهمة الحضارية الكبرى لسورية.
- 2) حدد القيمة التاريخية لمدينة أوغاريت.
- 3) كيف يمكن استثمار هذه المعلومة في دعم السياحة الثقافية؟
- 4) ما العوامل التي ساعدت الإنسان السوري القديم على الإبداع الحضاري؟

السؤال السابع: أرسم خريطة سورية بحدودها البرية والبحرية، وثبّت عليها مع التسمية ما يلي : (50 درجة)

مجرى نهر بردى. - موقع مدينة اللاذقية. - حقل فوسفات خنيفس. - جبل الشيخ.

= انتهت الأسئلة =

تمنياتي لجميع أبنائي وبناتي الطلبة على امتداد وطننا العظيم سورية بالنجاح، الأستاذ عبد القادر منير



امتحان شهادة التعليم الأساسي دورة 2026م. مادة الاجتماعيات

أولاً: التاريخ 300 درجة : النموذج الرابع (4)

السؤال الأول أجب عن الأسئلة الآتية: 140 درجة (الأول 30، الثاني 30، الثالث 20، الرابع 60)

1: اختر الإجابة الصحيحة، وانقلها إلى ورقة إجابتك :

- اندلعت ثورة العشرين الكبرى في العراق في عهد:
أ: الحكم العثماني ب: الانتداب البريطاني ج: الاستقلال د: الجمهورية
- نال العراق استقلالاً اسمياً ودخل عصبة الأمم عام:
أ: 1921م ب: 1930م ج: 1932م د: 1958م
- تم تنصيب الأمير عبد الله ملكاً على الأردن بعد مؤتمر:
أ: القدس ب: أم قيس ج: سان ريمو د: القاهرة
- انتهى النظام الملكي في العراق عام 1958م بقيادة:
أ: رشيد عالي الكيلاني ب: عبد الكريم قاسم ج: نوري السعيد د: فيصل الثاني

2: ضع كلمة (صح) أو (خطأ) جانب العبارات الآتية :

- (أ): معاهدة 1930 في العراق كانت صكاً للتحرر التام من النفوذ العسكري البريطاني () .
(ب): ثورة العشرين في العراق أثبتت أن المقاومة الشعبية قادرة على ردع العدوان () .
(ج): تأسيس إمارة شرق الأردن كان جزءاً من سياسة بريطانيا لتجزئة الهلال الخصيب () .

3: رتب الأحداث التاريخية حسب تسلسلها الزمني مبتدئاً بالأقدم :

ثورة العشرين | دخول عصبة الأمم | معاهدة 1930 | ثورة 14 تموز | تأسيس الحكومة المؤقتة

4: علل ثلاثة فقط من التعليل الأربعة الآتية :

- (1): قيام ثورة العشرين بالعراق !!
(2): اعتبار معاهدة 1930 في العراق استقلالاً صورياً ..?
(3): فشل حلف بغداد الاستعماري الذي طُرح عام 1955 !!
(4): أهمية موقع العراق الاستراتيجي لبريطانيا !!

السؤال الثاني: أجب عن أربعة أسئلة فقط من الأسئلة الخمسة الآتية: 120 (لكل سؤال 30 درجة)

- (1): عدد بنود معاهدة 1930 بالعراق.
(2): قارن بين حكم الملك فيصل في سورية وحكمه في العراق.
(3): ما مضمون معاهدة 1928 بالأردن ؟
(4): ما مطالب العراقيين في ثورة 1941؟
(5): كيف استطاعت بريطانيا قمع ثورة العشرين عسكرياً؟

السؤال الثالث: اقرأ النص الآتي ثم أجب : (40 درجة)

"أعلنت بريطانيا أنها جاءت للعراق مُحررة لا فاتحة، لكنها سرعان ما فرضت الانتداب في مؤتمر سان ريمو".

1. ما أسباب ثورة عام 1920م. العراقية ضد بريطانيا ..?
2. ما توصيات عصبة الأمم المتحدة بشأن قضية الموصل عام 1924م ..?
3. عدد اثنين فقط من السياسة التي انتهجتها إيران بعد احتلالها إقليم الأحواز العربي عام 1952م.

= انتهت أسئلة مادة التاريخ، يتبع خلف الورقة أسئلة مادة الجغرافية =

ثانياً: الجغرافية : 300 درجة النموذج الرابع (4)

السؤال الأول: اختر الإجابة الصحيحة (لسته فقط) من الأسئلة السبعة وانقلها إلى ورقة إجابتك : (60 درجة)

1. يمر مدار السرطان في الوطن العربي من الجزء :
(أ) الشمالي (ب) الجنوبي (ج) الشرقي (د) الغربي.
2. تقع مدينة دمشق بالنسبة لسورية في الجهة :
(أ) الشمالية (ب) الجنوبية (ج) الشرقية (د) الغربية.
3. النهر الساحلي الذي يُستخدم لتوليد الطاقة الكهربائية وتأمين مياه الشرب للذقية هو :
(أ) نهر السن (ب) نهر الكبير الشمالي (ج) نهر بانياس (د) نهر الصنوبر.
4. تدخل الأسمدة الفوسفاتية ضمن مدخلات الإنتاج في قطاع :
(أ) التجارة (ب) النقل (ج) الزراعة (د) السياحة.
5. المادة الخام التي تستخرج من منطقة " جبلة " في سورية هي :
(أ) الحديد (ب) الملح (ج) الكبريت (د) الفوسفات.
6. المدينة السورية التي تشتهر بصناعة الجرارات والمحركات هي :
(أ) حمص (ب) حماة (ج) حلب (د) اللاذقية.
7. موقع سياحي جمالي يطل على البحر المتوسط ويتميز بالغابات الكثيفة : (أ) تدمر (ب) كسب (ج) بصرى (د) معلولا.

السؤال الثاني: ضع كلمة (صح) أو (خطأ) جانب العبارات الآتية : (30 درجة)

- (1) يتميز الوطن العربي بموقع استراتيجي يتحكم بطرق التجارة العالمية. ()
- (2) التربة الفيضية (الالحقية) توجد في مناطق البادية السورية. ()
- (3) يعد القطن السوري من أجود أنواع القطن في العالم وينافس عالمياً. ()
- (4) تساهم الموانئ السورية في تقديم خدمات الترانزيت للدول المجاورة. ()

السؤال الثالث: فسّر ثلاثاً فقط من العبارات الآتية تفسيراً علمياً دقيقاً (30 درجة)

- (1) أهمية وجود السدود على مجرى نهر الفرات في سورية.
- (2) تركّز صناعة الإسمنت في مناطق توفر الحجر الكلسي والجبس.
- (3) انخفاض معدلات الوفيات في الوطن العربي في العصر الحديث.
- (4) تنوع المواقع الأثرية في مدينة تدمر.

السؤال الرابع: أكمل خريطة المفاهيم الآتية : (20 درجة)

المعادن اللافلزية (الثروات الباطنية) في سورية:

- (أ) النفط والغاز (ب) (ج) (د)

السؤال الخامس: أجب عن أربعة فقط من الأسئلة الآتية: (80 درجة)

1. ماذا ينتج عن نقص الاستثمار في قطاع الصناعات التحويلية؟
2. اقترح حلولاً لمواجهة زحف الرمال نحو المناطق الزراعية (التصحّر).
3. قارن بين البيئة المتوسطة وبيئة الاستبس من حيث الغطاء النباتي.
4. استنتج أهمية المطارات الدولية في دعم حركة السياحة والاقتصاد.
5. ما مقومات السياحة الدينية في ريف دمشق؟

السؤال السادس: حلّل النصّ الآتي، ثمّ أجب عن الأسئلة الآتية: (30 درجة)

"تعتمد الجمهورية العربية السورية في اقتصادها على تنوع الموارد، حيث يشكل النفط والغاز مصدراً للطاقة والقطع الأجنبي، بينما توفر الزراعة المواد الأولية للصناعة."

1. استنتج من النص العلاقة التكاملية بين الزراعة والصناعة.
2. حدد دور الثروة النفطية في دعم ميزانية الدولة.
3. ما المشكلات التي قد تنتج عن الاعتماد الكلي على مورد واحد (النفط)؟
4. صنّف الموارد المذكورة في النص (متجددة وغير متجددة).

السؤال السابع: أرسم خريطة سورية بحدودها البرية والبحرية، وثبّت عليها مع التسمية ما يلي : (50 درجة)

مجرى نهر اليرموك. - موقع مدينة حمص. - حقل نفط كراتشوك. -- هضبة الجولان المحتلة.

= انتهت الأسئلة =

تمنياتي لجميع أبنائي وبناتي الطلبة على امتداد وطننا العظيم سورية بالنجاح، الأستاذ عبد القادر منير



امتحان شهادة التعليم الأساسي دورة 2026م. مادة الاجتماعيات

أولاً: التاريخ 300 درجة : النموذج (5)

السؤال الأول أجب عن الأسئلة الآتية: 140 درجة (الأول 30، الثاني 30، الثالث 20، الرابع 60)

1: اختر الإجابة الصحيحة، وانقلها إلى ورقة إجابتك :

زعيم ثورة 1919 الذي نُفي إلى مالطا هو:

أ: مصطفى كامل ب: عبد القادر منير ج: سعد زغلول د: أحمد عرابي

تم تأمين قناة السويس عام 1956م في عهد:

أ: الملك فاروق ب: محمد نجيب ج: جمال عبد الناصر د: أنور السادات

الدول التي شاركت في العدوان الثلاثي على مصر هي بريطانيا وفرنسا و

أ: إيطاليا ب: إسرائيل ج: أمريكا د: ألمانيا

نالت السودان استقلالها عن الحكم الثنائي عام:

أ: 1952م ب: 1954م ج: 1956م د: 1958م

2: ضع كلمة (صح) أو (خطأ) جانب العبارات الآتية :

(أ): تصريح 28 شباط حوّل الاحتلال البريطاني لمصر إلى تحالف متكافئ بين دولتين مُستقلتين () .

(ب): ثورة 1952 غيرت وجه التاريخ العربي بتحويل مصر من التبعية إلى قيادة حركات التحرّر () .

(ج): التحفظات الأربعة في تصريح 28 شباط أفرغت الاستقلال المصري من مضمونه السيادي () .

3: رتب الأحداث التاريخية حسب تسلسلها الزمني مبتدئاً بالأقدم :

ثورة 1919 | تأمين القناة | ثورة 23 تموز | معاهدة 1936 | تصريح 28 شباط |

4: علل ثلاثة فقط من التعاليل الأربعة الآتية :

(1): قيام ثورة 1919 بمصر.

(2): فشل العدوان الثلاثي على مصر عام 1956.

(3): تمسك بريطانيا بالسودان

(4): إلغاء معاهدة 1936 في مصر عام 1951.

السؤال الثاني: أجب عن أربعة أسئلة فقط من الأسئلة الخمسة الآتية: 120 (لكل سؤال 30 درجة)

(1): عدد أهداف ثورة 23 تموز المصرية (ثلاثة أهداف على الأقل) .

(2): قارن بين تصريح 28 شباط ومعاهدة 1936 بمصر

(3): ما مضمون اتفاقية الجلاء 1954 ..؟

(4): ما مطالب الوفد المصري عام 1919؟

(5): كيف طبقت بريطانيا "قانون المناطق المقفولة" بالسودان؟

السؤال الثالث: اقرأ النص الآتي ثم أجب : (40 درجة)

أصدرت بريطانيا تصريح 28 شباط الذي اعترف بمصر دولة مستقلة مع بقاء أربعة تحفظات تضمن مصالحها

1. ما مضمون تصريح 28 شباط عام: 1922 .؟

2. قارن بين معاهدة عام: 1936م. بين مصر وبريطانيا، ومعاهدة 1936 بين فرنسا وسورية ..؟

= انتهت أسئلة مادة التاريخ، يتبع خلف الورقة أسئلة مادة الجغرافية =

السؤال الأول: اختر الإجابة الصحيحة (لسته فقط) من الأسئلة السبعة وانقلها إلى ورقة إجابتك : (60 درجة)

1. تكتسب الأطماع الاستعمارية في الوطن العربي شرعيتها التاريخية من كونه :
(أ) منطقة معزولة (ب) جسراً يربط بين طرق التجارة (ج) منطقة فقيرة بالموارد (د) منطقة ذات مناخ قاري.
2. العامل الرئيسي المسؤول عن تشكل الحدود السياسية الحالية في الوطن العربي هو :
(أ) التضاريس الطبيعية (ب) التوافق السكاني (ج) المخططات الاستعمارية (د) الاتفاقيات الاقتصادية.
3. الميزة الجغرافية التي تجعل من نهر العاصي نهراً "منفرداً" في اتجاهه هي :
(أ) انحداره من الشمال إلى الجنوب (ب) جريانه بعكس اتجاه معظم أنهار بلاد الشام (ج) منبعه من الأراضي التركية (د) مصبه في منخفض داخلي.
4. التربة التي تتواجد في أحواض الأنهار السورية وتتميز بتجدد خصوبتها سنوياً هي :
(أ) التربة اللحية (ب) التربة المتوسطة (ج) التربة الصحراوية (د) التربة الغدقة.
5. الهدف الأساسي من إنشاء سد الفرات في سورية هو :
(أ) تشجيع السياحة الجبلية (ب) تنظيم الري وتوليد الطاقة (ج) منع الملاحه النهريه (د) زيادة ملوحة التربة.
6. يُصنف استخراج الفوسفات من مناجم تدمر ضمن قطاع الصناعات :
(أ) التحويلية (ب) الاستخراجية (ج) النسيجية (د) الغذائية.
7. تُعد مدينة بصرى الشام موقعاً سياحياً يغلب عليها الطابع : (أ) الجمالي (ب) العلاجي (ج) التاريخي (د) البيئي.

السؤال الثاني: ضع كلمة (صح) أو (خطأ) جانب العبارات الآتية : (30 درجة)

- (1): تتطابق الحدود السياسية الحالية للوطن العربي مع العوائق الطبيعية بشكل كامل. ()
- (2): تنبع جميع الأنهار التي تجري في الأراضي السورية من داخل سورية. ()
- (3): يؤدي التكتيف الزراعي دون استخدام المخصبات المدروسة إلى إجهاد التربة وتراجع إنتاجيتها. ()
- (4): تقتصر أهمية الموقع الفلكي للوطن العربي على تنوع المحاصيل الزراعية فقط. ()

السؤال الثالث: فسّر ثلاثاً فقط من العبارات الآتية تفسيراً علمياً دقيقاً (30 درجة)

- (1): تركز الصناعات الثقيلة (كقضبان الحديد) في مدينة حماة.
- (2): تزايد الطلب على مادة الإسمنت في سورية في المرحلة الراهنة.
- (3): تباين الكثافة السكانية بين المنطقة الساحلية والمنطقة الشرقية في سورية.
- (4): الأهمية الاستراتيجية لمرور أنابيب النفط العربي عبر الأراضي السورية.

السؤال الرابع: أكمل خريطة المفاهيم الآتية : (20 درجة)

تصنيف الصادرات السورية حسب المنشأ:

- (أ) صادرات زراعية مثل (ب) صادرات باطنية مثل (ج) صادرات صناعية تحويلية مثل

السؤال الخامس: أجب عن أربعة فقط من الأسئلة الآتية: (80 درجة)

1. ماذا ينتج عن وقوع معظم مساحة الوطن العربي في النطاق الجاف وشبه الجاف؟
2. اقترح حلاً جغرافياً للحد من ظاهرة الزحف العمراني على حساب الأراضي الزراعية في غوطة دمشق.
3. قارن بين مصفاة حمص ومصفاة بانياس من حيث (طريقة استقبال النفط الخام).
4. استنتج العلاقة بين المناخ المتوسطي وانتشار الغابات في الجبال الساحلية.
5. ما العوامل التي ساهمت في جعل مدينة حلب عاصمة للصناعة النسيجية؟

السؤال السادس: حلّل النصّ الآتي، ثمّ أجب عن الأسئلة الآتية: (30 درجة)

" تمتلك سورية شبكة مواصلات متنوعة تربط بين الموانئ البحرية والداخل السوري، مما يعزّز دورها كمحطة ترانزيت عالمية لنقل البضائع والركاب بين القارات."

1. استنتج من النص المقوم الجغرافي الذي تستند إليه تجارة الترانزيت في سورية.
2. حدد المشكلة التي قد تعيق النقل السككي للبضائع الثقيلة، واقترح حلاً لتطويرها.
3. ما أثر تنوع وسائل النقل على تكلفة السلع المصدرة؟
4. صنّف دور الموانئ السورية الوارد في النص (خدمي أم إنتاجي).

السؤال السابع: أرسّم خريطة سورية بحدودها البرية والبحرية، وثبت عليها مع التسمية ما يلي : (50 درجة)

مجرى نهر العاصي. - موقع مدينة اللاذقية. - حقل غاز الشاعر. - منطقة انتشار التربة (المتوسطة الحمراء).

= انتهت الأسئلة =

تمنياتي لجميع أبنائى وبناتى الطلبة على امتداد وطننا العظيم سورية بالنجاح، الأستاذ عبد القادر منير



امتحان شهادة التعليم الأساسي دورة 2026م. مادة الاجتماعيات

أولاً: التاريخ 300 درجة : النموذج السادس (6)

السؤال الأول أجب عن الأسئلة الآتية: 140 درجة (الأول 30، الثاني 30، الثالث 20، الرابع 60)

1: اختر الإجابة الصحيحة، وانقلها إلى ورقة إجابتك :

1: فرضت فرنسا حمايتها على تونس عام 1881م بموجب معاهدة:

أ: لوزان ب: باردو ج: إيفيان د: فاس

2: القائد الذي أسس الدولة الجزائرية الحديثة وقاوم فرنسا هو:

أ: عمر المختار ب: عبد القادر الجزائري ج: الحبيب بورقيبة د: علال الفاسي

3: استقلت تونس عام 1956م بعد نضال قاده الحزب الحر:

أ: الدستوري ب: الوطني ج: البعث د: الوفد

4: انتهت الثورة الجزائرية الكبرى عام 1962م باتفاقية:

أ: باريس ب: لندن ج: إيفيان د: جنيف

2: ضع كلمة (صح) أو (خطأ) جانب العبارات الآتية :

(أ): كانت حادثة المروحة سبباً كافياً وقانونياً في العرف الدولي لتبرير احتلال الجزائر.

(ب): اعتمدت فرنسا في الجزائر سياسة "الأرض المحروقة" لكسر الحاضنة الشعبية للثوار

(ج): السياسة الاستيطانية في تونس كانت مطابقة تماماً في حداثتها ومصادرتها للأراضي لما حدث في الجزائر.

3: رتب الأحداث التاريخية حسب تسلسلها الزمني مبتدئاً بالأقدم :

حادثة المروحة | اتفاقية إيفيان | الثورة الجزائرية الكبرى | مقاومة الأمير عبد القادر | قانون الفرنسية |

4: علل ثلاثة فقط من التعاليل الأربعة الآتية :

(1): احتلال فرنسا للجزائر 1830.

(2): فشل المقاومة السياسية بالجزائر قبل 1954.

(3): فرض فرنسا للحماية على تونس.

(4): أهمية الثورة الجزائرية لحركات التحرر.

السؤال الثاني: أجب عن أربعة أسئلة فقط من الأسئلة الخمسة الآتية: 120 (لكل سؤال 30 درجة)

(1): عدد وسائل فرنسا لتنفيذ سياسة "الفرنسة".

(2): قارن بين معاهدة باردو واتفاقية إيفيان.

(3): ما مضمون قانون "الأهالي" بالجزائر ..؟

(4): ما مطالب الحزب الحر الدستوري بتونس ..؟

(5): كيف استطاعت الجزائر نيل اعتراف فرنسا بالاستقلال ..؟

السؤال الثالث: اقرأ النص الآتي ثم أجب : (40 درجة)

" تذرعت فرنسا في الجزائر باهانة قنصلها، وفي تونس بملاحقة قبائل الخمير، لتخفي مطامعها الحقيقية ."

1. برهن استخدام فرنسا الأحداث العرضية ثم عدد ثلاثة أفكار من سياستها في الجزائر .

2. ما هي الذريعة المعلنة التي استخدمتها فرنسا لاحتلال تونس عام 1881 ..؟

= انتهت أسئلة مادة التاريخ، يتبع خلف الورقة أسئلة مادة الجغرافية =

ثانياً: الجغرافية : 300 درجة النموذج السادس (6)

السؤال الأول: اختر الإجابة الصحيحة (لستة فقط) من الأسئلة السبعة وانقلها إلى ورقة إجابتك : (60 درجة)

1. يكتسب الوطن العربي صفة "الوسطية" جغرافياً لأنه :
(أ) يقع في نصف الكرة الجنوبي (ب) يتوسط قارات العالم (ج) يبتعد عن البحار (د) يقع بالكامل في قارة أفريقيا.
2. تبرز أهمية مضيق هرمز في كونه الممر الرئيسي لتصدير :
(أ) الفوسفات المغربي (ب) القطن السوري (ج) النفط الخليجي (د) البن اليمني.
3. تتصف الأنهار الساحلية في سورية بكونها :
(أ) طويلة المجرى ودائمة الجريان (ب) قصيرة المجرى وسريعة الانحدار (ج) بطيئة الجريان (د) موسمية الجريان.
4. النباتات الطبيعية التي تنمو في منطقة "الاستبس" السورية تتميز بقدرتها على :
(أ) تحمل الملوحة العالية (ب) العيش في المياه الغدقة (ج) تحمل الجفاف لفترات قصيرة (د) النمو في الثلوج.
5. المحصول الزراعي الذي تتركز زراعته في دير الزور والحسكة ويُعد مصدراً للزيوت والأعلاف هو :
(أ) القمح (ب) الشمندر السكري (ج) القطن (د) التبغ.
6. يُستخدم الكبريت المستخرج في الوطن العربي بشكل أساسي في :
(أ) صناعة الورق والمنظفات (ب) توليد الطاقة النووية (ج) رصف الطرق (د) صناعة الحلي.
7. تُعد "نواعير حماة" مثلاً حياً على السياحة التي تدمج بين : (أ) الجمال الطبيعي والهندسة التاريخية (ب) العلاج الكبريتي والتسوق (ج) التدريب الرياضي والمغامرة (د) الغوص البحري والآثار.

السؤال الثاني: ضع كلمة (صح) أو (خطأ) جانب العبارات الآتية : (30 درجة)

- (1): تزداد كمية الأمطار في سورية كلما اتجهنا من الغرب نحو الشرق والشمال الشرقي. ()
- (2): تعتبر الصناعة الاستخراجية هي المرحلة التي يتم فيها تحويل المادة الخام إلى منتج نهائي. ()
- (3): تعد الهجرة الوافدة إلى بعض الدول العربية سبباً في خلل التركيب النوعي للسكان ()
- (4): تلعب المحميات الطبيعية في سورية دوراً هاماً في الحفاظ على التنوع الحيوي. ()

السؤال الثالث: فسّر ثلاثاً فقط من العبارات الآتية تفسيراً علمياً دقيقاً (30 درجة)

- (1): ضيق السهل الساحلي السوري في بعض المناطق واتساعه في مناطق أخرى.
- (2): أهمية تنوع وسائل النقل (بري، بحري، جوي) لقوة الدولة اقتصادياً.
- (3): تركّز صناعة السكر في مناطق زراعة الشمندر السكري في الغاب وحمص.
- (4): تفرد مدينة تدمر بمكانة سياحية عالمية.

السؤال الرابع: أكمل خريطة المفاهيم الآتية : (20 درجة)

العوامل البشرية المؤثرة في توزيع السكان بالوطن العربي:

- (أ) النشاط الاقتصادي (ب) (ج) (د)

السؤال الخامس: أجب عن أربعة فقط من الأسئلة الآتية: (80 درجة)

1. قارن بين الهجرة الداخلية والهجرة الخارجية من حيث (النتائج على قوة العمل في الريف).
2. استنتج أثر تنوع التضاريس في سورية على التنوع المناخي والنباتي.
3. ماذا ينتج عن الاعتماد المفرط على الموارد الطبيعية غير المتجددة؟.
4. اقترح حلولاً تقنية لتقليل هدر المياه في قطاع الزراعة السوري.

السؤال السادس: حلّل النصّ الآتي، ثمّ أجب عن الأسئلة الآتية: (30 درجة)

" يُعدّ التكامل الاقتصادي العربي ضرورة لمواجهة التكتلات العالمية، خاصة في ظل امتلاك العرب لموارد طاقة هائلة ومساحات زراعية واسعة."

1. حدّد من النصّ مقومين من مقومات التكامل الاقتصادي العربي.
2. استنتج المشكلة التي تحول دون تحقيق هذا التكامل في الوقت الراهن (بناءً على معلوماتك عن الحدود).
3. ما الفائدة التي ستعود على سورية من تحقيق التكامل الزراعي العربي؟.
4. صنّف الموارد المذكورة في النصّ إلى (باطنية وسطحية).

السؤال السابع: أرسم خريطة سورية بحدودها البرية والبحرية، وثبّت عليها مع التسمية ما يلي : (50 درجة)

مجرى نهر بردى. - موقع العاصمة دمشق. - حقل نفط كراتشوك. - انتشار التربة اللحية (الفيضية).

= انتهت الأسئلة =

تمنيتي لجميع أبنائي وبناتي الطلبة على امتداد وطننا العظيم سورية بالنجاح، الأستاذ عبد القادر منير



امتحان شهادة التعليم الأساسي دورة 2026م. مادة الاجتماعيات

أولاً: التاريخ 300 درجة : النموذج السابع (7)

السؤال الأول أجب عن الأسئلة الآتية: 140 درجة (الأول 30، الثاني 30، الثالث 20، الرابع 60)

1: اختر الإجابة الصحيحة، وانقلها إلى ورقة إجابتك :

- تنازلت الدولة العثمانية عن ليبيا لإيطاليا بموجب معاهدة:
أ: لوزان ب: أوشي لوزان ج: باردو د: لندن
انتصر محمد بن عبد الكريم الخطابي على الإسبان في معركة:
أ: ميسلون ب: أنوال ج: القادسية د: بورسعيد
انتهج عمر المختار ضد الطليان أسلوباً جديدة للمقاومة هو حرب :
أ: الاضطدام المباشر ب: الاغتيالات ج: العصابات د: العبوات الناسفة
تم تقسيم المغرب عام 1912م إلى مناطق نفوذ فرنسية وإسبانية و:
أ: إيطالية ب: دولية ج: بريطانية د: أمريكية

2: ضع كلمة (صح) أو (خطأ) جانب العبارات الآتية :

- (أ): معاهدة "أوشي لوزان" كانت دليلاً على تخلي الخلافة العثمانية عن مسؤولياتها تجاه الولايات العربية.
(ب): نجاح إيطاليا في إعدام عمر المختار أدى فوراً إلى توقف روح المقاومة في الشعب الليبي.
(ج): ثورة الريف في المغرب كانت نموذجاً مبكراً لحرب العصابات المنظمة ضد الجيوش الاستعمارية الحديثة

3: رتب الأحداث التاريخية حسب تسلسلها الزمني مبتدئاً بالأقدم :

- | معاهدة أوشي لوزان | استقلال ليبيا | إعدام عمر المختار | الغزو الإيطالي | قيام الجمهورية الطرابلسية |
4: علل ثلاثة فقط من التعليل الأربعة الآتية :

- (1): أطماع إيطاليا في ليبيا.
(2): قيام ثورة الريف بالمغرب.
(3): نفي الملك محمد الخامس 1953.
(4): فشل إيطاليا في القضاء على عمر المختار لسنوات طويلة.

السؤال الثاني: أجب عن أربعة أسئلة فقط من الأسئلة الخمسة الآتية: 120 (لكل سؤال 30 درجة)

- (1): عدد مناطق نفوذ المغرب عام 1912.
(2): قارن بين مقاومة عمر المختار ومقاومة الخطابي.
(3): ما مضمون معاهدة فاس؟
(4): ما مطالب الحركة الوطنية بالمغرب عام 1944؟
(5): كيف مهدت إيطاليا لاحتلال ليبيا اقتصادياً؟

السؤال الثالث: اقرأ النص الآتي ثم أجب : (40 درجة)

- قاد عمر المختار المقاومة في ليبيا معتمداً على حرب العصابات، وقاد الخطابي ثورة منظمة في الريف المغربي
1. صنّف في جدول السياسة الاستعمارية التي اتبعتها إيطاليا في المغرب من الناحيتين اقتصادياً وثقافياً
2. اذكر اسم القائد الذي انتصر على الإسبان في معركة أنوال.

= انتهت أسئلة مادة التاريخ، يتبع خلف الورقة أسئلة مادة الجغرافية =

السؤال الأول: اختر الإجابة الصحيحة (لسته فقط) من الأسئلة السبعة وانقلها إلى ورقة إجابتك : (60 درجة)

1. الموقع الجغرافي لسورية جعلها تمثل " الرنة " التي تتنفس منها دول :
(أ) شمال أفريقيا (ب) دول الخليج العربي وآسيا الوسطى (ج) جنوب أوروبا (د) الأمريكيتين.
2. الممر المائي العربي الذي تم شقّه بجهود إنسانية لربط بحرين هو :
(أ) مضيق باب المندب (ب) قناة السويس (ج) مضيق جبل طارق (د) مضيق تيران.
3. تُصنّف بحيرة "مسعدة" في الجولان السوري المحتل بأنها بحيرة :
(أ) اصطناعية (ب) بركانية (ج) جليدية (د) شاطئية مالحة.
4. تظهر التربة "الغدقة" في سورية في المناطق التي تعاني من :
(أ) شدة الجفاف (ب) سوء التصريف المائي وارتفاع منسوب المياه الجوفية (ج) شدة الانحدار (د) فقر المواد العضوية.
5. المحصول الذي يُزرع في سورية ويساهم في تأمين مادة الزيت والمنظفات والورق هو :
(أ) الشوفان (ب) القطن (ج) الذرة (د) الفستق الحلبي.
6. يتميز الغاز الطبيعي عن النفط في كونه :
(أ) أكثر تلويناً للبيئة (ب) أقل كلفة في الاستخراج وأكثر حماية للبيئة (ج) مادة صلبة (د) لا يستخدم في المنازل.
7. تُعد مدينة "أفاميا" موقعاً سياحياً يبرز فيه التطور العمراني في العصور :
(أ) القديمة والكلاسيكية (ب) الحديثة جداً (ج) العصر الحجري (د) عصر ما قبل التاريخ.

السؤال الثاني: ضع كلمة (صح) أو (خطأ) جانب العبارات الآتية : (30 درجة)

- (1): تساهم الغابات السورية في تعديل المناخ ومنع انجراف التربة الجبلية. ()
- (2): تتركز معظم الصناعات السورية في مراكز المحافظات لقربها من الأسواق والخدمات. ()
- (3): يعد الوطن العربي مهد الديانات السماوية الثلاث، مما أكسبه أهمية روحية عالمية. ()
- (4): مياه نهر السن في سورية مياه كبريتية غير صالحة للشرب (خطأ - هي مياه عذبة نقية). ()

السؤال الثالث: فسّر ثلاثاً فقط من العبارات الآتية تفسيراً علمياً دقيقاً (30 درجة)

- (1): استثمار مياه الينابيع في سورية لإقامة محطات توليد الطاقة الكهربائية (كما في نهر السن).
- (2): تراجع مساحات الغابات الطبيعية في سورية عبر الزمن .
- (3): الأهمية السياحية لمغارة الضوايات في طرطوس (أو الينابيع المعدنية) .
- (4): اعتبار مدينة حلب عقدة مواصلات تجارية تاريخية.

السؤال الرابع: أكمل خريطة المفاهيم الآتية : (20 درجة)

أنواع السياحة في سورية حسب الهدف:

- (أ) سياحة استجمام وجمال مثل (ب) سياحة علاجية مثل (ج) سياحة تعليمية مثل

السؤال الخامس: أجب عن أربعة فقط من الأسئلة الآتية: (80 درجة)

1. ماذا ينتج عن التوسع في استخدام الطاقة المتجددة (شمسية، رياح) في سورية؟
2. قارن بين ميزات النقل البحري والنقل الجوي من حيث (الحجم والتكلفة).
3. استنتج أثر الاحتلال الصهيوني للجولان على الثروة المائية في سورية.
4. صنّف العوامل التي تؤدي إلى تدهور التربة في المناطق شبه الجافة.
5. ما مقومات السياحة الجمالية في منطقة "كسب"؟

السؤال السادس: حلّل النصّ الآتي، ثمّ أجب عن الأسئلة الآتية: (30 درجة)

" إنّ حماية الثروة النباتية والحيوانية في البادية السورية تتطلب تنظيمًا للرعي وإقامة المحميات، لضمان استدامة الموارد للأجيال القادمة."

1. حدد المشكلة التي يطرحها النص في منطقة البادية.
2. استنتج حلين ورد في النص لمواجهة هذه المشكلة.
3. ما العلاقة بين استدامة الموارد الطبيعية والأمن الغذائي؟
4. صنّف منطقة البادية حسب نوع التربة والمناخ السائد فيها.

السؤال السابع: أرسم خريطة سورية بحدودها البرية والبحرية، وثبّت عليها مع التسمية ما يلي : (50 درجة)

مجرى نهر الفرات - موقع محافظة الرقة - حقل ملح جبولي (أو ملاحات أخرى وردت) - موقع قلعة الحصن.

= انتهت الأسئلة =



امتحان شهادة التعليم الأساسي دورة 2026م. مادة الاجتماعيات

أولاً: التاريخ 300 درجة : النموذج الثامن (8)

السؤال الأول أجب عن الأسئلة الآتية: 140 درجة (الأول 30، الثاني 30، الثالث 20، الرابع 60)

1: اختر الإجابة الصحيحة، وانقلها إلى ورقة إجابتك :

تذرت فرنسا لاحتلال موريتانيا بحجة نشر الأمن وحماية:

أ: التجارة ب: الدين ج: الثقافة د: الحدود
نالت موريتانيا استقلالها عن فرنسا عام:

أ: 1956م ب: 1958م ج: 1960م د: 1962م

الوسيلة الثقافية الأهم التي حافظت على عروبة موريتانيا هي:

أ: المدارس ب: المحاضر ج: الصحف د: الإذاعة

قاد المقاومة الموريتانية ضد الزحف الفرنسي في مطلع القرن 20:

أ: الهبة بن ماء العينين ب: الخطابي ج: عمر المختار د: عبد القادر

2: ضع كلمة (صح) أو (خطأ) جانب العبارات الآتية :

(أ): اتفاقيات "الحماية" البريطانية في الخليج كانت شكلاً من أشكال الشراكة الاقتصادية المتكافئة.

(ب): استهدفت بريطانيا من احتلال عدن منع محمد علي باشا والقوى المنافسة من تهديد طريقها البحري.

(ج): ثورات جنوب اليمن أثبتت أن المد القومي العربي بعد ثورة 1952 وصل إلى أطراف الجزيرة العربية

3: رتب الأحداث التاريخية حسب تسلسلها الزمني مبتدئاً بالأقدم :

احتلال عدن | استقلال اليمن الجنوبي | انسحاب بريطانيا من الخليج | قيام دولة الإمارات | |

4: علل ثلاثة فقط من التعاليل الأربعة الآتية :

(1): احتلال بريطانيا لعدن.

(2): قيام بريطانيا بتنفيذ سياسة "الحماية" بالخليج.

(3): انسحاب بريطانيا من عدن عام 1971.

(4): قيام دولة الإمارات المتحدة.

السؤال الثاني: أجب عن أربعة أسئلة فقط من الأسئلة الخمسة الآتية: 120 (لكل سؤال 30 درجة)

(1): عدد أساليب بريطانيا في السيطرة على مشيخات الخليج.

(2): قارن بين الاستعمار البريطاني في الخليج والفرنسي في المغرب.

(3): ما مضمون اتفاقيات الحماية؟

(4): ما مطالب ثوار جنوب اليمن؟

(5): كيف استطاعت الإمارات العربية المتحدة تحقيق الوحدة؟

السؤال الثالث: أجب عن الأسئلة الآتية : (40 درجة)

1. ما مضمون الاتفاقية التي عقدت بين بريطانيا والأمير مبارك الصباح عام 1899م 60

2. قارن في جدول بين سياسة الاحتلال البريطاني في كل من العراق واليمن الجنوبي بعد احتلالهما 61

= انتهت أسئلة مادة التاريخ، يتبع خلف الورقة أسئلة مادة الجغرافية =

السؤال الأول: اختر الإجابة الصحيحة (لسته فقط) من الأسئلة السبعة وانقلها إلى ورقة إجابتك : (60 درجة)

1. يعود السبب الجيولوجي لتنوع الثروات الباطنية في الوطن العربي إلى :
(أ) صغر المساحة (ب) ثبات التكوينات الجيولوجية (ج) تنوع البنية الجيولوجية وتعدد العصور (د) كثرة الأمطار.
2. تكمن الأهمية الروحية لسورية في كونها احتضنت :
(أ) أول محطة قطار في العالم (ب) أقدم الكنائس والمساجد (ج) أكبر الغابات الاستوائية (د) أعمق المحيطات.
3. نهر "الأعوج" يستمد مياهه بشكل أساسي من :
(أ) هطول الأمطار الصيفية (ب) ثلوج جبل الشيخ (ج) فيضانات نهر الفرات (د) مياه البحر المتوسط.
4. التربة التي تسود في أغلب مساحة سورية وتتميز بقلّة محتواها من المادة العضوية هي :
(أ) التربة اللحية (ب) التربة المتوسطة (ج) التربة الصحراوية (د) التربة الغدقة.
5. المحصول الذي تتركز زراعته في السهول الساحلية ويحتاج إلى رطوبة وحرارة معتدلة هو :
(أ) القمح (ب) الشعير (ج) الحمضيات (د) التبغ.
6. الصناعة التي تساهم في تحويل الفوسفات إلى مادة مغذية للتربة هي صناعة :
(أ) الغزل والنسيج (ب) الأسمدة الكيماوية (ج) حفظ التعلب (د) تكرير النفط.
7. موقع "متحف معرة النعمان" يُعد مقصداً للسياحة : (أ) الثقافية التعليمية (ب) الجمالية (ج) الدينية (د) الرياضية.

السؤال الثاني: ضع كلمة (صح) أو (خطأ) جانب العبارات الآتية : (30 درجة)

- (1): تساهم تجارة "الترانزيت" في تنشيط الخدمات الفندقية والمصرفية في سورية. ()
- (2): يتميز مناخ الوطن العربي بالاعتدال الدائم طوال فصول السنة في كافة أجزائه. ()
- (3): تعتبر الثروة السمكية في سورية مصدراً هاماً للدخل القومي بسبب اتساع الرصيف القاري ()
- (4): تؤدي الزيادة السكانية غير المدروسة إلى ضغط كبير على الموارد والخدمات العامة. ()

السؤال الثالث: فسّر ثلاثاً فقط من العبارات الآتية تفسيراً علمياً دقيقاً (30 درجة)

- (1): اعتبار سورية "متحفاً طبيعياً" مفتوحاً للآثار.
- (2): نشوء الموانئ السورية في مناطق الحماية الطبيعية من الأمواج والرياح.
- (3): تفوق الصناعة التحويلية في قيمتها المضافة على الصناعة الاستخراجية.
- (4): الأهمية الاقتصادية لزراعة المحاصيل الصناعية في سورية.

السؤال الرابع: أكمل خريطة المفاهيم الآتية : (20 درجة)

نتائج الموقع الاستراتيجي للوطن العربي:

- (أ) نتائج إيجابية: (تسهيل التجارة العالمية) (ب) نتائج سلبية: (ج) نتائج ثقافية:

السؤال الخامس: أجب عن أربعة فقط من الأسئلة الآتية: (80 درجة)

1. ماذا ينتج عن نقص الاستثمارات في قطاع النقل السككي في سورية؟.
2. اقترح حلاً لزيادة دخل الدولة من المواقع السياحية غير المشهورة.
3. قارن بين ميزات القمح "القاسي" والقمح "الطري" من حيث بيئة .
4. استنتج أثر تطور الصناعة على نمو المدن السورية.
5. ما العوامل التي تجعل من سورية ممراً آمناً وتنافسياً لأنابيب الغاز الدولية؟.

السؤال السادس: حلّل النصّ الآتي، ثمّ أجب عن الأسئلة الآتية: (30 درجة)

" إن عبقرية الإنسان السوري تجلت في ابتكار النواعير لرفع المياه، وفي بناء القلاع الحصينة لحماية الأرض، مما خلق إرثاً حضارياً فريداً."

1. استنتج من النص علاقة الإنسان السوري ببيئته الطبيعية.
2. حدد المشكلة التقنية التي حلّتها "النواعير" في التاريخ القديم.
3. ما مقومات استمرار هذا الإرث الحضاري كعنصر جذب سياحي؟.
4. صنّف "القلاع" الواردة في النص حسب نوع السياحة.

السؤال السابع: أرسم خريطة سورية بحدودها البرية والبحرية، وثبّت عليها مع التسمية ما يلي : (50 درجة)

مجرى نهر السن. - موقع مدينة إدلب. - حقل نفط رميلان. - موقع قلعة حلب .

= انتهت الأسئلة =

تمنياتي لجميع أبنائي وبناتي الطلبة على امتداد وطننا العظيم سورية بالنجاح، الأستاذ عبد القادر منير



امتحان شهادة التعليم الأساسي دورة 2026م. مادة الاجتماعيات

أولاً: التاريخ 300 درجة : النموذج التاسع (9)

السؤال الأول أجب عن الأسئلة الآتية: 140 درجة (الأول 30، الثاني 30، الثالث 20، الرابع 60)

1: اختر الإجابة الصحيحة، وانقلها إلى ورقة إجابتك :

تأسست جامعة الدول العربية في القاهرة عام: أ: 1944 م ب: 1945 م ج: 1946 م د: 1947 م
أول دولة عربية حققت الوحدة مع مصر عام 1958 م هي: أ: العراق ب: سورية ج: الأردن د: اليمن
ميثاق الجامعة العربية أكد على مبدأ السيادة و: أ: التدخل ب: عدم التدخل ج: التجزئة د: الوحدة الفورية
عدد الدول المؤسسة لجامعة الدول العربية هو: أ: 5 دول ب: 6 دول ج: 7 دول د: 22 دولة

2: ضع كلمة (صح) أو (خطأ) بجانب العبارات الآتية :

(أ): مثلت جامعة الدول العربية عند تأسيسها سقف الطموحات الوحدوية للشعب العربي في ذلك الوقت
(ب): ميثاق الجامعة العربية أعطى قرارات الجامعة صفة الإلزام لجميع الأعضاء حتى لمن لم يصوت عليها
(ج): الوحدة السورية المصرية عام 1958 كانت استجابة شعبية كاسحة لواقع التهديدات المحيطة بالبلدين

3: رتب الأحداث التاريخية حسب تسلسلها الزمني مبتدئاً بالأقدم :

تأسيس الجامعة العربية | الوحدة السورية المصرية | احتلال إسرائيل الجولان السوري | قمة الخرطوم |

4: علل ثلاثة فقط من التعاليل الأربعة الآتية :

- (1): قيام جامعة الدول العربية.
- (2): فشل أو انفصال أو تعثر الوحدة بين سورية ومصر عام 1961.
- (3): ظهور حزب الله اللبناني في جنوب لبنان عام 1982 ..؟
- (4): عجز الجامعة العربية عن حل بعض النزاعات العربية والإقليمية؟

السؤال الثاني: أجب عن أربعة أسئلة فقط من الأسئلة الخمسة الآتية: 120 (لكل سؤال 30 درجة)

- (1): ما هي السياسة التي اتبعتها إيران في إقليم الأحواز (عربستان)؟
- (2): ما توصيات عصبة الأمم المتحدة بشأن قضية الموصل
- (3): قارن بين قرارات مؤتمر بالتي مور الصهيوني 1942م. وبين توصيات اللجنة الأنغلو- أمريكية 1946
- (4): وازن بين أسباب انتفاضة الحجارة 1987م. وانتفاضة الأقصى عام 2000م.
- (5): ما هي أسباب كل من الحرب الأهلية اللبنانية الأولى 1958، والثانية 1975 ..؟

السؤال الثالث: أجب عن الأسئلة الآتية : (40 درجة)

1. قارن بين حرب الخليج الأولى والثانية والثالثة من حيث الأسباب، النتائج، الأطراف المتنازعة :

الحرب	العام	الأطراف المتنازعة	أسباب الحرب	نتائج الحرب
الأولى	1980			
الثانية	1990			
الثالثة	2003			

2. ما أسباب ثورة (انقلاب) 14 تموز في العراق عام 1958م بقيادة عبد الكريم قاسم وعبد السلام عارف ..؟

= انتهت أسئلة مادة التاريخ، يتبع خلف الورقة أسئلة مادة الجغرافية =

السؤال الأول: اختر الإجابة الصحيحة (لستة فقط) من الأسئلة السبعة وانقلها إلى ورقة إجابتك : (60 درجة)

1. السمة الأبرز التي تميز موقع الوطن العربي فلكياً هي :
(أ) وقوعه بالكامل في المناطق الباردة (ب) امتداده الواسع في العروض المدارية الحارة وشبه الحارة
(ج) مروره بخط التاريخ الدولي (د) وقوعه بالكامل في النصف الغربي للكرة الأرضية.
2. تبرز أهمية مضيق "باب المندب" في كونه يشرف على طريق التجارة بين :
(أ) أوروبا وشرق آسيا (ب) أمريكا الشمالية والجنوبية (ج) أستراليا وأوروبا (د) القطب الشمالي والجنوبي.
3. ينبع نهر "بردی" من مغارة في الجبال الغربية، ويتميز بكونه :
(أ) ينتهي في البحر المتوسط (ب) نهراً داخلياً يصب في بحيرة جافة (ج) نهراً دولياً (د) نهراً فصلياً يجف شتاءً.
4. التربة التي تظهر في المناطق المنخفضة وتتأثر بالملوحة نتيجة التبخر الشديد هي :
(أ) التربة اللحية (ب) التربة الصحراوية (ج) التربة المتوسطية (د) تربة "المرج".
5. محصول زراعي يُستخدم في صناعة النسيج والزيوت ويُعرف بـ "المحصول الاستراتيجي الأول" في سورية هو :
(أ) التبغ (ب) الشمندر (ج) القطن (د) الشعير.
6. المعدن الذي يتواجد في مناطق حلب وريف دمشق ويستخدم في الإنشاءات والبناء هو :
(أ) الفوسفات (ب) خامات الحديد (ج) المنجنيز (د) الذهب.
7. تُعد " قلعة دمشق" ومحيطها مثلاً للسياحة : (أ) الجمالية الجبلية (ب) الثقافية التاريخية (ج) العلاجية (د) البيئية.

السؤال الثاني: ضع كلمة (صح) أو (خطأ) جانب العبارات الآتية : (30 درجة)

- (1) يساهم تنوع التضاريس في سورية في تنوع الإنتاج الزراعي وتوزيع السكان. ()
- (2) تقتصر وظيفة الموانئ السورية على استيراد البضائع الجاهزة فقط. ()
- (3) تعتبر الغابات الطبيعية في سورية ثروة وطنية تجب حمايتها من الحرائق والاحتطاب. ()
- (4) النمو السكاني في الوطن العربي يعتبر منخفضاً جداً مقارنة بدول أوروبا. ()

السؤال الثالث: فسّر ثلاثاً فقط من العبارات الآتية تفسيراً علمياً دقيقاً (30 درجة)

- (1) تركز السكان في المناطق المرتفعة ذات الأمطار الوفيرة والمناخ المعتدل.
- (2) ضرورة إقامة مصانع تجفيف وحفظ الخضار والفواكه بالقرب من مناطق إنتاجها.
- (3) الأهمية الاقتصادية لمناجم الملح الصخري في سورية.
- (4) شهرة مدينة دير الزور بجسرها المعلق وأهميته السياحية.

السؤال الرابع: أكمل خريطة المفاهيم الآتية : (20 درجة)

مقومات الصناعة في الجمهورية العربية السورية

- (أ) مقومات طبيعية (.....) (ب) مقومات بشرية (أيدي عاملة،) (ج) مقومات مالية (رأس مال،)

السؤال الخامس: أجب عن أربعة فقط من الأسئلة الآتية: (80 درجة)

1. ماذا ينتج عن حفر الآبار العشوائية في أحواض الأنهار الداخلية؟
2. اقترح حلاً لزيادة الصادرات السورية من المنتجات الصناعية التحويلية.
3. قارن بين الأهمية الاستراتيجية لمضيق هرمز ومضيق جبل طارق.
4. استنتج العلاقة بين تطور المواصلات وزيادة النشاط السياحي.
5. ما العوامل التي ساعدت على انتشار زراعة الحبوب في "الجزيرة السورية"؟

السؤال السادس: حلّل النصّ الآتي، ثمّ أجب عن الأسئلة الآتية: (30 درجة)

" تعد حماية التربة من الانجراف والتملح ركيزة أساسية للأمن الغذائي، حيث تسعى سورية لتطبيق أساليب الري الحديث واستصلاح الأراضي الواسعة."

1. حدد من النص مشكلتين تواجهان التربة في سورية.
2. استنتج من النص الطريقة المقترحة للحفاظ على الثروة المائية والتربة معاً.
3. ما أثر استصلاح الأراضي على الميزان التجاري للدولة؟
4. صنّف مشكلة "التملح" (طبيعية أم ناتجة عن نشاط بشري خاطئ).

السؤال السابع: أرسم خريطة سورية بحدودها البرية والبحرية، وثبت عليها مع التسمية ما يلي : (50 درجة)

مجرى نهر دجلة (في الحدود السورية). - مدينة طرطوس. - حقل غاز السويدية - موقع قلعة مصياف.

= انتهت الأسئلة =

تمنيتي لجميع أبناي وبناتي الطلبة على امتداد وطننا العظيم سورية بالنجاح، الأستاذ عبد القادر منير

السؤال الأول: اختر الإجابة الصحيحة (لستة فقط) من الأسئلة السبعة وانقلها إلى ورقة إجابتك : (60 درجة)

1. السمة الأبرز التي تميز موقع الوطن العربي فلكياً هي :
(أ) وقوعه بالكامل في المناطق الباردة (ب) امتداده الواسع في العروض المدارية الحارة وشبه الحارة
(ج) مروره بخط التاريخ الدولي (د) وقوعه بالكامل في النصف الغربي للكرة الأرضية.
2. تبرز أهمية مضيق "باب المندب" في كونه يشرف على طريق التجارة بين :
(أ) أوروبا وشرق آسيا (ب) أمريكا الشمالية والجنوبية (ج) أستراليا وأوروبا (د) القطب الشمالي والجنوبي.
3. ينبع نهر "بردی" من مغارة في الجبال الغربية، ويتميز بكونه :
(أ) ينتهي في البحر المتوسط (ب) نهراً داخلياً يصب في بحيرة جافة (ج) نهراً دولياً (د) نهراً فصلياً يجف شتاءً.
4. التربة التي تظهر في المناطق المنخفضة وتتأثر بالملوحة نتيجة التبخر الشديد هي :
(أ) التربة اللحية (ب) التربة الصحراوية (ج) التربة المتوسطية (د) تربة "المرج".
5. محصول زراعي يُستخدم في صناعة النسيج والزيوت ويُعرف بـ "المحصول الاستراتيجي الأول" في سورية هو :
(أ) التبغ (ب) الشمندر (ج) القطن (د) الشعير.
6. المعدن الذي يتواجد في مناطق حلب وريف دمشق ويستخدم في الإنشاءات والبناء هو :
(أ) الفوسفات (ب) خامات الحديد (ج) المنجنيز (د) الذهب.
7. تُعد " قلعة دمشق" ومحيطها مثلاً للسياحة : (أ) الجمالية الجبلية (ب) الثقافية التاريخية (ج) العلاجية (د) البيئية.

السؤال الثاني: ضع كلمة (صح) أو (خطأ) جانب العبارات الآتية : (30 درجة)

- (1) يساهم تنوع التضاريس في سورية في تنوع الإنتاج الزراعي وتوزيع السكان. ()
- (2) تقتصر وظيفة الموانئ السورية على استيراد البضائع الجاهزة فقط. ()
- (3) تعتبر الغابات الطبيعية في سورية ثروة وطنية تجب حمايتها من الحرائق والاحتطاب. ()
- (4) النمو السكاني في الوطن العربي يعتبر منخفضاً جداً مقارنة بدول أوروبا. ()

السؤال الثالث: فسّر ثلاثاً فقط من العبارات الآتية تفسيراً علمياً دقيقاً (30 درجة)

- (1) تركز السكان في المناطق المرتفعة ذات الأمطار الوفيرة والمناخ المعتدل.
- (2) ضرورة إقامة مصانع تجفيف وحفظ الخضار والفواكه بالقرب من مناطق إنتاجها.
- (3) الأهمية الاقتصادية لمناجم الملح الصخري في سورية.
- (4) شهرة مدينة دير الزور بجسرها المعلق وأهميته السياحية.

السؤال الرابع: أكمل خريطة المفاهيم الآتية : (20 درجة)

مقومات الصناعة في الجمهورية العربية السورية

- (أ) مقومات طبيعية (.....) (ب) مقومات بشرية (أيدي عاملة،) (ج) مقومات مالية (رأس مال،)

السؤال الخامس: أجب عن أربعة فقط من الأسئلة الآتية: (80 درجة)

1. ماذا ينتج عن حفر الآبار العشوائية في أحواض الأنهار الداخلية؟
2. اقترح حلاً لزيادة الصادرات السورية من المنتجات الصناعية التحويلية.
3. قارن بين الأهمية الاستراتيجية لمضيق هرمز ومضيق جبل طارق.
4. استنتج العلاقة بين تطور المواصلات وزيادة النشاط السياحي.
5. ما العوامل التي ساعدت على انتشار زراعة الحبوب في "الجزيرة السورية"؟

السؤال السادس: حلّل النصّ الآتي، ثمّ أجب عن الأسئلة الآتية: (30 درجة)

" تعد حماية التربة من الانجراف والتملح ركيزة أساسية للأمن الغذائي، حيث تسعى سورية لتطبيق أساليب الري الحديث واستصلاح الأراضي الواسعة."

1. حدد من النص مشكلتين تواجهان التربة في سورية.
2. استنتج من النص الطريقة المقترحة للحفاظ على الثروة المائية والتربة معاً.
3. ما أثر استصلاح الأراضي على الميزان التجاري للدولة؟
4. صنّف مشكلة "التملح" (طبيعية أم ناتجة عن نشاط بشري خاطئ).

السؤال السابع: أرسم خريطة سورية بحدودها البرية والبحرية، وثبت عليها مع التسمية ما يلي : (50 درجة)

مجرى نهر دجلة (في الحدود السورية). - مدينة طرطوس. - حقل غاز السويدية - موقع قلعة مصياف.

= انتهت الأسئلة =

تمنياتي لجميع أبناي وبناتي الطلبة على امتداد وطننا العظيم سورية بالنجاح، الأستاذ عبد القادر منير



حل النماذج الامتحانية لكثفة الاجتماعيات (التاريخ)

النموذج الامتحاني : 1 – إعداد المدرس: عبد القادر منير

حل النموذج الأول (1)

السؤال الأول: (140 درجة)

1: اختر الإجابة الصحيحة، وانقلها إلى ورقة إجابتك:

1. القائد الذي تزعم ثورة جبل الساحل السوري ضد الاحتلال الفرنسي هو:

○ الإجابة: ج: عمر البيطار

○ القائد الذي تزعم الثورة في ليبيا ضد الاحتلال الإيطالي هو:

○ الإجابة: ج: عمر المختار

2. انتهى الحكم الملكي في العراق وتحولت البلاد لنظام جمهوري بعد ثورة:

○ الإجابة: ج: 14 تموز 1958

3. صدر "الكتاب الأبيض الأول" البريطاني في فلسطين في عام:

○ الإجابة: ب: 1922م

2: ضع كلمة (صح) أو (خطأ) جانب العبارات الآتية مع التعليل 😊 ملاحظة لا يُطلب من الطالب تعليل الإجابة

(أ): حوّل تصريح 28 شباط مصر إلى دولة ذات سيادة كاملة قانونياً وفعالياً.

○ الإجابة: (خطأ).

○ التعليل: لأن بريطانيا أبقّت على "التحفّظات الأربعة"

(ب): سياسة فرنسا في الجزائر كانت تستهدف النخبة السياسية دون المساس بالهوية الشعبية.

○ الإجابة: (خطأ).

○ التعليل: لأن سياسة فرنسا كانت تستهدف محو الشخصية العربية الإسلامية

(ج): شرعَ صكُّ الانتداب في سان ريمو الوعود الاستعمارية السابقة وحوّلها لالتزام دولي.

○ الإجابة: (صح).

○ التعليل: لأن عصبة الأمم وافقت على صك الانتداب الذي تضمن تنفيذ وعد بلفور وتقسيم البلاد العربية،

فأصبح التقسيم والاحتلال مغطى بقرار دولي.

3: رتب الأحداث التاريخية حسب تسلسلها الزمني مبتدئاً بالأقدم:

1. معركة ميسلون 24: تموز 1920م. 3. --- الإضراب الستيني 1936م.

2. الثورة السورية الكبرى 1925م. 4. --- عدوان 29 أيار 1945م.

4: علل ما يلي (حل التعاليل الأربعة كاملة):

1. صدور وعد بلفور عام 1917م من قبل بريطانيا:

○ لمساعدة بريطانيا في السيطرة على فلسطين لقرّبها من قناة السويس، واستغلال النفوذ الصهيوني في الولايات المتحدة وروسيا لدفعهم للمشاركة بقوة في الحرب العالمية الأولى إلى جانب بريطانيا.

2. فشل الثورة العربية في مصر عام 1882م:

○ بسبب عدم تكافؤ القوى العسكرية بين الجيش المصري والبريطاني، وخيانة الخديوي توفيق ومساندته للإنجليز، وإعلان السلطان العثماني عسّيان أحمد عرابي.

3. لجوء فرنسا لسياسة الاستيطان في دول المغرب العربي:

○ بهدف تغيير البنية الديموغرافية (السكانية) للبلاد، وإحلال المستوطنين الأوروبيين مكان السكان الأصليين، ونهب الثروات والأراضي الزراعية الخصبة، وربط اقتصاد هذه البلاد بفرنسا نهائياً.

4. اعتبار معاهدة 1930 في العراق "استقلالاً منقوصاً":

○ لأنها أعطت بريطانيا حق الاحتفاظ بقاعدتين جويتين (الهبانية والشعبية)، وحق مرور القوات البريطانية في الأراضي العراقية، وتقديم تسهيلات عسكرية في حال وقوع حرب، وبقاء المستشارين البريطانيين.



حل النماذج الامتحانية لكثفة الاجتماعيات (التاريخ)

النموذج الامتحاني: 1 – إعداد المدرس: عبد القادر منير

السؤال الثاني: أجب عن الأسئلة الخمسة كاملة:

(1) عدد البنود الثلاثة لإنذار غورو الموجه للحكومة السورية عام 1920م:

1. قبول الانتداب الفرنسي على سورية.
2. تسريح الجيش السوري وإلغاء التجنيد الإجباري.
3. قبول العملة الورقية السورية الفرنسية (التي أصدرها مصرف سورية ولبنان).

(2) قارن بين معاهدة 1936 في سورية ومعاهدة 1930 في العراق من حيث (القيود العسكرية المتبقية):

وجه المقارنة	معاهدة 1930 (العراق)	معاهدة 1936 (سورية)
القيود العسكرية المتبقية	بقاء قاعدتين جويتين لبريطانيا في وحق مرور القوات البريطانية وتقديم التسهيلات العسكرية.	بقاء قاعدتين جويتين لفرنسا وتقديم التسهيلات والمواصلات لفرنسا في حال نشوب حرب.

(3) ما مضمون اتفاقية "سايكس بيكو" السرية عام 1916م بخصوص تقسيم بلاد الشام والعراق؟

- المنطقة الزرقاء (فرنسا): تأخذ الساحل السوري ولبنان.
- المنطقة الحمراء (بريطانيا): تأخذ بغداد والبصرة.
- المنطقة السمرق (القدس): تخضع لإدارة دولية.
- إقامة دولة عربية مستقلة أو اتحاد دول عربية في المناطق الداخلية (أ و ب).

(4) ما مضمون اتفاق لويد جورج - كلمنصو عام 1919م؟

- انسحاب القوات البريطانية من سورية ولبنان لتحل محلها قوات فرنسية، وتنازل فرنسا عن الموصل لبريطانيا مقابل حصة من نفط الموصل، وضم الموصل لمنطقة الانتداب البريطاني.

(5) كيف فرضت فرنسا معاهدة "باردو" على تونس عام 1881م وما الذريعة التي استخدمتها؟

- فرضتها عن طريق حصار قصر "باي تونس" بالقوات العسكرية وإجباره على التوقيع تحت التهديد، والذريعة هي ملاحقة قبائل "الخمير" التونسية التي رُعم أنها دخلت الأراضي الجزائرية المحتلة وقامت بأعمال معادية.

عبد القادر منير
0962552081

السؤال الثالث: اقرأ النص ثم أجب:

1. اذكر أسباب الثورة الجزائرية الكبرى التي اندلعت عام 1945م:
 - مجازر فرنسا الشنيعة التي راح ضحيتها آلاف الشهداء، ونكث فرنسا لوعودها بمنح الجزائر الاستقلال مقابل مشاركة الجزائريين في الحرب العالمية الثانية إلى جانبها.
2. ما هي بنود معاهدة إيفيان بين فرنسا والجزائر عام 1962م؟
 - الوقف الفوري لإطلاق النار في كافة أنحاء الجزائر، الاعتراف المتبادل بالسيادة الكاملة للجزائر بحدودها التاريخية (بما فيها الصحراء)، إجراء استفتاء لشعب الجزائر لتقرير مصيره (أدى للاستقلال).

نكشات النموذج الأول:

- فح التاريخ: انتبه، "تصريح 28 شباط" عام 1922، بينما "الكتاب الأبيض الأول" أيضاً 1922. لا تخلط بينهما في الترتيب الزمني.
- نكشة القادة: عمر البيطار "قائد ثورة الساحل"، بينما "سلطان الأطرش" قائد الثورة السورية الكبرى.
- الثغرة: في معاهدات 1930 و1936، القواعد الجوية هي المفتاح. (مزة وحلب = سورية) / (هبانية وشعبية = عراق).



حل النماذج الامتحانية لكثفة الاجتماعيات (التاريخ)

النموذج الامتحاني : 2 – إعداد المدرس: عبد القادر منير

ثانياً: حل النموذج الثاني (2)

السؤال الأول: (140 درجة)

1: اختر الإجابة الصحيحة:

1. القائد الذي أعلن الثورة السورية الكبرى عام 1925م هو:

○ **ب: سلطان الأطرش**

2. وقعت معركة ميسلون في تموز عام:

○ **ج: 1920م**

3. تشكلت "الكتلة الوطنية" في سورية عام 1928م بهدف النضال:

○ **ج: السياسي**

4. تم الجلاء الفرنسي عن سورية في عهد الرئيس:

○ **أ: شكري القوتلي**

2: ضع كلمة (صح) أو (خطأ) مع التعليل:

(أ): مثل مشروع معاهدة 1936م اعترافاً فرنسياً نهائياً بسيادة سورية المطلقة دون قيود عسكرية.

○ **الإجابة: (خطأ).**

○ **التعليل:** لأنها تضمنت قيوداً عسكرية مثل بقاء قاعدتين جويتين لفرنسا، ومنحت فرنسا امتيازات عسكرية وثقافية واقتصادية لمدة 25 عاماً.

(ب): كان الإضراب الستيني عام 1936م تحولاً من الصدام المسلح إلى الضغط المدني الشامل.

○ **الإجابة: (صح).**

○ **التعليل:** لأن الشعب السوري أغلق الأسواق والمدارس والدوائر الرسمية لمدة 60 يوماً متواصلة، مما أجبر فرنسا على الاعتراف بالحركة الوطنية والتفاوض معها سياسياً.

(ج): إنذار غورو لم يكن مجرد مطالب عسكرية، بل استهدف تقويض الكيان السياسي للدولة العربية.

○ **الإجابة: (صح).**

○ **التعليل:** لأن غورو طلب قبول الانتداب رسمياً وتسريح الجيش الوطني السوري، مما يعني إنهاء استقلال الدولة العربية التي أعلنها المؤتمر السوري العام.

3: رتب الأحداث التاريخية:

1. إنذار غورو 14: تموز 1920م.

2. معركة ميسلون 24: تموز 1920م.

3. الثورة السورية الكبرى 1925م.

4. مشروع معاهدة 1936: عام 1936م.

5. إنزال العلم الفرنسي 17: نيسان 1946م.

4: علل ما يلي (حل التعاليل الأربعة كاملة):

1. فشل معاهدة 1936 بين سورية وفرنسا: إعداد المدرس: عبد القادر منير

○ بسبب رفض البرلمان الفرنسي التصديق عليها بضغط من القوى الاستعمارية المتطرفة، وتغير الظروف الدولية واقترب نذر الحرب العالمية الثانية، ورغبة فرنسا في استمرار سيطرتها المباشرة.

2. قيام الثورة السورية الكبرى 1925:

○ بسبب سياسة "تجزئة سورية" لدويلات، سوء معاملة الحكام الفرنسيين للسكان وزعمائهم (مثل حادثه الحاكم كبريه)، والمطالبة بالوحدة السورية والاستقلال التام.



حل النماذج الامتحانية لكثفة الاجتماعيات (التاريخ)

النموذج الامتحاني : 2 – إعداد المدرس: عبد القادر منير

3. قصف فرنسا لدمشق 1945:
- بسبب رفض الحكومة السورية منح فرنسا امتيازات ومصالح ثقافية وعسكرية جديدة، وتظاهر السوريين ضد الوجود الفرنسي، فأرادت فرنسا إرهاب الشعب والحكومة للتراجع.
4. انعقاد المؤتمر السوري العام 1919:
- رداً على اتفاقيات التقسيم الاستعمارية، وللتعبير عن إرادة الشعب السوري في الاستقلال والوحدة، ولتقديم مطالب السوريين للجنة "كينغ كراين" الأمريكية.

السؤال الثاني: أجب عن الأسئلة الخمسة كاملة:

- (1) ما مضمون اتفاق مؤتمر الجزيرة الخضراء عام: 1906 بين المغرب والدول الاستعمارية ..؟
- أ – احترام وحدة السلطان عبد العزيز بن الحسن ووحدة أراضيه .
 - ب – المساواة التجارية بين جمع الدول.
 - ج - تأسيس مصرف في المغرب تساهم فيه جميع الدول .
 - د – جعل جمارك مراكش تحت رقابة دولية.
 - هـ – إنشاء قوة أمنية فرنسية – إسبانية بقيادة ضابط سويسري
- (2) قارن بين موقف الشعب السوري من معاهدة 1936 وموقف البرلمان الفرنسي:

وجه المقارنة	موقف الشعب السوري	موقف البرلمان الفرنسي
معاهدة 1936	استقبلها بالفرح والاحتفالات والترحيب، واعتبرها خطوة هامة نحو الاستقلال التام والوحدة.	رفض التصديق عليها وماتل في دراستها، مما أدى في النهاية إلى وأد المعاهدة وقتلها.

(3) أذكر أهم الاتجاهات السياسية في الجزائر في فترة ما بين الحربين العالميتين

- أ – الاندماجيون : وهم أنصار الاندمال مع فرنسا عن طريق تجني الجزائريين.
 - ب – جمعية علماء المسلمين : ويطالبون باسترجاء الشخصية الثقافية العربية الإسلامية للجزائر
- (4) علل إطلاق الشعب السوري اسم الوزارة الدفاعية على وزارة الحربية؟
- لأن مهمتها الأساسية كانت الدفاع عن استقلال سورية وحماية حدودها ضد الأطماع الفرنسية والاحتلال الزاحف، ولأنها تشكلت في ظروف الدفاع عن الكيان السوري (يوسف العظمة).
- (5) كيف استطاع السوريون إجبار فرنسا على توقيع معاهدة 1936؟
- عن طريق "الإضراب الستيني" الذي عمّ البلاد وشلّ مفاصل الدولة، مما أخرج فرنسا أمام الرأي العام العالمي وأثبت استحالة حكم سورية بالقوة العسكرية وحدها.

السؤال الثالث: (40 درجة)

1. عدد مقررات مؤتمر سان ريمو 1920م:
 - فرض الانتداب الفرنسي على سورية ولبنان، وفرض الانتداب البريطاني على العراق وفلسطين، مع الالتزام بتنفيذ "وعد بلفور" في فلسطين.
2. ما هي بنود إنذار غورو التي أرسلها للملك فيصل عام 1920م؟
 1. قبول الانتداب الفرنسي على سورية.
 2. تسريح الجيش السوري / أو إلغاء التجنيد الإجباري.
 3. قبول العملة الورقية السورية الفرنسية (التي أصدرها مصرف سورية ولبنان).

نكشات النموذج الثاني:

- نكشة الجلاء: الجلاء الفعلي 1946، لكن المعاهدة كانت 1936. الطالب الذي يكتب "جلاء 1936" يقع في الفخ.



حل النماذج الامتحانية لكثفة الاجتماعيات (التاريخ)

النموذج الامتحاني : 3 – إعداد المدرس: عبد القادر منير

ثالثاً: حل النموذج الثالث (3)

السؤال الأول: (140 درجة)

1: اختر الإجابة الصحيحة:

1. فرض مؤتمر سان ريمو عام 1920م على لبنان الانتداب:
○ الإجابة: الفرنسي
2. من بنود معاهدة التحالف البريطانية - الأردنية عام 1946م:
○ الإجابة: تحويل الإمارة إلى مملكة

2: علل ما يلي (حل التعاليل كاملة):

1. قيام الاتحاد الهاشمي بين العراق والأردن عام 1958م:
○ رداً على قيام الوحدة بين سورية ومصر (الجمهورية العربية المتحدة) في العام نفسه.
2. تبني بريطانيا للمشروع الصهيوني في فلسطين:
○ لأنها وجدت فيه حماية لمصالحها في المنطقة، وخليفاً يمنع الوحدة العربية.
3. رفض الشعب الفلسطيني توصيات لجنة "بيل" عام 1937م:
○ لرفضهم مبدأ تقسيم فلسطين وإقامة دولة يهودية على أراضيهم.

السؤال الثاني: أجب عن الأسئلة الآتية كاملة:

(1) ما مضمون "الكتاب الأبيض الثالث" الذي أصدرته بريطانيا عام 1939م؟

1. أن تقام دولة فلسطينية مستقلة يتقاسم فيها العرب واليهود السلطة الحكومية وترتبط بمعاهدة مع بريطانيا بعد عشرة أعوام.
2. تحديد الهجرة اليهودية بـ 75 ألف نسمة خلال الأعوام الخمسة التالية.

(2) قارن بين مقررات "مؤتمر بلنمور" 1942م وتوصيات "اللجنة الأنجلو-أمريكية" 1946م:

وجه المقارنة	مؤتمر بلنمور (الصهيوني) 1942	اللجنة الأنجلو-أمريكية 1946
المضمون	إنشاء وطن قومي لليهود في فلسطين، وإطلاق الهجرة الصهيونية، وإنشاء جيش يهودي.	بقاء فلسطين تحت الانتداب حتى توضع تحت وصاية الأمم المتحدة، وإدخال 100 ألف يهودي فوراً.
الموقف من الكتاب الأبيض	رفض الكتاب الأبيض الثالث لعام 1939.	المطالبة بإلغاء الكتاب الأبيض الثالث.

(3) ما هي المطالب التي تقدمت بها حكومة "رياض الصلح" لفرنسا في لبنان؟

- السعي لإنهاء الانتداب الفرنسي، وتعديل الدستور، وجعل اللغة العربية اللغة الرسمية الوحيدة في البلاد.

(4) ما بنود اتفاق "تشرشل" مع الأمير عبد الله في الأردن عام 1921م؟

1. إقامة إمارة شرق الأردن بزعامة الأمير عبد الله تكون مستقلة إدارياً.
2. دعم الإمارة مادياً مقابل منع انطلاق المقاومة من شرق الأردن ضد الفرنسيين والصهاينة.
3. استشارة المندوب السامي البريطاني في القدس.

(5) صنف السياسة البريطانية في فلسطين (سياسياً، عسكرياً، ثقافياً) لتنفيذ وعد بلفور:

- السياسية: تعيين اليهودي "هربرت صموئيل" مندوباً سامياً، ودعم الوكالة اليهودية.
- العسكرية: تسليح الصهاينة وإنشاء منظمة "الهاغانا" الإرهابية لتهدية العرب.
- الثقافية: جعل اللغة العبرية لغة رسمية، والسماح بإقامة المدارس والجامعة العبرية.



حل النماذج الامتحانية لكثفة الاجتماعيات (التاريخ)

النموذج الامتحاني: 3 – إعداد المدرس: عبد القادر منير

السؤال الثالث: رتب الأحداث التاريخية (دورة 2022م):

1. وعد بلفور 1917 م.
2. ثورة البراق 1929 م.
3. الثورة الفلسطينية الكبرى 1936 م.
4. انتفاضة الحجارة 1987 م.

نكشات النموذج الثالث:

- فح التاريخ: الكتاب الأبيض الأول " 1922، "الكتاب الأبيض الثاني" 1930، "الكتاب الأبيض الثالث" 1939. ركز على الثالث لأنه الأكثر طلباً.
- نكشة الأسماء: رياض الصلح " مرتبط باستقلال لبنان، و"بشارة الخوري" أول رئيس للجمهورية بعد الاستقلال. إعداد المدرس: عبد القادر منير
- فح المقارنة: لجنة "بيل" اقترحت التقسيم، بينما اللجنة "الأنجلو-أمريكية" اقترحت الوصاية الدولية.



مُدِّرْس الاجتماعيات
عبد القادر منير
0962552081



حل النماذج الامتحانية لكثفة الاجتماعيات (التاريخ)

النموذج الامتحاني: 4 – إعداد المدرس: عبد القادر منير

رابعاً: حل النموذج الرابع (4)

السؤال الأول: (140 درجة)

1: اختر الإجابة الصحيحة:

1. لجأ "رشيد عالي الكيلاني" في ثورته ضد بريطانيا في العراق إلى دولة:

○ الإجابة: ألمانيا

2. انسحبت القوات الأمريكية من العراق بشكل كامل عام:

○ الإجابة: 2011م

3. قام "حلف بغداد" (الذي عارضه السوريون والمصريون) عام:

○ الإجابة: 1955م

2: علل ما يلي (حل التعاليل كاملة):

1. بدء بريطانيا احتلال العراق عام 1914م:

○ بسبب أهمية موقعه الاستراتيجي على طريق التجارة العالمية، ووجود النفط، واندلاع الحرب العالمية الأولى ضد الدولة العثمانية.

2. الاحتلال الأمريكي للعراق (حرب الخليج الثالثة) عام 2003م:

○ تذرعت أمريكا بوجود أسلحة دمار شامل لإنهاء حكم صدام حسين والسيطرة على مقدرات البلاد.

3. سعي بريطانيا للتخلص من الشيخ "خزعل الكعبي" في الأحواز:

○ لأنه كان يمثل قوة عربية وطنية تهدد مصالحها، ولتسهيل سيطرة إيران

4. تشكيل بريطانيا "اتحاد الجنوب العربي" في اليمن عام 1959م:

○ لخدمة مصالحها الاستعمارية ومنع قيام وحدة بين شطري اليمن (الشمالي والجنوبي).

السؤال الثاني: أجب عن الأسئلة الخمسة كاملة:

(1) ما مضمون المعاهدة التي وقعتها بريطانيا مع مشايخ الخليج العربي عام 1820م؟

• التزام المشايخ بعدم القيام بأعمال القرصنة (بالمفهوم البريطاني)، ومنع تجارة الرقيق، مما مهد لفرض الحماية البريطانية الكاملة على الخليج.

(2) قارن بين سياسة الاحتلال في العراق واليمن الجنوبي:

المقارنة	السياسة في العراق	السياسة في اليمن الجنوبي
السياسية	تقسيم البلاد إلى ولايات، والاعتماد على رؤساء القبائل لترسيخ نفوذها.	تجزئة البلاد إلى سلطنات ومشيخات صغيرة (أكثر من 20 سلطنة).
الاقتصادية	السيطرة على الأراضي والثروات (النفط)، وفحص الموارد لخدمة بريطانيا.	إهمال التنمية وترسيخ الطبقة وتدهور الأوضاع المعيشية.

(3) ما السياسة التي اتبعتها إيران في إقليم "الأحواز" العربي؟

• سياسة "التفريس" عبر منع اللغة العربية، وتغيير أسماء المدن العربية لأسماء فارسية، وتهجير العرب وتوطين الفرس مكانهم.

(4) رتب الأحداث التاريخية في اليمن (من الأقدم):

1. سيطرة العثمانيين على اليمن.

2. احتلال بريطانيا لعدن (1839م).

3. إعلان النظام الجمهوري في اليمن الشمالي.

4. الوحدة بين شطري اليمن (1990م).



حل النماذج الامتحانية لكثفة الاجتماعيات (التاريخ)

النموذج الامتحاني : 4 – إعداد المدرس: عبد القادر منير

- (5) علل تأييد بريطانيا للأمير "عبد العزيز آل سعود" في البداية؟
- لأنها وجدت فيه زعيماً عربياً قوياً ومالياً يمكنه حماية طرق مواصلاتها وتعهد بعدم التعدي على الإمارات الواقعة تحت حمايتها.

نكشات النموذج الرابع:

- نكشة "حلف بغداد": هو نفسه "الاتحاد الهاشمي" الذي فشل بعد ثورة 14 تموز 1958 في العراق. إعداد المدرس: عبد القادر منير
- فح التواريخ: ثورة الكيلاني 1941، ثورة 14 تموز 1958، احتلال العراق 2003.
- نكشة الأحواز: إقليم عربي محتل من قبل إيران منذ عام 1925م بعد أسر الشيخ خزعل.



مُدْرَس الاجتماعيات
عبد القادر منير
0962552081



حل النماذج الامتحانية لكثفة الاجتماعيات (التاريخ)

النموذج الامتحاني : 5 – إعداد المدرس: عبد القادر منير

حل النموذج الخامس (5)

السؤال الأول: أجب عن الأسئلة الآتية (140 درجة)

1: اختر الإجابة الصحيحة، وانقلها إلى ورقة إجابتك:

زعيم ثورة 1919 الذي نُفي إلى مالطا هو:

الإجابة: ج: سعد زغلول

تم تأميم قناة السويس عام 1956م في عهد:

الإجابة: ج: جمال عبد الناصر

الدول التي شاركت في العدوان الثلاثي على مصر هي بريطانيا وفرنسا و...:

الإجابة: ب: إسرائيل

نال السودان استقلالها عن الحكم الثنائي عام:

الإجابة: ج: 1956م

2: ضع كلمة (صح) أو (خطأ) جانب العبارات الآتية:

(أ): تصريح 28 شباط حول الاحتلال البريطاني لمصر إلى تحالف متكافئ بين دولتين مُستقلتين.

الإجابة: (خطأ). لأنه أبقى على التحفظات الأربعة التي جعلت الاستقلال صورياً.

(ب): ثورة 1952 غيرت وجه التاريخ العربي بتحويل مصر من التبعية إلى قيادة حركات التحرر.

الإجابة: (صح).

(ج): التحفظات الأربعة في تصريح 28 شباط أفرغت الاستقلال المصري من مضمونه السيادي.

الإجابة: (صح).

3: رتب الأحداث التاريخية حسب تسلسلها الزمني مبتدئاً بالأقدم:

1. ثورة 1919.

2. تصريح 28 شباط (1922م).

3. معاهدة 1936.

4. ثورة 23 تموز (1952م).

5. تأميم القناة (1956م).

4: علل ما يلي (حل التعاليل الأربعة كاملة):

1. قيام ثورة 1919 بمصر:

○ بسبب السياسة البريطانية القمعية أثناء الحرب العالمية الأولى، ونمو الوعي القومي المصري،

والمطالبة بالاستقلال التام، ونفي سعد زغلول ورفاقه إلى جزيرة مالطا.

2. فشل العدوان الثلاثي على مصر عام 1956:

○ بسبب صمود الجيش والشعب المصري في بورسعيد، وتأييد الدول العربية لمصر، والدعم السوفيتي

3. تمسك بريطانيا بالسودان:

○ لأهمية السودان الاستراتيجية في السيطرة على منابع النيل، وتأمين طريق مواصلاتها نحو الهند،

ولرغبتها في فصله عن مصر لإضعاف وحدة وادي النيل.

4. إلغاء معاهدة 1936 في مصر عام 1951:

○ بسبب فشل المفاوضات مع بريطانيا للجلء عن منطقة القناة، وتصاعد الكفاح المسلح، وضغط الرأي

العالم المصري المطالب بالاستقلال الكامل (أعلن الإلغاء مصطفى النحاس باشا).



حل النماذج الامتحانية لكثفة الاجتماعيات (التاريخ)

النموذج الامتحاني : 5 – إعداد المدرس: عبد القادر منير

السؤال الثاني: أجب عن الأسئلة الآتية:

(1) عدد أهداف ثورة 23 تموز المصرية (ثلاثة أهداف على الأقل):

1. القضاء على الاستعمار وأعدائه.
2. القضاء على الإقطاع وسيطرة رأس المال على الحكم.
3. إقامة جيش وطني قوي وعدالة اجتماعية وحياء ديمقراطية سليمة.

(2) قارن بين تصريح 28 شباط ومعاهدة 1936 بمصر:

وجه المقارنة	تصريح 28 شباط 1922	معاهدة 1936 (مصر)
طبيعة الوثيقة	تصريح من جانب واحد (بريطانيا).	معاهدة ثنائية بين دولتين.
السيادة	استقلال صوري مشروط بالتحفظات الأربعة.	استقلال أكثر وضوحاً، انضمام لعصبة الأمم، وبقاء القوات في القناة فقط.

(3) ما مضمون اتفاقية الجلاء 1954؟

- تقضي بجلاء القوات البريطانية عن الأراضي المصرية خلال 20 شهراً من توقيع الاتفاقية، مع إمكانية استخدام بريطانيا للقواعد العسكرية في حال وقوع هجوم أجنبي على دولة عربية أو تركيا.

(4) ما مطالب الوفد المصري عام 1919؟

- المطالبة بالاستقلال التام لمصر والسودان، والسماح للوفد بالسفر إلى باريس لعرض قضية مصر على مؤتمر الصلح، وإلغاء الحماية البريطانية.

(5) كيف طبقت بريطانيا "قانون المناطق المقفولة" بالسودان؟

- عبر منع سكان شمال السودان من الدخول إلى جنوبه إلا بتصاريح خاصة، وتشجيع الإرساليات التبشيرية في الجنوب، والعمل على طمس اللغة العربية والثقافة الإسلامية هناك لتمهيد الانفصال.

السؤال الثالث: اقرأ النص ثم أجب:

1. ما مضمون تصريح 28 شباط عام 1922؟

- إنهاء الحماية البريطانية على مصر، والاعتراف بمصر دولة مستقلة ذات سيادة، مع بقاء أربعة تحفظات: (تأمين مواصلات الإمبراطورية، الدفاع عن مصر، حماية المصالح والأقليات، وبقاء وضع السودان).

2. قارن بين معاهدة عام 1936م بين مصر وبريطانيا، ومعاهدة 1936 بين فرنسا وسورية:

- معاهدة مصر 1936 : مدتها 20 عاماً، تحويل الحماية لتحالف عسكري، بقاء قوات في القناة، دخول عصبة الأمم.

- معاهدة سورية 1936 : مدتها 25 عاماً، اعتراف باستقلال سورية ووحدها، بقاء قاعدتين جويتين لفرنسا، دخول عصبة الأمم. (كلاهما منح استقلالاً مقيداً بقواعد عسكرية).

نكشآت النموذج الخامس:

- فخ التاريخ: السودان استقل 1956، وهو نفس عام تأميم القناة والعدوان الثلاثي.
- نكشة الزعماء: مصطفى كامل (مؤسس الحزب الوطني)، سعد زغلول (قائد ثورة 1919)، جمال عبد الناصر (قائد الثورة ومؤمم القناة). إعداد المدرس: عبد القادر منير
- الفخ الدبلوماسي: "التحفظات الأربعة" هي الكلمة المفتاحية لأي سؤال عن فشل استقلال 1922.



حل النماذج الامتحانية لكثفة الاجتماعيات (التاريخ)

النموذج الامتحاني: 6 – إعداد المدرس: عبد القادر منير

حل النموذج السادس (6)

السؤال الأول: أجب عن الأسئلة الآتية (140 درجة)

1: اختر الإجابة الصحيحة:

- فرض فرنسا حمايتها على تونس عام 1881م بموجب معاهدة:
 - الإجابة: ب: باردو
- القائد الذي أسس الدولة الجزائرية الحديثة وقاوم فرنسا هو:
 - الإجابة: ب: عبد القادر الجزائري
- استقلت تونس عام 1956م بعد نضال قاده الحزب الحر:
 - الإجابة: أ: الدستوري
- انتهت الثورة الجزائرية الكبرى عام 1962م باتفاقية:
 - الإجابة: ج: إيفيان
- 2: ضع كلمة (صح) أو (خطأ) جانب العبارات الآتية:
 - (أ): كانت حادثة المروحة سبباً كافياً وقانونياً في العرف الدولي لتبرير احتلال الجزائر. (الإجابة: خطأ)
 - (ب): اعتمدت فرنسا في الجزائر سياسة "الأرض المحروقة" لكسر الحاضنة الشعبية للثوار. (الإجابة: صح)
 - (ج): السياسة الاستيطانية في تونس كانت مطابقة تماماً في حداثتها ومصادرتها للأراضي لما حدث في الجزائر. (الإجابة: صح)

3: رتب الأحداث التاريخية حسب تسلسلها الزمني مبتدئاً بالأقدم:

1. حادثة المروحة (1827م).
2. مقاومة الأمير عبد القادر.
3. قانون الفرنسية.
4. الثورة الجزائرية الكبرى (1954م).
5. اتفاقية إيفيان (1962م).

4: علل ما يلي (حل التعاليل الأربعة كاملة):

1. احتلال فرنسا للجزائر 1830:
 - الرغبة في التخلص من الديون (قضية القمح)، السيطرة على موقع الجزائر الاستراتيجي، وصرف أنظار الشعب الفرنسي عن المشاكل الداخلية للملك شارل العاشر.
2. فشل المقاومة السياسية بالجزائر قبل 1954:
 - بسبب تعنت فرنسا ورفضها لأي إصلاحات حقيقية، واستخدام القوة المفرطة ضد المتظاهرين (مجازر 1945)، وإدراك الجزائريين أن "ما أخذ بالقوة لا يُسترد إلا بالقوة".
3. فرض فرنسا للحماية على تونس:
 - بسبب الأزمة المالية التونسية وتراكم الديون، والتنافس الاستعماري مع إيطاليا وبريطانيا، والذريعة كانت ملاحقة قبائل "الخمير".
4. أهمية الثورة الجزائرية لحركات التحرر:
 - لأنها أثبتت إمكانية هزيمة قوة استعمارية كبرى بالكفاح المسلح، وأصبحت نموذجاً ملهماً لكل شعوب أفريقيا وآسيا في التحرر من الاستعمار.



حل النماذج الامتحانية لكثفة الاجتماعيات (التاريخ)

النموذج الامتحاني 6 – إعداد المدرس: عبد القادر منير

السؤال الثاني: أجب عن الأسئلة الآتية:

(1) عدد وسائل فرنسا لتنفيذ سياسة "الفرنسة":

1. جعل اللغة الفرنسية لغة التعليم والإدارة.
2. تشجيع التنصير وبناء الكنائس.
3. منح الجنسية الفرنسية لمن يتخلى عن هويته العربية الإسلامية.

(2) قارن بين معاهدة باردو واتفاقية إيفيان:

وجه المقارنة	معاهدة باردو 1881	اتفاقية إيفيان 1962
النتيجة	فرض الحماية والاحتلال على تونس.	منح الاستقلال والسيادة للجزائر.
المضمون	سلب تونس سيادتها الخارجية والمالية.	وقف القتال والاعتراف بوحدة الجزائر وصرانها.

(3) ما مضمون قانون "الأهالي" بالجزائر؟

- قانون جانر يفرض عقوبات قاسية على الجزائريين دون محاكمة، ويحرمهم من أبسط الحقوق السياسية، ويعاملهم كرعيا لا كمواطنين لإخضاعهم للاستعمار.

(4) ما مطالب الحزب الحر الدستوري بتونس؟

- المطالبة بدستور للبلاد، والمساواة بين التونسيين والفرنسيين، والاستقلال الذاتي الذي يمهد للاستقلال التام.

(5) كيف استطاعت الجزائر نيل اعتراف فرنسا بالاستقلال؟

- عبر حرب تحرير استمرت 7 سنوات ونصف (ثورة المليون ونصف شهيد)، والتفاف الشعب حول جبهة التحرير الوطني، والضغط الدولية والمظاهرات داخل فرنسا نفسها، مما أجبر "ديغول" على التفاوض.

السؤال الثالث: اقرأ النص ثم أجب: إعداد المدرس: عبد القادر منير

1. برهن استخدام فرنسا الأحداث العرضية ثم عدد ثلاثة أفكار من سياستها في الجزائر:
 - البرهان: استخدام "حادثة المروحة" (إهانة القنصل) كذريعة لاحتلال الجزائر.
 - السياسة: (1) الاستيطان ومصادرة الأراضي، (2) الفرنسة وطمس الهوية، (3) نهب الثروات الطبيعية.
2. ما هي الذريعة المعلنة التي استخدمتها فرنسا لاحتلال تونس عام 1881؟
 - ملاحقة قبائل "الخمير" التونسية بدعوى اعتدائها على الأراضي الجزائرية المحتلة.

نكشآت النموذج السادس:

- نكشة التاريخ: الجزائر احتلت 1830 واستقلت 1962 (بقي الاستعمار 132 عاماً).
- فخ الاتفاقيات: معاهدة باردو (احتلال)، اتفاقية إيفيان (استقلال).
- انتبه: الأمير عبد القادر الجزائري هو "مؤسس الدولة"، وجبهة التحرير هي التي قادت "ثورة الاستقلال".



حل النماذج الامتحانية لكثفة الاجتماعيات (التاريخ)

النموذج الامتحاني : 7 – إعداد المدرس: عبد القادر منير

حل النموذج السابع (7)

السؤال الأول: أجب عن الأسئلة الآتية (140 درجة)

1: اختر الإجابة الصحيحة:

• تنازلت الدولة العثمانية عن ليبيا لإيطاليا بموجب معاهدة:

○ الإجابة: ب: أوشي لوزان

• انتصر محمد بن عبد الكريم الخطابي على الإسبان في معركة:

○ الإجابة: ب: أنوال

• انتهج عمر المختار ضد الطليان أسلوباً جديدة للمقاومة هو حرب:

○ الإجابة: ج: العصابات

• تم تقسيم المغرب عام 1912م إلى مناطق نفوذ فرنسية وإسبانية و:

○ الإجابة: ب: دولية (منطقة طنجة).

2: ضع كلمة (صح) أو (خطأ) جانب العبارات الآتية:

• (أ): معاهدة "أوشي لوزان" كانت دليلاً على تخلي الخلافة العثمانية عن مسؤولياتها تجاه الولايات العربية.

○ الإجابة: (صح).

• (ب): نجاح إيطاليا في إعدام عمر المختار أدى فوراً إلى توقف روح المقاومة في الشعب الليبي.

○ الإجابة: (خطأ). بقيت المقاومة كامنة حتى نالت ليبيا استقلالها.

• (ج): ثورة الريف في المغرب كانت نموذجاً مبكراً لحرب العصابات المنظمة ضد الجيوش

الاستعمارية الحديثة.

○ الإجابة: (صح).

3: رتب الأحداث التاريخية حسب تسلسلها الزمني مبتدئاً بالأقدم:

1. الغزو الإيطالي لليبيا (1911م).

2. معاهدة أوشي لوزان (1912م).

3. قيام الجمهورية الطرابلسية (1918م).

4. إعدام عمر المختار (1931م).

5. استقلال ليبيا (1951م).

4: علل ما يلي (حل التعاليل الأربعة كاملة):

1. أطماع إيطاليا في ليبيا:

○ لقربها الجغرافي من إيطاليا، ولرغبة إيطاليا في استعادة أمجاد الإمبراطورية الرومانية، ولتكون ليبيا سوقاً لمنتجاتها ومكاناً لتصريف فائض السكان (الاستيطان).

2. قيام ثورة الريف بالمغرب:

○ رداً على الاحتلال الإسباني للمنطقة الشمالية من المغرب، وبسبب الروح الوطنية والقيادة الحكيمة لعبد الكريم الخطابي الذي رفض التقسيم والاستعمار.

3. نفي الملك محمد الخامس 1953:

○ بسبب تأييده لمطالب الحركة الوطنية في الاستقلال، ورفضه التعاون مع سلطات الحماية الفرنسية، فأرادت فرنسا إضعاف الروح المعنوية للشعب بنفيه.

4. فشل إيطاليا في القضاء على عمر المختار لسنوات طويلة:

○ بسبب براعته في حرب العصابات، ومعرفته العميقة بتضاريس الجبل الأخضر، والتفاف الشعب الليبي حوله وتقديم الدعم والمعلومات للمقاومين.



حل النماذج الامتحانية لكثفة الاجتماعيات (التاريخ)

النموذج الامتحاني :

السؤال الثاني: أجب عن الأسئلة الآتية:

(1) عدد مناطق نفوذ المغرب عام 1912:

1. منطقة النفوذ الفرنسي (المنطقة السلطانية - الوسط).
2. منطقة النفوذ الإسباني (الشمال والجنوب/الريف).
3. منطقة طنجة الدولية.

(2) قارن بين مقاومة عمر المختار ومقاومة الخطابي:

وجه المقارنة	عمر المختار (ليبيا)	عبد الكريم الخطابي (المغرب)
العدو	الاحتلال الإيطالي.	الاحتلال الإسباني والفرنسي.
أسلوب القتال	حرب عصابات في الجبال والصحراء.	جيش منظم وحرب عصابات (جمهورية الريف).

(3) ما مضمون معاهدة فاس؟

- فرض الحماية الفرنسية على المغرب عام 1912، وتعيين مقيم عام فرنسي يسيطر على كافة السلطات الفعلية، مع إبقاء السلطان كواجهة رمزية.

(4) ما مطالب الحركة الوطنية بالمغرب عام 1944؟

- تقديم "وثيقة الاستقلال" التي طالبت باستقلال المغرب التام ووحدته تحت ظل الملك محمد الخامس، ورفض نظام الحماية.

(5) كيف مهدت إيطاليا لاحتلال ليبيا اقتصادياً؟

- عبر "التغلغل السلمي": فتح فروع لـ "بنك دي روما" في ليبيا، شراء الأراضي، إنشاء المدارس والمستشفيات، وتقديم القروض للسكان لربط مصالحهم بإيطاليا.

السؤال الثالث: اقرأ النص ثم أجب: إعداد المدرس: عبد القادر منير

1. صنف في جدول السياسة الاستعمارية التي اتبعتها إيطاليا في ليبيا (اقتصادياً وثقافياً):

اقتصادياً	ثقافياً
مصادرة الأراضي ومنحها للمستوطنين الطليان.	محاربة اللغة العربية وفرض اللغة الإيطالية.
السيطرة على الموارد والتجارة الخارجية.	نشر الثقافة الإيطالية في المدارس.

2. اذكر اسم القائد الذي انتصر على الإسبان في معركة أنوال:

- الإجابة: محمد بن عبد الكريم الخطابي.

نكشآت النموذج السابع:

- فتح المعاهدة "أوشي لوزان" (بين الدولة العثمانية وإيطاليا)، "لوزان" (تخص تركيا الحديثة وسورية).
- نكشة الاستقلال: ليبيا استقلت 1951 بقرار من الأمم المتحدة.
- انتبه: معركة أنوال (المغرب/الخطابي)، معركة ميسلون (سورية/يوسف العظمة).



حل النماذج الامتحانية لكثفة الاجتماعيات (التاريخ)

النموذج الامتحاني : 8 – إعداد المدرس: عبد القادر منير

حل النموذج الثامن(8)

السؤال الأول: أجب عن الأسئلة الآتية (140 درجة)

1: اختر الإجابة الصحيحة، وانقلها إلى ورقة إجابتك:

• تذرعت فرنسا لاحتلال موريتانيا بحجة نشر الأمن وحماية:

○ الإجابة: أ: التجارة

• نالت موريتانيا استقلالها عن فرنسا عام:

○ الإجابة: ج: 1960م

• الوسيلة الثقافية الأهم التي حافظت على عروبة موريتانيا هي:

○ الإجابة: ب: المحاضر

• قاد المقاومة الموريتانية ضد الزحف الفرنسي في مطلع القرن 20:

○ الإجابة: أ: الهبة بن ماء العينين

2: ضع كلمة (صح) أو (خطأ) جانب العبارات الآتية:

• (أ): اتفاقيات "الحماية" البريطانية في الخليج كانت شكلاً من أشكال الشراكة الاقتصادية المتكافئة.

○ الإجابة: (خطأ)

• (ب): استهدفت بريطانيا من احتلال عدن منع محمد علي باشا والقوى المنافسة من تهديد طريقها البحري.

○ الإجابة: (صح)

• (ج): ثورات جنوب اليمن أثبتت أن المد القومي العربي بعد ثورة 1952 وصل إلى أطراف الجزيرة العربية.

○ الإجابة: (صح)

3: رتب الأحداث التاريخية حسب تسلسلها الزمني مبتدئاً بالأقدم:

1. احتلال عدن (1839) م

2. استقلال اليمن الجنوبي (1967) م

3. انسحاب بريطانيا من الخليج (1971) م

4. قيام دولة الإمارات العربية المتحدة (1971) م

4: علل ما يلي (حل التعاليل الأربعة كاملة):

1. احتلال بريطانيا لعدن:

○ لتأمين طريق مواصلاتها إلى الهند، ولأهمية عدن الاستراتيجية (اشرافها على مضيق باب المندب)

2. قيام بريطانيا بتنفيذ سياسة "الحماية" بالخليج:

○ بهدف السيطرة على طرق التجارة البحرية، ومنع أي قوى دولية أخرى (مثل فرنسا أو روسيا) من الوصول إلى الخليج، ولتنشيط نفوذها السياسي والاقتصادي على المشيخات.

3. انسحاب بريطانيا من عدن (والجنوب العربي):

○ بسبب تصاعد الكفاح المسلح وقيام "جبهة التحرير القومية"، وتكبد بريطانيا خسائر بشرية كبيرة

4. قيام دولة الإمارات المتحدة:

○ نتيجة إدراك حكام المشيخات ضرورة الاتحاد لمواجهة التحديات السياسية والأمنية بعد انسحاب بريطانيا، ولتحقيق التنمية الاقتصادية والاجتماعية.



حل النماذج الامتحانية لكثفة الاجتماعيات (التاريخ)

النموذج الامتحاني : 8 – إعداد المدرس: عبد القادر منير

السؤال الثاني: أجب عن الأسئلة الآتية:

(1) عدد أساليب بريطانيا في السيطرة على مشيخات الخليج:

1. عقد معاهدات واتفاقيات "حماية" غير متكافئة.
2. إثارة الخلافات والنزاعات الحدودية بين المشيخات (سياسة فرق تسد).
3. تعيين معتمدين ومستشارين سياسيين بريطانيين للتدخل في الشؤون الداخلية.

(2) قارن بين الاستعمار البريطاني في الخليج والفرنسي في المغرب:

المقارنة	الاستعمار البريطاني في الخليج	الاستعمار الفرنسي في المغرب
أسلوب السيطرة	اعتمد على "الحماية" وإبقاء الحكام المحليين تحت إشراف المعتمد البريطاني.	اعتمد على "الحماية" المباشرة وتقسيم البلاد لمناطق نفوذ (فرنسية وإسبانية) ومحاربة الهوية.
الهدف الأساسي	تأمين طرق المواصلات الإمبريالية والسيطرة على الموارد النفطية.	نهب الثروات الزراعية والمعدنية وتغيير البنية الثقافية (الفرنسية).

(3) ما مضمون اتفاقيات الحماية؟

- تتعهد المشيخات بعدم التنازل عن أي جزء من أراضيها أو بيعه أو تأجيرها إلا لبريطانيا، وعدم إقامة علاقات دبلوماسية أو عقد معاهدات مع أي دولة أخرى دون موافقة بريطانيا، مقابل التزام بريطانيا بحماية المشيخات من أي اعتداء خارجي.

(4) ما مطالب ثوار جنوب اليمن؟

- الجلاء الفوري وغير المشروط للقوات البريطانية، توحيد السلطنات والمشيخات في دولة واحدة، وبناء جيش وطني قوي وتطوير الاقتصاد.

(5) كيف استطاع الإمارات العربية المتحدة تحقيق الوحدة؟

- عبر لقاءات مكثفة بين حكام الإمارات (خاصة دبي وأبو ظبي)، والاتفاق على دستور اتحادي مؤقت، وإعلان قيام الدولة في 2 كانون الأول 1971م، وانضمام بقية الإمارات للاتحاد تباعاً.

السؤال الثالث: أجب عن الأسئلة الآتية: إعداد المدرس: عبد القادر منير

1. ما مضمون الاتفاقية التي عُقدت بين بريطانيا والأمير مبارك الصباح عام 1899م؟

- التزم فيها الشيخ مبارك بعدم قبول وكيل أو قنصل لأي دولة أخرى، وعدم التنازل عن أي جزء من أراضي الكويت ببيع أو تأجير دون موافقة بريطانيا، وبذلك أصبحت الكويت تحت الحماية البريطانية الفعلية.

2. قارن في جدول بين سياسة الاحتلال البريطاني في كل من العراق واليمن الجنوبي:

السياسة	في العراق	في اليمن الجنوبي
الإدارية	تقسيم البلاد لولايات والاعتماد على الإدارة العسكرية المباشرة في البداية.	تجزئة البلاد إلى أكثر من 20 سلطنة ومشيخة لإضعاف الروح الوطنية.
الاقتصادية	نهب النفط والسيطرة على الأراضي الزراعية وربط العملة بالجنيه الإسترليني.	إهمال التنمية في المناطق الريفية والتركيز على عدن كميناء لخدمة السفن البريطانية.

نكشات وملاحظات النموذج الثامن:

- نكشة موريتانيا: الوسيلة هي "المحاضر" (وليس المدارس الفرنسية) هي التي حافظت على اللغة والعروبة.



حل النماذج الامتحانية لكثفة الاجتماعيات (التاريخ)

النموذج الامتحاني: 9 – إعداد المدرس: عبد القادر منير

حل النموذج التاسع (9)

السؤال الأول: أجب عن الأسئلة الآتية (140 درجة)
1: اختر الإجابة الصحيحة:

- تأسست جامعة الدول العربية في القاهرة عام:
 - الإجابة: ب: 1945م
- أول دولة عربية حققت الوحدة مع مصر عام 1958م هي:
 - الإجابة: ب: سورية
- ميثاق الجامعة العربية أكد على مبدأ السيادة و:
 - الإجابة: ب: عدم التدخل
- عدد الدول المؤسسة لجامعة الدول العربية هو:
 - الإجابة: ج: 7 دول

2: ضع كلمة (صح) أو (خطأ) جانب العبارات الآتية:

- (أ): مثلت جامعة الدول العربية عند تأسيسها سقف الطموحات الوجدانية للشعب العربي في ذلك الوقت.
 - الإجابة: (خطأ) لأنها كانت اتحاد دول مستقلة لا وحدة اندماجية.
- (ب): ميثاق الجامعة العربية أعطى قرارات الجامعة صفة الإلزام لجميع الأعضاء حتى لمن لم يصوت عليها.
 - الإجابة: (خطأ) القرارات ملزمة فقط لمن يقبلها، والقرارات الهامة تتطلب الإجماع.
- (ج): الوحدة السورية المصرية عام 1958 كانت استجابة شعبية كاسحة لواقع التهديدات المحيطة بالبلدين.
 - الإجابة: (صح)

3: رتب الأحداث التاريخية حسب تسلسلها الزمني مبتدئاً بالأقدم:

1. تأسيس جامعة الدول العربية (1945) م.
2. الوحدة السورية المصرية (1958) م.
3. احتلال إسرائيل الجولان السوري: حزيران 1967م
4. قمة الخرطوم (قمة اللاءات الثلاث): آب 1967م.

4: علل ما يلي (حل التعاليل الأربعة كاملة):

1. قيام جامعة الدول العربية:
 - لتنسيق التعاون السياسي والاقتصادي بين الدول العربية المستقلة، وتوحيد المواقف تجاه القضايا القومية (خاصة فلسطين).
2. فشل أو انفصال أو تعثر الوحدة بين سورية ومصر عام 1961:
 - بسبب تأمر القوى الخارجية والرجعية، والأخطاء الإدارية (البيروقراطية)، وتغلغل الأجهزة الأمنية، وإهمال الخصوصية السورية في بعض القرارات الاقتصادية.
3. ظهور حزب الله اللبناني في جنوب لبنان عام 1982:
 - لحماية الحدود الإسرائيلية الشمالية
4. عجز الجامعة العربية عن حل بعض النزاعات العربية والإقليمية:
 - بسبب مبدأ "الإجماع" المطلوب لاتخاذ القرارات، وعدم وجود قوة عسكرية تابعة للجامعة لتنفيذ قراراتها، وتدخل القوى الدولية في الشؤون العربية، وتقديم المصالح القطرية على القومية.



حل النماذج الامتحانية لكثفة الاجتماعيات (التاريخ)

النموذج الامتحاني : 9 - إعداد المدرس: عبد القادر منير

السؤال الثاني: أجب عن الأسئلة الآتية:

(1) ما هي السياسة التي اتبعتها إيران في إقليم الأحواز (عربستان)؟

- منع تدريس اللغة العربية، وتغيير الأسماء العربية للمدن والشوارع إلى أسماء فارسية، وتهجير السكان العرب وتوطين الفرس مكانهم للسيطرة على موارد النفط.

(2) ما توصيات عصبة الأمم المتحدة بشأن قضية الموصل؟

- أوصلت ببقاء ولاية الموصل ضمن حدود العراق (تحت الانتداب البريطاني آنذاك) ورفض المطالب التركية بضمها، مع منح الأكراد بعض الحقوق الإدارية والثقافية.

(3) قارن بين قرارات مؤتمر بلتيمور الصهيوني 1942م وتوصيات اللجنة الأنجلو-أمريكية 1946:

وجه المقارنة	مؤتمر بلتيمور 1942	اللجنة الأنجلو-أمريكية 1946
الموقف من الهجرة	طالب بفتح أبواب فلسطين للهجرة الصهيونية دون قيود.	أوصت بإدخال 100 ألف مهاجر يهودي فوراً إلى فلسطين.
الهدف السياسي	إنشاء دولة صهيونية وتشكيل جيش يهودي.	إبقاء فلسطين تحت الانتداب حتى توضع تحت الوصاية الدولية.

(4) وازن بين أسباب انتفاضة الحجارة 1987م وانتفاضة الأقصى عام 2000م:

• انتفاضة الحجارة 1987: اندلعت بسبب استمرار الاحتلال، وتراكم القمع، وحادثة دهس العمال الفلسطينيين بشاحنة إسرائيلية.
• انتفاضة الأقصى 2000: اندلعت بسبب تدنيس (شارون) للمسجد الأقصى، وفشل المفاوضات السياسية في تحقيق الاستقلال، واستمرار بناء المستوطنات.

(5) ما هي أسباب كل من الحرب الأهلية اللبنانية الأولى 1958 والثانية 1975؟

الأولى	• 1958: بسبب الصراع حول الانضمام للأحلاف الأجنبية (حلف بغداد) وتأثر لبنان بمناخ الوحدة السورية المصرية.
الثانية	• 1975: بسبب التوترات الطائفية، ووجود المقاومة الفلسطينية في لبنان، والتدخلات الخارجية الإقليمية والدولية.

السؤال الثالث: أجب عن الأسئلة الآتية: إعداد المدرس: عبد القادر منير
1. قارن بين حرب الخليج الأولى والثانية والثالثة:

الحرب	الأطراف	الأسباب	النتائج
الأولى (1980)	العراق ضد إيران	نزاعات حدودية بشأن عربستان	خسائر بشرية واقتصادية هائلة للبلدين
الثانية (1991)	تحالف دولي ضد العراق	غزو العراق للكويت لأن الكويت طالبته بالديون	تدمير البنية التحتية للعراق وفرض حصار اقتصادي خانق.
الثالثة (2003)	أمريكا وبريطانيا ضد العراق	ذريعة أسلحة الدمار شامل	احتلال العراق وسقوط النظام وتدمير الدولة.

2. ما أسباب ثورة (انقلاب) 14 تموز في العراق عام 1958م؟

- معارضة الانضمام لـ "حلف بغداد"، والرغبة في إنهاء النفوذ البريطاني والحكم الملكي، وسوء الأوضاع الاقتصادية، والتأثر بالمد القومي العربي (ثورة 1952 والوحدة).

نكشات وملاحظات النموذج التاسع:

- نكشة الأحواز: يسمى في بعض الكتب "عربستان" وهو إقليم عربي محتل منذ 1925م.

حل النموذج الأول – جغرافية

السؤال الأول: اختيار من متعدد

1. (ب) أفريقيا وآسيا وأوروبا.
2. (ج) مضيق جبل طارق.
3. (ج) أوغاريت.
4. (ج) لبنان.
5. (ج) الصناعية.
6. (ج) الصلب والدهانات.
7. (ج) ميناء بانياس.

السؤال الثاني: صح أم خطأ (مع التعليل) (ملاحظة الطالب غير مُطالب بتعليل الإجابة كتبت لكم التعليل لزيادة الفهم)

1. صح: تمثل هذه الجبال فاصلاً تضاريسياً ومناخياً طبيعياً يحدد النهاية الشمالية للأراضي السورية.
2. صح: تنتشر هذه التربة نتيجة تحلل الصخور الكلسية تحت تأثير الأمطار الوفيرة، مما يعطيها لونها الأحمر المميز.
3. صح: تؤدي الهجرة إلى إخلاء الأراضي الزراعية من اليد العاملة الخبيرة، مما يحولها إلى أراضٍ مهملة أو بائرة.
4. خطأ: تمتلك سورية عمقاً تاريخياً هائلاً يجعل السياحة الثقافية والأثرية ركيزة أساسية لا تقل أهمية عن الجمال الطبيعي.

السؤال الثالث: التفسير العلمي

1. تسمية نهر العاصي : يرجع ذلك لطبيعته الجيومورفولوجية المتميزة، حيث يجري بعكس اتجاه أنهار بلاد الشام الأخرى، فينحدر من الجنوب نحو الشمال.
2. تركيز صناعة الزيوت : ترتبط هذه الصناعة مكانياً بمناطق الإنتاج الزراعي للمحاصيل الزيتية (كالقطن والزيتون) لتقليل تكاليف النقل وتوافر المادة الخام الطازجة.
3. تنوع الأقاليم : يعود ذلك لامتداد الكبير للوطن العربي على درجات العرض، وتنوع مظاهر السطح من جبال وسهول وصحاري، بالإضافة للإشراف على مسطحات مائية متنوعة.
4. الأهمية الاستراتيجية لسورية : لكونها تمثل العقدة البرية والبحرية الأقصر التي تربط موانئ البحر المتوسط بالخليج العربي ودول آسيا الوسطى، فهي محطة ترانزيت عالمية.

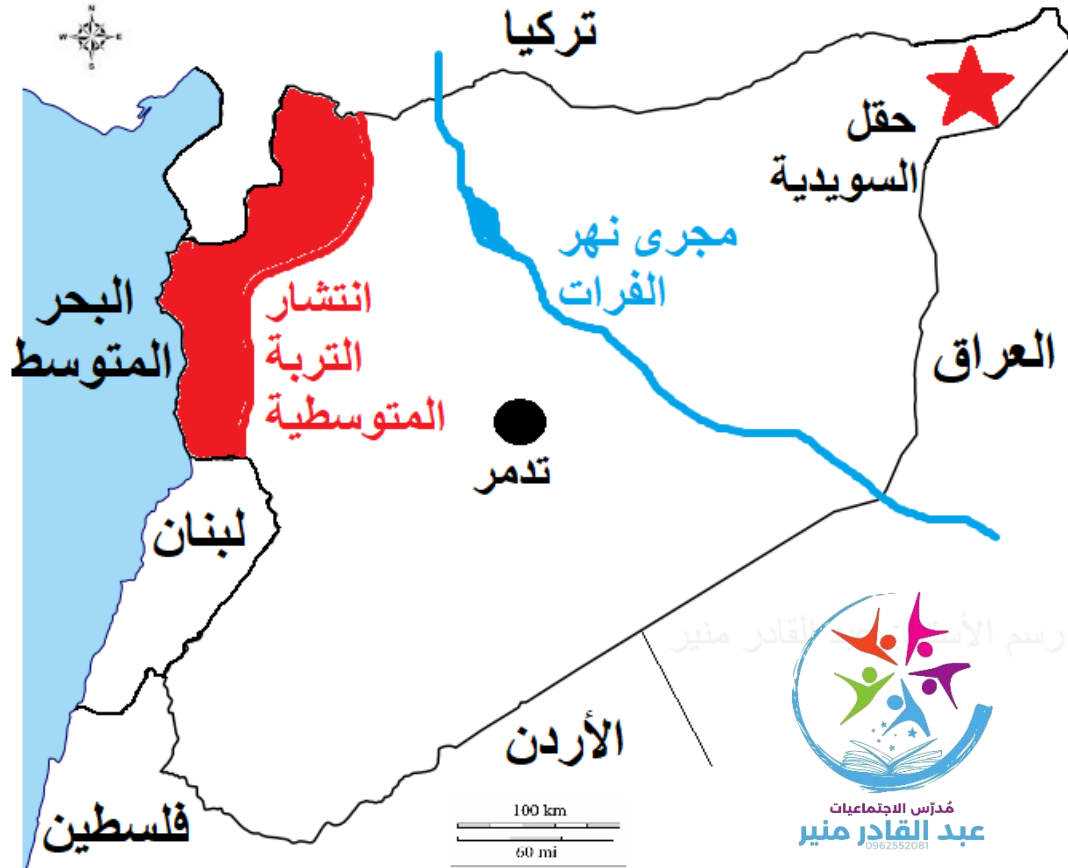
السؤال الرابع: خريطة المفاهيم (أ) أنهار دولية: نهر الفرات أو نهر دجلة. (ب) أنهار داخلية: نهر بردى أو نهر الأعوج. (ج) أنهار ساحلية: نهر السن أو نهر الكبير الشمالي.

السؤال الخامس:

- نتائج بناء السدود الدولية : يؤدي ذلك إلى نقص حصة سورية من المياه الواردة، مما يؤثر سلباً على برامج الري وتوليد الطاقة الكهربائية، ويتطلب اتفاقيات دولية عادلة لضمان الحقوق المائية.
- مقترح لمشكلة التلوث : إنشاء محطات معالجة مياه الصرف الصحي والصناعي قبل وصولها للمجاري المائية، وتفعيل القوانين البيئية التي تمنع إلقاء المخلفات في الأنهار.
- الأهمية الدينية للوطن العربي : يُعد مهداً للديانات السماوية الثلاث (اليهودية، المسيحية، الإسلام)، ويضم أقدس بقاع الأرض كالكعبة المشرفة في مكة، والمسجد الأقصى وكنيسة القيامة في القدس والجامع الأموي في دمشق.
- المقارنة: التربة اللحية : تنتشر في أحواض الأنهار (كالفرات والنيل)، وهي عالية الخصوبة لتجددها المستمر. التربة الصحراوية: تنتشر في المساحات الشاسعة من الداخل، وهي فقيرة بالمواد العضوية وقليلة الخصوبة.
- العوامل الطبيعية: تشمل أشكال التضاريس (يفضل السكان السهول)، والمناخ (الاعتدال والأمطار)، وتوافر الموارد المائية والتربة الخصبة.

السؤال السادس: تحليل النص

1. الدور التجاري :
تعمل سورية كجسر عبور (ترانزيت) بري وبحري يربط الأسواق الشرقية بالأسواق الغربية، مما يسهل تدفق البضائع العالمية.
2. المشكلة والاقترح :
المشكلة هي الأطماع الاستعمارية والنزاعات الدولية للسيطرة على هذا الموقع؛ الحل يكمن في تعزيز القوة الوطنية وتحقيق التكامل الاقتصادي العربي لحماية هذه المنافذ.
3. مقومات السياحة الثقافية :
وجود المواقع الأثرية العالمية، القلاع التاريخية، والمتاحف التي تضم آثار الحضارات التي تعاقبت على هذا الجسر الجغرافي.
4. التصنيف :
أهمية جغرافية (من حيث الموقع) واقتصادية (من حيث التبادل التجاري).



مصور الجمهورية العربية السورية - رسم الأستاذ: عبد القادر منير

حل النماذج خاص بمنصة أون لاين التعليمية

حل النموذج الثاني

السؤال الأول: اختيار من متعدد

1. (ب) البحر المتوسط.
2. (ج) مضيق باب المندب.
3. (ب) الجنوبية الغربية.
4. (ب) نهر بردى.
5. (ج) القطن.
6. (ج) المنغيز.
7. (ج) حماة.

السؤال الثاني: صح أم خطأ (مع التعليل) (ملاحظة الطالب غير مُطالب بتعليل الإجابة كتبت لكم التعليل لزيادة الفهم)

1. (صح) : هذا هو النموذج المناخي السائد في حوض المتوسط، حيث تؤثر الرياح الغربية الماطرة شتاءً، ويسود الجفاف صيفاً.
2. (خطأ) : تمتلك سورية تنوعاً كبيراً يشمل الفوسفات، الملح الصخري، الرخام، وحجر البناء وخامات الحديد.
3. (صح) : (لأن الزراعة توفر الاحتياجات الغذائية الأساسية للسكان وتؤمن المواد الأولية للصناعات الغذائية والنسجية).
4. (صح) : (توفر هذه الينابيع (مثل نبع أبو رياح) مياهاً غنية بالعناصر المعدنية التي تساعد في علاج العديد من الأمراض الجلدية والمفصلية).

السؤال الثالث: التفسير العلمي

1. تناقص أعداد البدو :
نتيجة لسياسات الدولة في تشجيع الاستقرار، وتوفير فرص العمل في القطاعات الحديثة، وانتشار التعليم والخدمات في مناطق الاستقرار.
2. أهمية الشمندر السكري :
محصول استراتيجي يؤمن المادة الخام لصناعة السكر محلياً، كما تُستخدم مخلفاته (الأوراق واللب) كأعلاف غنية للثروة الحيوانية.
3. تركيز السكان :
بسبب توافر المياه العذبة، وسهولة المواصلات، وخصوبة التربة، والمناخ المعتدل الذي يسهل النشاط البشري.
4. ضيق الرصيف القاري :
يعود ذلك للاقتراب الكبير للسلاسل الجبلية الساحلية من خط الساحل، مما يجعل الانحدار نحو البحر شديداً ومباشراً.

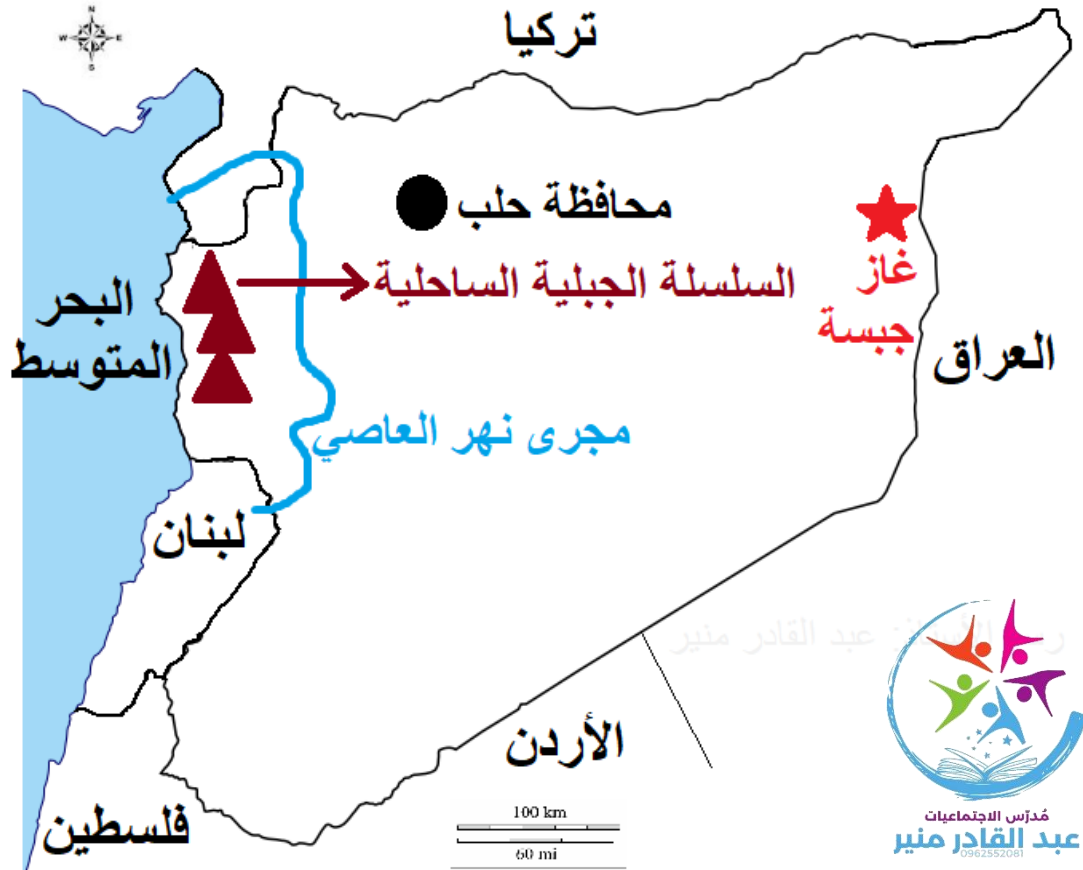
السؤال الرابع: خريطة المفاهيم (أ) سياحة ثقافية: مدينة تدمر أو قلعة الحصن. (ب) سياحة جمالية: منطقة كسب أو صلنفة. (ج) سياحة دينية: الجامع الأموي أو كنيسة معلولا. أو أي مكان ديني (إسلامي، مسيحي، يهودي موجود في سورية)

السؤال الخامس:

- نتائج الانجراف :
يؤدي إلى فقدان الطبقة السطحية الخصبة للتربة، مما يقلل من الإنتاجية الزراعية
- فوائد الغاز الطبيعي :
يعتبر طاقة نظيفة صديقة للبيئة (أقل تلوثاً)، وكلفته الاقتصادية أقل مقارنة بالنفط، ويتميز بكفاءة حرارية عالية في العمليات الصناعية.
- المقارنة :
مصفاة حمص : تقع في وسط القطر (عقدة مواصلات داخلية) .
مصفاة بانياس : تقع على الساحل السوري (موقع استراتيجي للتصدير والاستيراد).
- عوامل تطور النسيج في حلب :
توافر اليد العاملة الخبيرة تاريخياً، القرب من مناطق إنتاج القطن، ووجود سوق تجارية عريقة وقوية.
- جذب أرواد :
كونها الجزيرة المأهولة الوحيدة، وجود القلعة البحرية الأثرية، شهرة سكانها بصناعة السفن، وجمالها الطبيعي البحري.

السؤال السادس: تحليل النص

1. أهمية الفوسفات :
يمثل مادة أولية استراتيجية لتحويلها إلى أسمدة كيماوية، مما يرفع القيمة المضافة للمورد الطبيعي.
2. الرابط مع الزراعة :
توفير الأسمدة محلياً يساهم في تحسين جودة التربة وزيادة كمية الإنتاج الزراعي، مما يدعم الأمن الغذائي.
3. مواقع التركيز :
مناجم خنيفيس والشرقية (في البادية السورية التابعة لمحافظة حمص).
4. عامل الاستراتيجية :
الطلب العالمي المتزايد عليه، وضخامة الاحتياطي السوري، ودوره في تأمين القطع الأجنبي.



مصور الجمهورية العربية السورية - رسم الأستاذ: عبد القادر منير

حل النماذج خاص بمنصة أون لاین التعليمية

حل النموذج الثالث

السؤال الأول: اختيار من متعدد

1. (ج) المحيط الأطلسي.
2. (ج) ممرات برية دولية.
3. (ج) لبنان.
4. (ج) البوكمال.
5. (ب) إلب.
6. (ب) الزنك.
7. (ج) الثقافية.

السؤال الثاني: صح أم خطأ (مع التعليل) (ملاحظة الطالب غير مُطالب بتعليل الإجابة كتبت لكم التعليل لزيادة الفهم)

1. **صح**: (تم رسم الحدود لضمان تبعية المنطقة للمصالح الاستعمارية وتفتيت الوحدة الاقتصادية والجغرافية للأمة العربية).
2. **خطأ**: (تربة البادية غالباً ما تكون فقيرة بالعناصر العضوية، ورقيقة السمك، وتتأثر بنسب الملوحة العالية والجفاف).
3. **صح**: (تستفيد هذه الصناعة من الثروات الهيدروكربونية لتحويلها إلى مواد بلاستيكية وأسمدة ومنظفات).
4. **خطأ**: (تعتبر السكك الحديدية الوسيلة الأهم والأقل كلفة لنقل الكميات الضخمة من الفوسفات والنفط لمسافات طويلة نحو الموانئ).

السؤال الثالث: التفسير العلمي

1. **غنى الثروات الباطنية**: نتيجة لتعدد العصور الجيولوجية التي مرت بها المنطقة، وتنوع البنيات الجيولوجية من طيات وانكسارات ساعدت في تشكل وحبس الموارد.
2. **الزراعة المكثفة**: لمواجهة الزيادة السكانية المستمرة وضيق المساحات القابلة للزراعة، بهدف الحصول على أكبر إنتاجية ممكنة من وحدة المساحة.
3. **انتشار الغابات**: بسبب الهطولات المطرية الغزيرة التي تتجاوز غالباً 800 ملم، وتوافر الرطوبة الجوية والحرارة المعتدلة المناسبة لنمو الأشجار.
4. **تطور السياحة**: لامتتع سورية بالأمن والاستقرار (سابقاً)، وتنوع المنتج السياحي بين أثري وديني وجمالي، وتطور البنية التحتية للفنادق.

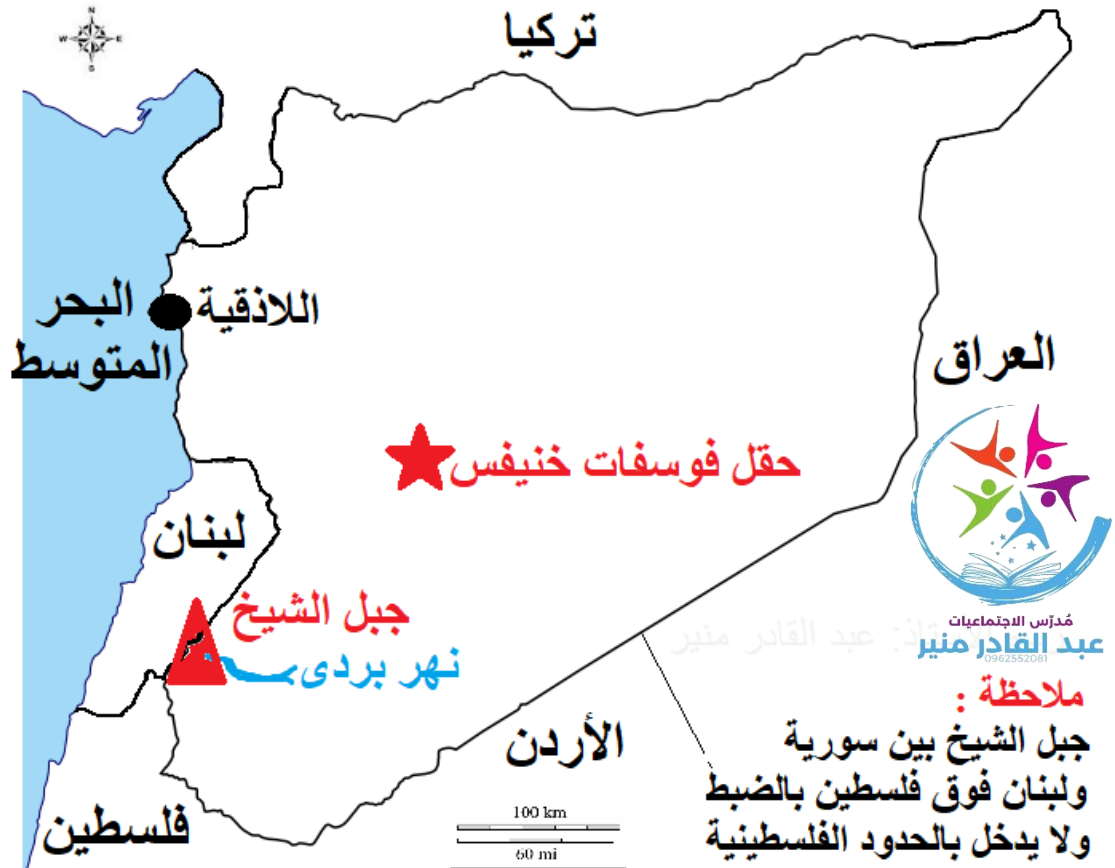
السؤال الرابع: خريطة المفاهيم (ج) إقليم حوض النيل) أو وادي النيل والقرن الأفريقي. (د) إقليم المغرب العربي.

السؤال الخامس:

- **نتائج الهجرة للخليج**: توفير رؤوس الأموال من تحويلات المغتربين، زيادة الخبرات الفنية، لكنها قد تسبب "هجرة العقول" والكوادر المؤهلة من الدول المصدرة.
- **العلاقة بين المناخ والنبات**: الأمطار هي المحدد الرئيسي؛ فالمناطق الرطبة تنمو فيها الغابات، وشبه الرطبة يسودها الاستبس، والجافة تقتصر على نباتات البادية الشوكية.
- **تصنيف الصناعة: استخراجية**: مثل استخراج النفط والغاز. **تحويلية**: مثل صناعة الغزل والنسيج.
- **مقومات الترانزيت**: الموقع الجغرافي المتوسط، وجود موانئ متطورة، شبكة طرق برية وسكك حديدية تربط الداخل بالساحل، والتسهيلات الجمركية.
- **المقارنة: نهر السن**: مياه عذبة جداً، تستخدم للشرب (اللادقية) والري. **نهر بردى**: مياه عذبة، تستخدم تاريخياً لري غوطة دمشق وتأمين مياه الشرب للعاصمة.

السؤال السادس: تحليل النص

1. المساهمة الحضارية :
تقديم أول نظام كتابي منظم للعالم (الأبجدية)، مما سهل التبادل المعرفي والثقافي بين الشعوب
2. القيمة التاريخية :
تعتبر أوغاريت مركزاً إشعاعياً حضارياً يثبت ريادة الإنسان السوري في تنظيم المجتمع والإدارة والتجارة الدولية.
3. الاستثمار السياحي :
وضع أوغاريت على خارطة السياحة العالمية كوجهة أساسية للباحثين عن أصول الحضارة، وتنظيم مهرجانات ثقافية دولية هناك.
4. عوامل الإبداع :
الموقع البحري المنفتح على الثقافات، وتوافر الموارد الطبيعية، والاستقرار الاقتصادي الناتج عن التجارة.



مصور الجمهورية العربية السورية - رسم الأستاذ: عبد القادر منير

حل النموذج خاص بمنصة أون لاين التعليمية

حل النموذج الرابع

السؤال الأول: اختيار من متعدد

1. (أ) الشمالي من الوطن العربي.
2. (ب) الجنوبية (الجنوب الغربي دقيقاً).
3. (أ) نهر السن.
4. (ج) الزراعة.
5. (ب) الحديد.
6. (ب) حلب.
7. (ب) كسب.

السؤال الثاني: صح أم خطأ (مع التعليل) (ملاحظة الطالب غير مُطالب بتعليل الإجابة كتبت لكم التعليل لزيادة الفهم)

1. **صح**: يشكل صلة الوصل بين قارات العالم القديم، ويشرف على أهم الممرات المائية المضائق وقناة السويس
2. **خطأ**: (التربة الفيضية توجد على ضفاف الأنهار الكبرى، بينما تسود التربة الصحراوية والرمادية في البادية.
3. **صح**: (يتمتع القطن السوري بصفات "طويل التيلة" والمتانة، مما يجعله مطلوباً بكثرة في الصناعات النسيجية العالمية الراقية.
4. **صح**: (تمثل هذه الموانئ البوابة البحرية لدول مثل العراق والأردن للوصول إلى البحر المتوسط بأسعار تنافسية.

السؤال الثالث: التفسير العلمي

1. أهمية السدود (الفرات) :
لتنظيم جريان النهر، وتوليد الطاقة الكهرومائية، وتخزين المياه لاستخدامها في ري مساحات شاسعة وتحقيق الأمن الغذائي.
2. صناعة الإسمنت :
لأنها صناعة "خاسرة للوزن"، حيث يفضل إقامتها قرب المواد الخام الثقيلة (الحجر الكلسي) لتقليل كلف النقل العالية.
3. انخفاض الوفيات :
نتيجة التطور الكبير في الرعاية الصحية، وانتشار اللقاحات، وتحسن مستوى التغذية والوعي الصحي لدى السكان.
4. تنوع الآثار في تدمر :
لكونها كانت محطة رئيسية على طريق الحرير، مما جعلها مزيجاً فريداً من العمارة الرومانية واليونانية والشرقية.

السؤال الرابع: خريطة المفاهيم (ب) (الفوسفات) . ج (الملح الصخري أو الجبس).

السؤال الخامس:

- نتائج نقص استثمار التحويلية :
تصدير الموارد كمعادن خام بأسعار رخيصة، زيادة البطالة، والاضطرار لاستيراد المنتجات المصنعة بأسعار مرتفعة بالعملة الصعبة.
- حلول التصحر :
زراعة المصدات الريفية (الأحزمة الخضراء)، تنظيم الرعي ومنع الرعي الجائر، واستخدام طرق الري الحديثة لمنع تملح التربة.
- المقارنة: المتوسطة :
غابات دائمة الخضرة (سنديان، بلوط). الاستبس : أعشاب ونباتات حولية قصيرة (شبح، قيصوم) تنمو في الربيع.
- أهمية المطارات :
تسهل حركة السياح الدوليين، وتدعم التجارة السريعة (السلع الثمينة)، وتربط الدولة بالعالم بشكل لحظي.
- السياحة الدينية بريف دمشق :
وجود المسجد الأموي، ودير صيدنايا، وكنائس معلولا التي تتحدث الأرامية، ومقام السيدة زينب.

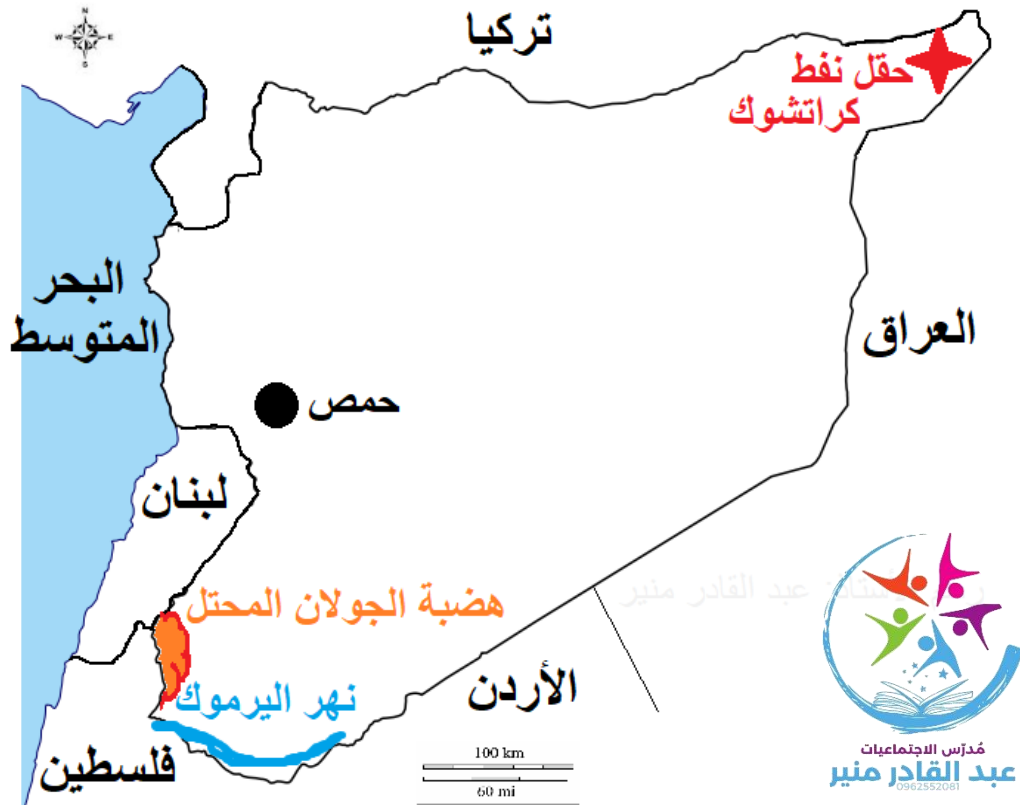
حل النماذج خاص بمنصة أون لاين التعليمية

السؤال السادس: تحليل النص

1. العلاقة التكاملية :
الزراعة توفر المواد الخام (قطن، شمندر) للصناعة، والصناعة توفر للمزارع الآلات والأسمدة، مما يخلق اقتصاداً قوياً متوازناً.
2. دور النفط :
يعتبر المورد الرئيسي للقطاع الأجنبي الذي تحتاجه الدولة لتمويل مشاريع التنمية وتوفير الاحتياجات الأساسية المستوردة.
3. مشكلات المورد الواحد :
الحساسية العالية لتقلبات الأسعار العالمية، وخطر نزوب المورد لأنه غير متجدد، مما يهدد استقرار الميزانية مستقبلاً.
4. التصنيف: متجددة: الزراعة. غير متجددة: النفط والغاز.

نصائح ذهبية لحل السؤال السادس (سؤال النص):

1. القراءة التحليلية : اقرأ النص ثلاث مرات؛ المرة الأولى للفهم العام، والثانية لاستخراج الأفكار الرئيسية، والثالثة للبحث عن الإجابات الدقيقة.
2. الربط بالمنهاج : غالباً ما تكون الإجابة "استنتاجية" تربط بين ما هو مكتوب في النص وبين ما درسته في الكتاب (مثلاً: النص يتحدث عن الموقع، أنت تستنتج الأهمية التجارية).
3. الدقة في المصطلحات: استخدم مصطلحات جغرافية واضحة (مثل: موارد غير متجددة، ترانزيت، أمن غذائي) لتعطي إجابتك صبغة أكاديمية.
4. الإجابة الكاملة: تجنب الإجابة بكلمة واحدة؛ بل صغ جملة تامة مفيدة تشرح وجهة نظرك المستمدة من النص.



مصور الجمهورية العربية السورية - رسم الأستاذ: عبد القادر منير

" فراشاتي وأبطالي التواسع .. أنتم الجيل الذي سيصنع مجدَ سورية القادم؛ فيعلمكم تُبنى الأوطان، وبإصراركم تذلل الصعاب، فاجعلوا من دراستكم اليوم فخراً لغدكم المشرق".

الأستاذ: عبد القادر منير

حل النماذج خاص بمنصة أون لاین التعليمية

حل النموذج الخامس (مستوى متوسط - مرتفع)

السؤال الأول: اختر الإجابة الصحيحة

1. (ب) جسراً يربط بين طرق التجارة العالمية.
2. (ج) المخططات الاستعمارية.
3. (ب) جريانه يعكس اتجاه معظم أنهار بلاد الشام.
4. (أ) التربة اللحية.
5. (ب) تنظيم الري وتوليد الطاقة.
6. (ب) الاستخراجية.
7. (ج) الثقافي التاريخي.

السؤال الثاني: ضع كلمة (صح) أو (خطأ) مع التعليل (ملاحظة الطالب غير مُطالب بتعليل الإجابة كتبت لكم التعليل لزيادة الفهم)

- (1) خطأ التعليل: لا تتطابق .. بسبب ما رسمته الدول الاستعمارية من حدود اصطناعية
- (2) خطأ التعليل: هناك أنهار تعبر الأراضي السورية تتبع من خارجها، كالأنهار الدولية (الفرات ودجلة)
- (3) صح التعليل: لأن الزراعة المكثفة تؤدي إلى إجهاد التربة وفقدانها للعناصر الغذائية مما يتطلب تعويضها بالأسمدة
- (4) خطأ التعليل: الأهمية تمتد لتشمل تنوع الأقاليم المناخية والنباتية في الوطن العربي وتنوع غلاته ووفرة مراعيه

السؤال الثالث: فسر علمياً

- (1) تركز الصناعات الثقيلة في حماة : بسبب موقعها المتميز وتوافر البنية التحتية المناسبة، حيث تخصصت المدينة بصناعة القضبان الحديدية التي تعد أساساً لقطاع البناء والإنشاءات
- (2) تزايد الطلب على مادة الإسمنت : نتيجة الحركة العمرانية النشطة في سورية، والتوسع في إقامة المشاريع الإنشائية والسكنية، مما جعل صناعة الإسمنت من الصناعات التحويلية الهامة المتنامية
- (3) تباين الكثافة السكانية : ترتفع الكثافة السكانية في السهول الساحلية لتوافر المياه العذبة وخصوبة التربة والمناخ المعتدل، بينما تقل في المنطقة الشرقية والبادية لقسوة المناخ والجفاف
- (4) الأهمية الاستراتيجية لأنابيب النفط : لأنها تعزز الأهمية الاقتصادية والجغرافية لسورية، حيث أصبحت أراضيها وموانئها ممراً حيوياً وأقصر الطرق لنقل النفط من شبه الجزيرة العربية والخليج إلى الأسواق الأوروبية.

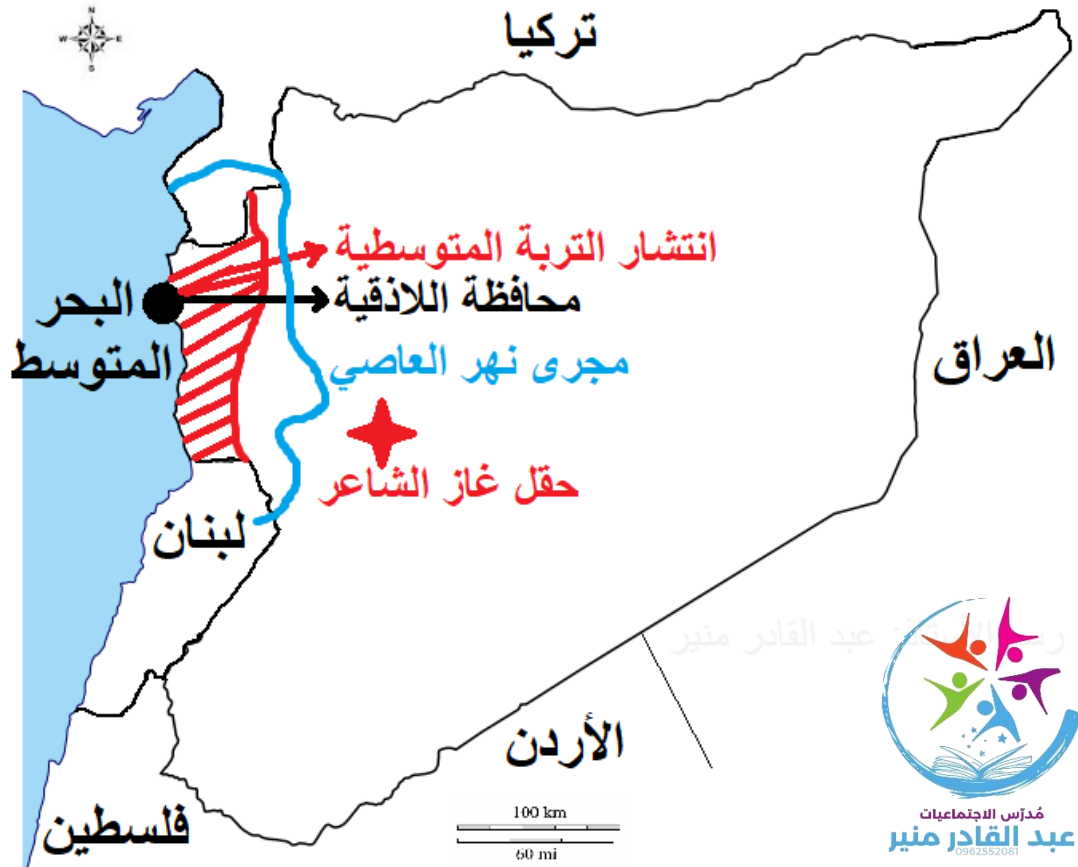
السؤال الرابع: أكمل خريطة المفاهيم (أ) صادرات زراعية مثل: القطن أو القمح . (ب) صادرات باطنية مثل: النفط أو الفوسفات . (ج) صادرات صناعية تحويلية مثل: المنسوجات أو المواد الغذائية المعلبة.

السؤال الخامس: أجب عن الأسئلة

- ماذا ينتج عن النطاق الجاف : ينتج عنه اتساع مساحة البيئة الصحراوية وشبه الصحراوية (البادية)، وقلة الموارد المائية السطحية، والاعتماد الكبير على المياه الجوفية، وضعف الإنتاج الزراعي في تلك المساحات الشاسعة.
- حل للزحف العمراني : إصدار قوانين صارمة تمنع البناء على الأراضي الزراعية الخصبة في الغوطة، وتوجيه التوسع العمراني وإنشاء المدن الجديدة نحو المناطق الهضبية أو الأراضي غير الصالحة للزراعة.
- مقارنة المصافي : مصفاة حمص تقع في الداخل وتعتمد في استقبال النفط الخام على الأنابيب القادمة من المنطقة الشرقية، بينما مصفاة بانياس تقع على الساحل ويمكنها استقبال النفط عبر الأنابيب أو تصديره وتكريره مباشرة لتسهيل نقله بحراً.
- العلاقة بين المناخ والغابات : المناخ المتوسطي الرطب في الجبال الساحلية يتميز بأمطار وفيرة واعتدال في الحرارة، مما يوفر البيئة المثالية لنمو الغابات الكثيفة الدائمة الخضرة كأشجار الصنوبر والسنديان والأرز.
- عوامل الصناعة في حلب : توافر اليد العاملة الخبيرة تاريخياً في قطاع النسيج، القرب من مناطق إنتاج المادة الخام (القطن) في سهول حلب والجزيرة، وتوافر رؤوس الأموال والسوق الاستهلاكية الكبيرة، واعتبارها حاضرة الشمال السوري وعقدة مواصلات.

السؤال السادس: تحليل النص

- **المقوم الجغرافي :**
الموقع المتوسط لسورية بين قارات العالم، وإشرافها على البحر المتوسط، وامتلاكها موانئ حيوية وعقدة طرق برية تربط آسيا بأوروبا.
- **المشكلة والحل :**
المشكلة هي ضعف أو تقادم البنية التحتية للسكك الحديدية وعدم ترابطها بشكل كافٍ مع دول الجوار؛ الحل يكمن في تطوير شبكات الخطوط الحديدية، وتحديث القطارات، وزيادة الاستثمار في قطاع النقل السككي لنقل البضائع الثقيلة كالفوسفات.
- **أثر تنوع وسائل النقل :**
يؤدي إلى تخفيض تكاليف النقل الإجمالية، وسرعة وصول السلع إلى الأسواق العالمية، مما يرفع من القدرة التنافسية للسلع السورية المُصدرة.
- **صنف دور الموانئ: دور خدمي** (لأنها تقدم خدمات النقل، الشحن، الترانزيت، والتفريغ للسلع).



مصور الجمهورية العربية السورية - رسم الأستاذ: عبد القادر منير

✍️ يا أبنائي، الجغرافيا ليست مجرد خريطة تُحفظ، بل هي وعيٌ بمقدراتِ وطنكم العظيم، فكونوا حراساً لهذه المقدراتِ بعلمكم وتفوقكم".

حل النماذج خاص بمنصة أون لاين التعليمية

حل النموذج السادس (مستوى صعوبة متوسط)

السؤال الأول: اختر الإجابة الصحيحة

1. (ب) يتوسط قارات العالم القديم.
2. (ج) النفط الخليجي.
3. (ب) قصيرة المجرى وسريعة الانحدار.
4. (ج) تحمل الجفاف لفترات قصيرة.
5. (ج) القطن.
6. (أ) صناعة الورق والمنظفات.
7. (أ) الجمال الطبيعي والهندسة التاريخية.

السؤال الثاني: ضع كلمة (صح) أو (خطأ) مع التعليل (ملاحظة الطالب غير مُطالب بتعليل الإجابة كتبتم لكم التعليل لزيادة الفهم)

- (1) خطأ. التعليل: تتناقص كمية الأمطار في سورية كلما اتجهنا من الغرب (الساحل) نحو الشرق والشمال الشرقي (الداخل) بسبب الابتعاد عن المؤثرات البحرية
- (2) خطأ. التعليل: الصناعة التحويلية هي المرحلة التي يتم فيها تحويل المادة الخام إلى منتج نهائي، بينما الصناعة الاستخراجية تعني استخراج الثروات من باطن الأرض
- (3) صح. التعليل: لأن العمالة الوافدة إلى بعض الدول العربية (كالخليج) تتألف في أغليبتها الساحقة من الذكور، مما يسبب خللاً كبيراً في التركيب النوعي للسكان
- (4) صح. التعليل: تساهم المحميات الطبيعية في حماية الثروة النباتية والحيوانية من التدهور والانقراض، وضمان استدامة الموارد للأجيال القادمة.

السؤال الثالث: فسر علمياً

(1) ضيق السهل الساحلي :

بسبب اقتراب السلسلة الجبلية الساحلية من البحر في مناطق معينة مما يضيق السهل، وابتعادها في مناطق أخرى مما يؤدي إلى اتساعه (2).

أهمية تنوع وسائل النقل :

لأنها تسهم في تنشيط الحركة الاقتصادية، وتسهيل نقل البضائع والأفراد، وربط مناطق الإنتاج بمناطق الاستهلاك والتصدير، مما يرفع الدخل الوطني (3).

تركز صناعة السكر في الغاب وحمص :

لوجود المادة الأولية وهي (الشمندر السكري) الذي يُزرع بكثافة في تلك السهول، مما يوفر تكاليف النقل ويضمن سرعة التصنيع (4). تفرد مدينة تدمر: لكونها تضم آثاراً تاريخية وحضارية عريقة ومتنوعة تعود لعهود قديمة، ولكونها تمثل واحة ومحطة قوافل تاريخية هامة في وسط البادية.

السؤال الرابع: أكمل خريطة المفاهيم (ب) (المواصلات) (ج) (الخدمات) أو الهجرة، أو توفر فرص العمل).

السؤال الخامس: أجب عن الأسئلة

• مقومات الصناعة الكيماوية

توافر المواد الأولية الباطنية محلياً بشكل كبير، وأهمها الفوسفات (لصناعة الأسمدة) والنفط والغاز الطبيعي (للصناعات البتروكيماوية وتكرير النفط)، بالإضافة لوجود أسواق لتصريف المنتجات كالقطاع الزراعي.

• مقارنة الهجرة :

الهجرة الداخلية (من الريف للمدينة) تؤدي إلى نقص اليد العاملة الشابة والخبير في الزراعة مما يضعف الإنتاج الريفي، بينما الهجرة الخارجية تفقد الريف والدولة معاً كفاءات علمية وطاقات إنتاجية (هجرة الأدمغة).

• أثر تنوع التضاريس :

أدى وجود الجبال والسهول والبادية في سورية إلى تنوع الأقاليم المناخية (من رطب إلى جاف)، وبالتالي تنوع الغطاء النباتي من غابات جبلية كثيفة إلى نباتات شوكية في البادية.

• الاعتماد المفرط على الموارد غير المتجددة: يؤدي إلى استنزاف هذه الثروات (كالنفط والغاز) وتعريض الأجيال القادمة للخطر الاقتصادي، وتأثر ميزانية الدولة بتقلبات الأسعار العالمية.

• حلول تقنية لهدر المياه :

التحول من الري التقليدي المفتوح إلى شبكات الري الحديثة (الري بالتنقيط والريذاف)، وبناء سدود لتجميع مياه السيول، ومعالجة مياه الصرف الصحي لاستخدامها في ري المزروعات.

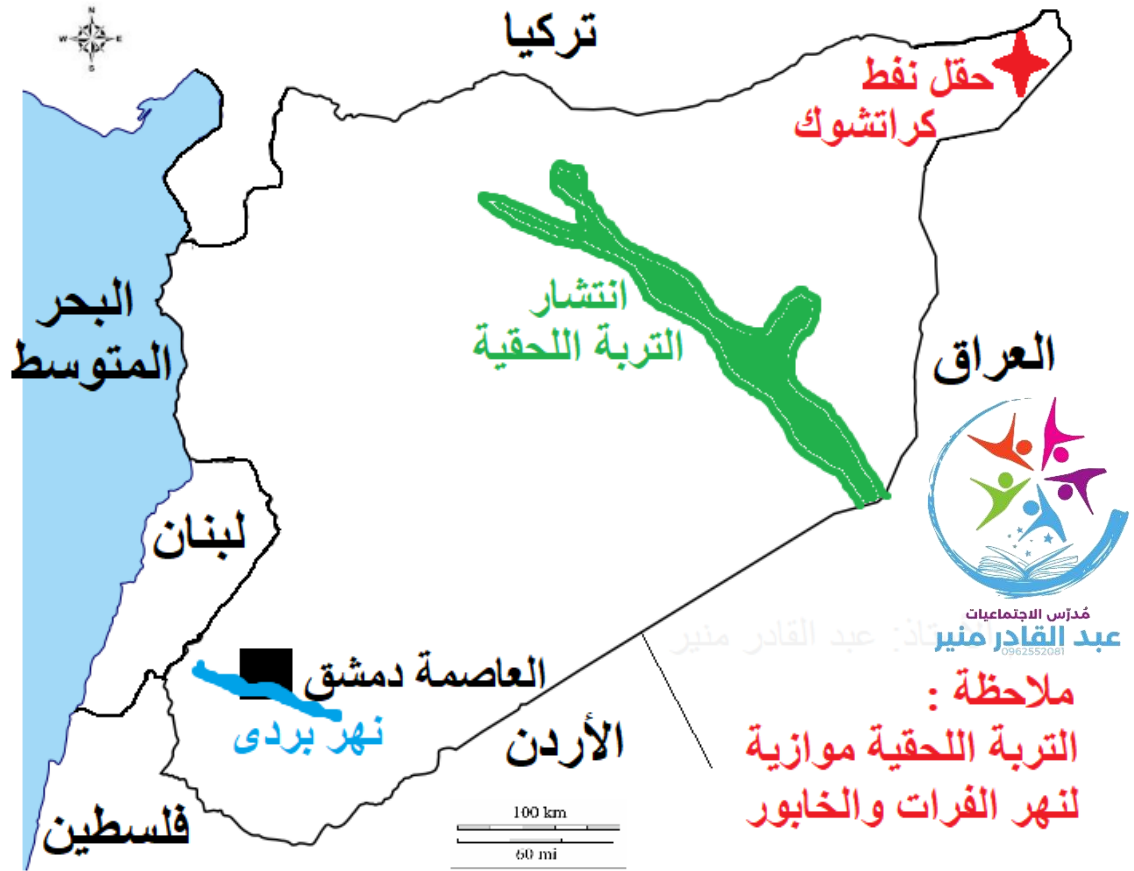
السؤال السادس: تحليل النص

• المقومات 1. امتلاك موارد طاقة هائلة (نفط وغاز). 2. توافر مساحات زراعية واسعة.

المشكلة: وجود الحدود السياسية الاصطناعية التي رسمها الاستعمار لتجزئة الأمة، واختلاف السياسات الاقتصادية التي تعيق التبادل التجاري السلس بين الأقطار العربية.

الفائدة لسورية: تنشيط الصادرات الزراعية والصناعية السورية، تأمين استثمارات عربية لمشاريع تنموية في سورية، وتوفير فرص عمل جديدة، وتحقيق فائض في الميزان التجاري.

تصنيف الموارد: موارد الطاقة الهائلة (موارد باطنية/غير متجددة)، مساحات زراعية (موارد سطحية/متجددة):



مصور الجمهورية العربية السورية - رسم الأستاذ: عبد القادر منير

" النجاش في الجغرافيا هو فهمٌ لرسالة الأرض، وأنتم اليوم أثبتتم أنكم أجيالٌ قادرةٌ على فهم وطنها وبناء مستقبله".

حل النماذج خاص بمنصة أون لاین التعليمية

حل النموذج السابع (مستوى صعوبة: متوسط - مرتفع)

السؤال الأول: اختر الإجابة الصحيحة

1. (ب) دول الخليج العربي وآسيا الوسطى.
2. (ب) قناة السويس.
3. (ب) بركانية.
4. (ب) سوء التصرف المائي وارتفاع منسوب المياه الجوفية.
5. (ب) القطن.
6. (ب) أقل كلفة في الاستخراج وأكثر حماية للبيئة.
7. (أ) القديمة والكلاسيكية.

السؤال الثاني: ضع كلمة (صح) أو (خطأ) مع التعليل (ملاحظة الطالب غير مُطالب بتعليل الإجابة كتبتم لكم التعليل لزيادة الفهم)

- (1) صح. التعليل: لأن جذور الأشجار تماسك التربة وتمنعها من الانجراف المائي والريحي على السفوح، بينما تساهم أوراقها في تطييف الجو وتعديل المناخ المحلي
- (2) صح. التعليل: لأن مراكز المحافظات توفر البنية التحتية، وشبكات المواصلات، والخدمات الإدارية، إضافة إلى الكثافة السكانية التي تشكل سوقاً استهلاكية كبيرة وعمالة متوفرة
- (3) صح. التعليل: لكونه مهبط الوحي والرسالات السماوية (اليهودية، المسيحية، والإسلام)، ووجود أقدس البقاع التي يؤمها ملايين الحجاج والمؤمنين
- (4) خطأ. التعليل: مياه نهر السن في سورية هي مياه عذبة نقية ونبعية غزيرة، وتُستثمر في تأمين مياه الشرب

السؤال الثالث: فسّر علمياً

- (1) توليد الطاقة من الينابيع : للاستفادة من غزارة تدفق هذه الينابيع (مثل السن) والانحدار الطبيعي في بعض المناطق، مما يوفر طاقة كهرومائية نظيفة ومستدامة بأقل التكاليف
- (2) تراجع مساحات الغابات : نتيجة للأنشطة البشرية السلبية كقطع الأشجار الجائر (للاحتطاب)، والتوسع في الأراضي الزراعية والعمرانية على حساب الغابات، والحرائق المتكررة الصيفية
- (3) الأهمية السياحية لمغارة الضوايات : تعد معلماً من معالم السياحة الجمالية والبيئية لتمييزها بالتشكيلات الكلسية الطبيعية الرائعة، مما يجعلها عامل جذب هام للسياح والمستكشفين
- (4) حلب عقدة مواصلات تاريخية : لموقعها الجغرافي الاستراتيجي الذي يتوسط طرق القوافل القادمة من الشرق (آسيا) باتجاه الغرب (البحر المتوسط) وأوروبا، وما زالت حتى اليوم مركزاً لتقاطع الطرق الحيوية.

- السؤال الرابع: أكمل خريطة المفاهيم (أ) سياحة استجمام وجمال مثل: المصايف الجبلية كصنفة وكسب. (ب) سياحة علاجية مثل: ينابيع أبو رياح أو الحمامات الكبريتية. (ج) سياحة تعليمية مثل: زيارة المتاحف وبنوراما حرب تشرين.

السؤال الخامس: أجب عن الأسئلة

- استخدام الطاقة المتجددة: ينتج عنه حماية البيئة من التلوث والانبعثات الضارة، وتوفير الموارد الناضبة (النفط والغاز) لتصديرها، وضمان استمرار الإمداد الكهربائي للصناعة والزراعة بشكل مستدام.
- مقارنة النقل البحري والجوي: النقل البحري يتميز بقدرته على حمل أوزان وبضائع ضخمة جداً وتكلفة منخفضة للغاية (مناسب للنفط والفوسفات). النقل الجوي حمولته محدودة وخفيفة، وتكلفته مرتفعة جداً (مناسب للركاب والسلع الثمينة سريعة التلف).
- أثر احتلال الجولان: أدى إلى حرمان سورية من موارد مائية هامة جداً، كبحيرة مسعدة وأجزاء من الأنهار والمرتفعات، مما أثر سلباً على حصة سورية من المياه المتاحة للشرب والزراعة في المنطقة الجنوبية.
- تصنيف تدهور التربة: عوامل طبيعية (الجفاف، زحف الرمال الريحية)، وعوامل بشرية (الرعي الجائر، التكتيف الزراعي المجهد دون أسمدة، الري الخاطئ الذي يسبب التملح).
- مقومات كسب: تقع في جبال عالية مكسوة بالغابات الدائمة الخضرة، تطل مباشرة على البحر المتوسط، وتتمتع بمناخ لطيف معتدل في الصيف، مما يجعلها بيئة جميلة متكاملة.

حل النماذج خاص بمنصة أون لاين التعليمية

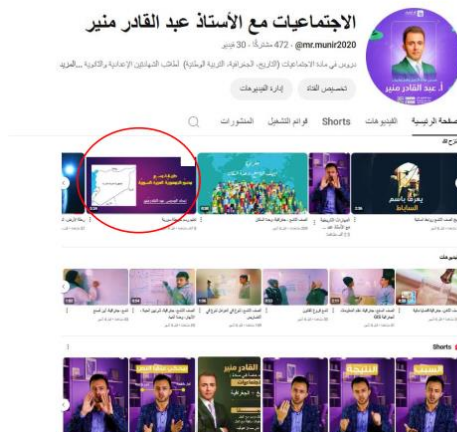
السؤال السادس: تحليل النص

- **المشكلة:** تدهور الثروة النباتية والحيوانية في مناطق البادية السورية بسبب غياب التنظيم واستنزاف الموارد.
- **حلين من النص:** 1. تنظيم عمليات الرعي لتجنب الرعي الجائر. 2. إقامة المحميات الطبيعية للحفاظ على التنوع الحيوي.
- **العلاقة بالأمن الغذائي:** استدامة الموارد (تربية ونبات) تضمن بقاء الأراضي صالحة للزراعة والرعي، مما يوفر الغذاء المستمر من لحوم وألبان ومحاصيل زراعية، ويحقق الأمن الغذائي بعيداً عن الاستيراد.
- **التصنيف:** منطقة البادية تُصنف جغرافياً ضمن المناخ الصحراوي أو شبه الصحراوي الجاف، وتسود فيها التربة الصحراوية أو التربة الجبسية الفقيرة بالمواد العضوية.



مصور الجمهورية العربية السورية - رسم الأستاذ: عبد القادر منير

حل النماذج خاص بمنصة أون لاين التعليمية



شاهدوا فيديو شرح كامل لطريقة رسم خريطة الجمهورية العربية السورية عبر قناتنا على اليوتيوب:

اسم الصفحة على اليوتيوب:

الاجتماعيات مع الأستاذ عبد القادر منير

رابط الصفحة:

<https://www.youtube.com/@mr.munir2020>

حل النموذج الثامن (مستوى صعوبة: مرتفع - تفكير ناقد)

السؤال الأول: اختر الإجابة الصحيحة

1. (ج) تنوع البنية الجيولوجية وتعدد العصور.
2. (ب) أقدم الكنائس والمساجد التاريخية.
3. (ب) ثلوج جبل الشيخ.
4. (ج) التربة الصحراوية.
5. (ج) الحمضيات.
6. (ب) الأسمدة الكيماوية.
7. (أ) الثقافة التعليمية.

السؤال الثاني: ضع كلمة (صح) أو (خطأ) مع التعليل

- (1) **صح**. التعليل: لأن مرور القوافل وشاحنات البضائع الدولية يفرض الحاجة لخدمات لوجستية، مما يعش محطات الوقود، والفنادق، والمصارف، ويجلب القطع الأجنبي لدعم الخزينة
- (2) **خطأ**. التعليل: مناخ الوطن العربي يتميز بالتنوع الشديد، حيث يمتد من المناخ المتوسطي المعتدل في الشمال، إلى المناخ الصحراوي القاسي في الوسط، والمناخ المداري الحار صيفاً في الجنوب
- (3) **خطأ**. التعليل: تعاني الثروة السمكية في سورية من ضعف الإنتاج بسبب ضيق الرصيف القاري وعدم استخدام وسائل الصيد الحديثة المتطورة بكفاءة عالية
- (4) **صح**. التعليل: لأن النمو السكاني المتسارع يتطلب بناء مستمر للمدارس والمشافي وتوفير الغذاء والمياه، مما يرهق ميزانية الدولة والموارد الطبيعية المتاحة.

السؤال الثالث: فسر علمياً:

- (1) **سورية متحف طبيعي**: لغناها الاستثنائي بالأثار التي تركها الإنسان السوري منذ فجر التاريخ وتنوع الحضارات (السومرية، الآرامية، الإسلامية وغيرها) التي توالى عليها أرضها بفضل موقعها كمعبر قاري
- (2) **نشوء الموانئ في مناطق الحماية**: لضمان سلامة رسو السفن وعمليات شحن وتفريغ البضائع بعيداً عن التيارات البحرية العاتية والأمواج، ولغياب التعرجات الطبيعية الكثيرة على الساحل السوري
- (3) **تفوق الصناعة التحويلية**: لأنها تضيف قيمة اقتصادية كبيرة للمادة الخام، بدلاً من تصدير القطن خاماً بسعر زهيد، يتم تحويله لملايش تباع بأسعار مضاعفة، مما يوفر أرباحاً هائلة وفرص عمل واسعة
- (4) **أهمية المحاصيل الصناعية**: تشكل العمود الفقري للاقتصاد السوري، فهي تؤمن المواد الأولية لمعامل النسيج والزيوت والسكر، وتوفر فائضاً للتصدير (كالقطن) يدعم الميزان التجاري السوري.

السؤال الرابع: أكمل خريطة المفاهيم

- (ب) نتائج سلبية: أصبح الوطن العربي هدفاً مستمراً للأطماع الاستعمارية للسيطرة على مقدراته وممراته
- (ج) نتائج ثقافية: جعله مهداً لالتقاء وتمازج الحضارات وانطلاق الديانات السماوية، وتنوع التراث الإنساني.

السؤال الخامس: أجب عن الأسئلة

- **نقص استثمارات النقل السككي**: يؤدي إلى رفع تكاليف النقل المعتمدة على الشاحنات البرية، وإبطاء حركة التجارة وتصدير الخامات الثقيلة كالفسفات، وزيادة حوادث الطرق وتلف البنية التحتية البرية.
- **حلول لزيادة الدخل السياحي**: الاهتمام بالترويج الإعلاني الرقمي لهذه المواقع المغمورة، توفير طرق معبدة وخدمات أساسية (مياه، كهرباء، فنادق صغيرة) حولها، وتنظيم رحلات دورية من قبل وزارة السياحة.
- **مقارنة بيئة القمح**: القمح القاسي يحتاج لبيئة تتوافر فيها أمطار وفيرة أو مناطق ذات معدل هطول مرتفع (كشمال وشمال شرق سورية)، بينما القمح الطري يمكن أن يتكيف مع ظروف هطول أقل وتعتمد زراعته أحياناً على الري.
- **أثر تطور الصناعة**: تساهم في جذب هجرة داخلية كثيفة من الريف نحو المراكز الصناعية (المدن) بحثاً عن فرص عمل، مما يؤدي إلى تضخم المدن السورية والتوسع العمراني الأفقي والعمودي.
- **سورية ممر آمن لأنابيب الغاز**: لأنها تمتلك موقعاً يتوسط منابع الطاقة في الخليج ومراكز الاستهلاك الكبرى في أوروبا، بالإضافة لاملاكها موانئ تصدير متطورة على المتوسط، وشبكة أمن بنوية تسهل مد الأنابيب.

السؤال السادس: تحليل النص

- علاقة الإنسان ببيئته : علاقة تكيف وإبداع، حيث استغل الإنسان السوري ظروف بيئته لابتكار أدوات تساعد على الحياة (النواير للتغلب على انخفاض مستوى النهر)، واستخدم جغرافيتها (المرتفعات) لبناء القلاع للحماية.
- المشكلة التقنية : مشكلة انخفاض مستوى مجرى نهر العاصي عن الأراضي الزراعية المجاورة، فابتكر النواير لرفع المياه بشكل آلي ومستمر للري.
- مقومات الاستمرار كجذب سياحي : الاهتمام الحكومي بترميمها، حمايتها من التخريب والإهمال، استثمارها كرموز ثقافية وتنظيم مهرجانات سياحية دولية في مواقعها.
- تصنيف القلاع : تُصنف ضمن السياحة الثقافية والتاريخية.



حل النماذج خاص بمنصة أون لاين التعليمية

مصور الجمهورية العربية السورية - رسم الأستاذ: عبد القادر منير

الاجتماعيات مع الأستاذ عبد القادر منير
@mr.munir2020 · 472 مشترك · 30 يونيو
تدريس في مادة الاجتماعيات (التاريخ، الجغرافيا، التربية المدنية) للطلاب المتفهمين الإبداعية والقدرة... العربية
إدارة الفيديوات
تعليمات القناة
إدارة الفيديوات

الصفحة الرئيسية الفيديوات Shorts فرام التعليل المنقولات
الشرح

فيديو: شرح كامل لطريقة رسم خريطة الجمهورية العربية السورية عبر قناتنا على اليوتيوب

الفيديوات

Shorts



شاهدوا فيديو شرح كامل لطريقة رسم خريطة الجمهورية العربية السورية عبر قناتنا على اليوتيوب :

اسم الصفحة على اليوتيوب:

الاجتماعيات مع الأستاذ عبد القادر منير

رابط الصفحة :

<https://www.youtube.com/@mr.munir2020>

حل النموذج التاسع (مستوى صعوبة: مرتفع - تحليلي)

السؤال الأول: اختر الإجابة الصحيحة

1. (ب) امتداده الواسع في العروض المدارية الحارة وشبه الحارة.
2. (أ) أوروبا وشرق آسيا (أو ما يربط المحيط الهندي بالبحر الأحمر نحو المتوسط).
3. (ب) نهراً داخلياً يصب في بحيرة جافة.
4. (أ) التربة اللحية (وقد تكون الإجابة التربة الغدقة إذا توفرت كخيار مباشر يعاني من الملوحة وسوء التصريف، لكن في الخيارات المعطاة اللحية هي التي تعاني من الملوحة قرب مصبات) بناء على الخيارات يا أبطالي: التربة اللحية تعاني من الملوحة نتيجة التبخر في بعض أحواضها الداخلية.
5. (ج) القطن.
6. (ب) خامات الحديد.
7. (ب) الثقافة التاريخية.

السؤال الثاني: ضع كلمة (صح) أو (خطأ) مع التعليل

- (1) صح. التعليل: اختلاف التضاريس (جبال، سهول، أودية) يخلق أقاليم مناخية متعددة، مما ينوع المحاصيل (حمضيات في الساحل، قمح في الداخل) ويحدد أماكن الكثافة السكانية في المناطق المعتدلة والخصبة
- (2) خطأ. التعليل: وظيفة الموانئ السورية مزدوجة وشاملة؛ فهي تستورد البضائع، وتصدر الفائض الزراعي والصناعي والنفط والفوسفات، وتخدم كمعبر ترانزيت للدول المجاورة
- (3) صح. التعليل: لأنها تحافظ على التوازن البيئي، تلطف المناخ، تمنع انجراف التربة الجبلية.
- (4) خطأ. التعليل: يُعد النمو السكاني في الوطن العربي من أعلى المعدلات عالمياً (حوالي 19 بالألف)، بسبب ارتفاع المواليد وانخفاض الوفيات للرعاية الصحية.

السؤال الثالث: فسر علمياً

- (1) تركز السكان في المرتفعات: للابتعاد عن حرارة السهول والمناطق الداخلية القاسية صيفاً، ولاستغلال المناخ المعتدل والأمطار الوفيرة في الزراعة الصيفية والنشاط السياحي.
- (2) إقامة مصانع تجفيف وحفظ الخضار: لتقليل الفاقد والتالف من المنتجات الزراعية سريعة العطب، وتقليل تكاليف النقل، وضمان توافر هذه المواد الغذائية في الأسواق المحلية طوال العام ودعم التصدير
- (3) أهمية الملح الصخري: مورد طبيعي متوفر (كملاحات جبلية وتدمر) يغطي حاجة الاستهلاك المحلي الغذائي، ويدخل كمادة أساسية في الصناعات الكيميائية المختلفة والجلود
- (4) شهرة دير الزور بالجسر المعلق: لأنه يمثل تحفة هندسية ومعمارية نادرة تعبر نهر الفرات العظيم، مما يجعله معلماً سياحياً ثقافياً وجمالياً يجذب الزوار.

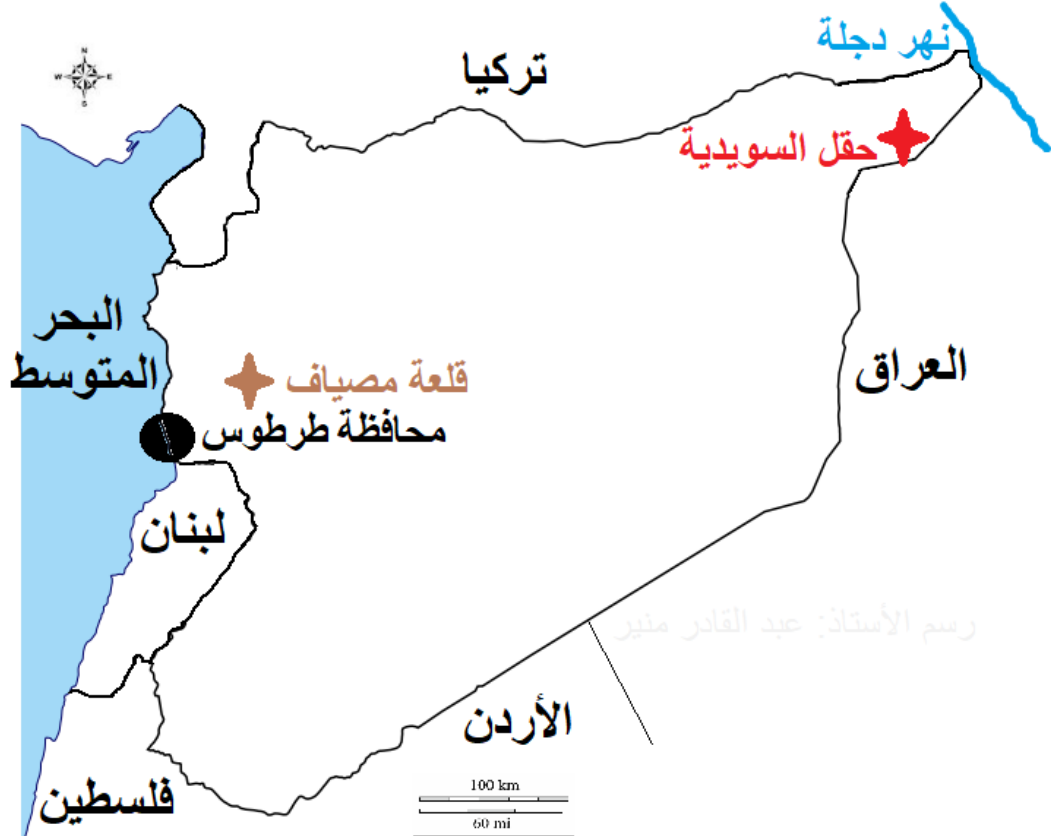
- السؤال الرابع: أكمل خريطة المفاهيم (ب) مقومات بشرية) :أيدي عاملة، سوق استهلاكية واسعة لتصريف المنتجات) . (ج) مقومات مالية وفنية) : رأس مال، سياسات وتشريعات داعمة من الدولة)

السؤال الخامس: أجب عن الأسئلة

- نتائج حفر الآبار العشوائية : يؤدي إلى استنزاف المخزون الاستراتيجي للمياه الجوفية، وجفاف الينابيع السطحية، وتراجع صبيب الأنهار الداخلية كيردى، مما يهدد الأمن المائي والزراعي.
- حلول لزيادة الصادرات الصناعية : التركيز على جودة المنتج لمطابقة المعايير العالمية، خفض تكلفة الإنتاج عبر استخدام التكنولوجيا الحديثة، وتفعيل الاتفاقيات التجارية لفتح أسواق عربية ودولية جديدة.
- المقارنة: مضيق هرمز : استراتيجيته تنبع من كونه الشريان الحيوي لتصدير نفط الخليج العربي إلى العالم. مضيق جبل طارق : استراتيجيته تكمن في كونه البوابة الغربية لمرور التجارة العالمية بين المحيط الأطلسي والبحر المتوسط.
- العلاقة بين المواصلات والسياحة : المواصلات الحديثة والأمنة والسريعة (مطارات، قطارات، طرق سريعة) تخفض وقت وجهد السفر، مما يشجع السياح ويسهل وصولهم لأبعد المواقع السياحية بأريحية.
- عوامل زراعة الحبوب بالجزيرة : اتساع الأراضي السهلية، خصوبة التربة اللحية الممتدة، توافر الموارد المائية الكبيرة بمرور أنهار الفرات ودجلة والخابور ومشاريع السدود عليها.

السؤال السادس: تحليل النص

- المشكلتين: الانجراف (فقدان التربة) والتملح (زيادة ملوحة التربة).
- الطريقة المقترحة: تطبيق أساليب الري الحديثة (التي تمنع هدر المياه وتمنع تجمع الأملاح)، واستصلاح الأراضي الواسعة لإعادتها لدائرة الإنتاج.
- الأثر على الميزان التجاري: زيادة مساحة الأراضي المستصلحة يزيد الإنتاج الزراعي، مما يخفض من فاتورة استيراد الغذاء، ويزيد من حجم الصادرات الزراعية، فيحقق فائضاً إيجابياً في الميزان التجاري السوري.
- التصنيف: مشكلة التملح في الأراضي المروية ناتجة بشكل أساسي عن نشاط بشري خاطئ (كالري التقليدي الغمر وسوء تصريف المياه الجوفية)



مصور الجمهورية العربية السورية - رسم الأستاذ: عبد القادر منير

" التحليل العميق هو مفتاح العبقريّة؛ وفي الجغرافيا، التحليل يجعلك تقرأ وتفهم قصة الأرض وتاريخها".

حل النماذج خاص بمنصة أون لاين التعليمية

تجدون في صفحتنا على الفيس بوك جميع الدروس والنماذج لكافة المراحل والصفوف :

اسم الصفحة: دليل الاجتماعيات لطلاب الشهادات الإعدادية والثانوية في سورية



مُدْرَسُ الاجتماعيات
عبد القادر منير
0992322021

دليل الاجتماعيات لطلاب
الشهادتيّ الإعدادية
والثانوية في سورية



حل النموذج العاشر (مستوى صعوبة: شامل - نهائي)

السؤال الأول: اختر الإجابة الصحيحة

1. (ب) موقعه المتوسط وتوافر الأنهار الكبرى.
2. (ب) البحر المتوسط والخليج العربي.
3. (أ) نهر السن.
4. (ج) نباتات البادية.
5. (ب) سلطنة عُمان.
6. (أ) النقل البحري والتصدير (وتأمين حاجة القطر).
7. (ب) بلاد الرافدين والفرات.

السؤال الثاني: ضع كلمة (صح) أو (خطأ) مع التعليل

- (1) **صح**. التعليل: لأن هذه العوامل تمثل مقومات بشرية وثقافية راسخة تخلق هوية مشتركة، مما يجعل أي خطط للتكامل الاقتصادي والسياسي العربي قابلة للنجاح متى توفرت الإرادة
- (2) **خطأ**. التعليل: تتركز حقول النفط السورية جغرافياً في المنطقة الشمالية الشرقية (كمحافظة الحسكة وحقول الرميلان والجزيرة) وفي بعض مناطق الوسط السوري، وليس في الجنوب الغربي
- (3) **صح**. التعليل: لأن الموانئ تقوم بتأمين صادرات القطر، وتستورد احتياجاته، وتقدم خدمات الترانزيت لدول الجوار، وتخلق فرص عمل هائلة، ما ينعش الدخل القومي
- (4) **صح**. التعليل: فهي تربة حمراء غنية بأكاسيد الحديد، وتحظى بمناخ معتدل وأمطار وفيرة في المنطقة الساحلية، مما يجعلها البيئة الأنسب لنجاح وتفوق زراعة الأشجار المثمرة والزيتون.

السؤال الثالث: فسر علمياً

(1) الأهمية الجيوسياسية لمضيق هرمز :

مضيق هام يصل بين الخليج العربي وخليج عمان والمحيط الهندي .

ليش عم نركز ع مضيق هرمز .. في هذه الأثناء يا أبطال هذا المضيق محور الأخبار ربما قد يأتي سؤال عليه ..!!
يمثل مضيق هرمز نقطة الاختناق الجغرافية الأهم عالمياً لنقل الطاقة، حيث يمر عبره الجزء الأكبر من النفط والغاز الخليجي المستهلك في الأسواق الآسيوية والأوروبية، فأى إغلاق له يهدد الاقتصاد العالمي

(2) ندرة السكان في الصحراوية :

بسبب المناخ القاري المتطرف (حرارة شديدة صيفاً وبرودة شتاءً)، ندرة الموارد المائية، فقر التربة لانعدام الغطاء النباتي، وصعوبة ممارسة أي نشاط اقتصادي كلاسيكي

(3) تطور الصناعات النسيجية :

يعود ذلك لارتباطها الوثيق والمباشر بالزراعة السورية؛ حيث توفر حقول القطن في الجزيرة السورية مادة خام قطنية ممتازة ورخيصة ومستدامة لمعامل النسيج في حلب ودمشق

(4) السياحة "صناعة القرن

لأنها قطاع اقتصادي استراتيجي يحقق عائداً مالية ضخمة بالقطع الأجنبي دون استنزاف للموارد الطبيعية الناضبة، ولأنها القطاع الأكثر توفيراً لفرص العمل المباشرة وغير المباشرة وتنشيطاً للبنية التحتية.

السؤال الرابع: أكمل خريطة المفاهيم فينا نحل هاد السؤال هيك أو مثل الخريطة أسفل السؤال

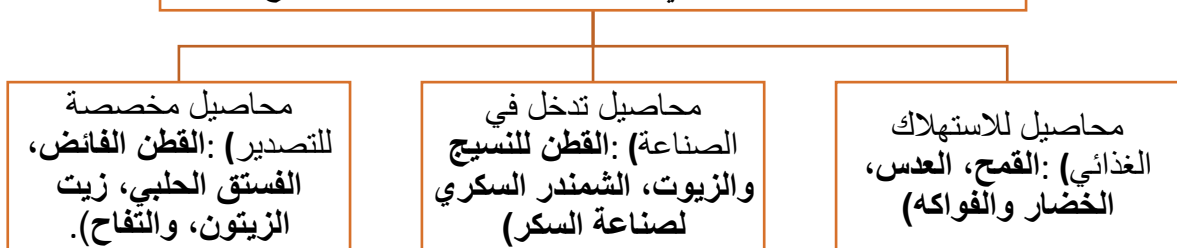
(أ) محاصيل للاستهلاك الغذائي: القمح، العدس، الخضار والفواكه

(ب) محاصيل تدخل في الصناعة: القطن للنسيج والزيت، الشمندر السكري لصناعة السكر

(ج) محاصيل مخصصة للتصدير: القطن الفانض، الفستق الحلبي، زيت الزيتون، والتفاح.

طلابي التوسع : هيك يكون شكل خريطة المفاهيم بالامتحان فيكم تجاوبو عليها بالطريقتين

المحاصيل الزراعية في سورية حسب الغرض من الإنتاج:



السؤال الخامس: أجب عن الأسئلة

- نتائج السدود الدولية دون اتفاقيات : يؤدي ذلك إلى انخفاض منسوب المياه الواردة لدول المصب (كسورية والعراق)، مما يضر بخطط التنمية الزراعية، ويقلل من توليد الطاقة، ويسبب مشكلات جفاف ونزاعات إقليمية بين الدول المتشاطئة.
- حل لربط الموانئ : توسيع وتحديث شبكات الطرق البرية السريعة والسكك الحديدية الممتدة من موانئ اللاذقية وطرطوس باتجاه الحدود العراقية والأردنية، وتوحيد وتسهيل التعرفة الجمركية لتسريع عملية الترانزيت.
- المقارنة : الثقافية: أهدافها المعرفة والاطلاع على تاريخ الشعوب، مواقعها المدن الأثرية والقلاع والمتاحف (كتدمر). الجمالية: أهدافها الاسترخاء والترفيه والتمتع بالطبيعة، مواقعها الغابات والمصايف الجبلية والسواحل (كصنلفة). أثر الهجرة على قطاع الخدمات : يؤدي التدفق السكاني الكبير من الريف إلى المدن إلى ضغط هائل على شبكات الصرف الصحي والمياه والكهرباء والمشافي والمدارس، وظهور أحياء عشوائية تفتقر للحد الأدنى من التنظيم الخدمي.
- سورية مقصد للسياحة الدينية : لغناها الكبير بالمقامات والمزارات الدينية الإسلامية (مسجد بني أمية بدمشق وحلب)، وتواجد أقدم الكنائس والأديرة المسيحية عالمياً (كدير السيدة صيدنايا وكنيسة معلولا التي تتحدث الأرامية لغة السيد المسيح).

السؤال السادس: تحليل النص

- فائدتين 1. التحول نحو الاقتصاد الأخضر والصدى للبيئة.
- 2. تقليل التكاليف الإنتاجية في المعامل السورية مقارنة باستخدام الوقود السائل.
- معنى الاقتصاد الأخضر : هو الاقتصاد الذي يعتمد على موارد وتكنولوجيا نظيفة أو أقل تلوثاً (كالغاز الطبيعي أو الطاقة المتجددة) بهدف تقليل الانبعاثات الكربونية وحماية البيئة لتحقيق التنمية المستدامة.
- المشكلة المنجزة : يحل الغاز مشكلة الانقطاعات الكهربائية عبر استخدامه كوقود رخيص وفعال في محطات توليد الطاقة الكهربائية لتلبية الطلب الصناعي والسكني المتزايد.
- التصنيف : يُصنف الغاز الطبيعي جغرافياً بأنه من الموارد الباطنية (غير المتجددة أو الفاتية).



مصور الجمهورية العربية السورية - رسم الأستاذ: عبد القادر منير

" هذا هو التنويج الأكاديمي لمسيرتكم؛ فثقوا بأنَّ كلَّ معلومةٍ جغرافيةٍ حفظتموها اليوم ستكونُ حجرَ أساسٍ لتبنوا به غداً يليقُ بسورية وطموحكم". الأستاذ: عبد القادر منير .
= انتهت النماذج العشرة مع الحل بحمد الله وتوفيقه =