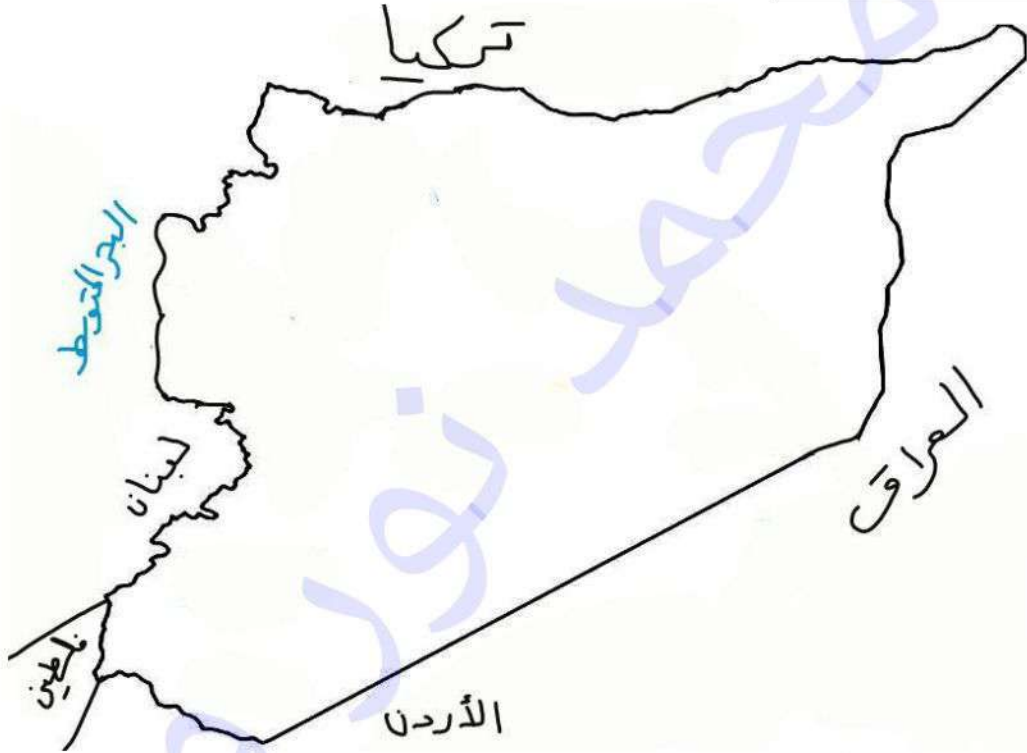


التسميات المطلوبة في الامتحان النهائي لمادة الجغرافية لخريطة الجمهورية العربية السورية

اولا: الحدود الطبيعية (البرية والبحرية)

الحدود السياسية:



• من الشمال: **تركيا**

• من الجنوب: **الاردن**

• من الشرق: **العراق**

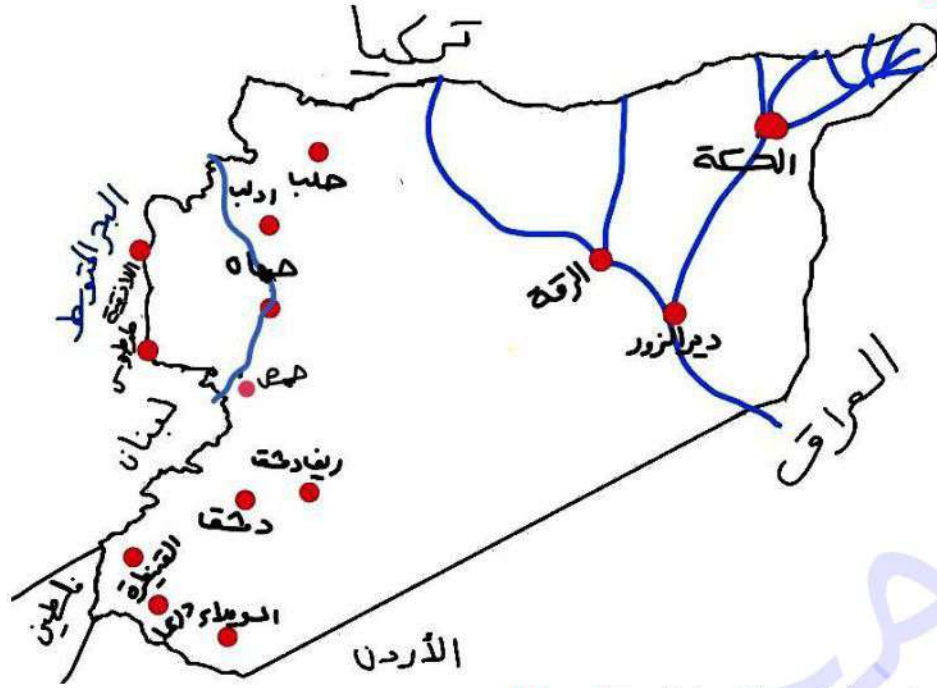
• من الغرب: **لبنان**

الحدود الطبيعية:

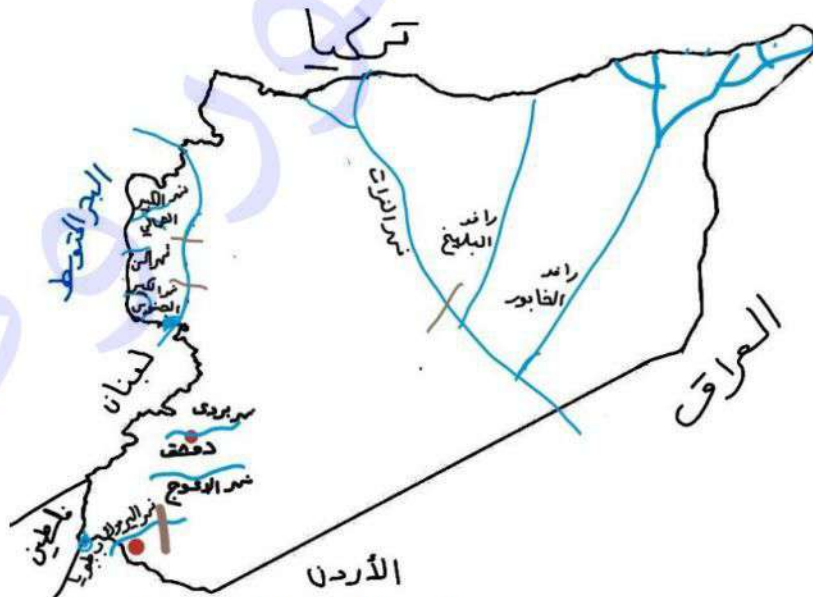
• من الغرب: **البحر المتوسط**

• من الجنوب الغربي: **بحيرة طبريا**

ثانياً: مراكز المحافظات:



- المحافظات الشمالية: حلب، ادلب
 - المحافظات الوسطى: حماه، حمص
 - المحافظات الجنوبية: ريف دمشق، دمشق، القنيطرة، درعا، السويداء
 - المحافظات الشرقية: الرقة، دير الزور، الحسكة
 - المحافظات الغربية الساحلية: اللاذقية، طرطوس
- ثالثاً: المجاري المائية وانواعها:



- المجاري المائية الساحلية: نهر الكبير الشمالي، نهر السن المنيع: من جبال اللاذقية

الصفات: قصير وشديد الانحدار

المصب: في البحر المتوسط

- المجاري المائية الداخلية: **نهر العاصي، نهر بردى، نهر الاعوج، نهر اليرموك**

المنبع: نهر العاصي: من هضبة بعلبك اللبنانية

المجرى: يسير في المحافظات الوسطى: **حمص، حماه**

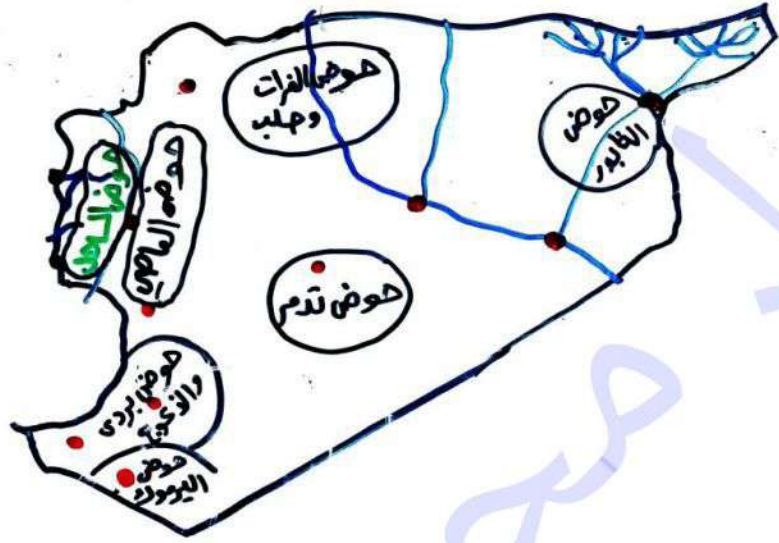
ابرز مشاريع الري: **سد الرستن، بحيرة قطنية**

المنبع	المجرى	المصب	
من حفرة الزبداني	يجري في حوضه دمشق	يصب في منخفض العتيبة	نهر بردى

- الانهار العابرة:

المنبع	المجرى والروافد	المصب	
من جبال طوروس التركية	يجري في المحافظات الشمالية الشرقية من سورية الرقة ورافده البليخ دير الزور ورافده الخابور الحسكة تقع على رافد الخابور	<u>كلاهما يتابعان سيرهما في الاراضي العراقية مشكلان شط العرب</u>	الفرات
من جبال طوروس التركية	يساير الحدود السورية العراقية من الجهة الشمالية الشرقية		دجلة

رابعاً: الاحواض المائية في سورية



توزيع الأحواض المائية في سورية

توزيع الأحواض المائية في سورية		
المحافظات الساحلية تضم نهري الكبير الشمالي ونهر السن المحافظات الوسطى تضم نهر العاصي	حوض الساحل ، حوض العاصي	في القسم الغربي
محافظة الحسكة ودير الزور	حوض الفرات وحلب حوض الخابور	في القسم الشمالي في القسم الشمالي الشرقي
محافظة دمشق على نهر بردى محافظة درعا على نهر اليرموك	حوض بردى والاعوج حوض اليرموك	في القسم الجنوبي الغربي
تجميع مياه الامطار	حوض البادية (الشامية)	في البادية السورية

- الهدف من الأحواض المائية: توزيع العادل للمصادر المائية في تأمين مياه الشرب والري

خامساً: التضاريس في سورية :



• اكمل الجدول الآتي:

انواع المظاهر التضاريسية في سورية				
الجبال البركانية الجنوبية ومن أهمها: جبل العرب في السويداء	الهضاب والمرتفعات الداخلية	الحفر الانهدامية	الجبال الغربية	الساحل والسهول الساحلية
جبال الجزيرة السورية جبل عبد العزيز وجبل سنجار	تضم بعض السلاسل الجبلية والهضاب العالية التي تشبه قمم الجبال وبعض الهضاب المنخفضة في الجزء الجنوبي الغربي ومن أهم السلاسل:	تشكلت بفعل العمليات البنائية تعد منطقة منخفضة شكلها الانهدام الآسيوي الأفريقي من أهمها:	تشكلت بفعل العمليات البنائية شكلت سلسلة الجبال الساحلية من أهم التضاريس:	العديد من الرؤوس والخلجان
مرتفعات تظهر الى الشرق من منطقة الانهدام: جبل حلب وجبل سمعان	سلسلة جبال لبنان الشرقية	في الشمال : سهل العمق يطل على جبل حارم	كتلة جبل البابر والبسيط	ساحل صخري
هضاب الشامية الشمالية: جبل البشري والجبال التدمرية الوسطى وهضبة الحماد	جبل الشيخ (حرمون) جبال القلمون بريف دمشق جبل قاسيون في دمشق	في الغرب: سهل الغاب مطلة على جبال اللاذقية وجبل الزاوية في ادلب	جبل الأقرع	ضيق السهول الساحلية بسبب اقتراب الجبال من البحر
	جبال السلاسل التدمرية	في الجنوب: سهل العشارنة في هضبة حوران	جبال اللاذقية	ساحل رملي في طرطوس تظهر جزيرة ارواد

سادساً: الثروات الباطنية والمعدنية في سورية :



• اكمل الجدول الآتي:

صخور ذات اهمية اقتصادية	الثروات المعدنية	حقل غاز	حقل نفط
<p>الملح الصخري: يستخرج من منطقة التينبي في شرق نهر الفرات</p> <p>الملح السبخي: يستخرج من مملحة الجبول شرقي حلب</p>	<p>خامات الحديد: منجم راجو في جبل حلب</p>	<p>حقل الشاعر في البادية السورية (تدمر)</p>	<p>حقل السويدية الحدودي مع العراق</p>
<p>المارن: يعد حجر الاساس لصناعة الاسمنت</p> <p>يتواجد في جبال الساحل وجبل الزاوية وسلسلة جبال التدمرية</p>	<p>المغنيزيوم: في منطقة البسيط غربي سورية</p>	<p>حقل جبشة في ريف دير الزور</p>	<p>حقول الفرات: القيم ، عمر ، الورد ، العشارة، الشعلة في دير الزور</p>
<p>البازلت: صخور بركانية ذات اهمية اقتصادية</p> <p>يتواجد في هضبة حوران</p>	<p>الفوسفات: حنفيش، الشرقية في سلسلة الجبال التدمرية ومنطقة الحماد</p>		<p>رميلان ، عليان في الحسكة</p>
	<p>الكبريت: الحمة في هضبة الجولان منطقة الضمير في جبال القلمون</p>		
	<p>الاسفلت: في جبل البشري منطقة الكفرية في شمال شرق اللاذقية</p>		

سابعاً: المناطق الصناعية في سورية:




• اكمل الجدول الاتي:

المناطق الصناعية في الجمهورية العربية السورية			
مدينة دير الزور الصناعية	مدينة عدرا العمالية في محافظة دمشق	مدينة حسياء الصناعية في محافظة حمص	مدينة شيخ النجار في محافظة حلب
صناعات من مشتقات النفط (البلاستيك) , صناعات غذائية	الصناعات الهندسية إنتاج الطاقة والكهرباء الصناعات الغذائية صناعة مواد البناء صناعات الخشبية	إنتاج الطاقة والكهرباء تكرير النفط في مصفاة حمص صناعة الاسمنت صناعات النسيجية	صناعة مواد البناء الصناعات النسيجية صناعة البتروكيماويات صناعات الغذائية

• اهم مصافي لتكرير مشتقات النفطية في سورية:

• مصفاة بانياس الساحلية ، مصفاة حمص.

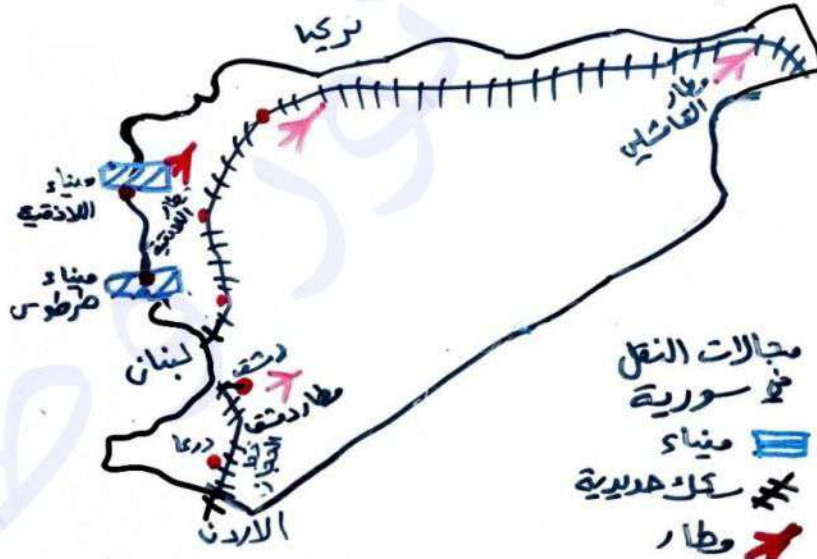
ثامناً: انواع المحاصيل الزراعية في سورية :



المواقع الأثرية والتاريخية	المعالم الطبيعية
<p>في محافظة اللاذقية: رأس شمرا أقدم أبجدية اوغاريت محافظة اللاذقية: قلعة صلاح الدين في محافظة ادلب: تل مردوخ تحتوي على أقدم مكتبات للتاريخ الإنساني وتعد أقدم مملكة عامرة محافظة درعا: مدرج بصرى الروماني، قوس النصر الروماني، مسجد مبرك ناقة، كنيسة الراهب بحيرا، واسوار النبطية محافظة السويداء: مدينة شبةا تعد مدينة الامبراطور الروماني فيليب الذي حكم روما ولا تزال اثارها مثل اقواس النصر والمسرح والقصور شاهدة حتى الان محافظة حمص: مملكة تدمر ، معبد بل، اقواس النصر محافظة حمص: قلعة الحصن محافظة حماه: النواعير محافظة الرقة: قلعة جعبر محافظة دير الزور: مملكة ماري</p>	<p>في درعا: بحيرة مزيريب، شلالات تل شهاب في الساحل السوري: جزيرة ارواد</p>

- محافظة دمشق: الجامع الأموي ، كنيسة يوحنا الدمشقي
- محافظة حلب: الجامع الاموي الكبير ، كنيسة الاربعة شهداء
- محافظة حمص: جامع خالد بن الوليد ، دير مارجرس الذي يحتوي على نسخة
من وثيقة الخليفة عمر بن الخطاب

تاسعاً: انواع النقل في الجمهورية العربية السورية:

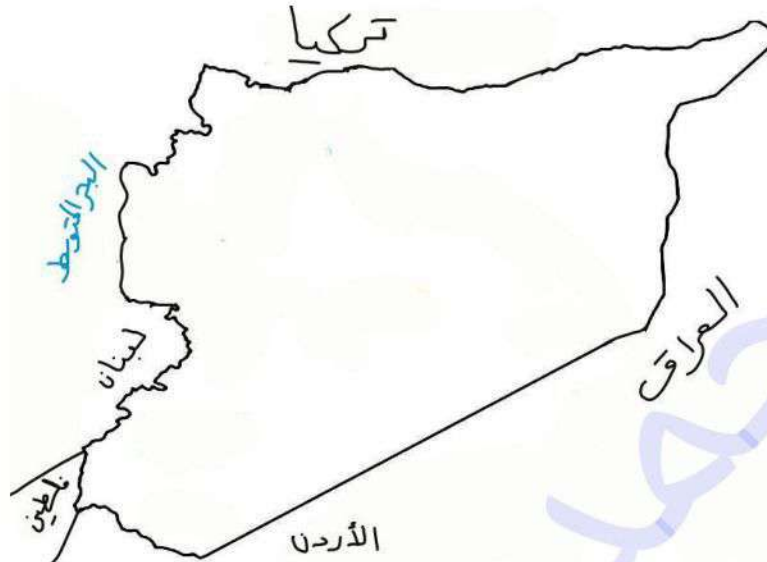


النقل الجوي	النقل المائي	النقل البري
<p>مطار دمشق الدولي مطار حلب الدولي مطار اللاذقية الدولي</p>	<p>النقل النهري: دوره محدود بالنقل النقل البحري: ميناء طرطوس وميناء اللاذقية</p>	<p>طرق السيارات: محور ساحلي: طريق اللاذقية - طرطوس طريق اللاذقية- حلب - دير الزور محور داخلي: طريق دمشق - حلب طريق حلب - الفرات الجزيرة سكك حديدية: خط الحديد الحجازي الواصل من دمشق درعا الاردن الى المدينة المنورة</p>

تطبيق امتحاني:

- ارسم خريطة الجمهورية العربية السورية بحدودها البرية والبحرية وثبت عليها التسميات الآتية:

محافظة درعا، نهر العاصي وبحيرة قطينة ، منجم حديد راجو ، مملكة تدمر



- ارسم خريطة الجمهورية العربية السورية بحدودها البرية والبحرية وثبت عليها التسميات الآتية :

محافظة حمص ، نهر الفرات ، انتشار زراعة الزيتون ، جبل عبد العزيز



- ارسم خريطة الجمهورية العربية السورية بحدودها البرية والبحرية وثبت عليها التسميات الآتية:

محافظة ادلب، جبل الزاوية ، مطار حلب الدولي ، ميناء طرطوس



انتهت الأسئلة

وفي الختام نرجو الدعاء بالتوفيق والنجاح لطلاب الشهادة الثانوية العامة الأدبي
والعلمي والتاسع

عن أبي هريرة رضي الله عنه، أن رسول الله ﷺ قال: (إِذَا مَاتَ ابْنُ آدَمَ انْقَطَعَ عَمَلُهُ
إِلَّا مِنْ ثَلَاثٍ: صَدَقَةٌ جَارِيَةٌ، أَوْ عِلْمٌ يُنْتَفَعُ بِهِ، أَوْ وَلَدٌ صَالِحٌ يَدْعُو لَهُ). (رواه مسلم)

مع تحيات: ا. محمد نور حسين وطفة

طفة