

### الدرس التمهيدي

### أولاً: أهم التغيرات على خريطة العالم السياسية

١- من سمات الخريطة السياسية على مر العصور...

- (أ) ثبات مساحات الدول. (ب) قابلية حدود الدول للتعديل.  
(ج) خلوها من القوى الكبرى. (د) اختفاء الظواهر الطبيعية

#### تذكر أن

١. من الدول التي ظهرت ككيان سياسي مستقل في تسعينيات القرن الماضي ولها حدود حالية مع دولة روسيا وأوكرانيا وكازاخستان
٢. من الدول التي تأثرت حدودها من تفكك الاتحاد السوفيتي (إيران وافغانستان وإيران- تركيا - بولندا ورومانيا)
٣. معظم الدول التي انفصلت عن الاتحاد السوفيتي تقع في الجانب الجنوبي الغربي

٢- إذا رسمت الخريطة السياسية في العقد الأخير من القرن الـ ٢٠ فسوف نلاحظ اختفاء .....

- (أ) دولة روسيا الاتحادية. (ب) الدول قزمية المساحة.  
(ج) الدول كبيرة المساحة. (د) اتحاد الجمهوريات السوفيتية

#### تذكر أن

- أدى انتهاء الصراع الأيدلوجي الى زيادة عدد الوحدات السياسية المشرفة على بحر قزوين والبحر الأسود وشرق البحر الأدرياتي شرق البحر البلطي
- ترتب على تفكك الاتحاد السوفيتي الى زيادة عدد الوحدات السياسية في آسيا وشرق أوروبا

٣- ظل عدد الدول المجاورة لهما ثابتاً بالرغم من تفكك الاتحاد السوفيتي»  
تنطبق العبارة على دولتي .....

- (أ) منغوليا والصين. (ب) منغوليا وكوريا الشمالية.  
(ج) أفغانستان وإيران (د) أفغانستان والصين

#### تذكر أن

- الدولة التي لم تتأثر حدودها بعد انهيار الاتحاد السوفيتي (كوريا الجنوبية والشمالية- الهند- منغوليا - اليابان - وباكستان)
- أدى تفكك الاتحاد السوفيتي الى زيادة عدد الدول المجاورة للصين وظهور دولة كازاخستان كأكبر دولة حبيسة في العالم وقيرغيزستان وطاجيكستان

٤- بمقارنة خريطة العالم السياسية قبل وبعد عام ١٩٩٠م نستنتج حدوث عدة تغيرات والتي تتركز بالركن .....

- (أ) الشمالي الشرقي. (ب) الجنوبي الشرقي  
(ج) الشمالي الغربي (د) الجنوبي الغربي.

#### تذكر أن

معظم التغيرات التي شهدتها خريطة العالم السياسية بعد انتهاء الصراع الأيدلوجي تقع جنوب الدائرة القطبية أو شمال مدار السرطان

٥- من الدول التي ظهرت ككيان سياسي مستقل في تسعينيات القرن الماضي ولها حدود حالية مع دولة روسيا .....

- (أ) منغوليا والصين. (ب) كازاخستان ومنغوليا  
(ج) أوكرانيا وكازاخستان. (د) أستونيا والصين.

#### تذكر أن

معظم التغيرات التي شهدتها خريطة العالم السياسية بعد انتهاء الصراع الأيدلوجي تقع جنوب الدائرة القطبية أو شمال مدار السرطان أو شرق خط جرينتش

٦- أكثر أجزاء قارة آسيا التي شهدت تغيرات ارتبطت بتفكك الاتحاد السوفيتي هي التي تطل على .....

- (أ) المحيط الهادي وبحر قزوين  
(ب) البحر الأسود والمحيط القطبي الشمالي.  
(ج) بحر قزوين والبحر الأسود.  
(د) المحيط القطبي الشمالي والمحيط ال

#### تذكر أن

من الدول التالية التي ظهر في نهاية الالقية الثانية بيلاروسيا- أوكرانيا- روسيا الاتحادية- إستونيا- لاتفيا- ليتوانيا- كازاخستان- قيرغيزستان- تركمانستان أوزبكستان- أذربيجان أرمينيا- أذربيجان- جورجيا- مولدوفا (رومانية)- طاجيكستان)

٧- في حالة استمرار الاتحاد السوفيتي دون تفكك حتى الآن، فسوف يكون عدد الدول المشرفة على بحر قزوين .....

- (أ) دولة واحدة. (ب) دولتان  
(ج) ثلاث دول. (د) أربع دول

#### تذكر أن

- في حالة خروج لاجئين من أوكرانيا فإن أقرب الدول لاستقبالهم هي بولندا أ رومانيا
- حدث تغيرات نتيجة لتفكك الاتحاد السوفيتي الحدود الشمالية والشرقية لدولتي رومانيا وبولندا

## ثانياً: مفهوم الجغرافيا السياسية

١- يتضح من مفهوم الجغرافيا السياسية ان الهدف النهائي من دراسة مظاهر السطح والقوة الديموغرافية هو التعرف على .....

- (أ) نشاطها الاقتصادي (ب) تنظيمها الداخلي  
(ج) نشاطها البشري (د) قوتها السياسي

### تذكر أن

- ان دراسة اثر التغيرات المناخية على الشواطئ المصرية يعبر عن المقومات الطبيعية
- الهدف الدفين من قيام الباحث الجغرافي بدراسة المقومات الطبيعية والبشرية والتنظيم الداخلي للدولة هو التعرف على وزنها السياسي

٢- في ضوء تحليلك لمفهوم الجغرافيا السياسية استنتج التقسيم الإداري لمحافظة البحيرة تعبر عن .....

- (أ) العلاقات الدولية (ب) التنظيم الداخلي  
(ج) المقومات الطبيعية (د) المشكلات السياسية

### تذكر أن

- دراسة النظام السياسي الانتخابي بالدولة يعبر عن التنظيم الداخلي
- اشراف الدولة على الانتخابات البرلمانية يمثل أحد اهتمامات الجغرافيا السياسية وهو التنظيم الداخلي
- مبادرة رئيس الجمهورية "حياة كريمة" لتطوير الريف المصري يمثل أحد اهتمامات الجغرافيا السياسية وهو التنظيم الداخلي

## ثالثاً: تطور علم الجغرافيا السياسية

١- الحدود المصرية اللببية في معظمها حدود منيعة لوجود بحر الرمال العظيم. تمثل تلك العبارة تجسيد معاصر لأفكار .....

- (أ) كيلين (ب) ابن خلدون  
(ج) راتزل (د) أرسطو

### تذكر أن

#### آراء ارسطو تركزت على

- ركزت آراء ارسطو على المقومات الطبيعية والبشرية وتأثيرها على قوة الدولة
- تشابهت افكاره مع اهداف الجغرافيا السياسية
- سقطت افكار ارسطو عن الحدود المحصنة في السنوات الاخيرة بسبب تطور اسلحة الحرب او التطور التكنولوجي
- عرفت الجغرافيا السياسية قبل الميلاد في البحر المتوسط في جهته الشمالية
- تركزت آراءه عن الموارد والموقع والمناخ

٨- ترتب على اندماج اليمن الجنوبي مع اليمن الشمالي في دولة واحدة .

- (أ) تناقص عدد الدول المجاورة لسلطنة عمان  
(ب) زيادة عدد الدول المجاورة لسلطنة عمان  
(ج) تناقص عدد الدول المطلة للبحر العربي  
(د) زيادة عدد الدول المجاورة للسعودية

### تذكر أن

الترتب على اندماج اليمن الشمالي والجنوبي في دولة واحدة

- : تناقص عدد الوحدات السياسية في جنوب غرب آسيا وشبة الجزيرة العربية
- اندماج اليمن الشمالي والجنوبي في دولة واحدة وهو ما يعنى تناقص عدد الدول المجاورة للملكة العربية السعودية
- اندماج اليمن الشمالي والجنوبي في دولة واحدة وهو ما يعنى عدم توثر الحدود السياسية لسلطنة عمان
- اندماج اليمن الشمالي والجنوبي في دولة واحدة وهو ما يعنى تناقص عدد الدول المجاورة لخليج عدن والبحر العربي

٩- ادى انقسام السودان الى العديد من التغيرات السياسية في افريقيا يخرج عن تلك التغيرات .....

- (أ) زيادة عدد الدول المجاورة للدولة افريقيا الوسطى  
(٢) ثبات عدد دوائر العرض التي تمر بالوطن العربي  
(٣) تناقص مساحة احدى الدول العربية  
(٤) زيادة عدد الوحدات السياسية للدول العربية

### تذكر أن

ترتب على انقسام السودان ما بين السودان الشمالي والسودان الجنوبي

- زيادة عدد الدول المجاورة لدولة افريقيا الوسطى ودولة اثيوبيا
- التغيرات التي شهدتها خريطة العالم في افريقيا في بداية العقد الثاني من القرن العشرين تقع في جنوب مدار السرطان وشمال الدائرة الاستوائية وتقع في شمال شرق افريقيا
- ٤: زيادة عدد الوحدات السياسية في شمال شرق قارة افريقيا

١٠- من خصائص الحدود أنها قابلة للنقل والحركة والاختفاء أحياناً. في ضوء هذه العبارة استنتج: المنطقة التي شهدت تعديلاً للحدود في العقد الأخير من القرن العشرين تشرف على .....

- أ: بحر قزوين  
ب: خليج هدسن  
ج: الخليج العربي.  
د: بحر المانش

### تذكر أن

- اي المسطحات المائية الآتية ذات اهمية قصوة للتجارة لروسيا الخارجية مع دول الجوار البحر الاسود
- اكثر الدولة التي تأثرت جميع حدود بالتغيرات التي حدثت في خريطة العالم في نهاية القرن العشرين بولندا

٤- الحدود بين الأرجنتين وشيلي تتوافق مع آراء أحد علماء... (ش ع ٢٠٢٤)

- (أ) الألمان  
(ب) المسلمين  
(ج) السويد  
(د) اليونان

## تذكر أن

- الحدود بين إسبانيا وفرنسا والحدود بين الهند والصين تتوافق مع آراء أحد علماء (اليونان) أرسطو
- يتضح عند تطبيق أفكار أرسطو على الخريطة السياسية على أهمية وجود الحدود الجبلية
- نجحت القوات المسلحة عام ١٩٧٣ في اقتحام مانع قناة السويس (الصعب) العبارة السابقة اثبتت خطأ افكار أرسطو

٣- اكتسبت سنغافورة مكانة دولية بفضل موقعها الجغرافي " العبارة السابقة تؤكد على صحة آراء

- (أ) كيلين  
(ب) ابن خلدون  
(ج) راتزل  
(د) أرسطو

## تذكر أن

- من خلال افكار ارسطو عن الدولة المثالية نلاحظ انه يركز في كتاباته علي المقومات البشرية
- كان لمناخ الكونغو الديمقراطية أثر سلبي على قوتها تنفق المقولة مع آراء ارسطو

٤- تقوم الدول المتقدمة بالتباحث المستمر لإيجاد علاقة متكافئة بين الأنشطة الاقتصادية والقوة الديموغرافية وجدنا ذلك في إحدى مؤلفات علماء الجغرافيا السياسية وهو.....

- أ- مقدمة التاريخ  
ب السياسة  
ج الجغرافيا السياسية  
د-الجيوبولتيك

## تذكر أن

- العالم الذي تناول ابعاد المشكلة السكانية هو ارسطو
- العالم الذي تناول سوء توزيع السكان و اثر على المشكلة السكانية ارسطو
- العالم الذي تناول اثر الزيادة الطبيعية والغير طبيعية على اقتصاد الدول ارسطو

٥ إذا اعتبرنا أن وزن دولة المملكة السعودية كقوة اقتصادية ناتج عن وجود موارد متعددة تتناسب مع حجم مناسب من السكان فإننا نعلم على آراء ...

- أ-ابن خلدون ب راتزل ج- أرسطو د كيلين

## تذكر أن

- تعد انهار سهول سيربيا أقصى شمال روسيا الاتحادية عديمة القيمة بسبب موقعها الفلكي ( تجسد العبارة السابقة آراء أرسطو).
- (الصين أصبحت تلعب دوراً أساسياً على مسرح العلاقات الدولية، بفضل كثرة مواردها ومهارة سكانها) تتوافق العبارة السابقة مع آراء أرسطو

١- العالم الذي تناول في مؤلفه العلاقة بين البدو والحضر هو...

- (أ) أرسطو  
(ب) ابن خلدون  
(ج) راتزل  
(د) كيلين

## تذكر أن

- التطور السياسي في منطقة شبه الجزيرة العربية ( جنوب غرب آسيا ) تتوافق مع آراء ابن خلدون
- "تنبأ الدكتور جمال حمدان في بعض مؤلفاته بانهيار بعض الدول"
- تدل العبارة السابقة على تأثره بافكار العالم ابن خلدون

٢- العالم الذي تحدث عن تدهور الدول وتعثرها وهو ينتمي الى

- (أ)الألمان (ب) المسلمين (ج) السويد (د)اليونان

## تذكر أن

- منطقة شبه الجزيرة العربية اكثر المناطق ارتباطاً بأفكار ابن خلدون
- ظهور النزعة الانفصالية لدى الجمهوريات السوفيتية في أواخر القرن العشرين دليلاً تعبر عن المرحلة الرابعة من مراحل تطور الدولة عند ابن خلدون
- يؤكد تفكك اتحاد الايكواس نتيجة للأوضاع الحالية في دول غرب افريقيا صحة آراء العالم ابن خلدون

١- عند دراسة خريطة الوحدات السياسية للعالم نجد هناك تباين في

مساحات الدول وهذا يتفق مع آراء.....

- أ-ابن خلدون ب-ارسطو ج-راتزل د سيجفريد

## تذكر أن

- أرسطو- ابن خلدون - راتزل - كلين كانت لهم إسهامات في علم الجغرافيا السياسية وقد اتفقوا جميعاً في دراسة الوحدات السياسية
- السمة الغالبة على خريطة العالم السياسية هي التغيير المستمر وأكد ذلك كل من ابن خلدون راتزل
- ظهر الميلاد الحقيقي لجغرافيا السياسية في جنوب بحر البلطيق (المانيا- غرب اوربا)
- الدولة التي استغلت آراء علماء الجغرافيا السياسية في تحقيق طموحتها التوسعية ( المانيا (غرب اوربا) واراء راتزل
- تباين مساحة بعض الدول في خريطة العالم السياسية تتوافق مع آراء راتزل

## خامساً أهداف الجغرافيا السياسية

أى الأهداف الآتية ويمثل الجانب العملي التطبيقي لدراسة الجغرافيا السياسية

- (أ) دراسة سلوك الدولة السياسي  
(ب) وضع حلول للمشكلات السياسية  
(ج) دراسة المعوقات الطبيعية والبشرية للدولة  
(د) تحليل التجمعات الإقليمية والعالمية

## تذكر أن

- من أهداف الجغرافيا السياسية تمثل الجانب العملي التطبيقي وضع حلول للمشكلات السياسية
- الجانب العملي لأهداف الجغرافيا السياسية في إيجاد حلول لبعض المشكلات

٢- تعتمد دراسة الجغرافيا السياسية على الاهتمام بركيزتين هما

- (أ) مظاهر القوة التنظيمية والضعف الاقتصادي  
(ب) العلاقات الدولية ومظاهر القوة التكنولوجية  
(ج) مظاهر السطح ومظاهر القوة الديموغرافية  
(د) مظاهر السطح وتنوع المناخ

## تذكر أن

- دراسة الجغرافيا السياسية تعتمد على الاهتمام بركيزتين هما مظاهر السطح والموارد البشرية
- نقد منظمة الأمم المتحدة تعبر عن أحد أهداف الجغرافيا السياسية
- توفير المعلومات اللازمة لاتخاذ القرارات السياسية والعسكرية يستفيد منها رجال السياسة

٣- ساهم علماء الجغرافيا السياسية في حل مشكلة سياسية باستخدام

التحكيم الدولي في منطقة تقع على خليج .....

- (أ) العقبة  
(ب) السويس  
(ج) عمان  
(د) المكسيك

## تذكر أن

- لعبت الجغرافيا السياسية دوراً إيجابياً في حل المشكلات السياسية في إفريقيا (طابا)
- ساهمت الجغرافيا السياسية في حل العديد من المشكلات السياسية معظمها شمال مدار السرطان
- ساهمت الجغرافيا السياسية في حل العديد من المشكلات السياسية بعد الحرب العالمية الأولى والثانية في الربع الشمالي الشرقي من الكرة الأرضية

## رابعاً الفرق بين الجيوبولتيك والجغرافيا السياسية

١- تسعى بعض الدول لفرض سيادتها على بعض الممرات الاستراتيجية تتماشى هذه العبارة مع آراء العالم .....

- (أ) كيلين  
(ب) بن خلدون  
(ج) ارسطو  
(د) راتزل

## تذكر أن

- أى عبارة توحى يفرض سيادتها والهيمنة تعبر عن آراء كيلين
- شهد العقد الثالث من الألفية الثالثة إحياء الفكر الديناميكي في شمال البحر الأسود
- العالم الذى يرى أن الحدود السياسية للدول ليست نهايات ثابتة بالنسبة للدول المجاورة هو كيلين
- شهد العقد الثالث من الألفية الثالثة إحياء الفكر الديناميكي على يد روسيا

٢- يتوقف نجاح الدولة محلياً ودولياً على التلاحم التام بين سكانها . تتفق العبارة السابقة مع أفكار العالم .....

- (أ) كيلين  
(ب) بن خلدون  
(ج) ارسطو  
(د) راتزل

## تذكر أن

- التعايش الاجتماعي بين أبناء الدولة الواحدة يساهم بتقوية الدولة وتطورها) تجسد العبارة السابقة مع أفكار كيلين
- (أرسطو وابن خلدون وراتزل وكيلين ) لهم إسهامات في علم الجغرافيا السياسية وقد اتفقوا جمعياً في دراسة الوحدات السياسية

٣- إذا كان التوسع على حساب الدول المجاورة يمثل غاية أحياناً وأحياناً أخرى يمثل مشكلة سياسية فإننا نتحدث بالترتيب عن .....

- أ: الجغرافيا السياسية والنظام العالمى الجديد  
ب: العولمة والجيوبولتيك  
ج: الجيوبولتيك والجغرافيا السياسية  
د: النظام العالمى الجديد والعلاقات الدولي

## تذكر أن

- يختلف الجيوبولتيك عن الجغرافيا السياسية في السلوك السياسي او العلاقات الخارجية
- يختلف علم الجيوبولتيك عن الجغرافيا السياسية في دراسة الدولة في حيث الاتساع والحركة والنمو والتغير والتطور
- القاسم المشترك بين خريطة العالم السياسية والجيوبولتيك في التطور والتغير
- تتفق الجغرافيا السياسية مع الجيوبولتيك في موضوع الدراسة "دراسة الوحدات السياسية"

٥- يعتبر النظام العالمي الجديد والعملة وجهان لعملة واحدة

بسبب.....

- (أ) تشجيع نقل التكنولوجيا للدول النامية
- (ب) سيطرة الدول المتقدمة على الدول النامية.
- (ج) تشجيع الدول النامية على التقدم.
- (د) حرص الدول الرأسمالية على تحقيق السلام.

### تذكر أن

- القاسم المشترك بين النظام العالمي الجديد وظاهرة العملة هو الهيمنة والسيطرة
- تناقصت السيادة المطلقة لبعض للوحدات السياسية على مواردها في السنوات الاخيرة مع ظهور العملة ( النظام العالمي الجديد )

٦- يرتبط تسرب بعض القيم والعادات الغربية المخالفة للعادات

المجتمعات الشرقية مع ظهور .....

- (أ) العملة
- (ب) التكتلات الاقتصادية
- (ج) علم الجغرافيا السياسية
- (د) الحدود السياسية

### تذكر أن

- بعد انتشار العديد من عادات الغرب في المجتمع العربي بعد أحد مظاهر النظام العالمي الجديد

## سابعاً الجغرافيا السياسية والتقنيات الحديثة

١- متابعة العالم اخر تطورات الاضطرابات الداخلية في دولة

السودان تحظياً يؤكد على اهمية تقنية .....

- أ: نظام تحديد المواقع العالمي ب: نظم المعلومات الجغرافيا
- ج: وسائل الاتصالات الحديثة د: الاستشعار عن بعد

### تذكر أن

- ترتبط وسائل الاتصال وتكنولوجيا المعلومات بأجهزة البث المباشر. الفضائيات. المحمول. الانترنت
- يرتبط اطلاق " العالم عبارة عن قرية صغيرة " على العالم بالثورة المعلوماتية

٢- شاهد العالم البث المباشر لتعامد الشمس على وجه رمسيس الثالث من

خلال .....

- أ: نظام تحديد المواقع العالمي ب: نظم المعلومات الجغرافيا
- ج: وسائل الاتصالات الحديثة د: الاستشعار عن بعد

### تذكر أن

- متابعة العالم لفاعليات مؤتمر تغير المناخ ٢٧COP لخطياً يؤكد أهمية تقينه ووسائل الاتصالات الحديثة
- تم اختراق الامن الثقافي العربي من خلال وسائل الاتصالات السلكية واللاسلكية أو تكنولوجيا المعلومات

## سادساً مجالات الجغرافيا السياسية

١- يندرج الصراع الدائر على الوارد الطبيعية الشرق الأوسط ضمن أحد مجالات الجغرافيا السياسية وهو دراسة .....

- (أ) الوحدات السياسية
- (ب) العلاقات الدولية
- (ج) التجمعات الإقليمية
- (د) النظام العالمي الجديد

### تذكر أن

- يعد الجيوبولتيك والنظام العالمي الجديد وجهان لعملة واحدة بسبب فقد الدول سيادتها الوطنية
- تناقصت السيادة المطلقة لبعض للوحدات السياسية على مواردها في السنوات الاخيرة مع ظهور العملة ( النظام العالمي الجديد )

٢- يمكن دراسة الجوانب المكانية للتوترات الامريكية الصينية من خلال

- (أ) التحليل السياسي للقوة
- (ب) ظاهرة العملة
- (ج) النظام العالمي الجديد
- (د) المنظمات الدولية

### تذكر أن

- التحليل السياسي للقوة يرتكز دور الجغرافيا السياسية في هذا المجال على دراسة الأبعاد الجغرافية للصراع بين القوى المتنافسة على مسرح السياسة العالمية
- يمكن دراسة الابعاد الجغرافية لاجتياح روسيا الاتحادية لأوكرانيا خلال العقد الثالث من الالفية الثالثة التحليل السياسي للقوة

٣- عند عملك لبحث عن توتر الاحداث بين اثيوبيا والصومال فإنك بذلك تلجأ لأحدى مجالات الجغرافيا السياسية وهو

- (أ) التكتلات الاقتصادية
- (ب) المشكلات السياسية
- (ج) النظام العالمي الجديد
- (د) العملة الاجتماعية

### تذكر أن

- دراسة اسباب توتر في الاحداث بين الهند وباكستان في الآونة الاخير يدهل ضمن المشكلات السياسية
- تزامنت التغيرات التي شهدتها العالم في نهاية القرن الماضي مع هيمنة النظم الاقتصادية الرأسمالية

٤- تتجه بعض الدول الكبرى للاستحواذ على بترول الدول النامية». تشير العبارة السابقة إلى أحد مجالات الجغرافيا السياسية المرتبطة

- (أ) النظام العالمي الجديد
- (ب) التحليل السياسي للقوة .
- (ج) الوحدات السياسية.
- (د) المنظمات الدولية.

### تذكر أن

- ( قضية الطاقة حالياً من أهم القضايا التي تثار في العلاقات الدولية، سواء كانت سياسية أو اقتصادية ) ترتبط العبارة السابقة ب النظام العالمي الجديد

### أولاً: الفرق بين الدولة والدولة

#### ١: العبارة التي تشير الى مفهوم الأمة العربية .....

- (أ) مجموعة بشرية تميز أفرادها بالتلاحم والترابط في العادات والتقاليد والتاريخ المشترك
- (ب) اتخاذ قرار بالانضمام الى تكتلات اقتصادية
- (ج) عقد اتفاقية تجارية مع دول اوروبية
- (د) اتخاذ اجراء بمنع الهجرة الغير شرعية بتشديد الرقابة على السواحل

#### تذكر أن

- تتميز الأمة عن الدولة بضرورة وجود تجانس سكاني
- منطقة معترف بها تتسم بتجانس وصعوبة تمزيقها الأمة
- يتميز الأمة عن الدولة في عامل الزمنى
- ينطبق مفهوم الامة على منظمة جامعة الدول العربية او مجلس التعاون للدول الخليج العربي

#### ٢: في ضوء دراستك نستنتج أن أهم ما يميز الدولة عن الأمة وجود

- (أ) تاريخ مشترك يجمع شعبيها.
- (ب) مساحة محددة من الأرض.
- (ج) مجموعة من الروابط الثقافية المشتركة.
- (د) حكومة تبحث عن المصلحة العامة.

#### تذكر أن

- المهطقة المعترف بها تضم مجموعة من البشر يستخدم قوتها لإدارة موارد المجتمع هي الدولة
- الكيان الذى يعتمد على مجموعة قوانين تنظم العلاقة بين افرادها بهدف تحقيق مصالح المجتمع الدولة
- مجموعة من الأفراد يمارسون نشاطهم على إقليم جغرافى محدد يتفق افرادها على ادارة شئون حياتهم وفقا لمجموعة من القوانين الدولة

#### ٣: ينطبق مفهوم الامة على عدد من المنظمات يخرج عنها .

- (أ) جامعة الدول العربية (ب) مجلس التعاون للدول الخليج العربي
- (ج) اتحاد المغرب العربي (د) منظمة اليونيدو للتنمية الصناعية

#### تذكر أن

- تتميز دولة البرازيل عن الامة العربية في وجود . العامل السياسى
- ينطبق مفهوم الامة على منظمة جامعة الدول العربية او مجلس التعاون للدول الخليج العربي
- تشترط الدولة في قيامها تجانس السكان ثقافتهم او حضارياً
- تشابه الدولة والامة في ان كلاهما يتطلب وجود سكان ( الجانج ديموغرافى )

#### ٣- يمكن للدول مراقبة مياه الإقليمية من مرور السفن المشبوهة بها من خلال

- أ: نظام تحديد المواقع العالمي ب: نظم المعلومات الجغرافيا
- ج: وسائل الاتصالات الحديثة د: الاستشعار عن بعد

#### تذكر أن

- العبارات الدالة على عن الاستشعار عن بعد ( المراقبة - تتبع - تحديد) دون ذكر التأثير او النتائج
- لتحديد الرصيف القاري والمياه الاقليمية بين الدول الساحلية المتجاورة يتم الاستعانة باستشعار عن بعد

#### ٤: لتحديد حدود محمية رأس محمد بجنوب سيناء يتم الاعتماد على

إحدى التقنيات الحديثة وهى .....

- (أ) نظم المعلومات الجغرافيا ب) الاستشعار عن بعد.
- (ج) وسائل الاتصال الحديثة د) تكنولوجيا المعلومات.

#### تذكر أن

- يمكن مراقبة التوتر الحدودي بين الهند وباكستان من خلال تقنية الاستشعار عن بعد
- يمكن تتبع خط سير السفينة في قناة السويس تتم من خلال الاستشعار عن بعد

#### ٥: يمكن التعرف على تأثير التغيرات المناخية على الساحل الشمالي لمصر من

خلال .....

- (أ) نظم المعلومات الجغرافيا ب) الاستشعار عن بعد.
- (ج) وسائل الاتصال الحديثة د) تكنولوجيا المعلومات.

#### تذكر أن

- نظم المعلومات تعتمد على تحليل والنتائج والتأثير واعداد تقارير وتفسير ومقارنات وشرح

#### ٦: توسع الدولة في اقامة المشروعات التنموية في شمال سيناء باستصلاح

الألف من الافدنة تعتمد على أي من التقنيات الحديثة

- (أ) نظم المعلومات الجغرافيا ب) الاستشعار عن بعد.
- (ج) وسائل الاتصال الحديثة د) تكنولوجيا المعلومات.

#### تذكر أن

- اي مشروعات تحتاج الى دراسة وتحليل واعداد تقارير بالتالي يدهل ضمن نظم المعلومات الجغرافية
- اتجاه القيادة المصرية لاستغلال الساحل الشمالي لتحويل إلى تحويل دلتا جديدة " يتم الاستعانة بنظم المعلومات الجغرافية
- لمعرفة مدى تأثير الساحل الشمالي في مصر بظواهر النحت البحري يتم الاستعانة بنظم المعلومات الجغرافية

## أولاً: أنواع الدول تبعاً للنظام السياسي والإداري

### أولاً: الدولة الوحيدة (الدولة المركزية)

١- أي من الدول الآتية هي الأقرب لسمات الأمة؟ .....

- (أ) سويسرا. (ب) اليابان  
(ج) استراليا (د) الولايات المتحدة الأمريكية.

#### تذكر أن

- الدولة المركزية التي توجد فيها حكومة واحدة ومجلس نيابي واحد، التي تسيطر فيها الحكومة المركزية على جميع السلطات المحلية وتستمد المستويات الإدارية السابقة قراراتها من الحكومة المركزية
- تشابه الدولة الوحيدة مع الأمة في "تجانس العرقي والديني والثقافي" أي في الجوانب الديموغرافية
  - اقرب الدول الى مفهوم الأمة الدول الوحيدة "اليابان ، فرنسا ، الصين"
  - يتم اتخاذ القرار السياسي في (فرنسا - الصين - اليابان ) من خلال السلطة المركزية لانهم دول وحدوية

٢- تتشابه كلا من دولتي اليابان والصين في .....

- (أ) التجانس السكاني. (ب) الامتداد الأرضي .  
(ج) تعدد اللغات الرسمية (د) عدد الدول المجاورة

#### تذكر أن

- من الدول الوحيدة ( المركزية ) التي تقتقد الى مفهوم الدولة المثالية اليابان بسبب العامل الجغرافي - عدم وجود اتصال اراضي
- اليابان موحدة سياسياً ومختلفة جغرافياً
- افضل الانظمة السياسية والادارية لدولة الصين وفقاً لقوتها المورفولوجية النظام اللامركزي
- من الدول التالية الاقرب لسمات الأمة الصين واليابان وفرنسا

٣- دولة بها سلطة مسئولة عن كل الامور السيادية والحياتية معاً ومقسمة إدارياً الى ولايات تتسم ب..... (ث. ع. ٢٠٢٤)

- (أ) حق التمثيل الدبلوماسي لكل ولاية (ب) التجانس الاثنوجرافي لسكانها  
(ج) وجود دستور لكل ولاية لها (د) محدودية انتشارها على خريطة العالم

#### تذكر أن

- من سمات الدولة الوحيدة تجانس سكانها (عرقياً ، ودينياً ، وثقافياً)
- أكثر الأنظمة السياسية شيوعاً بين دول العالم وقلها هشاشه هو النظام المركزي
- الحكومة المحلية اضعف لأنها تستمد القرارات من السلطة المركزية
- من الدول الوحيدة ( المركزية ) التي تقتقد الى مفهوم الدولة المثالية الصين بسبب مساحتها قوتها المورفولوجية

### ثانياً: الدولة الفيدرالية

١- تخضع ولاية ريودي جانيرو البرازيلية بنظام سياسي إداري يجعلها

- (أ) تنفرد بعقد الاتفاقيات التجارية (ب) الاشراف على الموازنة العامة  
(ج) تخصص بوضع لجنة بوضع الدستور (د) تحديد الاسر الاولي بالرعاية

#### تذكر أن

- ادارة الشؤون الحياتية في الدولة الفيدرالية في يد السلطة المحلية مثل ( الصحة والتعليم والرعاية الاجتماعية )
- تتشابه الدولة الفيدرالية في الدولة مع الدولة الوحيدة في ادارة الوظائف السيادية يتم ادارتها عن طريق السلطة المركزية
- تختلف الدولة الفيدرالية عن الدولة الوحيدة في الاصلاحيات الممنوحة للسلطة المحلية
- تتميز الدولة الوحيدة عن الدولة الفيدرالية في الانفراد الكامل في ادارة السلطة المحلية

٢: بعيد محكمة العدل الدولية هيئة قضائية لفضل النزاعات بين الدول

وهي لمنظمة الامم المتحدة " في ضوء العبارة ن استنتج يمثل محكمة العدل الدولية سلطة

- (أ) مركزية في اتحاد فيدرالي (ب) سلطة مركزية في اتحاد كونفدرالي  
(ج) سلطة محلية في اتحاد فيدرالي (د) سلطة محلية في اتحاد كونفدرالي

#### تذكر أن

- القاسم المشترك بين مهام السلطة المركزية في الدولة الوحيدة و الدولة الفيدرالية في صنع القرار السياسي في الدولة
- تتشابه الدولة الوحيدة مع الدولة الفيدرالية في ( وجود دستور واحد للدولة الامور السياسية )
- تتشابه الدولة الوحيدة مع الدولة الفيدرالية في ( التمثيل الدبلوماسي لكل دولة بشكل مستقل )

٣: اعداد الموازنة العامة للدولة من مهام .....

- (أ) السلطة المحلية في الدولة المركزية  
(ب) السلطة المركزية في الدولة الفيدرالية  
(ج) السلطة المركزية في الاتحاد الكونفدرالي  
(د) السلطة المحلية في الدولة الفيدرالية

#### تذكر أن

- من السمات الادارية والسياسية التي تتسم بها الولايات المتحدة الامريكية والهند والبرازيل - استراليا في تحقيق التوازن بين السلطة المركزية والسلطة المحلية لكل ولاية
- من اختصاص حاكم ولاية حيدر اباد الهندية الاهتمام بمشروعات البنية التحتية او الرعاية الاجتماعية والرعاية الصحية والتعليمية ( الامور الاجتماعية )
- تختص الحكومة المركزي استراليا او الولايات المتحدة - البرازيل والهند عقد الاتفاقيات الدولية وضع الموازنة العامة - وضع دستور للبلاد ( الامور السياسية او السيادية )

٤- يستطيع حاكم ولاية حيدر اباد الهندية ان يقوم ب.....

- (أ) إصدار التشريعات الانتخابية (ب) تعديل الموازنة العامة للدولة  
(ج) استقبال السفارات الأجنبية (د) تطوير الوحدات الصحية

## تذكر أن

- تقع مسؤولية تقسيم الدولة إلى دوائر انتخابية عند اختيار رئيس الدولة على السلطة المركزية في الدولة الفيدرالية
- تتسم الدولة الفيدرالية بعمومية الإيرادات العامة
- زيادة الدولة أعداد المستفيدين من برامج الرعاية الاجتماعية في المحافظات من اختصاص المحلية في الدولة الفيدرالية

## ثالثاً- الاتحاد الكونفدرالي

١- يُعد من السمات الأساسية التي يتصف بها الاتحاد الكونفدرالي ...

- (أ) وجود أكثر من نواة.  
(ب) التمتع بصفات تبقى قوة سياسية .  
(ج) هيمنة السلطة المركزية على الأمور السيادية.  
(د) وجود مرجعية دستورية موحدة.

## تذكر أن

- يظهر ضعف السلطة المركزية في الاتحاد الكونفدرالي
- تتشابه مهام حكومات الدول في الاتحاد الكونفدرالي مع اختصاص السلطات المركزية في الدولة الوحدوية او الدول الفيدرالية في الوظائف السيادية ( السياسة - الخارجية والاقتصاد - الدفاع الخارجي - الامن الداخلي )

٢- أهم ما يميز الأمة عن الاتحاد الكونفدرالي .....

- (أ) تعدد الثقافات  
(ب) وجود سلطة ذات سيادة .  
(ج) تضم داخلها شعب متجانس.  
(د) تمثل رقعة غير محددة من الأرض.

## تذكر أن

- تتميز الأمة عن الاتحاد الكونفدرالي في التجانس السكاني
- أقل الدول شيوعاً وأكثرها هشاشة الاتحاد الكونفدرالي بسبب حق دول الاتحاد أن تنفصل عن الاتحاد في أي وقت
- القاسم المشتركة بين الدولة الفيدرالية والاتحاد الكونفدرالي في توزيع السلطات
- تنقسم السلطات في الاتحاد الكونفدرالي ما بين سلطة مركزية ( هيئة تقوم بإدارة الاتحاد ) وسلطة محلية

٣- يمكن اعتبار جامعة الدول العربية نموذج لـ

- (أ) الدولة الوحدوية. (ب) الاتحاد الفيدرالي.  
(ج) الاتحاد الكونفدرالي. (د) الدولة الملكية.

## تذكر أن

- ( الدولة الوحدوية - الدولة الفيدرالية - الاتحاد الكونفدرالي ) تتشابه في التمثيل الدبلوماسي للدول الاعضاء بشكل مستقل
- يُعد من السمات الأساسية التي يتصف بها الاتحاد الكونفدرالي وجود أكثر من نواة

٤- حالة رغبة ( افغانستان تحقيق التواصل مع العالم الخارجي مع الاحتفاظ

بتمثيلها الدبلوماسي المستقل يجب عليها إقامة اتحاد .....

- (أ) كونفدرالي مع منغوليا  
(ب) كونفدرالي مع ايران  
(ج) فيدرالي مع باكستان  
(د) فيدرالي مع الصين

## تذكر أن

- الدول الحبيسة التي تعاني من الصعوبات بالاتصال بالعالم الخارجي يجب عليها إقامة اتحاد كونفدرالي مع دول الجوار

## عواصم الدولة

١- دولة استطاعت ان تحقق التواصل الحضاري مع دول العالم القديم تبعد عاصمتها عن حدها الشمالي ٣٥٦ كم وحدودها الجنوبي ٢٥٠ كم وحدها الشرقي ١٠١ كم وتبعد عن الحد السياسي البحري للدولة بمسافة ١٢ ميلاً ( بحرياً ) في ضوء هذه العبارة استنتج فتتقد عاصمة هذه الدولة .....

- (أ) سهولة الوصول  
(ب) الاتصال بالعالم الخارجي  
(ج) الحماية والدفاع  
(د) مركز السلطة والقوة

## تذكر أن

- العاصمة هي المدينة التي تستقر فيها حكومة الدولة ورئاستها ، وغالباً ما تتركز بها السلطات الثلاث: التشريعية والتنفيذية والقضائية، وسفارات الدول الأجنبية، والمؤسسات الكبرى
- المعيار الأكثر أهمية الذي يجب يتم وضعه في الاعتبار عند اختيار عاصمة جديد هو المعيار الجغرافي في العمق الجغرافي

٢- مدينة باريس عاصمة فرنسا تتمتع بالحماية والدفاع وهو ما يخالف

عاصمة دولة .....

- (أ) نيجيريا (ب) تركيا (ج) موريتانيا (د) اسبانيا

## تذكر أن

- عندما تكثر عدد دول الجوار للدولة يفضل اختيار العاصمة على اساس الحماية والدفاع
- يخلو الوطن العربي من العواصم القومية
- تتشابه الخرطوم والقاهرة وباريس في انهم عواصم داخلية - نهريه - لحماية الدول من الدولة المعادية يفضل اختيار العاصمة بناء على العمق الجغرافي

٣- أي من الآتي يخرج عن كونه إحدى الوظائف السياسية لعاصمة الدولة ؟

- (أ) ملتقى طرق النقل. (ب) مركز السلطة للدولة.  
(ج) حلقة اتصال الدولة بالعالم. (د) وجود سفارات الدول الأجنبية.

## تذكر أن

- من خصائص العاصمة التي تخرج من كونها من الوظائف السياسية للعاصمة الدول المركز الثقافي للدولة وملتقى طرق النقل والمواصلات

٢: يمتد قلب الدولة الاقتصادي في قارة أمريكا الشمالية بين

- (أ) جنوب الولايات المتحدة وشمال كندا
- (ب) شرق الولايات المتحدة غرب كندا
- (ج) شرق كندا وغرب الولايات المتحدة
- (د) جنوب كندا وشمال الولايات المتحدة

### تذكر أن

- قد تمتد القلب الواحد في دولتين متجاورتين مثل إقليم البحيرات العظمى حيث تمتد بين الولايات المتحدة وكندا
- الدولة التي يجاورها أقل عدد من الدول تتمتع بوجود قلب اقتصادي

٣: قلب الدولة الذي مازال وسيظل مسار اهتمام الأقليات الأثنوجرافية في جنوب شرق آسيا يفتقد إلى بـ

- (أ) التنوع المناخي (ب) القدرة على تبني نظرية الدفاع من العمق
- (ج) سهولة الاحتكاك الحضاري (د) تعدد الجهات البحرية

### تذكر أن

- الدولة التي تقع ضمن الإقليم الصحراوي موضع اهتمام الأقليات الأثنوجرافية في جنوب شرق آسيا تتمتع بوجود قلب ذات أهمية دينية
- تتشابه السعودية وإيطاليا وفلسطين أن بها قلباً ذات أهمية دينية
- قلب الدولة الديني والثقافي موضع اهتمام الأقليات الأثنوجرافية في جنوب شرق آسيا يقع جنوب غرب آسيا

٤: قلب الدولة الذي مازال وسيظل مسار اهتمام الأقليات الأثنوجرافية في جنوب شرق آسيا يقع في .. " دور ثاني ٢٠٢١ "

- (أ) شمال شرق أفريقيا
- (ب) جنوب غرب آسيا
- (ج) جنوب شرق أوروبا
- (د) شمال غرب أمريكا الشمالية

### تذكر أن

- توجد منطقة القلب ذات الأهمية دينية في الوطن العربي ذات مناخ صحراوي
- قلب الدولة الثقافي والديني الذي سيظل موضع اهتمام الأقليات الأثنوجرافية في جنوب غرب آسيا " مكة "
- تتعدد مناطق القلب داخل الدولة الفيدرالية والاتحاد الكونفدرالية على العكس تكون في الغالب منطقة واحدة في الدولة الوحدوية
- تنتشر مناطق القلب الديني التي تجذب ملايين السكان من دول العالم ضمن مناطق العالم القديم
- تجتمع منطقة القلب السياسية والعاصمة في مكان واحد بدولة مركزية الموقع الجغرافي

٤: من عوامل اختيار العواصم غير المتوفرة في مدينة القاهرة .....

- (أ) العامل التاريخي.
- (ب) سهولة الوصول
- (ج) الحماية والدفاع.
- (د) السيادة القومية.

### تذكر أن

- المدينة التي تجمع تتوفر بها معظم عوامل اختيار العاصمة ( القاهرة )
- يخلو الوطن العربي من عوامل اختيار العاصمة على أساس " السيادة القومية "
- اكتسبت طوكيو العاصمة المستحدثة لليابان أهميتها من أهميتها الاقتصادية

٥: - تتمتع بعض العواصم بمواقع متميزة ساهمت في سهولة تصديرها للمنتجات خارجياً ومنها مدينة .....

- (أ) أنقرة
- (ب) نواكشوط
- (ج) أبوجا
- (د) موسكو

### تذكر أن

- مدينة طوكيو عاصمة ساحلية وهو ما يتفق عاصمة موريتانيا
- اكتسبت طوكيو العاصمة المستحدثة لليابان أهميتها من أهميتها الاقتصادية
- عندما تعدد الاجناس البشرية الاعراق المختلفة في الدولة يفضل اختيار العاصمة على اساس السيادة القومية

٦: رغم حدوث تقدم هائل في وسائل الحرب إلا أن هناك عاملاً سيظل من أهم عوامل اختيار العاصمة الذي يحافظ على قوة الدولة « ، تلك العبارة تشير إلى ..

- (أ) العامل التاريخي.
- (ب) سهولة الوصول.
- (ج) العمق الجغرافي.
- (د) السيادة القومية.

### تذكر أن

- تغلب البعد الاقتصادي على البعد العسكري في اختيار العاصمة طوكيو
- بدراسة عواصم الجناح العربي الأفريقي نستنتج ان معظم عواصمها سهولة الوصول اي تفتقد الى الحماية والدفاع
- من العواصم التالية ارتبط اختيارها على اساس البعد الزمني - المكاني - الأمني " القاهرة "

## قلب الدولة

١: تعد المدن الواقعة على قناة السويس قلب دولة ذات أهمية .....

- (أ) اقتصادية
- (ب) دينية
- (ج) ثقافية
- (د) سياسية

### تذكر أن

- قلب الدولة هي مواقع ذات أهمية وثقل اقتصادي أو ثقافي أو سياسي لا تقل أهمية عن العاصمة ويعبر عنها بالنواه أو قلب الدولة
- من مناطق قلب الدولة التي تكاد تجمع الثقل الاقتصادي والسكاني والسياسي والثقافي بها القاهرة الكبرى
- تتوقع في حالة امتداد منطقة قلب الواحد في أكثر من دولة أن تكون منطقة القلب من النوع الاقتصادي

## ثانياً الموقع الجغرافي

١- الدولة الإفريقية التي تعتبر وسيلة اتصال بالعالم الخارجي  
لأكبر عدد من الدول الحبيسة؟



أ- الكونغو الديمقراطية  
ب- جنوب أفريقيا.  
ج- جمهورية السودان  
د- تنزانيا

### تذكر أن

- يزيد الموقع البحري من قوة علاقاتها الدولية بسبب سهولة اتصالها بالعالم الخارجي عكس الدولة الداخلية الحبيسة
- تعد الدول التي تطل على مسطحات مائية مغلقة دول حبيسة مثل أوغندا التي تطل على بحيرة فيكتوريا وكازاخستان التي تطل على بحر قزوين

٢- تتوقع أي من الدول الآتية تمتلك زوارق بحرية عسكرية من أجل حماية حدودها..

أ) باراجواي  
ب) سويسرا  
ج) كندا  
د) منغوليا.

### تذكر أن

- الدولة الأقرب لأن تكون حلقة اتصال حضاري بين بعض دول العالم القديم النامي والعالم الجديد هي إندونيسيا.
- احتلت القارة الأوروبية المرتبة الثانية في عدد الدول الحبيسة
- عقب تفكك الاتحاد السوفيتي

٣- أي من الدول الآتية تزداد أهمية موقعها البحري لزيادة طول ساحلها

أ) بريطانيا  
ب) العراق  
ج) تونس  
د) باراجواي

### تذكر أن

- الدول الأكثر قوة اعتماداً على تنوع الزراعة والاحتكاك الحضاري تتميز بـ كثرة دوائر العرض وموقعها البحري
- القارات التي تخلو من الدول الداخلية أمريكا الشمالية
- تشابه الواجهة البحرية لدولة انجولا مع واجهة البحرية دولة موريتانيا

## أولاً- الموقع الفلكي

١- تتوقع أي من العوامل الطبيعية الآتية الأكثر تأثيراً بالسلب على دولة أيسلندا

أ) موقعها بالنسبة لليابس والماء. ب) موقعها الفلكي.  
ج) مساحتها  
د) شكلها..

### تذكر أن

يعد الموقع بالنسبة لدوائر العرض ذو أهمية كبير للدول لأنه

- أ: يحدد الملامح العامة لمناخ الدولة ب: يؤثر في النشاط البشري

٢- بتحليل الجدول التالي، يتضح أن أكثر القارات تنوعاً في الأنشطة الاقتصادية هي .....

أوروبا	أمريكا الجنوبية	أفريقيا	آسيا
تمتد من ٣٦° شمالاً حتى ٧١° شمالاً	تمتد من ١٢° شمالاً حتى ٥٦° جنوباً	تمتد من ٣٠° جنوباً حتى ٣٧° شمالاً	تمتد من ١٠° جنوباً حتى ٨١° شمالاً

أ) آسيا  
ب) أفريقيا  
ج) أمريكا الجنوبية  
د) أوروبا

### تذكر أن

- ارتبط تنوع الاقليم المناخي وبالتالي تنوع المحاصيل الزراعية بالموقع الفلكي وتعدد دوائر العرض مثل الولايات المتحدة
- تمتد قارة أفريقيا بين دائرتي عرض ٣٧ شمالاً و ٣٥ درجة جنوباً نستنتج من العبارة تنوع الأنشطة البشرية وتنوع الحاصلات البشرية

٣- ادرس الجدول ثم استنتج

الدولة	دوائر العرض	دوائر الطول
(م)	١٠° جنوباً : ٣٥° شمالاً	١٥° شرقاً : ٤٥° شرقاً
(ن)	١٥° جنوباً : ٢٥° جنوباً	٢٠° غرباً : ٣٥° غرباً
(س)	٣٠° شمالاً : ٤٥° شمالاً	٢٠° شرقاً : ٣٠° شرقاً
(ع)	٢٥° شمالاً : ٣٠° شمالاً	٢٠° غرباً : ٣٠° غرباً

٤- الدولتان اللتان تحققا معا تنوع المحاصيل والمقومات الجغرافية

أ) م-س (ب) ن-س (ج) ن-ع (د) م-ع

### تذكر أن

- بالرغم من اتساع مساحة دولة السعودية وروسيا وكندا إلا أنهم يفتقدوا للتنوع المناخي بسبب موقعهم الفلكي
- ١- امتداد الدولة في عدد كبير من دوائر العرض وخطوط الطول يعني أنها ذات مساحة كبيرة والعكس صحيح

٨ :- يضم أكبر عدد من الدول الحبيسة تكتل ....

أ - دول شرق وجنوب افريقيا ب - الاتحاد الاوروي

ج - دول مجلس التعاون الخليجي د - شرق اسيا والمحيط الهادي

### تذكر أن

- تقل الاهمية الجغرافية لقارة افريقيا بسبب لان معظم دول القارة دول حبيسة
- تسعى دائما الدولة الحبيسة الى تحسين علاقاتها بدول الجوار لأنها وسيلة الى الوصول العالم لتحسين حركة التجارة

٩- اذا كان نهر النيل صالحه للملاحة في كل اجزائه فإن الدولة التي تستطيع

التغلب على مشكلة موقعها الجغرافي من خلاله هي .....

أ) جنوب السودان ب) مصر ج) ارتيريا د) تنزانيا

### تذكر أن

- الدول الساحلية هي الدول الاكثر تعرضت للنزاعات مع دول العالم اكثر من الدولة الحبيسة بسبب موقعها الجغرافي
- دولة تغلبت على موقعها الجغرافي بفضل وجود الانهار الدولية اي دولة حبيسة مثل جنوب السودان واوغندا وسويسرا و النمسا
- الدول الداخلية الاكثر احتياجا للدخول في تكتلات اقتصادية مع دول القارة مثل بارجواي في امريكا الجنوبية وتشاد بأفريقيا

## ثالثا: المواقع المركزية - الاستراتيجية - عدد الدول المجاورة

١:- أي من الدول التالية تتشابه في الموقع المركزي؟ .....

أ) مصر- تونس - فرنسا. ب) أستراليا - شيلي - إسبانيا .

ج) نيوزيلاندا - ليبيا - إيطاليا د) الأرجنتين - أستراليا - السعودية.

### تذكر أن

- زات اهمية موقع مصر بعد شق قناة السويس مما يؤكد على دور العنصر البشري في زيادة الموقع الجغرافي
- من المواقع الهامشية في العالم نيوزيلاندا واليابان وكندا واستراليا وشيلي والارجنتين
- تزداد اهمية موقع مصر بسبب موقعها المركزي

٢ :- الممر الذي قد يندغم النزاع بين الدول المطلة عليه لأسباب اثنوجرافية

أ) مضيق صقلية ب) مضيق جبل طارق

ج) مضيق باب المندب د) مضيق هرمز

### تذكر أن

- ممر مائي تنقسم اكثر من دولة عربية السيطرة عليه مضيق باب المندب (اليمن وجيبوتي والصومال)
- من المضائق التي تتحكم بها احد دول العالم النامي والمتقدم " جبل طارق " اسبانيا والمغرب
- من المضائق التي تتحكم بها دول اسلامية " مضيق هرمز " ايران وسلطنة عمان "

٤ :- تتعدد مزايا الموقع البحري للدولة ، وأهم ما تستفاد منه ثقافياً هو

أ) سهولة اتصال الدولة بالعالم الخارجي.

ب) زيادة الاحتكاك الحضاري للدولة.

ج) تمتع الدولة بالثروات البحرية.

د) اقتنار صلاتها الثقافية على جيرانها.

### تذكر أن

- يوجد عدد من الدول تفتقد أهمية الموقع البحري والتي تزداد بوضوح بقارة أفريقيا
- تقل أهمية الموقع البحري للنرويج وكندا بسبب موقعها الفلكي وبسبب تجمد مياة المحيط القطبي

٥ :- يتميز ساحل البحر المتوسط بأنه أكثر أهمية لمصر مقارنة بساحل البحر

الأحمر بسبب .....

أ) استقامة الساحل.

ب) طول الساحل.

ج) الظهير الساحلي.

د) وجود الشعاب المرجانية.

### تذكر أن

- تزداد أهمية الساحل الشمالي لمصر عن أهمية الساحل الشرقي لها بسبب الظهير الساحلي
- الساحل الشرقي لروسيا أكثر أهمية من الساحل الشمالي بسبب التباين المناخي او أهمية السطح المائي حيث تجمد مياة المحيط القطبي
- الواجهة الجنوبية الغربية لروسيا أكثرها أهمية حيث البحر الأسود يعد منفذا لها على دول اوربا

٦ - من الأنسب جغرافيا أن تتصل دولة جنوب السودان بالعالم الخارجي عن طريق

أ) نهر النيل ودولة السودان. ب) نهر الكونغو ودولة أفريقيا الوسطى.

ج) بحيرة فيكتوريا ودولة أوغندا. د) دولة إثيوبيا والمحيط الهندي.

### تذكر أن

- تستطيع الدول التغلب على مشكلة موقعها الجغرافي من خلال الانهار الدولية
- من الدول واجهتها البحرية صغيرة إذا قورنت بمساحتها هي الكونغو والعراق

٧ :- ادرس الخريطة ثم استنتج الدولة الاشد عمقا والتي لا تستطيع الاتصال بالعالم الخارجي إلا بالمرور في اراضي عدة دول .....

أ) افغانستان

ب) اوربكستان

ج) نيبال

د) منغوليا



### تذكر أن

- الدولة الاشد عمقا والتي لا تستطيع الاتصال بالعالم الخارجي إلا بالمرور في اراضي الدول التي تمر على اكثر من دولة للوصول الى العالم الخارجي
- رغم طول الحدود البحرية لدولة روسيا الا انه يمكن اعتبارها قوة برية اكثر منها بحرية يرجع ذلك الى الظروف المناخية للحد

٢ :- أي الدول تبني نظرية الدفاع من العمق والتنوع في التركيب الجيولوجي

الدولة	دوائر العرض	خطوط الطول
(م)	١٠ جنوباً و ٣٥ شمالاً	٥ شرقاً ، ٤٥ شرقاً
(ن)	١٥ جنوباً و ٢٥ جنوباً	٢٠ غرباً : ٣٥ غرباً
(س)	٣٠ شمالاً و ٤٥ شمالاً	٢٠ شرقاً و ٣٠ شرقاً
(ع)	٢٥ شمالاً و ٣٠ شمالاً	٢٠ غرباً و ٣٠ غرباً

(أ) م (ب) ن (ج) س (د) ع

## تذكر أن

كلما زاد عدد دوائره العرض وخطوط الطول أصبحت الدول ذات مساحة كبيرة يرتبط استغلال الموارد الاقتصادية في الدول بقوة الدولة الديموغرافية والمورفولوجية  
الدول ذات المساحة الكبيرة تجد صعوبة في ادارة شؤونها والسيطرة على اجزاءها مترامية الاطراف وحماية حدودها بسبب مساحتها

٣ :- أي من الدول الآتية تستطيع الاعتماد على نظرية الدفاع من العمق.

الدولة	دوائر العرض	خطوط الطول
د	٢٢	١٩
ص	١٨	٢١
ع	٢٢	٥٤
م	١٢	٢٢

(أ) م  
(ب) ع  
(ج) ص  
(د) س

## تذكر أن

الدول التي تبني نظرية الدفاع من العمق الاكثر في عدد خطوط الطول في حالة وجود جدول (مسائل) (شريطية عرضية)  
تتشابه الدول ذات المساحة الكبيرة والصغيرة في التمثيل الدبلوماسي  
كلما زادت خطوط الطول بالدولة تصبح كبيرة المساحة وبالتالي يتنوع التركيب الجيولوجي وتبني نظرية الدفاع من العمق  
تبني سياسة الدفاع من العمق " الصين وروسيا الاتحادية والولايات المتحدة وكندا والبرازيل " بسبب المساحة الكبيرة

٤ :- قوة الدولة لا تقاس بالكيلو مترات المربعة في ضوء العبارة استنتج

الدولة التي تنطبق عليها العبارة السابقة

(أ) كوريا الجنوبية (ب) كندا  
(ج) الجزائر (ج) الكونغو الديمقراطية

## تذكر أن

اهمية المساحة لا تقاس بالكيلو مترات المربعة الدولة التي يمكن ان تكون دولة ذات مساحة صغيرة تتحكم في مواقع استراتيجية (المغرب ، اليمن - سلطنة عمان جيوتي ، ، الصومال)  
اهمية المساحة لا تقاس بالكيلو مترات المربعة في الغالب تكون الاجابة الدول ذات المساحة الصغيرة  
تزداد فاعلية الدول ذات المساحة الكبيرة في مواجهة نتائج الكوارث الطبيعية  
من سلبيات المساحة الكبيرة للدولة وقت الحرب طول حدودها السياسية  
من الدول الغنية بالثروة المعدنية يقطعها خط جرينتش الجزائر  
من الدول الغنية بالثروة المعدنية يقطعها خط الاستواء (البرازيل)

٣ :- العامل الذي جعل القوى الاستعمارية تتمسك بالبقاء في غرب البحر المتوسط

(أ) الموقع المركزي (ب) المواقع الاستراتيجية  
(ج) الموانئ الطبيعية (ج) المناخ المعتدل

## تذكر أن

أكثر الدول التي يتعرض للصراعات عالمية بسبب مقوماتها الطبيعية هي الدول ذات المواقع الاستراتيجية مثل مصر والمغرب وسلطنة عمان واليمن وجيبوتي  
المسطح المائي للدولة التي لعبت بها المواقع الاستراتيجية والعنصر البشري دوراً مهماً في زيادة أهمية الدول التي تقع عليه (البحر المتوسط)

٤ :- أي من الدول الآتية تتمتع بأهمية خاصة في حال قيام توترات سياسية بالمنطقة المحيطة بها ؟ .....

(أ) لبنان (ب) جيبوتي  
(ج) سوازيلاند (د) ليسوتو

## تذكر أن

من المواقع الاستراتيجية ذات الإشراف الإقليمي العربي الخالص مضيق باب المندب  
يدل امتلاك مصر لشبه جزيرة سيناء على أهمية موقعها الاستراتيجي  
من الدول التي تقع في نصف الكرة الشرقي وتتمتع بموقع استراتيجي مصر وجيبوتي وسلطنة عمان واندونيسيا و ايران والصومال  
من الدول التي تقع في نصف الكرة الغربي وتتمتع بموقع استراتيجي المغرب

٥ :- الدولة التي لم تؤثر كثرة عدد الدول المجاورة لها على قوتها هي .....

أ- فرنسا. ب- السودان. ج- الهند. د- البرازيل

## تذكر أن

يظهر الأثر الايجابي لكثرة عدد الدول المجاورة من حيث التعاون عندما تكون الدول متقدمة مثل فرنسا والعكس يظهر الأثر السلبي لكثرة عدد دول المجاورة مثل السودان  
تتشابه السودان مع فرنسا في كثرة الدول المجاورة والموقع البحري  
القاسم المشترك بين دولتي أثيوبيا وجمهورية افريقيا الوسطى بعد تقسيم السودان زيادة عدد الدول المجاورة لهم

## رابعاً مساحة الدول

١- من خلال الجدول استنتج الدولة الأقل تضرراً حال تعرضها لزلزال

الدولة	المساحة بالألف كم <sup>٢</sup>
س	٣٠
ص	٢٥٠
ع	٧٠٠
ل	١٠٠

(أ) ل  
(ب) ع  
(ج) ص  
(د) س

## تذكر أن

تعجز الدولة صغيرة المساحة في حماية اراضيها من الاطماع الخارجية او الكوارث مثل هولندا - وبلجيكا - الكويت  
الدول ذات المساحة الكبيرة المساحة الاقدر في حماية اراضيها من الاطماع الخارجية او الكوارث الطبيعية ( استراليا - الولايات المتحدة )  
الدولة المتوقع أن تكون قادرة على ادارة مواردها بسهولة وفقاً لمساحتها هي الدول صغيرة المساحة مثل قطر البحرين أوجواي وأفغانستان

## خامساً شكل الدولة

١ :- إذا كانت دولة نيوزيلاندا متصلة جغرافياً فهذا معناها أنها ستكون ذات شكل

- (أ) مندمج  
(ب) شريطي  
(ج) جبي  
(د) ذوبروز

### تذكر أن

- الشكل المستطيل (الشريطي) يطلق هذا الشكل على الدولة إذا بلغ طولها ستة أمثال عرضها ، ويكون شكل الدولة قريب من المستطيل
- تعدد دوائر العرض يساعد على تنوع الاقاليم المناخية وتنوع الانتاج وتصبح الدولة شريطية طولية
- تعدد خطوط الطول يعنى الدولة تصبح دولة شريطية عرضية

٢ :- ادرس الجدول ثم استنتج الدولة التي قد تعاني من صعوبة الاتصال بين أجزائها وتتميز بالتنوع المناخي

الدولة	خصائص الدولة من حيث الشكل والامتداد المكاني
س	تمتد من الشرق للغرب بطول ٤٥٠ كم من الشمال للجنوب بطول ٢كم٤٠٠
ع	تمتد في ٤ دوائر عرض ١٥ خطوط طول
ل	نصف قطرها ٢٥٠ كم
م	تمتد من الشرق للغرب بطول ٢كم٢٠٠ من الشمال للجنوب ٢كم١٢٠٠

- (أ)(ع) (ب)(س) (ج)(م) (د)(ن)

### تذكر أن

- تجد الدول (منغوليا - وتركيا - إيطاليا - وتشيلي ) صعوبة في الاتصال بأجزاء الدولة والدفاع عن الدولة بسبب شكلها
- تعد دولة إيطاليا وتشيلي الأكثر حفا في تنوع المحاصيل الزراعية بسبب تعدد دوائر العرض بها
- تعدد خطوط الطول يعنى الدولة تصبح دولة شريطية عرضية
- الشريطية الطولية عدد دوائر عرض ٦ اضعاف او اكثر من خطوط الطول
- الشريطية العرضية عدد خطوط الطول ٦ اضعاف او اكثر من دوائر العرض

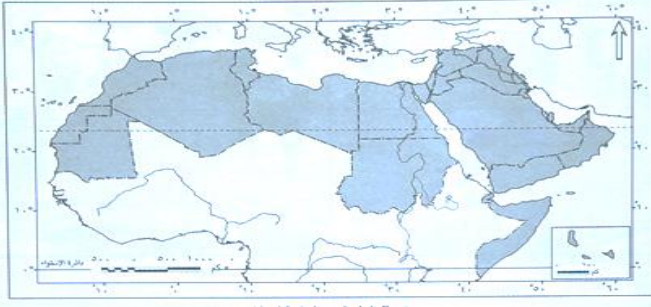
٣ :- دولة تفتقد عاصمتها بالحماية والدفاع تبعد عن حدها الشرقي ٨٠٠ كم وحدها الشرقي ٤٠٠ وحدها الجنوبي ٢٠٣ ضوء تلك العبارة نستنتج أن هذه الدولة ذات شكل

- (أ) مندمج  
(ب) شريطي عرضي  
(ج) شريطي طولي  
(د) مجزأ بري

### تذكر أن

- إذا هوجمت دولة شريطية من جهة الشمال ، فمن الممكن أن تصدى لهذا الهجوم بتطبيق نظرية الدفاع بالعمق إذا كانت تلك الدولة ذات شكل شريطي طولي
- الامتداد الطولي عامل ضعف (صعوبة في الاتصال بأجزاء الدولة والدفاع عن الدولة ) عامل قوة ( تنوع المناخي وتنوع المحاصيل الزراعية )
- دولة الفاتيكان الواقعة في إيطاليا تشبه من حيث الشكل دولة ليسوتو
- الشكل المستطيل " الشريطي" نفل فيه المميزات الأمنية والعسكرية يعانى في صعوبات بين اجزائه
- تعد دولة إيطاليا وتشيلي الأكثر حفا في تنوع المحاصيل الزراعية بسبب تعدد دوائر العرض بها

٤ :- تصور أن الجناح العربي الأفريقي أصبح دولة فإنه يكون أقرب إلى الشكل



- (أ) البرى البحرى المجزا  
(ب) المستطيل العرضي  
(ج) المندمج ذو البروز  
(د) البرى المجزا

### تذكر أن

- إذا أصبحت قارة افريقيا دولة فإنه يكون أقرب إلى الشكل البرى البحرى المجزأ
- إذا أصبحت قارة آسيا أصبحت دولة فإنه يكون أقرب إلى الشكل الدولة البرى البحرى المجزأ
- تصور أن قارة أوربا أصبحت دولة فإنه يكون أقرب إلى الشكل البرى البحرى المجزأ

٥ - يمكن تصنيف دولة ليسوتو على أنها .....

- (أ) حبيسة ومركزية.  
(ب) مندمجة وحبيسة.  
(ج) محتواة وشريطية.  
(د) بحرية ومندمجة.

### تذكر أن

- أسوأ أشكال الدول " الشكل المحتوى او شكل الدولة الحبيسة )
- تشابه دولتي ليسوتو وسوازيلاند في ان كل منهما دول حبيسة - صغيرة الحجم - دول ذات شكل مندمج منتظم - سهولة حصر الموارد
- اقل الدول في عدد دول الجوار هي الدولة الحبيسة

٦ :- أى من أشكال الدول الآتية بعد الأقل تعرضاً لحدوث صراعات مع الدول المجاورة

- (أ) البرى المجزأ  
(ب) المندمج ذوبروز.  
(ج) البحرى المجزأ.  
(د) المنتظم

### تذكر أن

- عندما يتقارب عدد دوائر العرض مع عدد خطوط الطول فإن اقرب شكل للدولة هو الشكل المندمج المنتظم
- دولة نصف قطرها ٤٥٠ كم تقريباً فإنها تكون اقرب الى الشكل المندمج

٧ :- أمامك خريطة مقابلة لسلطنة ( بروناى ) أدرسها ثم استنتج تشابه ( بروناى ) من



- (أ)فرنسا  
(ب)اليابان  
(ج)إيطاليا  
(د)الولايات المتحدة الأمريكية

### تذكر أن

- تشابه الولايات المتحدة الأمريكية و دولة سلطنة عمان بانهم دول برية مجزأة
- ازدواجية اشكال الدولة في إيطاليا لأنها تجمع بين الشكل الشريطي الطولي

## سادساً التضاريس

١ :- ادرس الخريطة جيداً ثم استنتج .....



تساعد السهول على تحقيق الامتزاج الثقافي بين السكان السهول التي تخرج عن ذلك .....

- (أ) سهول سيبيريا شمال آسيا
- (ب) السهول الوسطى بأمريكا الشمالية
- (ج) السهل الأوروبي العظيم
- (د) سهول اليمباس بأمريكا الجنوبية

### تذكر أن

- تساعد السهول على تحقيق الامتزاج الثقافي بين السكان في معظم سهول العالم
- ماعدا سهول نهر الامازون وسهول سيبيريا سهول كلنشو الصحراوية
- يظهر تعزيز الوحدة الوطنية بين سكان الدولة من خلال ( السهول - التنوع المناخي )
- اكثر مظاهر السطح تأثيرا على الكيان السياسي للدول السهول
- تسطيح الدول تحقيق التجانس السكاني أو الثقافي من خلال ( مظاهر السطح " السهول " )

٢ :- قد تعاني دولة اسبانيا من بقاء في حركة التنمية في اطرافها الشمالية



- (أ) الشكل
- (ب) المساحة
- (ج) التضاريس
- (د) الموقع البحري

### تذكر أن

- ترجع قلة المنعة الطبيعية لهولندا في مواجهة الأطماع الاستعمارية إلى المساحة و المظهر التضاريسي
- رغم تعدد مميزات الدولة السهلية إلا أنها قد تفقد بعض هذه المميزات في حال وجود صراعات إقليمية
- الدولة الأكثر منعة وقت الحرب هي التي تتميز بكون المساحة والطابع الجبلي الأكثر عرضة للاحتلال بصورة أكبر ذات الطابع السهلي
- يرتبط ظهور الاقليات و الروح الانفصالية عن الدولة بمظاهر السطح مثل اسبانيا والشكل الجزأ مثل إندونيسيا
- ظهر الاثر السلبي للجبلة في جنوب غرب اوربا
- لعبت الجبال دوراً متناقض في جنوب غرب أوربا " اسبانيا

٣ - يرجع التجانس السكاني في دولة هولندا إلى عدة عوامل أهمها .

- (أ) استواء السطح.
- (ب) اعتدال المناخ
- (ج) المساحة الكبيرة.
- (د) الموقع البحري.

### تذكر أن

يظهر تعزيز الوحدة الوطنية بين سكان الدولة من خلال ( السهول - التنوع المناخي )  
يظهر اثر مظاهر السطح في تعزيز الوحدة الوطنية في ( بلجيكا - هولندا - مصر - العراق )  
تسطيح الدول تحقيق التجانس السكاني أو الثقافي من خلال ( مظاهر السطح " السهول " )

٤ :- إذا انعدمت المرتفعات الموجودة بإسبانيا فإن ذلك سيؤدى لـ

- (أ) تعزيز زوح الانفصال عند سكان كتالونيا.
- (ب) زيادة روح التماسك والترابط بين السكان
- (ج) زيادة قدرة إسبانيا في المراقبة والدفاع.
- (د) صعوبة التطور العمراني بإسبانيا.

### تذكر أن

- يظهر تفوق الدول ذات الطابع الجبلي عن الدول ذات السهلي في الجانب العسكري
- رغم مميزات الجبال الاقتصادية وعسكرية إلا أنها إلى جوانب سلبية في بعض المناطق جنوب غرب أوربا
- أكثر العوامل التي قد تؤثر على الامتزاج الثقافي في دولة اسبانيا مظاهر السطح

٥ :- من المتوقع أن تواجه دولة سويسرا صعوبة في التحول إلى النظام الوحدوي المركزي بسبب .....

- (أ) تعدد اللغات الرسمية
- (ب) شكلها المستطيل.
- (ج) طابعها التضاريسي.
- (د) تعدد النظم السياسية.

### تذكر أن

- الدول الأكثر حظاً في تطوير العمران والانشطة الصناعية والتجارية الدول السهلية
- امتلاك الدولة المرتفعات تمتد بمحاذاة الحدود يمنحها الحدود قوة ومنعه من الاعتداءات العسكرية مثل الهيمالايا على حدود الصين
- من الدول التي تجد صعوبة في اتصال بأجزائها بسبب مقوماتها الطبيعية ( الدول ذات الطابع الجبلي ) ( سويسرا واليابان والدولة الشريطية

٦ :- تمثل وجه الشبه بين الدول ذات الطبيعة الجبلية والدولة ذات الشكل المستطيل الطولى في .....

- (أ) إعاقة التنمية الشاملة
- (ب) سهولة الدفاع عن الدولة
- (ج) سهولة الاتصال الخارجي
- (د) حسن الادارة الداخلية

### تذكر أن

- من المقومات الطبيعية التي لا تتوافق في تحقيق افكار كيلين " الجبال "
- يرتبط النشاط الصناعي - التعديني والسياحي بالطابع الجبلي للدول مثل سويسرا واليابان
- المناطق الجبلية تثير مشكلات اجتماعية ذات طابع سياسي في جنوب غرب أوربا مثل إقليم كتالونيا

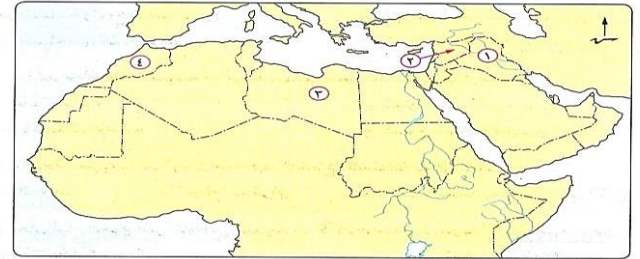
١- في ضوء دراستك لأهمية المناخ بالنسبة لقوة الدول، تتوقع أي من المناطق الآتية تكون دولها هي الأكثر تشجيعاً على جذب الاستثمارات لها؟ .....

- (أ) وسط أفريقيا. (ب) شمال آسيا.  
(ج) جنوب أوروبا. (د) شمال أمريكا الجنوبية.

### تذكر أن

- يزيد فاعلية الانشطة البشرية بشكل واضح في منطقة حوض البحر المتوسط مثال جنوب اوربا المطلة على البحر المتوسط مثل إسبانيا وفرنسا وإيطاليا واليونان وتركيا ومالطا وقبرص
- يزيد فاعلية الانشطة البشرية بشكل واضح في منطقة الوطن العربي مثل سوريا ولبنان وإسرائيل وفلسطين الاجزاء الشمالية من الوطن العربي مصر وليبيا وتونس والجزائر والمغرب

٢ من خلال دراستك لخريطة الوطن العربي التالية نجد أن أكثر الدول التي يؤثر عليها المناخ بشكل سلبي هي التي تحمل



- (أ) الرقم ١ (ب) الرقم ٢  
(ج) الرقم ٣ (د) الرقم ٤

### تذكر أن

- يقل فاعلية الانشطة البشرية بشكل واضح في المناطق القريبة من المحيط القطبي مثال شمال روسيا وشمال كندا والسويد والنرويج والسويد بسبب المناخ المتطرف البارد
- الصحارى الحارة المناطق الحارة (النطاق الصحراوي)
- وسط الجزائر وموريتانيا وسط ليبيا شمال السودان والصحراء الغربية والشرقية في مصر يقل بها فاعلية الانشطة الاقتصادية باستثناء مناطق التعدين والسياحة وموارد المياه الجوفية وشبه الجزيرة العربية

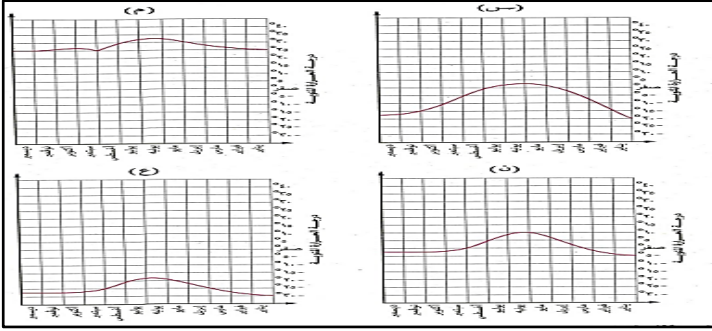
٣ :- بالرغم من تميز السويد بالشكل المستطيل (امتداد طولي) إلا أنها تفتقر للتنوع المناخي بسبب .....

- (أ) الموقع الجغرافي. (ب) صغر المساحة.  
(ج) عدم تنوع التضاريس. (د) الموقع الفلكي.

### تذكر أن

- تنوع المناخ يساعد على تقوية الدولة من الناحية الاقتصادية (تنوع الحاصلات الزراعية) من الناحية السياسية
- (تحقيق التكامل بين الاقاليم اي تعزيز الوحدة الوطنية بين الاقليم) مثال الولايات المتحدة الامريكية
- رغم اتساع مساحة شبه الجزيرة العربية إلا أنها تفتقد إلى التنوع المناخي
- احد العوامل الطبيعية التي أثرت إيجابياً على الولايات المتحدة الامريكية وسلبياً على روسيا المناخ

٤ :- إمامك رسم بياني لبعض المناطق موزع عليها متوسطات الحرارة على مدار السنة .....



في الاتحاد الأوربي ضوء ذلك استنتج

أي المناطق التالية تتوقع أن تزداد بها فاعلية الانشطة البشرية لسكان (أ) (م) (ب) (س) (ج) (ن) (د) (ع)

### تذكر أن

- المناطق التي تتوقع أن تزداد بها فاعلية الانشطة البشرية لسكان تقع معظمها ما بين دائرتي عرض من ٣٠ الى ٤٠ شمالاً وجنوباً
- تقل فاعلية الانشطة البشرية في النطاق الصحارى ما بين (٣٠ - ١٥) شمالاً وجنوباً والنطاق الاستوائي والمداري (صفر الى ١٥) والنطاق البارد من ٤٠ الى ٦٠ والمناطق القريبة من المحيط القطبي

## ثامناً النبات الطبيعي

١ :- تساهم الغابات في زيادة قوة الدولة .....

- (أ) العسكرية والاجتماعية (ب) السياسية والاجتماعية  
(ب) الاقتصادية والعسكرية. (د) الاجتماعية والبيئية

### تذكر أن

- يرتبط صور النشاط الرعوى لبعض دول العالم الحديث " أستراليا والارجنتين
- تشابه العوامل الطبيعية المؤثرة في قوة دولة الارجنتين الاقتصادية مع دولة أستراليا

٢ :- توضح الصورة المقابلة، قدرة الإنسان على زيادة قوة الدولة بالتغلب على

مشكلات الزراعة الخاصة بـ .....



- (أ) المناخ  
(ب) التصحر  
(ج) نقص المياه  
(د) خصوبة التربة

### تذكر أن

- يرتبط النبات الطبيعي "المطاط" بالصناعات الهندسية
- لا بد ان التركيز على المناطق التي تشبه نوع المراعي (الاستبس) التي يربي عليها الاغنام في أستراليا والارجنتين من حيث دوائر العرض

### أولاً: السكان (القوة الديموجرافية)

- ١- أصبحت الولايات المتحدة وروسيا والصين من خلال حجمها السكاني الكبير قوى عظمى اقتصادية وعسكرية لها دور مؤثر في السياسة الدولية من خلال ..
- أ- التوسع على حساب الدول المجاورة  
ب فتح باب الهجرة لسكانها لتخفيف العدد  
ج- استثمار مواردها الطبيعية والبشرية الضخمة  
د توفير الانفاق الفعلى على البحث العلمى للرفاهية

#### تذكر أن

- الدول التي تعاني من عدم قدرتها في تحقيق الامن وحماية لسكانها تتمثل في الدول ذات الحجم السكاني الكبير (روسيا - الصين - الولايات المتحدة - الهند)
- من الدول التي مكنتها مقوماتها البشرية من بناء قوتها السياسية والعسكرية روسيا والصين والولايات المتحدة الامريكية

- ٢- القاسم المشترك بين السعودية والصين أنهما دول كبيرة المساحة ولكن يختلفان في .....

- أ- النظام السياسي والإداري ب القوة العددية للسكان  
ج- الانتماء لقارة واحدة د: الأهمية الاستراتيجية

#### تذكر أن

- الدول الأكثر حظاً في اللجوء الى التحالفات السياسية والعسكرية بسبب قوتها الديموجرافية (دول الخليج منطقة شرق الوطن العربي أو جنوب غرب آسيا)
- الدول الأكثر حظاً في الاعتماد على العمالة الأجنبية خارجية شرق الوطن العربي أو جنوب غرب آسيا
- من المناطق الأكثر الى عقد التحالفات السياسية والعسكرية جنوب غرب آسيا

- ٣- من الأفضل أن تلجأ الدول ذات الحجم السكاني الكبير لتوفير الحماية والأمن إلى .....

- أ) الدخول في الأحلاف العسكرية.  
ب) الانضمام إلى التكتلات الاقتصادية.  
ج) الاعتماد على الخبرات العسكرية الأجنبية.  
د) الاعتماد على قدراتها الديموجرافية الذاتية.

#### تذكر أن

- تفتقر الدولة ذات الحجم الديموجرافي الصغير الى قلة فرص ظهور العلماء المبدعين
- الجانب المضيء في زيادة حجم السكاني للدولة ما هو توفير احتياجات سوق العمل من العمالة
- احيانا ترتفع معدلات ارتفاع معدلات الجريمة والمشكلات الأمنية في الدول ذات الحجم السكاني الكبير
- يرتبط استقلال الموارد الاقتصادية في الدول بالقوة الدولة المورفولوجية

٥ :- أي مما يلي يعد من سلبيات الدولة التي يصل حجمها السكاني إلى ٥٠٠ مليون نسمة أو أكثر؟ .....

- أ) الحاجة إلى الانضمام لحلف عسكري ب) سهولة تحقيق أمنها الغذائي.  
ج) احتمالية ظهور الأقليات. د) نقص العمالة الوطنية.

#### تذكر أن

- يرتبط ظهور الحركات الانفصالية في الدول بقوة الدولة الديموجرافية ومظاهر السطح (الطابع الجبلي)
- يمثل الحجم السكاني الكبير عبأ على دول العالم الثالث من حيث توفير الحبوب الاستراتيجية
- أقل الدول الآتية ذات تأثير سياسي على المستوى الدولي هي الدولة قبلية السكان
- يصبح الحجم السكاني الكبير مشكلة حقيقية للدولة إذا صاحبه نقص في الموارد

### ثانياً - أهم الخصائص المؤثرة على السكان

#### ١- التركيب النوعي والعمرى للسكان

١- يتوقف وضع خطط التنمية الاقتصادية للدول على ..

- أ) التركيب العمري (ب) التركيب النوعي  
ج) اللغة والدين (د) الهجرة الداخلية

#### تذكر أن

- الدولة التي ترتفع بها نسبة الشباب (منتصف الهرم السكاني دليلاً دامغاً على وجود عنصر الانتاج وزيادة القوة الاقتصادية والعسكرية
- يدل تولى المرأة على المناصب الادارية والقضائية دليلاً على تأثير التركيب النوعي على قوة الدولة
- يقبل دور المرأة المشاركة في العملية الانتاجية في الدول النامية مثل (باكستان - الهند - ماليزيا - الدول العربية - الدول الافريقية)

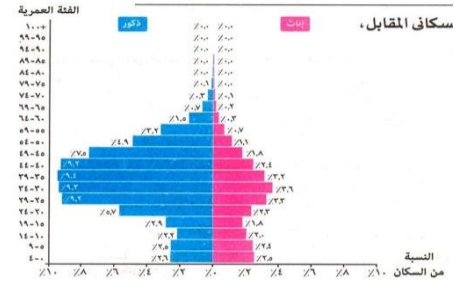
٢:- الولايات المتحدة - بريطانيا - سويسرا - روسيا "مجموعة دول تشارك في

- أ) الاستفادة من التركيب النوعي للسكان  
ب) الاشتراك في تكتل اقتصادي واحد  
ج) اعضاء في حلف عسكري واحد  
د) اعضاء في منظمة اقليمية احدة

#### تذكر أن

- إذا شكلت نسبة كل من صغار السن وكبار السن نحو ٦٠٪ من جملة سكان الدولة، فإن ذلك سيكون مؤشراً على وجود عجز في عنصر الإنتاج
- يعد التركيب النوعي نقطة ضعف على قوة الدولة بالأخص في افريقيا وجنوب غرب آسيا
- يعد التركيب النوعي نقطة ضعف على قوة الدولة في تكتل الكوميسا ومجلس التعاون لدول الخليج العربي واتحاد المغرب العربي
- من خصائص السكان التي تؤثر بشكل سلبي على الدول النامية (التركيب النوعي - حجم السكاني الصغير)

٢ :- يمكن توجيه نقداً للدولة التي يمثلها الهرم السكاني المقابل ويتمثل ذلك في.....



(أ) اختلال توازن التركيب النوعي. (ب) ارتفاع نسبة الإعالة بالدولة. (ج) ضعف حجم القوة البشرية (د) ارتفاع معدل الزيادة الطبيعية العسكرية..

### تذكر أن

- قاعدة الهرم السكاني ورأس الهرم السكاني يعبران عن الإعالة السكانية منتصف الهرم تحدد القوى العاملة المتاحة
- كلما اتسعت قاعدة الهرم ارتفاع قمة الهرم دليلاً على ارتفاع نسبة الإعالة الأكبر استهلاكاً
- اتساع منتصف الهرم السكاني يعنى وجود نسبة من الشباب وتوفر قوى عاملة يمكن من خلال تحقيق برامج التنمية
- يصبح التركيب العمرى عنصر من عناصر قوة الدولة مستقبلاً في حالة زيادة أعداد الفئات الأكثر الاستهلاكاً

## ٢. الهجرة

١ :- تتميز بعض دول الخليج العربي مثل الكويت والإمارات بتعدد الجنسيات بسبب

(أ) استقبال هجرات عائدة إليها (ب) تعرضها لهجرات قسرية . (ج) خروج الهجرات الشرعية منها. (د) نقص العمالة المحلية

### تذكر أن

- تتأثر دول الاتحاد الاوربي والخليج العربي سلباً بالهجرة الوافدة او الهجرة الغير شرعية
- :- تتأثر التنمية الاقتصادية في الدول النامية سلباً بسبب هجرة العقول والتركيب العمري
- تؤثر الهجرة الخارجية سلباً على الدول المستقبلية لسكان من الناحية ( الاجتماعية ) او التجانس السكاني

٢ :- يمكن للدول الخليج العربي ان تستقطب عماله ماهرة دون الاخلال بالتجانس الاثنوجرافي من دولة ....

(أ) تايوان (ب) ليبيا (ج) القليلين (د) كينيا

### تذكر أن

- يرجع السبب في تباين الثقافات والعادات في جنوب غرب آسيا في الوقت الحالى إلى نقص العمالة المحلية ( الهجرة الرسمية والغير شرعية )
- أكثر مناطق أوروبا التي تعاني من ازدواجية الفكر وتنوع العادات هي جنوب اوربا بسبب ( الهجرة الرسمية والغير شرعية )
- يمكن للدول الخليج العربي ان تستقطب عماله ماهرة دون الاخلال بالتجانس الاثنوجرافي من اي دولة عربية مثال دول شمال افريقيا

٣ :- من الدول تملك مواقع استراتيجية تعاني من عدم التجانس بين سكانها

(أ) تونس و ايطاليا (ب) المغرب وسلطنة عمان (ج) المغرب ومصر (د) ايطاليا واسبانيا

### تذكر أن

- يمكن للدول الاوربية ودول الخليج الحفاظ على تماسكها الداخلي او تجانس السكاني من خلال الحد من هجرة العمالة الاجنبية او الهجرة اليها او مواجهة الهجرة الشرعية او غير شرعية
- أهم المقترحات لحد من هجرة العقول يتمثل في تقدير العلماء مادياً واجتماعياً

٤- استخلص الأثر الإيجابي الناتج عن الهجرة بالنسبة للدول المرسله.....

أ-تفريغ الدولة المستقبله من الكفاءات والاعتماد على المهاجرين ب القضاء على البطالة وزيادة مستمرة في الدخل القومى ج تجانس السكان وخلق روح المحبة والوفاق د رفع المستوى التكنولوجي والمهني للعلماء

### تذكر أن

- يتمثل العامل المشترك بين الدول المرسله والدول المستقبله للهجرات في تحقيق الاستفادة لاقتصادية
- تعددت الثقافات والعادات بدول الخليج العربي في الفترة الأخيرة كنتيجة مباشرة للهجرات الوافدة
- تعد الهجرة الخارجية بالنسبة للدول النامية سلاح ذو حدين يتمثل في حل مشكلة البطالة وبطء التطور التكنولوجي

## ٣. اللغة والدين

١- استطاعت الدول المتقدمة تحقيق التجانس بين سكانها عن طريق

(أ) رفض تعدد اللغات. (ب) استيعاب التنوع الديني (ج) زيادة قوتها العسكرية. (د) زيادة الحجم السكاني

### تذكر أن

- تعدد اللغات الرسمية في الدولة يشير بالضرورة إلى وجود تنوع ثقافي بين السكان من العوامل البشرية التي لها تأثيرها السلبي على التماسك الاجتماعي داخل الدول تعدد اللغات
- تعدد اللغات داخل الدولة الواحدة يثير مشكلة في حالة وجود نية في الاستقلال

٢ :- من أهم العوامل التي تساعد على تحقيق الامتزاج الثقافي داخل الدولة

(أ) المناخ الجبال (ب) الجبال والبنية التحتية (ج) السهول واللغة (د) الغابات والشكل المندمج

### تذكر أن

- العوامل الأكثر حظاً في تحقيق التجانس سكاني الداخلي للدول ( اللغة - السهول ) ( العوامل الاثنوجرافية او الحضارية ومظاهر السطح )
- يخفئ الاثر السلبي لتعدد اللغات في دول سويسرا بسبب اتباع سياسة تغليب المصاح من الخصائص الديموغرافية الآتية الأكثر تأثيراً على رسم خريطة العالم السياسية الخصائص الاثنوجرافية

## ثانياً/ المركب الاقتصادي

## ١- الانتاج الزراعى

١- قد تتأثر القرارات السياسية لبعض الدول النامية بسبب

- (أ) وجود تيارات هجرة للدول المتقد (ب) صغر مساحة هذه الدول.
- (ج) عدم تحقيقها للأمن الغذائي. (د) تعدد القوميات بهذه الدول.

## تذكر أن

- يرتبط وزن الدول السياسي على المستوى العالمي اى تصنيف الدول بين دول متقدمة ونامية على اساس ( امتلاك الموارد الاقتصادية وكفاءة السكان في استغلال تلك الموارد اى قوة الدولة الديموغرافية
- اكبر صور التي ترتبط العلاقات الدولية بين الدول في عصرنا الحالي ( المصالح الاقتصادية )
- من اهم العوامل التي ترتبط بالأمن القومي للدول (الموارد الغذائية )

٢- من خلال دراستك للمقومات البشرية للدولة، تظهر خلال صدامها العسكرى بدولة أخرى أهمية .

- (أ) المعادن الفلزية واللافلزية
- (ب) مصادر الطاقة والصناعات التجهيزية
- (ج) الحبوب الغذائية والمعادن الاستراتيجية.
- (د) وسائل النقل والمعادن اللافلزية

## تذكر أن

- تعجز الدول في فرض ارادتها السياسية في حالة عدم قدرتها في توفير الغذاء لسكانها مثل معظم الدول النامية
- يرجع معاناة العديد من الدول النامية من التبعية الاقتصادية الى هجرة العقول ونقص الموارد الغذائية
- يرجع استقلال القرار السياسي في بعض الدولة الى وفرة مواردها الغذائية

## ٢- الموارد المعدنية ومصادر الطاقة

١- أي من عناصر المركب الاقتصادي تحقق اهداف الجيوبوليتك الخارجية

- (أ) النقل والمواصلات (ب) الانتاج الزراعي
- (ج) المعادن الاستراتيجية (د) مستوى العلمي

## تذكر أن

- يرتبط تنوع المعادن في العالم بالقوة المورفولوجية المساحة الكبيرة مثل ( روسيا - الصين - كندا - الولايات المتحدة - البرازيل - )
- قل فرصة وجود تنوع في الانتاج المعدني بالدول ذات المساحة الصغيرة
- يرتبط وجود المعادن الاستراتيجية للدولة بمظاهر السطح اى الطابع الجبلي و المساحة الكبيرة للدول

## ٤- الحالة التعليمية والتكنولوجيا

١- الدول التي تعاني من هجرة العقول توصف بأنها تعاني من

- (أ) التبعية الاقتصادية للخارج (ب) اضطرابات سياسية في الداخل
- (ج) تنوع الثقافات والعادات (د) ارتفاع نسبة الفئة الاكثر استهلاكاً

## تذكر أن

- زيادة حجم هجرة العقول دليلاً دامغاً على اهمال البحث العلمي
- تعانى بعض الدول النامية من التبعية للخارج بسبب هجرة العقول
- اثر المستوى التعليمي او التكنولوجي في بناء القوة السياسية للدول وزنها على الخريطة السياسية بالأخص الدول المتقدمة

٢- يتوقف حجم معاناته بعض الدول النامية من التبعية الاقتصادية إلى

- (أ) هجرة العقول المفكرة (ب) قلت المواد الاولية
- (ج) نقص المادة الخام (د) نقص العمالة المحلية

## تذكر أن

- شهدت مصر هجرة العقول مفكرة الى الدول المتقدمة وقد يؤثر ذلك في سلبيا في تطويرها الاقتصادي
- الدول التي تعاني من هجرة العقول توصف بأنها تعاني من التبعية الاقتصادية للخارج
- تتأثر التنمية الاقتصادية في الدول النامية سلبياً ب هجرة العقول
- يمكن للدول النامية مواجهة ظاهرة هجرة العقول بالاهتمام بدعم البحث العلمي كلما زاد ميزانية البحث العلمي كلما ادى ذلك الى استفادة الدولة من مواردها البشرية وقلت هجرة العقول

٣- فرنسا - ماليزيا - اليابان - الصين "مجموعة دول تشارك في

- (أ) ظهور المبدعين (ب) الاشتراك في تكتل اقتصادي واحد
- (ج) تبني نظرية الدفاع من العمق (د) الخصائص الاثنوجرافية

## تذكر أن

- من اهم المقومات البشرية التي تؤثر على قوة الدولة وزن الدولة السياسي ( التكنولوجيا - حجم السكاني - الموارد الاقتصادية )
- اخطر الجوانب البشرية تأثيراً على السلوك السياسي للدول وزنها على خريطة العالم السياسية هو التكنولوجيا
- اثبتت اليابان على وجود علاقة واضحة بين التقدم الصناعي و المهارات البشرية
- تفتقر بعض الدول الى التطور التكنولوجي بسبب قلة الدعم المادي واهمال البحث العلمي

## ٤- النقل والمواصلات

١- تعد وسائل النقل من العناصر الضرورية للدولة. أي من الدول الآتية تمتلك الأفضلية الجغرافية لتطبيق العبارة السابقة؟

- (أ) هولندا  
(ب) إيطاليا  
(ج) سويسرا  
(د) اليابان

### تذكر أن

- يرتبط سهولة حركة الجيش وسهول الاتصال بـ (النقل والمواصلات - الشكل المندمج المنتظم - الطابع السهلي)
- تعزيز الوحدة الوطنية يرتبط بـ (سيادة لغة واحدة - وسائل نقل - الطابع السهلي ، التنوع المناخي)
- يسهل النقل والمواصلات من سيطرة الحكومة على امورها السياسية والادارية بالدولة ذات بطابع السهلي مثل المانيا وهولندا

٢- تتعدد العوامل التي تمكن الدولة من إنجاح خطط التنمية الشاملة بها واستثمار مواردها بشكل فعال ومنها .

- (أ) الطابع الجبلي - الحجم الكبير للسكان - الشكل الشريطي.  
(ب) المساحة الكبيرة - وجود نظام نقل متطور الشكل المجزا  
(ج) الشكل الشريطي - القوة التنظيمية - الحجم السكاني الصغير  
(د) وجود نظام نقل متطور الشكل المندمج - الطابع السهلي

### تذكر أن

- إنجاح خطط التنمية يرتبط بوسائل النقل والمساحة الصغيرة والطابع السهلي
- تتأثر خطط التنمية سلباً بـ (الطابع الجبلي - هجرة العقول - عدم امتلاك وسائل نقل متكاملة)
- يرتبط ضبط الدولة وادارتها بـ (المساحة الصغيرة والشكل المنتظم) مصر - النقل والمواصلات)
- يرتبط امتلاك وسائل مواصلات متكاملة بقدرات الدولة من الناحية الاقتصادية والاجتماعية

## ثانياً :- عناصر القوة الاقتصادية للدولة

١- رغم التداعيات العالمية الأزمة كورونا إلا أن مصر تعد من أهم الدول التي استطاعت الثبات باستمرار عجلة الإنتاج بها . تشير العبارة إلى تمتع مصر بالقوة.

- (أ) المورفولوجية  
(ب) السكانية  
(ج) العسكرية  
(د) الاقتصادية

### تذكر أن

- تظهر قوة الدولة الاقتصادية بصورة واضحة في حالة زيادة حجم صادراتها عن وارداتها
- الدولة التي ليس لها القدرة في الصمود امام التحديات الخارجية هي التي يقل بها الصادرات عن الواردات
- الدولة الأقوى في الوزن الاقتصادي عندما يكون الميزان التجاري في صالح الدولة عندما يكون حجم الصادرات اكبر من الواردات

٢- سلاح الردع الذي تمتلكه الدول العربية امام الضغوط الخارجية

- (أ) وجود فائض في الغذاء  
(ب) امتلاك مصادر الطاقة الحفزية  
(ج) الانفاق على البحث العلمي  
(د) حجم الكبير للسكان

### تذكر أن

- من اهم الاسلحة التي يمتلكها الوطن العربي يمكن من خلالها تحقيق اهدافها السياسية يتمثل في الوقود الحفزي ومصادر الغير متجددة
- تحقيق الدول العربية اهدافها السياسية عن طريق امتلاكها الموارد الاقتصادية " الطاقة الحفزية " البترول
- اهم جوانب المجال الاقتصادي بالنسبة للدول من الناحية الاستراتيجية والعسكرية تتمثل في المعادن والانتاج الصناعي

## ٣- الصناعة

١- يؤثر امتلاك دولة ما لصناعات استراتيجية هامة في .....

- (أ) زيادة قوتها التنظيمية.  
(ب) استمراريتها للدول المتقدمة.  
(ج) زيادة صادراتها من المواد الأولية.  
(د) قوة إرادتها السياسية.

### تذكر أن

- اهم جوانب المجال الاقتصادي بالنسبة للدولة من الناحية الاستراتيجية (العسكريه) تتمثل في المعادن و الإنتاج الصناعي
- الدول التي لها القدرة على التصنيع الحربي بسبب مقوماتها الطبيعية الدولة التي تمتلك معادن

٢- أنشأ محمد علي باشا ترسانة القلعة لصناعة الأسلحة كالمدافع وتصنيع البارود، وفي منطقة الحوض المرصود معملاً لصنع البنادق، تلك المصانع يمكن اعتبارها نواة للصناعات .....

- (أ) الاستراتيجية  
(ب) الهندسية  
(ج) الإنشائية  
(د) الاستخراجية.

### تذكر أن

- ترتبط القدرات العسكرية الدفاعية أو الهجومية للدول بقدراتها على التصنيع
- ترتبط معظم الصناعات الاستراتيجية بالصناعات الحربية
- الركيزة الاقتصادية لاي اقتصاد هو القدرة على التصنيع
- اهم جوانب المجال الاقتصادي بالنسبة للدولة من الناحية الاستراتيجية (العسكرية) تتمثل في المعادن و الإنتاج الصناعي

## رابعاً: القوة التنظيمية (الاجتماعية - السياسية)

١- تشير دراسة اختصاصات السلطات المحلية بدولة ما إلى وجود القوة

- (أ) العسكرية  
(ب) الاقتصادية  
(ج) التنظيمية  
(د) المورفولوجية

### تذكر أن

- من المتوقع زيادة فاعلية القوة التنظيمية في الدول السهلة والمدمجة
- يرتبط الأمن الداخلي وتوفير الخدمات للدول بالقوة التنظيمية أو التقسيم الإداري
- قدرة الدولة في التحكم في جميع اجزاء الدولة يرتبط بالقوة التنظيمية
- قدرة الدولة على محاربة الفساد والمحسوبية داخل المجتمع دليلاً ودامغاً على امتلاكها القوة التنظيمية الجيدة

٢: نجاح البرازيل في التغلب على مشكلة الديون التي واجهتها باعتمادها على مبدأ

المكاشفة يعنى امتلاكها للقوة.....

- (أ) الاقتصادية  
(ب) التنظيمية  
(ج) المورفولوجية  
(د) الديموجرافية

### تذكر أن

- يوجد ارتباط بين شكل الدولة ومساحتها ومظاهر السطح بها والقوة التنظيمية
- قدرة القوة التنظيمية فيها حيث تزداد قدرة الحكومة على بسط نفوذها على كل ارجاء الدولة واحكام السيطرة عليها
- قدرة القوة التنظيمية تزداد لدولة ذات الشكل مندمج وطابع سهلي ومساحة صغيرة
- كلما كانت الادارة الحكومة على درجة عالية من الشفافية والكفاءة كلما زاد من قوة الدولة على التغلب على المشكلات

٣. يرجع نجاح مصر في اقامة مؤتمر التغيرات المناخية COP٢٧ الى

- (أ) القوة التنظيمية  
(ب) القوة المورفولوجية  
(ج) القوة العسكرية  
(د) القوة الديموجرافية

### تذكر أن

- تشير دراسة اختصاصات السلطات المحلية بدولة ما إلى وجود القوة التنظيمية
- الاشراف القضائي على العملية الانتخابية بالدولة يمثل احد اهتمامات الجغرافيا السياسية وهو التنظيم الداخلي أو القوة التنظيمية
- التحول الرقمي هو التغير المرتبط بتطبيق التكنولوجيا الرقمية في جميع الجوانب الاجتماعية. وهي تمثل احد اهتمامات الجغرافيا السياسية وهو التنظيم الداخلي أو القوة التنظيمية
- الاشراف الحكومي على تنفيذ البرامج الرئاسي حياة كريمة يمثل احد اهتمامات الجغرافيا السياسية وهو التنظيم الداخلي

## ثالثاً: عناصر القوة العسكرية للدولة

١- «أعتز واقتخر أن الجندي المصري خير اجناد الأرض». العبارة السابقة تعبر عن

- (أ) أحد العناصر غير المادية للقوة العسكرية.  
(ب) أهمية سباق التسلح في الشرق الأوسط.  
(ج) مؤشر عسكري يمكن قياسه  
(د) زيادة الوزن السياسي للدولة المصرية.

### تذكر أن

- تشارك الموارد الغذائية والقوة العسكرية في تحقيق الأمن القومي للدول
- من العناصر المادية للقوة العسكرية للدول تتمثل في القوة البشرية والمعدات الحربية والانساق العسكري
- من العناصر الغير المادية للقوة العسكرية للدول تتمثل في كفاءة المقاتل وإخلاصه ودوافعه بالإضافة الى كفاءة جهاز المخابرات

٢- تشتمل القوة العسكرية على أبعاد غير مادية تساعدها على النجاح ومنها

- (أ) الإنفاق العسكري.  
(ب) حجم الجيش.  
(ج) العقيدة العسكرية  
(د) المعدات العسكرية.

### تذكر أن

- من الممكن حصر عناصر القوة العسكرية باستثناء كفاءة المقاتل وكفاءة المخابرات وإخلاص الجنود لأنه من العناصر الغير مادية
- يعد الجيش المصري خير أجناد الأرض بسبب كفاءة المقاتل .
- تتأثر قوة الدولة عسكرياً بخصائص طبيعية ( مثل مساحة ومظاهر السطح )

٣- يساعد الاستشعار من بعد في تحديد قوة الدولة العسكرية حيث يساعدها في توفير البيانات والمعلومات عن

- (أ) كفاءة المقاتل ومدى إخلاصه.  
(ب) كفاءة جهاز المخابرات الحربية.  
(ج) مقدار المعدات العسكرية.  
(د) نوعية المقاتل ودرجة تعلمه.

### تذكر أن

- يساعد نظم المعلومات الجغرافية في تحديد قوة الدولة العسكرية عن طريق توفير البيانات والمعلومات عن مقدرات المعدات العسكرية
- تعد القوة العسكرية اساس تحقيق الأمن القومي للدولة وحماية مواردها وحدودها الجغرافية
- تتأثر قوة الدولة عسكرياً بخصائص ديموجرافية ( مثل حجم السكان - التقدم العلمي والتكنولوجي ورأس المال )

## أولاً: مفهوم النظام السياسي

٩٢- تلعب السلطة منذ فجر التاريخ أدواراً متعددة حيث ظهرت في البداية بهدف

- تحقيق الأمن والاستقرار.
- تكوين مستعمرات جديدة
- تنظيم شئون المعاهدات السياسية.
- ضبط وتوجيه العلاقات الخارجية.

### تذكر أن

- توصل الإنسان لمعرفة الكتابة منذ أكثر من سبعة آلاف سنة وسبق ذلك معرفته لأهمية ضبط وتوجيه سلوك الفرد
- استطاعت المجتمعات البدائية أن تسيطر على أفرادها عن طريق القوة والسلطة

٢: أي مما يلي يعبر عن مفهوم النظام السياسي في صورته المؤسسية ؟

- وضع الموازنة العامة.
- استثمار المناطق الصحراوية.
- إقامة مشروعات اقتصادية
- التنمية البشرية الشاملة.

### تذكر أن

- مفهوم النظام السياسي في صورته المؤسسية يظهر بوضوح من خلال
- تصديق البرلمان على وضع الموازنة العامة للدولة- اصدار القوانين ولوائح
  - تعيين رؤساء الهيئات الحكومية - إجراء الاستفتاء على الدستور
  - التصديق على الاتفاقيات الخارجية - المجالس المحلية - مجلس الشيوخ - المحاكم الجنائية

٣: يتمثل النظام السياسي في صورته الاجتماعية في.....

- المؤسسات التعليمية
- النظام البرلماني.
- المؤسسات القضائية.
- العلاقات الخارجية.

### تذكر أن

- مفهوم النظام السياسي في صورته الاجتماعية يظهر بوضوح من خلال
- التوسع في انشاء المدارس والجامعات
  - اقامة المشروعات الاقتصادية
  - الاهتمام بتطوير البيئة التحتية
  - وحسن استغلال الإمكانيات الجغرافية
  - الاهتمام بمراكز الشباب الرياضية رصف الطرق
  - الاهتمام بالقرى الأكثر فقراً
  - الاهتمام برعاية الصحية تطوير الريف المصري
  - حماية الأمن القومي
  - إقامة المستشفيات الحكومية
  - استثمار الثروات العامة
- يعد عاملاً مشتركاً بين أنظمة الحكم الديمقراطية بدول العالم تتمثل في الدور الاجتماعي للنظام السياسي.

## ثانياً: أنظمة الحكم بالدولة

١- تقع مسئولية عدم الخلط بين مؤسسات صنع القرار السياسي في الدولة على عاتق.....

- السلطة التشريعية.
- الهيئات القضائية.
- السلطة التنفيذية.
- الدستور والقانون

### تذكر أن

- تقاس كفاءة الانظمة السياسية من خلال مبدأ الفصل بين السلطات والتداول السلمي للسلطة
- من العوامل التي تتوقف عليها اختيار نظم الحكم بين دول العالم هي التباين الحضاري ( التاريخي او الزماني ) او التباين المكاني ( الجغرافي ) - التباين الثقافي أو ( اللغوي )
- تتركز السلطات في يد هيئة واحدة يتعارض مع أنظمة الحكم الديمقراطي ومبدأ الفصل بين السلطات ويتوافق مع أنظمة الحكم الديكتاتوري

٢- تتباين طبيعة العلاقة بين سلطات الدولة الثلاث نتيجة

- الالتزام بالقوانين البرلمانية.
- اختلاف المجتمعات حضارياً.
- التأثر بالدول الكبرى
- تبعية الدول النامية للمتقدمة.

### تذكر أن

- يعد قيام الحكومة باعتماد موازنة الدولة دون موافقة البرلمان تدخل السلطة التنفيذية في شؤون السلطة التشريعية
- للديمقراطية أهمية في حياة الأمم والشعوب فعن طريقها يتم تحديد مسئوليات كل سلطة بالدولة
- يمكن اعتبارها الأفضل لتمثيل الحكم الديمقراطي انفراد كل سلطة بمهامها واحترام الدستور
- يعد المجتمع عاملاً مشتركاً بين صنع القرار وتنفيذه». يتوافق مضمون العبارة السابقة مع الحكم الديمقراطي

٣- أي مما يلي يعد من سمات النظام الرئاسي؟.....

- مسئولية رئيس الوزراء عن التشريع.
- رئيس الوزراء مسئول أمام الرئيس.
- تقسيم السلطة بين الرئيس والحكومة.
- سيطرة الحكومة على البرلمان.

### تذكر أن

- تجمع الولايات المتحدة بين النظام الفيدرالي والنظام الرئاسي
- يتم تداول السلطة التنفيذية الولايات المتحدة بإجراء الانتخابات او عن طريق الشعب
- تشكيل الحكومة في النظام الرئاسي من اختصاص السلطة التنفيذية (رئيس الدولة)
- يعزز النظام الرئاسي مبدأ الفصل بين السلطات
- عندما تختصر واجبات البرلمان على اصدار القوانين فقط دون تدخل في مهام السلطة التنفيذية فان ذلك يعنى ان النظام الذي يسود هو النظام الرئاسي
- تجمع الولايات المتحدة الامريكية بين مركزية القرارات السيادية والفصل بين السلطات
- انفراد كل هيئة من هيئات الحكم باختصاصاتها المحددة والمنفصلة دون توغل سلطة على أخرى تعبر عن نظام الحكم الرئاسي

٨ :- ظاه الحكم الذي يتم انتخاب رئيس الدولة مباشرة والمشاركة في تعيين

الحكومة هو نظام .....

- (أ) الجمهوري .  
(ب) الرئاسي  
(ج) البرلماني  
(د) شبه الرئاسي

### تذكر أن

- تتشابه أنظمة الحكم في بريطانيا " النظام البرلماني " وفرنسا " النظام شبه رئاسي " في طريقة اختيار أعضاء البرلمان
- يفصل بحر المانش بين دولتين تختلفان في صلاحية رئيس الوزراء
- القاسم المشترك بين النظام ( الرئاسي - البرلماني - شبه الرئاسي ) في طريقة اختيار أعضاء السلطة التشريعية
- الموافقة على الموازنة العامة في الدولة مسنوية السلطة التشريعية
- يتمثل القاسم المشترك بين النظامين الرئاسي وشبه الرئاسي في وجود رئيس يسود ويحكم مع اختلاف صلاحياته

٩ :- يُعد العامل الأكثر تأثيراً على كفاءة النظام الانتخابي داخل الدولة امتلاكها

للقوة ..

- (أ) المورفولوجية  
(ب) الاقتصادية  
(ج) الديموجرافية  
(د) التنظيمية

### تذكر أن

- قبل عملية إعلان الفائز في الانتخابات بالدولة يتم دراسة مساحة الدوائر وشكلها
- يرتبط مرحلة تقسيم الدوائر في مراحل العملية الانتخابية بقوة الدولة المورفولوجية أو القوة التنظيمية
- أكثر التقنيات الحديثة ارتباطاً بالنظام الانتخابي ( نظم المعلومات الجغرافية )
- الاشراف القضائي على العملية الانتخابية بالدولة يمثل احد اهتمامات الجغرافيا السياسية وهو التنظيم الداخلي

١٠- إذا نجح حزب سياسي في الحصول على نسبة معينة من المقاعد في البرلمان في محافظة

ما ، بينما فشل في حصد تلك النسبة في محافظة أخرى فإن ذلك يعبر عن ..

- (أ) تباين عدد السكان في المحافظتين.  
(ب) التباين المكاني في التصويت.  
(ج) اختلاف مساحة المحافظتين.  
(د) اختلاف الكثافة السكانية في المحافظتين

### تذكر أن

- تتم معرفة عدد المتنافسين في الدوائر الانتخابية في نهاية مرحلة الترشح للانتخابات .
- يتم تشكيله داخل الدولة المصرية من خلال إجراء عمليات انتخابية مثل النقابات العمالية
- تظهر أهمية دور الجغرافيين في خطوات النظام الانتخابي في المرحلة الأولى
- عند دراسة التباين المكاني في التصويت فإننا نعلم على المعلومات التي توفرت في إحدى مراحل النظام الانتخابي وهي المرحلة الرابعة
- زيادة مشاركة سكان الريف عن عدد سكان المدن يمكن تفسير ذلك من خلال أحد اهتمامات جغرافية الانتخابات وهو السلوك دراسة السلوك الانتخابي للناخبين

٤- تتقلص تماماً صلاحيات رئيس الدولة في نظام الحكم .....

- (أ) الجمهوري .  
(ب) الرئاسي  
(ج) البرلماني  
(د) شبه الرئاسي

### تذكر أن

يزداد توغل السلطة التشريعية على السلطة التنفيذية في نظام الحكم البرلماني تقل المسؤوليات المقاة على عاتق حاكم الدولة بصورة واضحة في المملكة المتحدة الوزارة تتبنى مبدأ المسؤولية الجماعية لها أمام مجلس النواب وذلك المجلس مسؤل أمام الشعب» . أحد مزايا نظام الحكم وهو البرلماني من أنظمة الحكم الآتية يكون بها منصب حاكم الدولة هو منصب صوري البرلماني

٥- تزداد صلاحيات السلطة التشريعية بشكل واضح في نظام الحكم .....

- (أ) شبه الرئاسي .  
(ب) الرئاسي  
(ج) البرلماني  
(د) الجمهوري

### تذكر أن

- يتشابه نظام الحكم في دولتي المملكة المتحدة والولايات المتحدة الأمريكية في مسنوية وضع القوانين
- النظام الذي يجمع بين مهام السلطة التنفيذية والتشريعية ( النظام البرلماني
- ترجع مسنوية اسقاط الحكومة في بريطانيا (النظام البرلماني) إلى السلطة التشريعية او البرلمان
- يتشابه النظام الرئاسي والنظام البرلماني في مصدر التشريع
- يقصل المحيط الأطلنطي بين نظامين سياسيين تختلفان في صلاحية رئيس الوزراء
- أكثر سمة تميز النظام البرلماني هو وجود رئيس وزراء يتولى مسنوية الحكم منتخب من قبل الشعب

٦ :- توجد ازدواجية في السلطة التنفيذية في نظام الحكم .

- (أ) شبه الرئاسي .  
(ب) البرلماني  
(ج) الرئاسي  
(د) الجمهوري

### تذكر أن

يعد القاسم المشترك بين أنظمة الحكم في دولتي فرنسا والمملكة المتحدة هو استخدام الانتخابات المباشرة السلطة التشريعية تتشابه دولة فرنسا مع دولة الولايات المتحدة الأمريكية في وجود برلمان واحد - الموقع البحري - وجود دستور واحد

٧ :- تصنف دولة ما على أنها ذات نظام شبه رئاسي إذا .

- (أ) انفرد رئيس الدولة بالسلطة التنفيذية  
(ب) شارك البرلمان في تكوين السلطة التنفيذية.  
(ج) تضاءلت صلاحيات السلطة التشريعية.  
(د) قلت سلطات رئيس الوزراء.

### تذكر أن

- اتجهت بعض الدول المعاصرة إلى تقوية سلطات رئيس الوزراء إلى جانب رئيس الدولة نستنتج أن نظام الحكم في تلك الدول هو شبه رئاسي
- تتدخل السلطة التشريعية ( أعضاء البرلمان ) في تشكيل السلطة التنفيذية ( الحكومة ) في النظام شبه رئاسي

## الوحدة الثانية

الحدود السياسية (مفهومها وأهميتها ووظائفها)

## أولاً مفهوم وتطور الحدود السياسية

١- أي مما يلي يساهم في خلق شخصية جغرافية حضرية مميزة للدولة

- (أ) المناطق الهامشية. (ب) مناطق التخوم  
(ج) مناطق الثغور (د) الحدود السياسية.

### تذكر أن

- الحد السياسي خطوط ترسم على الخريطة تحدد الرقعة الأرضية التي تمارس عليها الدولة سيادتها تنتهي عند هذه الحدود سيادة دولة وتبدأ سيادة دولة أخرى ولا بد تعترف بهذه الحدود الدول المجاورة والمجتمع الدولي
- يرتبط ظهور الحدود السياسية بتحقيق السيادة الوطنية للدول على (مساحتها ومواردها الأرضية - الجوية والبحرية)
- المجال تفرض الدولة سيادتها عليه بصورة راسية على خريطة العالم السياسية هو **المجال الجوي**
- - يصبح الحد السياسي نهائياً بين الدول بعد **اعتراف المجتمع الدولي** الحد السياسي يحدد للدولة سيادتها على الموارد الأرضية السطحية والباطنية والبحرية تنطبق هذه العبارة كاملة على العديد من الدول البحرية ويخرج عنها الدولة الحبيسة

٢- شييد الصينيون سورا لحمائتهم من هجمات المغول منذ أكثر من ألفي عام. تشير تلك

العبارة إلى.....

- (أ) أحد أشكال تطور الحد السياسي. (ب) ظاهرة التخوم  
(ج) استخدام المسح الميداني. (د) تنمية المناطق الهامشية.

### تذكر أن

- اهتم الخليفة هارون الرشيد بالحدود الإسلامية المطلة على الدولة البيزنطية، وكانت علاقته معهم علاقة حربية، اهم خصائص تلك الحدود هي ذات عمق جغرافي
- ارتبط الحدود السياسية قديماً بمناطق الهامشية
- ارتبط ظهور الحدود الخطية بجوانب سياسية ( ظهور الدول القومية )
- توجد علاقة واضحة بين الثورة الصناعية العلاقات الدولية - والحدود السياسية

٣- عندما ظهرت الحدود السياسية بشكل واضح في القرن الـ ١٩م كان الغرض

الأساسي منها هو .....

- (أ) الفصل بين الدول. (ب) الحماية والأمن.  
(ج) الحماية الاقتصادية. (د) الوظيفة السياسية والقانونية.

### تذكر أن

- أصبح الحد السياسي يعتمد على دراسة أرض الواقع من أجل الإلمام بكل التفاصيل منذ **الثورة الصناعية الأولى**
- عندما ظهرت الحدود السياسية بشكل واضح في القرن الـ ١٩م كان الغرض الأساسي منها هو **الحماية والأمن**
- ارتبط دراسة أرض الواقع في المناطق الحدودية بظهور الثورة الصناعية ( عمليات المسح الميداني )
- ترسيم الحد السياسي أصبح ظاهرة تعتمد على دراسة أرض الواقع في المناطق الحدودية منذ قيام الثورة الصناعية

١١:- ترتبط الصورة التي امامك بالتطبيق العملي لاي مرحل من مراحل العملية الانتخابية



- (أ) اعلان الفائزين  
(ب) تقسيم الدوائر  
(ج) الترشح للانتخابات  
(د) التصويت في الانتخابات

### تذكر أن

- صوتك آمنه فاحرص على المشاركة في الانتخابات في كافة المستويات التطبيق العملي لتلك العبارة يظهر في اعلان اجراء الانتخابات - الاقتراع في الانتخابات
- الاختيار على اساس المساواة يساعد بشكل كبير في تحقيق التداول السلمي للسلطة يرتبط تقسيم الدولة الى دوائر الانتخابية لأجراء العملية الانتخابية بقوة **الدولة التنظيمية**
- تظهر أهمية الخريطة عند اجراء العملية الانتخابية عند تقسيم الدوائر الانتخابية

١٢:- بدراسة محافظات مصر بعد انتهاء العملية الانتخابية لوحظ انخفاض نسبة التصويت في المحافظات الصحراوية " يمكن تفسير ذلك من خلال اهتمام الجغرافية الانتخابية وهو

- (أ) تحليل أثر البيئة الطبيعية على السلوك الانتخابي  
(ب) دراسة التوزيع السكاني للدوائر الانتخابية  
(ج) توزيع الدوائر الانتخابية  
(د) دراسة أثر الانتخابات على الظروف البشرية

### تذكر أن

- تتعدد الجوانب الجغرافية في العملية الانتخابية ومنها دراسة **مقومات وابعاد قوة الدولة**
- احدى اهتمامات جغرافية الانتخابات يتم دراستها قبل العملية الانتخابية وهي **توزيع الدوائر الانتخابية للدولة**
- العملية الانتخابية لها جوانب جغرافية كثيرة تتناولها الجغرافيا السياسية **التركيب العمري - الأنشطة الاقتصادية، التقسيم الإداري**

١٣:- بدراسة مراحل العملية الانتخابية في دولة ( ما ) تم ملاحظة زيادة مشاركة سكان

الريف عن عدد سكان المدن " في ضوء تلك العبارة " يمكن تفسير ذلك من خلال أحد اهتمامات جغرافية الانتخابات وهو .....

- (أ) توزيع الدوائر الانتخابية  
(ب) دراسة التباين المكاني في التصويت  
(ج) دراسة أثر الانتخابات على تغير الظروف الاقتصادية  
(د) دراسة السلوك الانتخابي للناخبين

### تذكر أن

- دراسة السلوك الانتخابي للناخبين اي دراسة وتحليله في ضوء **جغرافية المكان الذي يعيش فيه**
- تحليل الآثار البيئية الطبيعية والبشرية والظروف الاقتصادية على **السلوك الانتخابي للفرد**
- دراسة التباين المكاني في التصويت حيث يتفاوت التصويت بين **الحضر والريف**
- ارتبط استخدامات الأرض في الدولة ب **نظم المعلومات الجغرافية وجغرافيا الانتخابات**
- الديمقراطية والانتخابات " وجهان لعملة واحدة اي من المراحل التالية الاكثر تعبيراً عن مفهوم تلك العبارة **الترشح في الانتخابات**

## ثانياً الفرق بين الحدود والتخوم

١- - تتوقع أن يكون أهم أسباب اختفاء التخوم في الوقت الحاضر هو...

- (أ) تقدم وسائل النقل والمواصلات (ب) حاجة الدول لاستغلال الموارد
- (ج) قابلية تلك المناطق للحركة والنقل (د) كثرة الحروب والنزاعات.

### تذكر أن

- كانت السمة الغالبة للفصل بين الدول في القرن الأول الميلادي هي . ترك مناطق غير صالحة للاستيطان بين الدول .
- يرجع عدم توسع الدول على حساب مناطق التخوم قديماً في قارة أوروبا إلى انخفاض الكثافة السكانية
- يرجع السبب الرئيسي وراء عدم اهتمام الدول قديماً بمناطق التخوم إلى أنها صعبة الاستغلال
- الدول التي تكون موضع نزاع بين جميع دول العالم هي الدول البحرية

٢- كانت التخوم قديماً بالنسبة للدولة منطقة.....

- (أ) قابلة للاختفاء.
- (ب) درع واقٍ.
- (ج) طبيعية شرعية.
- (د) لها إطار قانوني محدد.

### تذكر أن

- كانت التخوم في قارة أوروبا قديماً مناطق غنية بالنبات الطبيعي
- التخوم لها أهمية استراتيجية حيث تمثل منطقة حماية ودفاع للدولة من الاعتداءات الخارجية ويرجع ذلك إلى عمقها الجغرافي
- تقلصت مناطق التخوم الأوروبية منذ بداية العصر الحديث وساعد على ذلك توافر بعض عناصر البنية الأساسية
- تتشابه الحدود مع التخوم في وظيفتها .
- الدولة التي تمتد حدودها السياسية عن موقعها الفلكي هي الدول البحرية
- ينعقد النزاع على الحدود السياسية بين الدول الغير مجاورة

٢- تعد المنطقة المشار إليها على الخريطة المقابلة.....



- (أ) ظاهرة ذات مساحة.
- (ب) ظاهرة طبيعية.
- (ج) غنية بالموارد.
- (د) قابلة للنقل .

### تذكر أن

- تتميز التخوم عن الحدود السياسية اقتصادياً بسبب احتمالية وجود موارد بها
- يتضح من تحليل مفهوم الحدود السياسية بأنها خطوط أفقية ولها أبعاد رأسية .
- يرتبط ظهور الموارد الطبيعية في منطقة التخوم بطبيعتها الجغرافية وامتدادها والجغرافي ( أبعادها الطول والعرض )
- أهم السمات التي تميز التخوم عن الحدود السياسية ( وجود الموارد الطبيعية - الثبات - الامتداد الجغرافي
- الدولة التي لها حيز مكاني محدد بحدود سياسية ولكن قد يمتد نفوذها خارج هذا الحيز هي الدول البحرية
- أقرب أنواع الحدود السياسية التي خصائص التخوم هي الحدود الجبلية

## ثالثاً العوامل المؤثرة على نشأة الحدود السياسية

١- لم يتم مراعاة رغبة الإنسان في ترسيم الحدود السياسية بين

- (أ) روسيا واستونيا (ب) كندا والولايات المتحدة
- (ج) فنزويلا وكولومبيا (د) فرنسا وإسبانيا

### تذكر أن

- لم يتم مراعاة رغبة الإنسان في ترسيم الحدود السياسية في دول قارات العالم الثامي ( أفريقيا ،، أمريكا الجنوبية ، وبعض دول آسيا ) بسبب تصفية الاستعمار للمستعمرات
- تم مراعاة رغبة الإنسان في ترسيم الحدود السياسية في دول قارات العالم المتقدم ( أمريكا الشمالية ،، أوروبا )
- العامل الذي أدى إلى وضع الحدود في أفريقيا هو القوى الخارجية
- من عوامل نشأة الحدود السياسية المرتبطة باختلاف توازن القوى إبرام المعاهدات

٢- ساعدت حركة السكان على نشأة الحدود السياسية في بعض الدول منها.....

- (أ) اليابان.
- (ب) ماليزيا
- (ج) الفلبين
- (د) نيوزيلندا

### تذكر أن

- ساعدت حركة السكان ( الأثر الديموجرافي ) على نشأة الحدود السياسية في بعض التي لها حدود برية مع دول الجوار أو دول أشباه الجزر أو الدول البرية البحرية الجزأ
- الأثر الديموجرافي لم يظهر في ترسيم الحدود السياسية في الدول الجزرية مثل اليابان والفلبين واندونيسيا

٣- ظهرت بعض الحدود السياسية كنتيجة لأسباب اقتصادية مثل.....

- (أ) زيادة عدد السكان.
- (ب) تنمية المناطق الهامشية.
- (ج) طغيان دولة ما على أخرى.
- (د) تقسيم الاستعمار المستعمراته.

### تذكر أن

- الجانب الاقتصادي في نشأة الحدود السياسية في الحاجة تنمية المناطق الهامشية
- ارتبط ترسيم الحدود البحرية ( المسطحات المائية ) في منطقة خليج المكسيك وبحر الشمال والخليج العربي إلى الحاجة تنمية المناطق الهامشية
- أدت رغبة الدول في استغلال كامل أراضيها لاختفاء مناطق التخوم
- يرجع قيام مصر بتخطيط حدودها البحرية الشمالية والشرقية مع دور الجوار إلى الحاجة تنمية المناطق الهامشية

٤- تتوقع أن يكون العامل المشترك في نشأة معظم الحدود السياسية بين الدول في

قارات العالم.....

- (أ) زيادة عدد السكان.
- (ب) تقسيم الاستعمار المستعمراته.
- (ج) المعاهدات المبرمة بين الدول.
- (د) الحاجة إلى تنمية المناطق الهامشية.

### تذكر أن

- يصنف كسبب سياسي ساهم في نشأة الحدود السياسية المعاهدات المبرمة بين الدول وتصفية الاستعمار لمستعمراته
- ارتبط ترسيم الحدود الهندسية في معظم قارة أفريقيا بالاستعمار
- القارة التي لا تعاني من النزاعات على حدودها السياسية استراليا
- تتشابه معظم الحدود السياسية في قارتي أمريكا الجنوبية وأفريقيا في سبب نشأة الحد السياسي

## رابعاً وظائف الحدود السياسية

١- استطاع الجيش المصري عبور قناة السويس وتحطيم خط بارليف عام ١٩٧٣م. تؤكد العبارة السابقة على.....

- (أ) نجاح نظرية الحد الأمن. (ب) سقوط نظرية الحد الأمن.  
(ج) ضعف تحصينات خط بارليف. (د) استراتيجيات الحدود السياسية.

## تذكر أن

- الحد السياسي الذي يتقارب في درجة ثباته مع التخمم الحدود الجبلية
- انعكس الأثر السلبي للتقدم التكنولوجي على وظائف الحد السياسي المتمثلة في الحماية والأمن " دور سلبي " سقوط نظرية الحد الأمن
- السبب الدفين في إقامة الحدود الخطية الحماية والأمن

٢- يؤثر امتلاك بعض الدول المنظومة أسلحة عابرة للقارات على أحد وظائف الحد السياسي وهو.....

- (أ) الفصل بين الدول. (ب) الحماية والأمن.  
(ج) الحماية الاقتصادية. (د) الوظيفة السياسية والقانونية

## تذكر أن

- قد تشابه الحدود السياسية والتخوم من الناحية الاستاتيكية في الحدود الجبلية
- يبدأ الحد السياسي في القيام بوظيفة الحماية والأمن بعد مرحلة التعيين
- انتشار جائحة كورونا عبر الحدود السياسية تؤكد على سقوط نظرية الحد الأمن
- اراء ارسطو حول الدود المحصنة تتألف مع احدى وظائف الحد السياسي وهي الحماية والأمن

٣- في حال قيام شخص من الدولة ( س ) بارتكاب مخالفة قانونية ضد شخص من الدولة (ص) وتمت هذه المخالفة في الدولة (ج) فإن الذي يحدد نوع العقوبة الموقعة عليه هو.....

- (أ) الدولة (س) . (ب) الدولة (ج).  
(ج) القانون الدولي. (د) الدولة (ص).

## تذكر أن

- تم اختراق الوظيفة السياسية للدول في عصرنا الحالى وسائل الاتصالات الحديثة
- اذا قامت الدولة باتخاذ اجراءات خاصة بالأمن الثقلي فإنه بذلك الوظيفة السياسية
- تعد محاولة منع هروب المجرمين خارج حدود الدولة من وظائف الحد السياسي وهي الوظيفة السياسية والقانونية

٤- يدخل الحفاظ على صحة مواطني الدولة ضمن أحد وظائف الحد السياسي وهي..

- (أ) الحماية الاقتصادية (ب) الحماية والأمن.  
(ج) الفصل بين الدول. (د) الوظيفة السياسية والقانونية.

## تذكر أن

- دخول الدولة في تجمع اقليمي اقتصادي يعنى تتضاءل دور احد وظائف الحد السياسي وهي الوظيفة الاقتصادية
- من وظائف الحد السياسي أكثر ارتباطاً بالوصول الى مرحلة التجارة الحرة الوظيفة الاقتصادية
- تشترك وظيفة الحماية و الأمن مع الوظيفة الاقتصادية في منع تهريب السلع عبر الحدود
- اثر وجود الشركات متعددة الجنسيات والبنك الدولي سلباً على وظائف الحد السياسي هي الحماية الاقتصادية

## ثالثاً مراحل تخطيط الحدود السياسية

١- أي من مراحل تخطيط الحد السياسي يتنامى فيها الدور العسكري للحد السياسي؟ .....

- (أ) التعريف (ب) التحديد  
(ج) التعيين (د) إدارة الحد.

## تذكر أن

- يقل ظهور المشكلات الحدودية بين الدول خلال مراحل التخطيط للحد السياسي إذا تعاضم دور الجغرافيين في تخطيطها
- المرحلة التي تحتاج الى القوة الحكمة معا مرحلة ادارة الحد السياسي
- تبدأ وظيفة الحدود في الحماية والأمن بعد الانتهاء من التعيين تظهر أهمية الاستشعار من بعد في تخطيط الحدود السياسية بوضوح بعد الانتهاء من مرحلة التعريف والتخطيط

٢- تظهر المحصلة النهائية لنتائج التعاون بين رجال السياسة والجغرافيين في رسم وتخطيط الحدود في مرحلة.....

- (أ) التعريف والتخطيط (ب) التحديد.  
(ج) التعيين (د) إدارة الحد.

## تذكر أن

- تتم محاولة تطبيق نصوص معاهدة الحدود على الخرائط في أحد مراحل تخطيط الحدود السياسية وهي التحديد
- تتحقق نصوص المعاهدة الخاصة بالحدود بشكل فعلى بداية من مرحلة التعيين
- تتجلى أهمية مرحلة إدارة الحد السياسي في وظيفة الفصل من خلال وضع نقاط التفتيش والحراسة
- اهم التقنيات التي يتم الاستعانة بها في مرحلة التعريف والتخطيط نظم المعلومات الجغرافية والاستشعار عن بعد

٣- أي مما يلي يعد أكثر مراحل التخطيط للحد السياسي قابلية لتعديل ما تم الاتفاق عليه؟ .....

- (أ) التعريف والتحديد. (ب) التعيين وإدارة الحد.  
(ج) إدارة الحد والتحديد. (د) التحديد والتعيين.

## تذكر أن

- يتم تعديل معاهدة الحدود التي وضعت في مرحلة التعريف من أجل تجنب حدوث المشكلات بين البلدين .
- مراحل التي تعد عملية انتقالية من الجانب النظري الى الجانب التطبيقي عند تخطيط الحد السياسي (التعيين)
- يظهر دور العسكريين بوضوح في اي مرحلة من مراحل ترسيم الحد السياسي إدارة الحد

٤: تبدأ وظيفة الحدود في الحماية والأمن بعد الانتهاء من مرحلة.....

- (أ) التعريف والتخطيط (ب) التعيين  
(ج) التحديد (د) إدارة الحد.

## تذكر أن

- إقامة تكتل اقتصادي بين دول غرب اوريا يتطلب تجميد مرحلة ادارة الحد
- ترتبط صور المعابر والحراسات على طول الحدود السياسية وجواز السفر بالمرحلة الرابعة " ادارة الحد السياسي
- اكثر المراحل ارتباطاً بوظائف الحد السياسي هي المرحلة الرابعة

## أنواع الحدود السياسية

## أولاً: الحدود الطبيعية (الحدود الجبلية)

١:- الحدود بين فرنسا واسبانيا تتوافق مع آراء أحد العلماء.....

(أ) الألمان (ب) المسلمين (ج) السويد (د) اليونان

### تذكر أن

- تتميز حدود الجبلية بالعديد من السمات منها ظاهرة استاتيكية غنية بالموارد الاقتصادية - ذات ابعاد استراتيجية - غير ما هولة بالسكان
- بالرغم من خصائص الجبال المميزة الا بعضها يمثل نقاط ضعف في بعض الدول مثل البرانس وكردستان (ظهور الأقليات الانفصالية)
- الحد السياسي الذي يتقارب في درجة ثباته مع التخوم يفصل بين دولتي ( اسبانيا وفرنسا )- ( الارجننتين وتشيلي ) ( الهند والصين )

٢- من خلال الخريطة التالية يتضح : اختفاء الحدود الجبلية من قارة

(أ) أوبا

(ب) آسيا

(ج) امريكا الشمالية

(د) أمريكا الجنوبية



### تذكر أن

- تتوقع أن تكون أقل أنواع الحدود الجبلية قوة للدولة هي التي تسير مع اقدم الجمال
- تشابه الحدود السياسية بين دولتي فرنسا وإيطاليا مع الحدود بين دولة الأرجنتين وتشيلي والصين والهند وفرنسا واسبانيا
- أكثر الحدود السياسية الآتية تحقيقاً لمعنى الفصل هي تلك الممتدة بين دولتي الأرجنتين وتشيلي والصين والهند وفرنسا واسبانيا

٣:- الحد السياسي الذي يتقارب في درجة ثباته مع التخوم يفصل بين دولتي.....

(أ) الولايات المتحدة والمكسيك (ب) الجزائر وليبيا

(ج) فرنسا واسبانيا (د) ألمانيا وفرنسا

### تذكر أن

- إذا كان الجبل يفصل بين دولتين ولكن دولة منهما تسيطر على موارده فإن ذلك بسبب رسم الحدود عند أقدام الجبل .
- عد الحدود الأكثر منعة بالنسبة لدولة الأرجنتين هي التي تقع جهة الغرب
- افضل حدود لفرنسا من حيث القوة والمناعة والفصل حدودها الجنوبية " جبال البرانس

٤:- ارتبطت الحدود الطبيعية بظواهر مرتبطة باليابس كما هو الحال بين دولتي..

(أ) تنزانيا وأوغندا. (ب) المكسيك والولايات المتحدة الأمريكية

(ج) فرنسا وإسبانيا. (د) فرنسا وألمانيا.

### تذكر أن

- افضل حدود اسبانيا من حيث القوة والمناعة والفصل حدودها الشمالية " جبال البرانس "
- قامت القوات الاسرائيلية تحطيم خط بارليف وهو اشبه اقرب في الشبة من تنحطى الجبال ترتبط ظهور الحركة الانفصالية بصورة واضحة بالحدود " الطبيعية " ( الجبال ) ( جنوب غرب أوروبا )

## الحدود الطبيعية ( الحدود النهرية )

١:- يفصل نهر دولتي السنغال وموريتانيا وهو ما يتشابه مع الحد بين دولتي

(أ) فرنسا وألمانيا (ب) مصر والسودان

(ج) الهند والصين (د) شيلى والأرجنتين

### تذكر أن

- أفضل الطرق لاستخدام النهر كحد سياسي هو أن يتفق مع خط العمق الملاحي
- الدولة الأكثر استفادة من شكل الحدود النهرية هي بولندا
- تقسم الحدود السياسية سطح المجرى النهري بين دولتي الولايات المتحدة الأمريكية والمكسيك ( نهر ريوجرندا )
- ، يعد الهدف الأكثر أهمية في طريقة اختيار شكل الحد النهري مع عمق الملاحه ( سويسرا وألمانيا ) هو هدف اقتصاد

٢:- نجحت قواتنا المسلحة سنة ١٩٧٣ في اقتحام مانع قناة السويس الصعب وكان عبوره أقرب في الشبة من .....

(أ) الجبال (ب) البحيرات (ج) البحار (د) الانهار

### تذكر أن

- أهم ما يميز الجبال عن الأنهار عند استخدامها كحد سياسي أنها ظاهرة دائمة
- أكثر أنواع الحدود السياسية النهرية ثباتاً هو الذي يتفق مع خط العمق الملاحي
- تختلف الحدود النهرية عن الحدود الجبلية في عدم الاستقرار - عدم الثبات
- طريقة ترسيم الحد السياسي في نهر الراين انعكس ايجابيا على حركة السفن أو حركة الملاحه النهرية

٣:- تتعدد العوامل التي أثرت على تغير الحدود في العالم ) في ضوء ما درسته استنتج

الحد السياسي الذي تآثر سلبياً بالعوامل التعرية

(أ) جنوب غرب المكسيك (ب) شمال غرب الولايات المتحدة الأمريكية (ج) شمال شرق الولايات المتحدة الأمريكية (د) شمال شرق المكسيك

### تذكر أن

- ظهر اثر السبي للتعرية على الحدود السياسية "في الولايات المتحدة الأمريكية ( الحدود الجنوبية الغربية
- ظهر اثر الايجابي للتعرية على الحدود السياسية في " المكسيك ( الحدود الشمالية الشرقية )
- كانت للحدود الطبيعية سببا في زيادة مساحة دولة المكسيك
- كانت للحدود الطبيعية سببا في تناقص مساحة دولة الولايات المتحدة الأمريكية

٤:- اهر ما يميز جبال البرانس عن نهر الراين كحدود سياسية .....

(أ) تفصل بين شعوب متجاورة (ب) تستخدم كخط دفاع (ج) واضحة في الطبيعة (د) ظاهرة ثابتة في الطبيعة

### تذكر أن

- إذا تسببت الحدود النهرية بين كل من دولتي بولندا وبيلاروسيا في ظهور مشكلات فإنها سوف تكون بالضرورة مرتبطة ب تغيير مجرى النهر
- أهم ما يؤخذ على الحدود النهرية كحدود سياسية هو تأثرها بعوامل التعرية
- الجزر الموضحة في الصورة المقابلة غير مؤثرة عند تحديد الحد السياسي كما هو في الحدود النهرية التي رسمت مع إحدى ضفتي النهر ( بوج )
- اقتسام قاع النهر السمة الأكثر وضحا في ترسيم الحد السياسي بين ( فرنسا وألمانيا ) ( نهر الراين
- اقتسام سطح النهر السمة الأكثر وضحا في ترسيم الحد السياسي بين ( الولايات المتحدة والمكسيك ) ( نهر ريوجراند

## (الحدود الطبيعية) (الحدود البحرية)

- ١- تستأثر دولة الولايات المتحدة الأمريكية بالموارد الاقتصادية الموجودة في بحيرة
- (أ) متشجن  
(ب) إنتاريو  
(ج) إيرى  
(د) اسوييربور

### تذكر أن

- لاتعد بحيرة متشجن من ضمن حدودا فاصلة بين كندا والولايات المتحدة الأمريكية لأنها معاطة بإياس الولايات المتحدة الأمريكية كما انها تخرج من دراسة موضوع مشكلات الحدود السياسية بين الدول
  - تصنف الحدود السياسية للولايات المتحدة الأمريكية بانها حدوداً طبيعية (مائة - بحيرية ) و حدودا هندسية
- تمثل بحيرة «بودنسي» حدوداً بحيرية بين ثلاث دول أوروبية وهى النمسا وسويسرا وألمانيا وبالتالي فهي تشبه بحيرة. فيكتوريا

٢- من خلال الخريطة التي أمامك، استنتج : بمقارنة الدول التي تطل على بحيرتي ملاوى وفيكتوريا نلاحظ أن الدولة الأكثر استفادة منها



- (أ) اوغندا  
(ب) تنزانيا  
(ج) موزمبيق  
(د) كينيا

### تذكر أن

- شكل بحيرة فيكتوريا الاقرب الى شكل الدولة المدمجة ذو البروز
- اكبر البحيرات العذبة من البحيرات العظمى من حيث المساحة (سوييربور)
- الشكل الاكثر عدلاً هو ما يتفق مع الخط الاوسط للبحيرات مثل الحد بين كندا والولايات المتحدة

٣- أقل الدول استفادة من بحيرة فيكتوريا تقع في نصف الكرة .....

- (أ) الشرقي  
(ب) الغربي  
(ج) الشمالي  
(د) الجنوبي

### تذكر أن

- تمتلك دولة كينيا أجزاء من سواحل بحيرة فيكتوريا لشرقية
- من الدول الآتية ذات النصيب الأقل في مياه بحيرة فيكتوريا بعد تقسيمها كينيا

٤- تحركت سفينة من ميناء الاسكندرية نحو ميناء بورسعيد فان آخر منطقة مياه داخلية تمر عليها هي .....



- (أ) مصب النيل برشيد  
(ب) بحيرة المنزلة  
(ج) مصب النيل بدمياط  
(د) بحيرة البرلس

### تذكر أن

- تحركت سفينة من ميناء دمياط نحو ميناء رشيد فإن آخر منطقة مياه داخلية تمر عليها هي بحيرة البرلس
- تحركت سفينة من ميناء دمياط نحو ميناء الاسكندرية فإن أول منطقة مياه داخلية تمر عليها هي بحيرة مريوط

## (الحدود الطبيعية) (الحدود البحرية)

- ١- يبلغ عرض المياه الإقليمية لدولة بيرو ٢٠٠ ميل بحري ، بينما يبلغ عرض المياه الإقليمية لدولة ليبيا ١٢ ميلا بحريا . في ضوء العبارة، وضح : يرجع اختلاف اتساع المياه الإقليمية لدولة بيرو إلى .....

- (أ) ضيق الرصيف القاري.  
(ب) اتساع المسطح المائي لها.  
(ج) طول سواحلها.  
(د) كبر مساحتها

### تذكر أن

- يرجع اختلاف اتساع المياه الإقليمية حسب وقوع الدولة على صاحبة السيادة المياه الاقليمية على المحيطات
- الدول التي تتوقع أن تمتد مياهها الاقليمية اكثر ١٢ ميل بحري على الدول التي تقع على محيطات
- الدولة التي تمتد سيادتها خارج حدودها الفلكية على الدول البحرية
- تختلف المياه الإقليمية عن المياه الداخلية في تحديدها وفق معاهدات
- يتم تحديد الحد السياسي البحري للدول عن الحافة الخارجية للمياه الاقليمية

٢- أى من الدول الآتية لها القدرة على تحديد منطقة المياه المحايدة والاستفادة منها ؟

- (أ) العراق  
(ب) الصومال  
(ج) الولايات المتحدة الأمريكية  
(د) اوروجواي

### تذكر أن

- يحق لأي دولة بحرية القيام بمناورات عسكرية داخل مياها الاقليمية او المياه المحايدة اذا كانت من الدول القوية
- الدول التي لها القدرة على تحديد منطقة في وسط المحيط والاستفادة منها بأجراء تجاربها النووية والصاروخية (الدول القوية التي تقع على المحيطات)
- يرتبط تحديد بعض الدول لنفسها مناطق في وسط المحيط الى قوتها السياسية
- تقع المياه المحايدة بين المياه الملاصقة او التكميلية وأعلى البحار (المياه الدولية)
- المياه التكميلية والمحايدة مناطق مائية تخضع وجود قيود للسيطرة عليها

٣- تبدأ إمكانية الدولة لتحقيق الحماية الصحية لشعبها من المياه .....

- (أ) الإقليمية  
(ب) المحايدة  
(ج) الملاصقة  
(د) الداخلية

### تذكر أن

- المنطقة الواقعة بين الحافة الخارجية للمياه الاقليمية والحافة الخارجية للمياه الملاصقة سلطة الدولة فيها مشروطة
- المنطقة الواقعة بين خط الساحل والحد السياسي البحري سلطة الدولة فيها مطلقة
- المنطقة الواقعة تلى منطقة الحد السياسي البحري من جهة البحر سلطة الدولة فيها مشروطة
- يفصل الحد السياسي البحري بين المياه الاقليمية والمياه التكميلية يختلطان في امور السيادة

٤: أ تنتهى الوظيفة السياسية والقانونية للحد السياسي للدول البحرية عند نهاية المياه ...

- (أ) الإقليمية.  
(ب) المحايدة  
(ج) الداخلية  
(د) الدولية

### تذكر أن

- المناطق التي تمارس فيها الدولة ممارسة أنشطة اقتصادية دون تدخل اي دولة اخري .
- مياها الاقليمية وأعلى البحار
- يفصل الحد السياسي البحري بين المياه الاقليمية والمياه التكميلية

## أولاً- الحدود البشرية

١- تلتقى الحدود المصرية البشرية معاً في الركن.....

- أ) الجنوب الشرق. (ب) الجنوب الغربي.  
ج) الشمال الغربي. (د) الشمال الشرقي.

## تذكر أن

- من المستبعد عند رسم الحدود بين الدول العربية على أساس الحدود الإثنوغرافية اللغوية بالرغم من تنوع الحدود السياسية في مصر إلا أنها تخلو حالياً من الحدود الحضرية.
- تتسم الحدود الجنوبية لمصر بأنها تمتد في منطقة قليلة السكان.
- كان التنوع اللغوي في أوروبا أحد الأسباب الرئيسية في كثرة عدد دول القارة.
- تتصف المناطق التي تمر بها الحدود المصرية البرية بأنها فقيرة اقتصادياً.

٢- تتماشى الحدود الأمريكية الكندية في قطاع كبير منها مع دائرة عرض ٤٩° شمالاً وبذلك فإنها حدود .....

- أ) فلكية بحتة. (ب) طبيعية وحضارية.  
ج) بحيرية وفلكية. (د) هندسية اتنووغرافية.

## تذكر أن

- تتشابه الحدود بين كندا والولايات المتحدة الأمريكية في الجزء البشري منها مع الحدود بين دولتي مصر والسودان.
- الحدود التي ساهمت في قلة وجود الاقليات في شمال حوض البحر المتوسط حضارية تتميز الحدود شرق البحر الأسود بأنها حدود على المعيار قومي.
- أكثر الحدود التي رسمت دون رغبات الانسان الحدود الهندسية.

٣- ظهر أثر المعيار القومي في اختيار الحدود السياسية بمنطقة

- أ) وسط أوروبا. (ب) جنوب غرب آسيا.  
ج) شمال أفريقيا. (د) جنوب أمريكا الجنوبية.

## تذكر أن

- تظهر الحدود الإثنوغرافية الدينية في جنوب آسيا.
- توجد حدود ديموجرافية إثنوغرافية بين دولتي الهند وبنجلاديش.
- تتشابه الحدود بين دولتي بنجلاديش والهند في معيار الاختيار مع دولتي مصر وليبيا.
- أكثر العوامل تأثيراً في رسم معظم الحدود السياسية لدول أوروبا في العوامل الثقافية والديموجرافية.

٤- تتشابه الحدود الجبلية والهندسية في.....

- أ) الثبات (ب) الشكل  
ج) ندرة السكان. (د) درجة الفصل.

## تذكر أن

- تتشابه الحدود بين الأرجنتين وتشيلي والحدود بين الجزائر وليبيا في ندرة السكان.
- تتشابه الحدود بين اسبانيا وفرنسا والحدود بين المغرب والجزائر في ندرة السكان.
- هناك صعوبات في رسم الحدود الهندسية في استراليا.
- تعد قارة أفريقيا أكثر قارات العالم بها حدود هندسية بسبب الاستعمار.
- تقل أهمية الاقتصادية لمناطق الحدود الهندسية لخلوها من الموارد الطبيعية.
- تتميز الحدود السياسية الشرقية لمصر بأنها حدوداً (هندسية - بشرية - خطوط مستقيمة).

٥- تبدأ الوظيفة السياسية والقانونية للحد السياسي للدول البحرية بصورة مطلقة

- أ) الحافة الخارجية للمياه الإقليمية والحافة الخارجية للمياه التكميلية  
ب) الحافة الخارجية للمياه الإقليمية الى خط الساحل  
ج) الحافة الداخلية للمياه الإقليمية والحافة الخارجية للمياه التكميلية  
د) الحافة الداخلية للمياه الإقليمية والحافة الداخلية للمياه التكميلية

## تذكر أن

- استبقاء فاعلية الحد السياسي البحري للدولة يبدأ من خط الساحل الى الحافة الخارجية للمياه الإقليمية
- التقطت الأقمار الصناعية سفينة تقف على مسافة ١٨ ميلاً بحرياً خط الساحل فإنها بذلك تقف على مسافة متساوية بين الحافة الخارجية للمياه الإقليمية والحافة الخارجية للمياه التكميلية
- التقطت الأقمار الصناعية سفينة تقف على مسافة ١٢ ميلاً بحرياً خط الساحل فإنها بذلك تقف على مسافة متساوية بين الحافة الخارجية للمياه الإقليمية وخط الساحل

٦- تمارس الدولة سيادة مطلقة في الصيد والتفتيش واستخراج البترول اعتباراً من

- أ) الحافة الخارجية للمياه الإقليمية والحافة الخارجية للمياه التكميلية  
ب) خط الساحل والحافة الخارجية للمياه الإقليمية  
ج) خط الساحل والحافة الخارجية للمياه التكميلية  
د) الحافة الداخلية للمياه الإقليمية والحافة الداخلية للمياه التكميلية

## تذكر أن

- تبدأ الإجراءات الخاصة بالأسراف والرقابة على السفن القادمة من جهة اليابس (بداية من خط الساحل أو المياه الإقليمية)
- تقع المياه الإقليمية بين المياه الداخلية و المياه الملاصقة او التكميلية
- تمارس الدول البحرية حقوقها السياسية والقانونية من جهة اليابس بداية من (خط الساحل - المياه الإقليمية)
- تمارس الدول البحرية حقوقها السياسية والقانونية كاملة من جهة البحر بداية من دخول السفن (المياه الإقليمية)
- التقطت الأقمار الصناعية سفينة تقف على مسافة ١٢ ميل بحرياً من خط الساحل فإنها بذلك تقف على مسافة متساوية بين خط الساحل و الحافة الخارجية من المياه التكميلية

٧- إذا كانت سفينة على بعد ٣٠ ميلاً بحرياً من خط الساحل بالبحر المتوسط متجهة نحو بحيرة البرلس وقطعت مسافة ٢٠ ميلاً بحرياً فإنها بذلك وصلت إلى المياه .....

- أ) الداخلية (ب) الإقليمية  
ج) التكميلية (د) المحايدة

## تذكر أن

- إذا توقفت السفينة من المسافة من ميل الى ١٢ ميل فإنها بذلك تقع في المياه الإقليمية
- إذا توقفت السفينة من المسافة من ١٢ الى ٢٤ ميل فإنها بذلك تقع في المياه الملاصقة او التكميلية او الدولية
- الدول التي تقع على بحار ليس لهم مياه محايدة لان المياه المحايدة تظهر في المحيطات وليس في البحار والخلجان او البحيرات
- يفصل الحد السياسية البحري بين المياه ( الإقليمية و التكميلية)
- حماية المجال الحيوي البحري للدولة يبدأ من المياه الملاصقة او التكميلية
- تتشابه الإجراءات التي تقوم بها الدولة على حدودها السياسية بالمرحلة الرابعة من مراحل تخطيط الحدود مع المياه الإقليمية

## أولاً: التغيرات السياسية في خريطة العالم السياسية

١- يُعد الحدث المشترك بين التغيرات على خريطة العالم السياسية في أوائل القرن العشرين الميلادي وأواخره.....

(أ) تغير الحدود السياسية الألمانية (ب) انتهاء التوازن الدول العالمي.  
(ج) تضاول دور حركة عدم الانحياز (د) اختفاء الإمبراطوريات الكبرى.

### تذكر أن

- انتهى الصراع الأيديولوجي بين الكتلتين الشيوعية والرأسمالية مترامنا مع اتحاد ألمانيا الشرقية والغربية وظهور العولمة
- كان لانتهاء الصراع الأيديولوجي بين الكتلتين الشرقية والغربية أثره في تناقص عدد دول غرب أوروبا
- كان للتطور الذي حدث في الخريطة السياسية أواخر القرن العشرين أثره على الحدود السياسية للدولة بولندا ورومانيا والمجر

٢- مع سقوط عنصر التوازن بين القوى الدولية تم ملاحظة.....

(أ) زيادة قوة الكتلة الشرقية. (ب) بروز قوة الاتحاد السوفيتي  
(ج) زيادة عدد دول قارة أوروبا. (د) تناقص عدد دول قارة أوروبا.

### تذكر أن

- ظهرت الأحادية القطبية على خريطة العالم السياسية نتيجة مباشرة انهيار الاتحاد السوفيتي
- أدى انتهاء الصراع الأيديولوجي إلى زيادة عدد الوحدات السياسية المشرفة على بحر قزوين والبحر الأسود والبحر البلطي
- أكثر القارات لتي تسببت في وجود العديد من المشكلات السياسية بالدول النامية هي قارة أوروبا

٣- يظهر في بداية الألفية الثالثة على خريطة العالم السياسية

(أ) شدة الصراع الأيديولوجي (ب) وجود التوازن الدولي.  
(ج) زيادة دور دول عدم الانحياز (د) انحصار المدى الجغرافي للشيوعية.

### تذكر أن

- وجه الشبه في تطور خريطة العالم أوائل القرن الـ ٢٠ وأواخر القرن الـ ٢٠ هو انقسام دول أو زيادة عدد الوحدات السياسية
- شهدت خريطة العالم السياسية في أواخر الألفية الثانية سقوط الكتلة الشيوعية
- دولة ظهرت بين الحربين العالميتين على خريطة العالم السياسية فنلندا

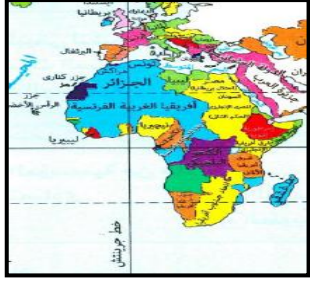
٤- بملاحظة تطور خريطة العالم السياسية نجد أن أكثر القارات تعرضاً للنزاعات السياسية هما قارتي

(أ) أفريقيا وآسيا. (ب) أفريقيا وأستراليا  
(ج) آسيا وأمريكا الشمالية. (د) أوروبا وأمريكا الجنوبية.

### تذكر أن

- أكثر قارات العالم استقراراً في حدودها السياسية منذ الحرب العالمية الأولى حتى الآن تقع ضمن قارات العالم أمريكا الجنوبية
- من أهم العوامل التي ساعدت على سرعة اندماج ألمانيا الغربية والشرقية هي التجانس الثقافي والطابع السهلي

٥- من خلال تحليلك لخريطة أفريقيا بعد الحرب العالمية الأولى القوى الاستعمارية التي رسمت الحدود السياسية في معظم غرب أفريقيا



- (أ) فرنسا  
(ب) بجيكا  
(ج) ألمانيا  
(د) إنجلترا

### تذكر أن

- ان القوتان العظميان سيطروا على قارة أفريقيا يتشابهان معدل الانضاق على البحث العلمي
- القوى الاستعمارية التي رسمت الحدود السياسية في معظم غرب أفريقيا تتميز بأنها دولة وحدوية وتتبع النظام شبه رئاسي ومنظمة الشكل
- اتسمت خريطة العالم السياسية بالتغير المستمر مما يثبت صحة أفكار راتزل

## ثانياً: العوامل المؤثرة على مستقبل خريطة العالم السياسية

١- تتوقع أن تكون أكثر القارات تأثراً بالسلب من نشاطات الشركات متعددة الجنسيات هي قارة.....

- (أ) أفريقيا. (ب) أوروبا  
(ج) أمريكا الشمالية (د) أستراليا

### تذكر أن

- يؤثر على حرية اتخاذ القرار في العديد من الدول النامية العولمة و المؤسسات النقدية (صندوق النقد الدولي والبنك الدولي)
- إذا تعرضت دولة ما لضغوط خارجية وتدخل في قراراتها السياسية فذلك مرتبط بشكل كبير بوجود ديون خارجية
- ارتبط الاستقرار السياسي للدول في الأونة الأخيرة بالأخص في الدول العربية بالتقدم التكنولوجي أو تقدم وسائل الاتصالات السلكية ولاسلكية
- من المشكلات الاقتصادية التي أثرت على مستقبل خريطة العالم السياسية هي الصراع على المياه العذبة

٢- يعتبر من الظواهر التي تساهم في إعادة تشكيل الخريطة السياسية مستقبلاً..

- (أ) الفكر الشيوعي. (ب) التوازن الدولي.  
(ج) التغيرات المناخية. (د) الاستقطاب العالمي.

### تذكر أن

- يعد من العوامل الاجتماعية التي تؤثر على خريطة العالم السياسية في المستقبل هو مشكلة اللاجئين والهجرة الغير شرعية
- ارتبط ظهور دول حركة عدم الانحياز مرحلة الصراع الأيديولوجي
- قد تشهد منطقة شمال حوض البحر المتوسط في المستقبل العديد من تغيرا مستقبلاً نتيجة لالهجرة الغير شرعية
- ارتبط ظهور العولمة وظهور الشركات متعددة الجنسيات انتصار الرأسمالية
- تهدد أزمة المياه العذبة المستقبل السياسي لعدد كبير من دول العالم بسبب التغيرات المناخية بالأخص في دول غرب أفريقيا
- ظهر أثر احياء الفكر الديناميكي بالسلب على خريطة العالم السياسية خلال العقد الثالث من الألفية الثالثة شمال البحر الأسود (أوكرانيا)

## ثانياً: مشكلة كشمير

١- أعلنت الهند عن ضم إقليم كشمير بشكل نهائي وبناء على هذا القرار يصبح سكان كشمير بمثابة.....

- أ- أقلية عرقية  
ب- أقلية دينية  
ج- أغلبية عرقية  
د- أغلبية دينية

### تذكر أن

- السبب الدفين تدخل باكستان لمساعدة شعب كشمير نتيجة لارتباطها إثنوغرافياً بدولة كشمير
- الدول الأوروبية التي كانت سبباً في مشكلة حدودية سياسية في جنوب آسيا تتميزها بشكل البحري الجزأ
- أحد المشكلات الحدودية الحضارية ( الإثنوغرافية ) العالقة في خريطة العالم في الربع الشمالي الشرقي

٢- إذا تم إجراء استفتاء محايد لمنح سكان كشمير حق تقرير المصير فإن النتيجة المتوقعة.....

- أ) الاستقلال أو الانضمام للهند (ب) الانضمام للهند أو الباكستان  
ج) الانفصال عن الهند وباكستان (د) الاستقلال أو الانضمام لباكستان

### تذكر أن

- مشكلة كشمير تصنف على أنها اجتماعية سياسية
- في حالة تقسيم شبه القارة الهندية على أساس إثنوغرافى بالكامل)
- وجود حدود مشتركة بين الصين وباكستان
- محاولة تطبيق الديمقراطية كانت في حل إحدى المشكلات التي العالم في اجزائها
- الشمالية الشقة

٣- إذا استقلت كشمير عن الهند وباكستان فإنها بذلك تتشابه من حيث الموقع الجغرافي مع دولة

- أ) اليابان (ب) اثيوبيا (ج) ايطاليا (د) المغرب

### تذكر أن

- إذا أصبح إقليم كشمير تابع لدولة الهند فسوف ينتج عن ذلك زيادة حجم الأقلية الدينية بالهند
- تعود أهمية إقليم كشمير طوال فترة الاحتلال البريطاني إلى توافر عوامل جغرافية
- تدخلت الأمم المتحدة بوقف إطلاق النار لحل إحدى المشكلات السياسية مما أدى إلى ظهور حدود هدنة كما في قارة آسيا.

٤- تتوقع في حالة تحول إقليم كشمير لدولة مستقلة أن يكون أهم مصادر الدخل بها ناتج عن نشاط.....

- أ) الزراعة (ب) السياحة  
ج) التجارة الخارجية. (د) الصيد البحري.

### تذكر أن

- تتشابه السياحة في جبال كشمير في شرق البحر المتوسط بمنطقة جبال الشام
- ظهور دولة مسلمة بعد تقسيم شبه القارة الهندية مباشرة تأخذ شكل برية بحرية مجزأ
- النشاط الاقتصادي التي يمكن الاعتماد عليه إقليم كشمير في حالة حصولها على الاستقلال الذاتي هو النشاط التعديني والنشاط السياحي

## ثالثاً: المشكلات السياسية

### أولاً: مشكلة سبتة ومليلة

١- في حال موافقة المغاربة داخل سبتة ومليلة على القانون الذي أصدرته إسبانيا عام ١٩٨٥م فإن ذلك سوف يؤدي إلى.....

- أ) تقام مشكلة دولة المغرب السياسية. (ب) تدخل المنظمات الدولية.  
ج) اعتراف إسبانيا بحقوق المغاربة. (د) حل مشكلة سبتة ومليلة.

### تذكر أن

- سبتة ومليلة أراض مغربية محتلة تتشابهان في الخصائص المورفولوجية والديموغرافية
- ترتكز إسبانيا في حججها الضعيفة للتمسك بسبتة ومليلة على أسباب ديموغرافية
- التركيب الديموغرافي في مدينتي سبتة ومليلة اثره في تطور الاحداث فقد ساعد على تمسك اسبانيا بالبقاء بالمدن

٢- يمكن التوصل لحل جذري لمشكلة سبتة ومليلة لصالح المغرب بالاعتماد على

- أ) إجراء استفتاء للمدينتين. (ب) حيادية المجتمع الدولي.  
ج) العامل التاريخي. (د) المقومات المورفولوجية للمدينتين.

### تذكر أن

- إذا تم عمل استفتاء على احقية اسبانيا والمغرب في سبتة ومليلة فسوف يكون الحكم لصالح اسبانيا للاسباب ديمغرافية
- استمرار الوضع الحالي لكل من سبتة ومليلة يجعل اسبانيا دولة برية بحرية مجزأة
- المقومات التي تؤكد احقية المغرب في مدينتي سبتة ومليلة التاريخية والجغرافية
- في حالة اتخاذ الأمم المتحدة موقفاً مفايراً لما اتخذته تجاه سبتة ومليلة عام ١٩٤٧م، فإن ذلك كان سيؤدي الى دعم موقف المغرب الدولي في نزاعها الحدودي
- استطاعت إسبانيا أثناء صراعها الاستعماري في سبتة ومليلة أن تغير في التركيب الديموجرافي لسكان المدينتين

٣- أقدم المشكلات السياسية التي تسعى الجغرافيا السياسية لحلها وتقع على موقع استراتيجي وهو.....

- أ) مضيق جبل طارق. (ب) قناة السويس.  
ج) قناة بنما. (د) مضيق ملقا.

### تذكر أن

- العامل الثابت الذي يجب أن تركز عليه المغرب في النزاع على سبتة ومليلة هو الجغرافيا الاقليمية
- المقومات التي تؤكد احقية المغرب في مدينتي سبتة ومليلة. موقعها الجغرافي
- أقدم المشكلات السياسية الحدودية في الخريطة السياسية ناتجة عن وجود المواقع الاستراتيجية
- أقدم المشكلات السياسية الحدودية الموجودة على الخريطة السياسية تقع نصف الكرة الشمالي الغربي

## ثالثاً مشكلة حركة الرعاة

١ :- منطقة اختفت منها مشكلات الرعاة قبل منتصف القرن الـ ٢٠م ..

- (أ) غرب النيجر .  
(ب) شرق أستراليا .  
(ج) جنوب السودان .  
(د) غرب نيجيريا .

### تذكر أن

- يعد أكثر أنواع الحدود تأثيراً في ظهور مشكلات الرعاة في الحدود الهندسية .
- أدى خروج الاستعمار من إقليم السافانا الأفريقي إلى زيادة الوعاء الضريبي
- أكثر المناطق التي بذل فيها جهود دولية لحل مشكلات الرعاة غرب أفريقيا
- من نتائج السياسات الاستعمارية والتي أحدثت مشكلات سياسية ناتجة عن حركة الرعاة تحصيل الضرائب والرسوم

٢ :- أي من الدول التالية لم يتأثر انتاجها الحيواني بالتغيرات المناخية في غرب أفريقيا في فترة السبعينيات والثمانينات من القرن العشرين

- (أ) غانا (ب) مالي (ج) تشاد (د) السنغال

### تذكر أن

- نستنتج من دراسة خريطة أفريقيا أن شرق قارة أفريقيا يتشابه مع غربها في وجود مشكلات مرتبطة بحركة الرعاة
- ينتج عن حركة الرعاة نزاعات سياسية بعضها يرجع إلى أسباب اجتماعية واقتصادية معاً مثل تحويل بعض الأراضي الرعوية إلى زراعية

٣ :- أحد الأسباب التي أدت إلى وجود مشكلات حدودية بين دول الجوار الناتج عن حركة الرعاة .....

- (أ) تنقلات الرعاة بين الدول كنتيجة للتغيرات المناخية  
(ب) تحصيل الضرائب والرسوم من الرعاة على حدود الدول  
(ج) رسم الحدود السياسية دون مراعاة للقبائل وتوزيعاتها  
(د) تحويل جزء من الأراضي الرعوية إلى أرض زراعية

### تذكر أن

- أدى التغيير الديموجرافي لسكان بعض الدول إلى تناقص مساحة المراعي
- ارتبط ترسيم الحدود السياسية في إقليم السافانا وتحصيل الرسوم والضرائب في المناطق الحدودية من توابع تصفية الاستعمار لمستعمراته
- أحدثت التغيرات المناخية في غرب أفريقيا إلى حدوث مشكلات في مناطق الرعي من الناحية الاجتماعية والاقتصادية

٤ :- جميع الدول التالية وقعت اتفاقيات خاصة بتنظيم حركة الرعاة وتحديد رؤوس الماشية ومناطق ارتجاعها في اقاليم السافانا ويخرج عن الاتفاقيات

- (أ) بوركينا فاسو والنيجر (ب) موريتانيا ومالي  
(ج) موريتانيا والسنغال (د) السعودية واليمن

### تذكر أن

- كانت الخصائص الديموجرافية انعكاساتها في ظهور المشكلات الناتجة عن حركة الرعاة من خلال انكماش المساحة الرعوية
- التطور التكنولوجي والتقدم الصناعي قضى على سلبيات التطرف المناخي ومع ذلك أدى لظهور هجرات إجبارية مثل الرعاة

٥ :- نجحت مالي في تنظيم حركة الرعاة وتحديد رؤوس الماشية ومناطق ارتجاعها على جميع حدودها يخرج ان تلك الحدود حدودها

- (أ) الشمالية (ب) الجنوبية (ج) الغربية (د) الشرقية

### تذكر أن

- الدولة التي نجحت في تنظيم حركة الرعاة وتحديد رؤوس الماشية ومناطق ارتجاعها على حدودها الغربية والجنوبية هي مالي
- الدولة التي نجحت في تنظيم حركة الرعاة وتحديد رؤوس الماشية ومناطق ارتجاعها على حدودها الجنوبية هي موريتانيا

٦ :- الدولة التي نجحت في تنظيم حركة الرعاة وتحديد رؤوس الماشية ومناطق ارتجاعها تجد صعوبات في الاحتكاك الحضاري بسبب موقعها الجغرافي

- (أ) غانا (ب) نيجيريا (ج) النيجر (د) ساحل العاج

### تذكر أن

- الدولة التي نجحت في تنظيم حركة الرعاة وتحديد رؤوس الماشية ومناطق ارتجاعها تجد صعوبات في الاحتكاك الحضاري بسبب موقعها الجغرافي مالي
- تحدث كثير من النزاعات بين دولتي شمال وجنوب السودان بسبب حركة الرعاة

٧ :- تعد من أسباب حدوث المشكلات السياسية الناتجة عن حركة الرعاة في قارة أفريقيا

- (أ) رغبة بعض الدول في تحقيق أمنها الغذائي .  
(ب) قيام بعض الدول بتوطين الرعاة .  
(ج) اتجاه الدول لتطوير البنية التحتية .  
(د) رفض الرعاة الهجرة إلى القرى والمدن

### تذكر أن

- تناقص مساحة المراعي والانتاج الحيواني للأسباب (ديموجرافية - مناخية او جغرافية)
- تأثر الانتاج الحيواني في غرب قارة أفريقيا سلبياً بالتغيرات المناخية
- من العوامل الطبيعية التي أدت الى حدوث نزاع في مناطق الرعي التغيرات المناخية
- من الاسباب الاجتماعية للنزاع في مناطق الرعي زيادة النمو السكاني في قارة افريقيا

٨ :- ظهرت في الجنوب الغربي الآسيوي والجنوب الغربي الأفريقي للوطن العربي مشكلات سياسية تتعلق بـ .....

- (أ) الصناعة (ب) التعدين  
(ج) الرعي (د) التجارة

### تذكر أن

- من اهم النزاعات السياسية الناتجة عن حركة الرعاة في جنوب غرب شبه الجزيرة العربية ( اليمن والسعودية )
- رسم الحدود السياسية في المناطق الرعوية غرب أفريقيا أدى الى وجود مصادر إيرادات إجبارية
- تعرضت العديد من دول غرب أفريقيا في السبعينات والثمانينات من القرن العشرين للعديد من التغيرات المناخية أثرت بالسلب على الثروة الحيوانية وكانت أقلها ضرراً دولة موريتانيا او النيجر أو مالي أو نيجيريا "كبيرة المساحة"

## أولاً: مشكلة المياه

١- يظهر من خلال تحليلك للخريطة المقابلة أن الدولة إيطاليا حدود مشتركة في مناطق مياه متقابلة مع دولتي .....



- (أ) ليبيا وتونس. (ب) الجزائر وإسبانيا.  
(ج) تونس وفرنسا. (د) فرنسا وليبيا.

### تذكر أن

:- مشكلة تقسيم المياه بين تونس وإيطاليا يثبت أهمية موقع تونس من الناحية الاستراتيجية  
:- تتشابه مشكلة تقسيم المياه بين الدول تونس وإيطاليا مع مشكلات تقسيم المياه بين ( جيبوتي أو الصومال ) مع اليمن مشكلة المياه المتقابلة  
:- تنعدم ظهور مشكلات تقسيم المياه البحرية في الدول الحبيسة

٢- في ضوء دراستك تظهر مشكلات تقسيم المياه بنوعيتها في دولة .....

- (أ) اليمن (ب) مصر  
(ج) إيطاليا (د) تونس

### تذكر أن

■ تظهر مشكلة المياه المتقابلة في الخليج العربي، والبحر المتوسط وتتمثل فيه نقاط استراتيجية وهي مضيق هرمز ومضيق صقلية  
■ أقرب الدول العربية إلى قارة أوروبا ( تونس عن طريق مضيق صقلية ) و(المغرب عن طريق مضيق جبل طارق )  
■ دولة إيطاليا حدود مشتركة في مناطق مياه متقابلة مع دولتي ( تونس وليبيا )  
■ يرتبط ترسيم الحدود السياسية البحرية في مناطق المتقابلة ( المضايق مثل الخليج العربي - خليج المكسيك أو بحر الشمال ) والمناطق المجاورة مناطق الارصفة القارية " نتيجة لرغبة الدول في تنمية المناطق الهامشية

٣:- تتشابه مشكلات تقسيم المياه في دولتي .....

- (أ) إيطاليا وجيبوتي (ب) إيطاليا وليبيا.  
(ج) جيبوتي وليبيا. (د) اليمن وإثيوبيا.

### تذكر أن

دولة إيطاليا حدود مشتركة في مناطق مياه المتجاورة مع دولتي ( اليونان وفرنسا )  
من الممرات الملاحية تتقاسمه دول الجناح الأفريقي والأسوي " باب المنذب "  
من الممرات الملاحية تتقاسمه إحدى دول الجناح الأفريقي والجناح الأوربي " مضيق جبل طارق  
تقترب قارة أفريقيا من قارة آسيا عند دولتي جيبوتي والصومال  
دولة إيطاليا حدود مشتركة في مناطق مياه متقابلة مع دولتي ( تونس وليبيا )  
دولة إيطاليا حدود مشتركة في مناطق مياه المتجاورة مع دولتي ( اليونان وفرنسا )

٢- ترتب على انحراف الساحل التونسي نحو الشمال الشرقي إلى ..

- (أ) ضعف موقف تونس في صراعها مع ليبيا  
(ب) صعوبة الحد البحري للدولة تونس  
(ج) حصول تونس على حقوق في الرصيف القاري  
(د) تقاسم مصادر الطاقة الحفزية بين تونس وليبيا

### تذكر أن

توجد علاقة بين امتداد اليابس التونسي وشكل تونس البري البحري الجزأ ( أسباب جغرافية )  
- ظهر النزاع بين دولتي ليبيا وتونس بسبب الموارد الطبيعية  
انحراف الحد البحري التونسي إلى جهة الشرق أعطى تونس أحقية في حقول الغاز والبتترول لاعتماد القرار على العوامل المورفولوجية  
استندت محكمة العدل الدولية في حكمها المتعلق بالنزاع البحري العربي بشمال أفريقيا على أسباب جغرافية

٤:- الموقع الاستراتيجي الذي لعب التحكيم الدولي دوراً في حل النزاعات الاقتصادية بالقرب منه هو .....

- (أ) مضيق جبل طارق (ب) مضيق صقلية  
(ج) مضيق هرمز (د) قناة السويس

### تذكر أن

من الممرات الملاحية تتقاسمه دول الجناح الأفريقي والأسوي " باب المنذب "  
من الممرات الملاحية تتقاسمه إحدى دول الجناح الأفريقي والجناح الأوربي " مضيق جبل طارق "  
أكثر المسطحات المائية في الوطن العربي ارتباطاً بمناطق إنتاج الطاقة الحفزية الخليج العربي وخليج السويس والبحر الأحمر  
الممر الذي ينعدم النزاع بين الدول المطلة عليه لآباب أثنوغرافية مضيق باب المنذب  
هناك دول في النصف الغربي من الكرة الأرضية تتمتع بموقع استراتيجي متميز منها المغرب

## ثانياً مشكلة المياه في الانهار

١- أي من الأنهار الآتية يصعب أن تكون سبباً في حدوث مشكلة سياسية نتيجة إنشاء السدود عليها؟ .....

- (أ) النيل (ب) الراين  
(ج) الريبو جراند (د) المسيسيبي

### تذكر أن

يتشابه نهر النيل مع نهر الراين في عدة خصائص ومنها احتمالية ظهور مشكلات اقتصادية سياسية  
من الأنهار الآتية تتوقع حدوث بعض المشكلات السياسية الملاحية فيه كل الأنهار الدولية مثل النيل والراين والدنوب والنيجر ويوجدندا

٢- تختفي المشكلات الخاصة بالمياه العذبة بين دول قارة .....

- (أ) أمريكا الشمالية. (ب) أوروبا  
(ج) استراليا (د) أمريكا الجنوبية.

### تذكر أن

رغم أنه نهر دولي ولكنه أقرب إلى النهر المحلي. تتفق العبارة السابقة مع نهر بوج  
أي من الأنهار الآتية تفصل بين عدة دول نهر الراين والدانوب

٢- أي من الدول الآتية تعد الأكثر استفادة من تطبيق بنود معاهدة باريس ١٨٥٦م واتفاقية برشلونة ١٩٢١م.....

- (أ) هولندا  
(ب) سويسرا  
(ج) المكسيك  
(د) فرنسا

### تذكر أن

- تظهر بعض المشكلات السياسية الناتجة عن ممارسة حرفة الصيد في بعض الأنهار مثل الأنهار الدولية **الريو جراند والراين والدانوب**
- من الأنهار التي تخضع مياهاها لسيادة دولة واحدة **الأنهار المحلية ونهر بوج**
- ظهرت بعض الاتفاقيات المرتبطة بالمشكلات ذات البعد السياسي في النصف الثاني من القرن الـ ١٩م وأوائل القرن العشرين في **غرب أوروبا**

٤- تساهم معاهدة باريس عام ١٨٥٦م في وضع حلول لبعض المشاكل الحدودية المحتملة بين فرنسا و.....

- (أ) ألمانيا  
(ب) إسبانيا  
(ج) إنجلترا  
(د) بلجيكا

### تذكر أن

- الأنهار التي لا تتسبب في وجود نزاعات بين الدول الأنهار المحلية التي يكون منبعها ومصبها داخل دولة واحد مثل **نهر السين والميسيني نهر اللوار**
- الأنهار التي تخرج من موضع نتائج معاهدة برشلونة وباريس (الأنهار المحلية) **السين والميسيني اللوار**
- الدول الأكثر حظا في الاستفادة من معاهدة باريس واتفاقية برشلونة في تدعيم اتصالها بالعالم الخارجي سويسرا والنمسا لكسمبورج والتشيك
- اهتمت القارة الأوروبية بالبحث عن حلول للدول الحبيسة التي تمر بها نهر دولي من خلال **معاهدة باريس واتفاقية برشلونة**

## ثانياً: مشكلة مصادر الطاقة

١- يحدث الصراع الآن على مصادر الطاقة الحفرية بسبب

- (أ) صعوبة نقلها .  
(ب) ارتفاع أسعارها .  
(ج) تباين تركزها  
(د) تزايد كمية الاحتياطي

### تذكر أن

- تعد منطقة الشرق الأوسط أحد مناطق الصراعات الدولية بسبب امتلاكها **القوى المحركة**
- أي من الموارد الطبيعية الآتية يتم استخراجها واستهلاك معظمه بشكل محلي **الفحم**
- أحد مصادر القوى الطبيعية ولعب دور في الصراع بين القوى العالمية في النصف الثاني من القرن الـ ٢٠م **البتترول**

٢- أي من الموارد الطبيعية الآتية يتم استخراجها واستهلاك معظمه بشكل محلي

- (أ) الفحم  
(ب) البترول  
(ج) الغاز الطبيعي.  
(د) المعادن الاستراتيجية

### تذكر أن

- يتوقع إذا توسعت الدول في استخدام الطاقة المتجددة أن يحدث تحول في **العلاقات الدولية**
- الموارد التي تشهد صراعاً بين الدول **الوقود الحفري** ؟
- يرتبط مدى تأثير الفحم في السياسات الدولية **فإنض استهلاكه**

٣ حاولت القوى الكبرى الاستيلاء على منطقة الشرق الأوسط منذ قيام الثورة الصناعية وحتى الآن وكان ذلك مرتبط بصفة أساسية ب.....

- (أ) الصراع الأيدولوجي بين الشرق والغرب.  
(ب) السيطرة على الصناعات الاستراتيجية.  
(ج) السيطرة على الثروة البشرية.  
(د) السيطرة على مصادر الطاقة الحفرية.

### تذكر أن

- يمكن أن نجد تشابه بين الصراعات الدائرة على منطقة الشرق الأوسط والأحداث التي شهدتها **منطقة القوقاز**
- حاولت القوى الكبرى الاستيلاء على منطقة الشرق الأوسط منذ قيام الثورة الصناعية وحتى الآن وكان ذلك مرتبط بصفة أساسية بـ **السيطرة على مصادر الطاقة الحفرية**
- السلاح الاستراتيجي الذي تمتلكه الدول العربية يمكن من خلاله تحقيق أهدافها السياسية مصادر **الطاقة الحفرية - الموارد الطبيعية**
- من الموارد الطبيعية التي يتم استهلاك معظم انتاجها محلياً مجرد استخراجها **الفحم**
- تتركز مصادر القوى المحركة للطاقة انتاجها في منطقة **جنوب غرب آسيا** شرق الوطن العربي

## ثالثاً أهمية التعاون الدولي لمواجهة المشكلات الاقتصادية

١- تستعين بخبرة المختصين في ميادين مصادب الأسماك والثروة الحيوانية لتقليل الفجوة بين المجتمعات الغنية والفقيرة تشير العبارة عن.....

- (أ) منظمة الأمم المتحدة للتنمية الصناعية (ب) مركز التجارة الدولي  
(ج) صندوق النقد الدولي.  
(د) منظمة الأغذية والزراعة الدولية.

### تذكر أن

- يمكن اللجوء إليها لتنمية الموارد الرعوية في دولة ما إلى **منظمة الاغذية والزراعة " الفاو "**
- تهتم منظمة الاغذية والزراعة على رفع مستوى التغذية وتحسين الانتاج بالأخص في **قارة افريقيا**
- أي إشارة توأحي الزراعة والطعام يتم الاستفادة من **منظمة الاغذية والزراعة " الفاو "**
- إذا حصلت دولة نامية ما على مساعدة مالية من المؤسسات الدولية المهتمة بالتعاون الدولي تكون هذه **المؤسسة البنك الدولي للإنشاء والتعمير**

٢- تقدم منظمة اليونيدو جهودها لدعم الصناعة في.....

- (أ) غرب أمريكا الجنوبية.  
(ب) شمال أمريكا الشمالية.  
(ج) شمال آسيا.  
(د) غرب أوروبا.

### تذكر أن

- أي إشارة توأحي بالتصنيع والصناعة يتم الاستفادة من **منظمة اليونيدو**
- أي اسهام في مشروعات انتاجية يتم الاستفادة " **البنك الدولي للإنشاء والتعمير**
- تقدم منظمة اليونيدو جهودها لدعم الصناعة في بالأخص ( **أي دول في قارة افريقيا** أو **أمريكا الجنوبية** أو **بعض الدول في آسيا**)
- من المؤسسات الدولية التي لعبت دور المتناقض اتجاه دعم الدول العالم الثالث **البنك الدولي وصندوق النقد الاجنبي**
- المناطق الاوفر في الاستفادة من منظمة الزراعة والاعذية **قارة افريقيا**
- يتم تقديم الدعم النقدي لتنفيذ برنامج مشروعات التنمية الشاملة للدول النامية **من خلال البنك الدولي للإنشاء والتعمير**
- تهتم مؤسسة اليونيدو بتنشيط القطاعات الاقتصادية وعدم تصدير المادة الخام

## اولاً / انواع الأقليات

١:- أكثر الأقليات انتشاراً بالدولة التي تقع شرق بحر قزوين .....

(أ) قومية (ب) لغوية (ج) عرقية (د) دينية

تذكر أن

- تعد الأقليات اللغوية هي الأقل انتشاراً في العالم ويعود ذلك إلى تدعيم سيادتها القومية
- ظهرت الأقليات القومية في شرق قارة أوروبا نتيجة التأثير بانتهاء الحرب الباردة
- ظهرت في قارة آسيا بعد انتهاء الحرب الأيدولوجية أقبليات قومية
- ارتبط ظهور الأقليات القومية في شمال قارة آسيا بانتهاء الصراع الأيدولوجي

٢:- أكثر الأقليات انتشاراً بالدولة التي تقع شمال البحر الاسود

(ب) الروسية (ب) مقدونية (ج) كردية (د) ألبانية

تذكر أن

- أكثر الأقليات انتشاراً بالدولة كازخستان وارمينيا وجورجيا الاقلية الروسية
- نتج عن تطور خريطة العالم السياسية في أواخر القرن الـ ٢٠ م ظهور بعض الأقليات ومنها الصينية في البوسنة و اقلية الألبانية في صربيا
- يعود التشابه بين بعض مناطق العالم القديم والعالم الجديد في ممارسة التمييز العرقي من قبل الاقلية

٣- يقطع مدار الجدي بقارة أفريقيا أقبليات

(أ) قومية (ب) لغوية (ج) عرقية (د) دينية

تذكر أن

- يطلق على الأقليات البيضاء في جنوب منطقة الصحراء الكبرى وسط وجنوب القارة الأفريقية بالأقليات العرقية
- ارتبط ظهور الأقليات التي تقع في جنوب الصحراء الكبرى الاستعمار الأوربي
- تم تطبيق الديمقراطية كانت في حل مشكلة الأقبليات في جنوب غرب آسا

٤:- الأقليات الأقل انتشاراً في العالم توجد في دولة .....

(ب) أ) البوسنة والهرسك. (ت) ب) روسيا (ث) ج) الولايات المتحدة الأمريكية. (ج) د) إيران.

تذكر أن

- الأقليات الأقل انتشاراً في العالم الأقليات اللغوية توجد في دولة إيران والعراق وسوريا وتركيا
- تعد أكثر الأقليات وجوداً في منطقة الشرق الأوسط هي اللغوية والدينية.
- تنتمي الأقلية التي لم تحصل على حقوقها الإثنوغرافية لقارة أوروبا
- يقبل ظهور الأقليات اللغوية داخل القارة الأوروبية بسبب ترسيم الحدود الإثنوغرافية

٥- إذا نجحت الاقلية اللغوية بالوطن العربي في استكمال وحدتها السياسية فإن

هذا سوف يؤدي إلى .....

- زيادة مساحة الدول العربية الآسيوية.
- تناقص مساحة الدول العربية الآسيوية.
- زيادة عدد الدول العربية الآسيوية.
- تناقص عدد الدول العربية الآسيوية.

تذكر أن

- إذا نجحت الاقلية اللغوية بالوطن العربي في استكمال وحدتها السياسية فإن هذا سوف يؤدي تناقص مساحة الدول العربية الآسيوية
- إذا نجحت الاقلية اللغوية في اوربا في الحصول على استقلالها الذاتي فإن هذا سوف إلى تناقص مساحة احد دول غرب اوربا وزيادة عدد دول غرب اوربا
- اختلاط الاقلية مع الاغلبية بالدولة ينتج عنه استقرار الدولة السياسي
- مواقع استراتيجية وتعاين من مشكلات اجتماعي ايطاليا واسبانيا

## المشكلات التي تعاني منها الأقليات

١:- ما ضاع حق ورائه مطالب " استفادات الجغرافيا السياسية من هذه المقولة في حل مشكلة اجتماعية في .. " دور أول ٢٠٢١"

(أ) اسبانيا (ب) إيطاليا  
(ج) سويسرا (ج) الولايات المتحدة الأمريكية

تذكر أن

١. ما ضاع حق ورائه مطالب " استفادات الجغرافيا السياسية من هذه المقولة في حل مشكلة اجتماعية في الولايات المتحدة وجنوب افريقيا
٢. ارتبط ظهور الاقبليات في دول العالم الحديث بالهجرة القسرية
٣. مارست بعض الاقبليات في القرن الماضي للديكتاتورية وهو ما ظهر في احدى الدول التي يقطعها مدار الجدي ( جنوب افريقيا )
٤. الاقلية التي حصلت حقوقها الاثنوغرافية تقع في قارة آسيا ( جنوب غرب آسيا أو شمال شرق شبه الجزيرة العربية )

٢:- الاقلية التي لم تحصل حقوقها الاثنوغرافية تقع في ....

(أ) غرب البحر الأدرياتيكي (ب) شرق البحر الاسود  
(ج) جنوب البحر المتوسط (د) جنوب بحر الكاريبي

تذكر أن

- الدولة التي رغبت في الحفاظ على هويتها الثقافية فقامت بفرض الديكتاتورية على بعض الاقبليات بها ( الايطالية )
- نضال الزوج من أجل الحصول على حقوقهم المدنية والسياسية والثقافية في دولتي جنوب افريقيا والولايات المتحدة الأمريكية
- ظاهرة التمييز العنصري في دولة جنوب افريقيا موجه إلى الاغلبية العرقية
- ظاهرة التمييز العنصري في الولايات المتحدة موجه إلى الاقبليات العرقية " الزوج "
- الاقلية مجموعات بشرية قليلة ذات خصائص تختلف عن مثيلاتها في مجتمع الاكثرية وفي الغالب تمارس عليها سياسة التفرة العنصرية ولكن تلك القاعدة تشذ في دولة جنوب افريقيا

## أثر الأقليات على استقرار الدولة

٤ :- امامك احداثيات لدولة ما تنتشر فيها اقبليات استعن بالشكل المباشر بالشكل المقابل ثم استنتج . يقل اثر الاقلية الموضحة بالشكل على استقرار الدولة نتيجة

	30	35	40	45	50	55	60
شمال 40							
شمال 35							
شمال 30							
شمال 25							
شمال 20							
شمال 15							
شمال 10							

- (أ) حجم الاقلية وقوتها  
(ب) الخصائص القومية  
(ج) قربها من وطنها  
(د) التوزيع الجغرافي

### تذكر أن

- تغير التوزيع الجغرافي في اقليم الباسك وتيمور الشرقية من شأنه احداث حالة من حالات الاستقرار او عدم القدرة بالمطالبة بالانفصال
- تتركز الاقليات تمثل خطورة على استقرار الدولة في كل من اسبانيا واندونيسيا

٥ :- اذا كانت الاقلية تتمتع بنفوذ سياسي واقتصادي وتستخدم الديكتاتورية ضد الاغلبية فاننا نتحدث عن

- (أ) الاكراد (ب) الباسك في اسبانيا  
(ج) البيض في جنوب افريقيا (د) الزوج في العالم الجديد

### تذكر أن

- التاريخ تراث الوطن والجغرافيا وعاء هذا الوطن " مضمون العبارة ينطبق على الزوج في جنوب افريقيا
- الاقلية لا تهتمش لمجرد قلة عددها او انخفاض نسبة سكانها " تنطبق العبارة على الاقلية التي يقطعها مدار الجدي
- اختلف التمييز العنصري في العالم القديم عن العالم الجديد بسبب ديكتاتورية الاقلية
- ظهر اثر القوة الاقتصادية للأقلية القوقازية في جنوب افريقيا

٦ : تزداد خطورة الاقلية في حال وجود وطن لها وينطبق ذلك على الاقلية الموجودة في

- (أ) شمال غرب الوطن العربي الافريقي  
(ب) شمال شرق الوطن العربي الآسيوي  
(ج) جنوب غرب الوطن العربي الافريقي  
(د) جنوب غرب الوطن العربي الآسيوي

### تذكر أن

- يرتبط ظهور مشكلة الاقليات في العراق وايران وتركيا وسوريا بالعامل الجغرافي (المكان) والتاريخي
- وجود وطن للأقليات يمثل خطورة على استقرار الدول في العراق و تركيا وسوريا وايران ( الاقليات الكردية )
- من الاقليات في الوطن العربي لها تأثيرها السلبي على استقرارها ( الاكراد في العراق وسوريا )
- الاقلية اثار مشكلة سياسية وتقع جنوب غرب قارة آسيا الاكراد " شمال شرق شبه الجزيرة العربية (العراق)
- تضمن خطورة الاكراد في العراق " الاعتراف بوجود لغة لهم وجود وطن على اطراف الدولة "

١ :- الاقلية التي اثارَت مشكلة سياسية وتقع جنوب خط الاستواء هي

- (أ) تيمور (ب) الباسك  
(ج) كتالونيا (د) النمساوية

### تذكر أن

- أكثر العوامل التي قد تؤثر سلباً على الامتزاج الثقافي لدولة اندونيسيا الشكل
- تمثلت خطورة مشكلة اقليم تيمور الشرقية على دولة اندونيسيا في هامشية موقع الاقليم
- أكثر الدول التي تدعم اقلية تيمور في الاستقلال ا استراليا
- اختلاط الاقلية مع الاغلبية بالدولة ينتج عنه استقرار سياسي بالدول
- تركز الاقلية في اطراف الدولة ينتج عنه اضطرابات سياسية للدول

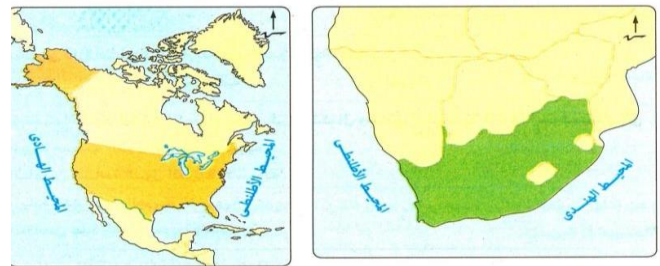
٢ :- في حالة نجاح سكان اقليم الباسك في استكمال وحدة السياسية سوف يرتب عليه العديد من النتائج يخرج عنها .....

- (أ) تناقص عدد الوحدات السياسية في جنوب غرب اوربا  
(ب) تناقص الانتاج المعدني في احدى دول جنوب غرب اوربا  
(ج) زيادة عدد الوحدات السياسية في جنوب غرب أوربا  
(د) تناقص مساحة احد دول جنوب غرب أوربا

### تذكر أن

- في حال إعادة التوزيع الجغرافي لسكان الباسك في دولة إسبانيا فسوف يساهم ذلك في حدوث استقرار سياسي
- أكثر العوامل التي قد تؤثر سلباً على الامتزاج الثقافي لدولة إسبانيا مظاهر السطح
- العامل الذي جعل اقليم الباسك وكتالونيا ذات تأثيرا كبير على عدم استقرار اسبانيا سياسياً توزيع الاقلية ومظاهر السطح ( الطابع الجبلي )
- تشابه منطقة اقصى جنوب شرق آسيا واقصى جنوب غرب أوربا في ظهور مشكلة الاقليات نتيجة التوزيع الجغرافي للأقلية

٣ :- يظهر وجه الشبه بين الأقليات الموجودة بالدولتين المظللتين بالخريطين التاليين في .....



- (أ) نوع الاقلية (ب) رغبتهم في الانفصال  
(د) صل الاقلية (ج) قوتهم الاقتصادية

### تذكر أن

- أخطر ما واجه دولة جنوب أفريقيا في قضية التمييز العنصري هو سوء توزيع الثروة
- تشابه مشكلة التفرقة العنصرية في دولتي الولايات المتحدة الأمريكية وجنوب أفريقيا في السيطرة الاقتصادية والسياسية لفئة معينة
- تشابه الاقلية الموجودة في جنوب الصحراء الكبرى بأفريقيا من حيث النوع من الاقلية الموجودة في تكتل النافتا
- الاقلية لا تهتمش بسبب حجمها تنطبق العبارة على الاقلية في جنوب أفريقيا

## ثانياً :- الهجرة

### ١- ارتبط حدوث تغير في المعالم الديموجرافية لجنوب مصر بـ....

- أ) هجرة غير شرعية تتعرض لها مصر من الجنوب
- ب) هجرة إجبارية نتيجة لمشكلات سياسية.
- ج) هجرة إجبارية لدوافع قومية.
- د) زيادة حجم السكان في جنوب الوادي.

#### تذكر أن

- ظهرت في مصر هجرة إجبارية لدوافع عسكرية في اجزائها الشمالية الشرقية
- يدل هجرة اهل النوبة عند تهجيرهم منها على تغليب المصلحة العامة للدولة
- تغيرت التركيب السكانية في جنوب الوادي نتيجة لمشروعات القومية ( مشروع السد العالي
- البحيرة التي كان انشاؤها سبباً في ظهور هجرة إجبارية في مصر تقع جنوب الوادي
- الهجرة التي حدثت في مدن القناة في منتصف الخمسينات والستينات في القرن الماضي تعد انماط الهجرة الإجبارية
- من الهجرات القسرية التي شهدتها مصر خلال النصف الثاني من القرن العشرين مثل الهجرات التي تمت في محافظتي السويس و الإسماعيلية و بورسعيد (مدن القناة) و اسوان

### ٢- أي من الدول التالية تعد مصباً للهجرة غير القانونية؟.....

- أ) فرنسا و إيطاليا.
- ب) السويد والنرويج.
- ج) المغرب والجزائر
- د) البرازيل والأرجنتين.

#### تذكر أن

- من الدول تعد منبعاً للهجرات غير شرعية (دول جنوب شرق اسيا) مثل الفلبين و إندونيسيا و ماليزيا و سنغافورة
- من الدول التي تعد مصباً للهجرة غير الشرعية جنوب أوروبا مثل إيطاليا و اليونان و قبرص و اسبانيا و فرنسا
- وجود اللاجئين من السوريين في الاتحاد الاوربي وفي دول الوطن العربي دليلاً دامغاً على حدوث هجرة إجبارية
- تؤثر الهجرة غير الشرعية بالسلب على أحد وظائف الحد السياسي وهو الوظيفة السياسية والقانونية

### ٣- تتشابه منطقتا جنوب غرب آسيا وغرب أوروبا في.....

- أ) استقبالهما لهجرة شرعية وهجرة غير قانونية.
- ب) تركيز إنتاج الفحم بدولهم.
- ج) أسباب نشأة الحدود السياسية بهما.
- د) تدخل البنك الدولي في السياسة الداخلية لدولهم.

#### تذكر أن

- تتمتع شبه الجزيرة العربية بوجود قلب ديني الا انها تعاني من عدم تجانس ديموجرافي بسبب الهجرة الرسمية والغير شرعية
- تتمتع شبه الجزيرة الايطالية بوجود قلب ديني الا انها تعاني من عدم تجانس ديموجرافي بسبب الهجرة الرسمية والغير شرعية
- تتعدد وتنوع الثقافات داخل المشرق العربي بسبب الهجرة القادمة من جنوب شرق اسيا
- قامت سلطنة عمان باحتجاز قارب غير شرعية بمياهاها في خليج عمان "نتوقع أن يكون هذا القارب قادماً من دول تتميز كثرة سكانها وانخفاض مستوى

### ٤- أكثر تيارات الهجرة التي تستخدم منافذ عبور غير رسمية هي المتجهة

إلى.....

- أ) غرب أفريقيا والمشرق العربي
- ب) الشرق الآسيوي والمشرق العربي
- ج) غرب أوروبا والمشرق العربي
- د) غرب أفريقيا والشرق الآسيوي.

#### تذكر أن

- من أسباب زيادة نسبة البطالة بين الأيدي العاملة الوطنية في دولة ما استقبال الهجرات غير الرسمية
- يرتبط قيام بعض الدول بتقديم طلب إلى الأنتربول الدولي لتعقب بعض المجرمين بـ الهجرة غير الشرعية
- من العوامل الاجتماعية التي قد تؤثر على خريطة العالم السياسية في المستقبل الهجرة القسرية وظهور مشكلة اللاجئين

### ٥- من أسباب زيادة نسبة البطالة بين الأيدي العاملة الوطنية في دولة ما.....

- أ) استقبال الهجرات غير الرسمية.
- ب) خروج الهجرات غير الشرعية.
- ج) خروج هجرات شرعية.
- د) استقبال وفود سياحية.

#### تذكر أن

- تتشابه دول الخليج العربي ودول الاتحاد الأوروبي في كونهما مناطق جذب للهجرات القانونية وغير القانونية
- يمكن الربط بين معظم تيارات الهجرة غير الشرعية بين دول العالم النامي والمتقدم إلى قرب السواحل
- وجود أفراد من الدولة (س) داخل الدولة (ص) وغير مقيدين في سجلاتها يعبر عن حدوث هجرة غير شرعية

### ٦- أي من الدول الآتية شهدت زيادة في معدل البطالة نتيجة وفود

الهجرات غير القانونية إليها؟.....

- أ) السودان
- ب) الهند
- ج) فرنسا
- د) البرازيل

#### تذكر أن

- العامل الأكثر تأثيراً في ظهور تيار هجرة غير شرعية متجهة الى المشرق العربي و الاتحاد الاوربي العامل الاقتصادي
- كان العامل الجغرافي (قرب المسافة) تأثيره في توجه المصريين بطريقة غير الشرعية الى دولة اليونان أو قبرص
- من سلبات الهجرة غير الشرعية ارتفاع نسبة البطالة بين العمالة الوطنية يتأثر برامج الاصلاح الاقتصادي للدول سلبياً بالهجرة غير الشرعية
- تحتاج القارة العجوز "أوربا" للحد من الهجرة غير الشرعية "الى تشديد الرقابة على منافذها بالأخص حدودها البحرية الجنوبية
- أكثر مناطق في القارة الآسيوية تحتاج الى تشديد الرقابة على حدودها لمنع الهجرة غير شرعية في جنوبها الغربي

### التكتلات الاقتصادية

١ :- عندما تصبح التعريفية الجمركية بين الدول المشتركة في نفس التكتل تساوى صفر فهذا ناتج عن وصول التكتل الى مرحلة ..... .

أ- التجارة التفضيلية ب- التجارة الحرة

ج- الاتحاد الجمركي د: السوق المشتركة

#### تذكر أن

- في مرحلة التجارة الحرة يتم الاستغناء عن وظائف الحد السياسي بين دول التكتل الواحد « العبارة السابقة تنطبق على السلع
- يتم تخفيف قيود الوظيفة الاقتصادية للحدود السياسية في مرحلة رفع الحواجز الجمركية
- يمكن اعتبارها الخطوة الأولى في تحقيق التكامل الاقتصادي ( حرية انتقال السلع المحلية داخل دول التكتل .
- إقامة منطقة التجارة الحرة يتم في مرحلة رفع الحواجز الجمركية

#### تذكر أن

- اعتماد سياسية نقدية واحدة مثل اصدار عملة الموحدة في التعاملات التجارية أو تثبيت سعر الصرف في البنوك بين دول التكتل الاقتصادي يعنى وصول الدول الى مرحلة الوحدة الاقتصادية
- عندما تكون سعر الفائدة على الاقتراض وعلى الايداع واحدة بين دول الاتحاد الاوربي هذا يعنى الوصول الى مرحلة الوحدة الاقتصادية
- إقامة المشروعات بين دول التكتل الاقتصادي دون وجود تناقضات في قوانين العمل منذ مرحلة الوحدة الاقتصادية
- عندما نجد تشابه في القوانين الضريبية بين دول التكتل الاقتصادي فهذا يعنى الوصول لمرحلة الوحدة الاقتصادية .

٥ :- أقوى درجة من درجات التكامل التي تسعى اليها الدول للانضمام الى التكتل الاقتصادي

أ- تخفيف اثر الصدمات الاقتصادية

ب- خلق كيان اقتصادي واحد

ج: تحرير تدفق العمالة ورأس المال

د: توحيد السياسات الاقتصادية

#### تذكر أن

- يتمثل قمة النضج في مراحل تكوين التكتلات الاقتصادية في المرحلة الخامسة ( الاندماج الاقتصادي ) اندماج الكيانات الاقتصادية في كيان واحد
- تحرير حرية انتقال العمالة من مراحل تكوين التكتلات الاقتصادية يتطلب تخفيف بعض اجراء المرحلة الرابعة
- الغاية من انشاء أي تكتل اقتصادي هو ( الاندماج الاقتصادي )

٦ :- يُعد السوق المشترك لدول الشرق والجنوب الأفريقي نموذجاً للتجمعات الاقتصادية في دول العالم القديم». يمكن دراسة ما توضحه العبارة السابقة من خلال .....

(أ) النظام العالمي الجديد (ب) الوحدات السياسية

(ج) التحليل السياسي للقوة (د) المشكلات السياسية

#### تذكر أن

- التكتلات الاقتصادية ظاهرة حديثة تزامناً من بداية الاستقطاب العالمي وبداية الحرب الباردة
- انقسام المشترك بين جميع التجمعات الاقتصادية في تخفيف بعض اجراء المرحلة الرابعة
- تلجأ العديد من الدول الانضمام الى تجمعات اقتصادية نتيجة نقص الموارد الطبيعية
- كل التكتلات الاقتصادية تخضع لنظام سياسي واداري واحد وهو الاتحاد الكونفدرالي
- من الظواهر المعاصرة في خريطة العالم السياسية التكتلات الاقتصادية والنظام العالمي الجديد
- من الظواهر القديمة في خريطة العالم السياسية الاحلاف العسكرية والعلاقات الدولية

٢ :- إذا أردت شراء سيارة من احدى دول الاتحاد الأوربي واكتشفت أن صديقك في السودان قد اشترى نفس السيارة وقام بدفع نفس الرسوم فمن المتوقع أن تكون مصر والسودان قد أقامتاً .....

أ- اتحاد جمركي ب- سوق مشتركة

ج- وحدة اقتصادية د- اندماج اقتصادي

#### تذكر أن

- من مراحل التكامل الاقتصادي تحدد طبيعة العلاقات التجارية بين دول التكتل وباقي دول العالم الاتحاد الجمركي
- تفرض الصين وأستراليا كدول من تكتل الأبيك مبالغ محددة على القطن المصري وهما بذلك حقاً مرحلة اتحاد جمركي
- الدول التي لا تتمتع بالإعفاء الجمركي على واردتها في التكتلات الاقتصادية " كل الدول التي ليست عضو في التكتل الاقتصادي

٣ :- يستطيع الفرد القيام بمشروعه الاقتصادي في أي دولة من دول التكتل الاقتصادي بداية من مرحلة

(أ) التجارة الحرة. (ب) الاتحاد الجمركي

(ج) السوق المشتركة. (د) الوحدة الاقتصادية.

#### تذكر أن

- من مراحل التكامل الاقتصادي تحدد طبيعة العلاقات التجارية بين دول التكتل وباقي دول العالم الاتحاد الجمركي
- يسمح لأفراد دولة ما بعمل مشروعات استثمارية داخل دولة أخرى من دول التكتل بداية من مرحلة السوق المشتركة
- يحق لمواطن الإيطالي الانتقال للعمل وإقامة مشروعات استثمارية داخل فرنسا في اطار الاتحاد الأوربي

٤ :- توجد العديد من مقومات قيام التكتلات الاقتصادية أهمها .....

- (أ) تنوع التركيب الاقتصادي
- (ب) وجود قوة عسكرية موحدة.
- (ج) المستوى التكنولوجي المتقدم لبعض دوله .
- (د) التشابه في أنظمة الحكم بين دوله.

### تذكر أن

- يقوم التكتل الاقتصادي على اساسي التنوع والتشابه في نفس الوقت " يظهر ذلك بشكل واضح عندما يرتبط بالجوانب الاقتصادية والاثنوغرافية
- - يتمثل العامل الاساسي في نجاح أي تكتل اقتصادي ( تنوع الموارد الاقتصادية )
- - المقومات الاساسية التي يفتقدها مجلس التعاون لدول الخليج العربي العمالة المحلية
- - من أكثر الدوافع لدخول دولة ما في تكتل اقتصادي محدودية الموارد الطبيعية

٥ :- ( مجموعة الايبك - النافتا - الاتحاد الاوربي ) تكتلات اقتصادية الرابط المشترك بينها ....

- (أ) المقوم الجغرافي
- (ب) المقوم السياسي
- (ج) المقوم الاثنوغرافي
- (د) التباين السياسي

### تذكر أن

- القاسم المشترك بين معظم التكتلات الاقتصادية هو اختلاف النظم السياسية لدول التكتل
- يقوم التكتل الاقتصادي في طبيعته على التشابه والتنوع في نفس الوقت التشابه في العادات والتقاليد والانظمة السياسية والتنوع في الموارد

٦ :- العامل الاقل اهمية في قيام التكتلات الاقتصادية بين مجموعة من الدول العامل

- (أ) الاقتصادي
- (ب) الجغرافي
- (ج) العسكري
- (د) البشري التكنولوجي

### تذكر أن

- يتوقف استمرار التكتلات الاقتصادية ونجاحها على توفر القوة العسكرية
- من التكتلات الاقتصادية التي تمتلك المقوم العسكري " الاتحاد الاوربي - مجلس التعاون لدول الخليج العربي - النافتا "
- من الصعوبات التي تواجهها دول مجلس التعاون الخليج العربي في تحقيق قوة عسكرية متكاملة حجم القوة العسكرية

حال اعلان تونس خروجها من الاتحاد المغرب العربي فإن ذلك يعنى .....

- (أ) فقد التكتل المقوم الجغرافي
- (ب) تآثر التكتل ديموغرافي
- (ج) فقد التكتل بعض الدول المجاورة لهله (د) تأثر التكتل إثنوغرافيا

### تذكر أن

- التكتل الاقتصادي الذي حقق اكبر استفادة من التركيب النوعي لسكانه هو الاتحاد الاوربي
- ينطبق مفهوم الامة على جامعة الدول العربية
- اصغر تجمع اقتصادي يضم عدد من الوحدات السياسية هو . النافتا اتحاد المغرب العربي
- خروج المملكة المتحدة رسمياً من الاتحاد الاوربي يتطلب منها تفعيل المرحلة الرابعة للحد السياسي

## مقومات قيام التكتلات الاقتصادية

١-نتوقع في حال انضمام مصر لتكتل دول المغرب العربي أن ينتج عنه

- أ-احتفاظ التكتل بالمقوم الجغرافي والاثنوجرافي
- ب-زيادة دول التكتل وحدوث تغير اثنوغرافي
- ج-تشابه موقع العاصمة في دول التكتل
- د-تنوع الاقاليم المناخية والنباتية

### تذكر أن

- الأساس الذي يقوم عليه أي تكتل اقتصادي الاتصال الاراضي اى وجود دول التكتل في مكان واحد او قارة واحدة لا يفضل بين دول التكتل اى عواقب طبيعية
- التكتل الاقتصادي الذي يفتقد الى " العامل الجغرافي " عند تكوينه منتهى التعاون الاقتصادي " الايبك "
- يعد مقوما هاما ساهم في قيام التكتل الاقتصادي النافتا المقوم الجغرافي
- التجمع الاقتصادي الذي يفتقد إلى أساس قيام التكتل هو منتهى التعاون الاقتصادي ( الايبك ) .

٢ :-العنصر الاستاتيكي في قيام اى تكتلات اقتصادية .....

- (أ) الحجم السكاني
- (ب) النظام السياسي
- (ج) الاتصال الاراضي
- (د) التفوق العسكري

### تذكر أن

- اكبر التكتلات الاقتصادية من حيث الاتساع والامتداد منتهى التعاون الاقتصادي
- ٤ :- يصعب قيام تكتل اقتصادي يجمع بين الولايات المتحدة الامريكية ودول أوروبا بسبب المقوم الجغرافي ( الاتصال الاراضي
- التكتل الذي يضم كل دول القارة هو النافتا
- الدول التي تضم عضوية في تكتلين مختلفين يفصل بينهم مسطح مائي ( النافتا )
- " الولايات المتحدة والمكسيك وكندا "

٣- يوجد بالعالم القديم تكتل إقتصادي يعانى من وقوع مشكلات حدود

سياسية و اقتصادية ذات بعد سياسي ورغم ذلك يتسرب

- أ- تشابه الخصائص الثقافية والاثنوغرافية
- ب- وجود عمالة على درجة عالية من المهارة
- ج- تعدد الثقافات والقوميات والعادات والتقاليد
- د- وجود الدول الجزرية وقله الدول الحبيسة

### تذكر أن

- التفوق العلمي في دولة ما عن باقي دول التكتل الاقتصادي المنضمة إليه يجعلها الأكثر استفادة من الانضمام للتكتل
- يزيد من قوة التكتلات الاقتصادية التشابه في اللغة والدين
- التكتلات الاقتصادية التالية الاكبر في حجم السوق الضخمة وجود العمالة المهارة المتخصصة ايبك
- من العوامل التي تسهم في زيادة قوة التكتل الاقتصادي التجانس الثقافي بين دول التكتل
- يرتبط رواج الاسواق في اى تكتل اقتصادي وبالوزن السكاني
- يصعب قيام أي تكتل اقتصادي بين الدول المتقدمة والنامية بسبب المستوى التكنولوجي
- تتمثل القوة الناعمة لنجاح التكتلات الاقتصادية في التجانس الثقافي

## اهداف (اهمية) قيام التكتلات الاقتصادية

التكامل الاقتصادي يساعد المستهلكين في الحصول على السلع بأقل الأسعار مما يؤدي إلى.....

- (أ) رفع مستوى رفاهية المواطنين.
- (ب) تخفيف أثر الصدمات الخارجية.
- (ج) الاستفادة من المراكز البحثية.
- (د) إقامة مشروعات مشتركة.

### تذكر أن

- تتعدد اهداف التكتلات الاقتصادية ومنها زيادة التبادل التجاري بين الدول الاعضاء
- تساهم الاهداف السياسية للتكتلات الاقتصادية في الحفاظ على سيادة دول الاعضاء
- التفوق العلمي في دولة ما عن ما باقي دول التكتل الاقتصادي المنضمة اليه يجعلها الأكثر استفادة من الانضمام للتكتل
- اذا نجحت قارة افريقيا في إقامة تكتلات اقتصادية ناجحة في كل اطرافها فان ذلك يؤدي الى تغير اطراف القوى العالمية

### ٢. يتمثل الهدف السياسي لقيام التكتلات الاقتصادية في .....

- أ - الاستفادة من المراكز البحثية ب - الحصول على مزايا الإنتاج الكبير
- ج -رفع مستوى رفاهية المواطنين د -تخفيف أثر الصدمات الخارجية

### تذكر أن

- من اهداف السياسية للتكتلات الاقتصادية " الحفاظ السيادة الوطنية او التخلص من التبعية السياسية
- يرتبط تحقيق الهدف السياسي في التكتل الاقتصادي بتنوع الموارد الاقتصادية في أكثر القارات التي تتعرض معظم دولها لأثر الصدمات الخارجية هي " امريكا الجنوبية" ليس بها تكتلات اقتصادية
- يعد تخفيف أثر الصدمات الخارجية من اهداف التكتلات الاقتصادية وهو ما تحقق في كل دول امريكا الشمالية
- التكتل الاقتصادي الذي يتأثر بأثر الصدمات الخارجية مجلس التعاون لدول الخليج العربي بسبب محدودية التركيب السلمي " قلت الموارد

### ٣. الداعم الاول لحل المشكلات الحدودية بين شمال غرب القارة الافريقية

- (أ)الاتحاد الاوربي (ب)الكوميسا
- (ج)اتحاد المغرب العربي (د)الايكواس

### تذكر أن

- الداعم الاول لحل المشكلات الحدودية بين غرب القارة الافريقية مجموعة الايكوس
- الداعم الاول لحل الاضطرابات السياسية في السودان الكوميسا
- الدول المستفيدة من مزايا الانتاج الكبير هي اي دولة عضو في اي تكتل اقتصادي
- تحقق الوحدة الاقتصادية من خلال توحيد القوانين المالية وجود عملة موحدة بين دول التكتل
- الحصول على مزايا الانتاج الكبير و تحقيق التكامل بين الدول الاعضاء يساعد على عدم تعرض الدول للأزمات المختلفة

### ٤. التكتل الاقتصادي الذي حقق اكبر استفادة من التركيب النوعي لسكانه هو

- (أ)النافتا (ب)مجلس التعاون لدول الخليج العربي
- (ج)اتحاد المغرب العربي (د) الكوميسا

### تذكر أن

- التكتل الاقتصادي الذي حقق اكبر استفادة من التركيب النوعي لسكانه هو الاتحاد الاوربي منطقة التجارة الحرة
- التكتل الاقتصادي الذي يفتقر الى استفادة من التركيب النوعي لسكانه هو الاتحاد الاوربي مجلس التعاون لدول الخليج العربي الكوميسا اتحاد المغرب
- دولة تفتقر الى مزايا الانتاج الكبير لي دول بيس عضوا في تكتل اقتصادي مثل اليمن

### ٥. الاتحاد الاوربي قد يتخلص من احدى مشكلاته الاجتماعية حال رفع مستوى رفاهية مواطنين تكتل ....

- (أ)النافتا (ب)مجلس التعاون لدول الخليج العربي
- (ج)الايبك (د) الكوميسا

### تذكر أن

- الاتحاد الاوربي قد يتخلص من احدى مشكلاته الاجتماعية حال رفع مستوى رفاهية مواطنين تكتل ( السوق المشتركة لدول شرق وجنوب افريقيا أو اتحاد المغرب العربي )
- التكتل الاقتصادي الذي قد يتخلص من إحدى مشكلاته الاجتماعية حال رفع مستوى رفاهية المواطنين بجنوب شرق آسيا مجلس التعاون للدول الخليج العربي

### ٤. زيادة مستوى التنوع الانتاجي في دول التكتل الاقتصادي يخفف من آثار الصدمات الخارجية ويفتقر لذلك تكتل ....

- أ-دول شرق لخليج العربي
- ب-دول غرب الخليج العربي
- ج-شرق آسيا والمحيط الهادي
- د-غرب آسيا والمحيط الهادي

### تذكر أن

- يوجد بالعالم القديم تكتل إقتصادي يعاني من وقوع مشكلات حدود سياسية واقتصادية ذات بعد سياسي ورغم ذلك يتسم بتشابه الخصائص الثقافية والاثنوغرافية
- يعتبر من أهم الأهداف السياسية لتكتل الكوميسا المشاركة في إتخاذ قرار موحد علي المستوي العالمي
- يعد التكتل الأقرب للمساعدة في حل مشكلة أزمة سد النهضة الإثيوبي تكتل اتحاد الكوميسا

## نماذج للتكتلات الاقتصادية في العالم

١ :- أكثر التكتلات الاقتصادية التي تضم مواقع استراتيجية .....

- أ- الاتحاد الأوروبي  
ب- اتحاد المغرب العربي  
ج- كتكتل الكوميسا  
د- كتكتل الناftا

### تذكر أن

- أكثر التكتلات الاقتصادية احتياجاً إلى التعامل مع منظمة اليونيدو للزيادة دخلها من التصنيع بدلاً من تصدير مواردها الأولية خام الكوميسا
- ما ضاع حق وراءه مطالب استفادت الجغرافيا السياسية في حل أحد المشكلات السياسية الحدودية لأحد الدول التي تنتمي للتكتل الاقتصادي الكوميسا

٢ :- تفتقد الخريطة التالية لتكتل البريكس الاقتصادي لأحد مقومات قيام التكتل وهو بذلك قريب الشبه من تكتل

- ٣ - يوجد بالعالم القديم تكتل اقتصادي يعاني من وقوع مشكلات حدود سياسية و اقتصادية ذات بعد سياسي ورغم ذلك يتسرب
- أ- تشابه الخصائص الثقافية والاثنوغرافية  
ب- وجود عمالة على درجة عالية من المهارة  
ج- تعدد الثقافات والقوميات والعادات والتقاليد  
د- وجود الدول الجزرية وقلّة الدول الحبيسة

### تذكر أن

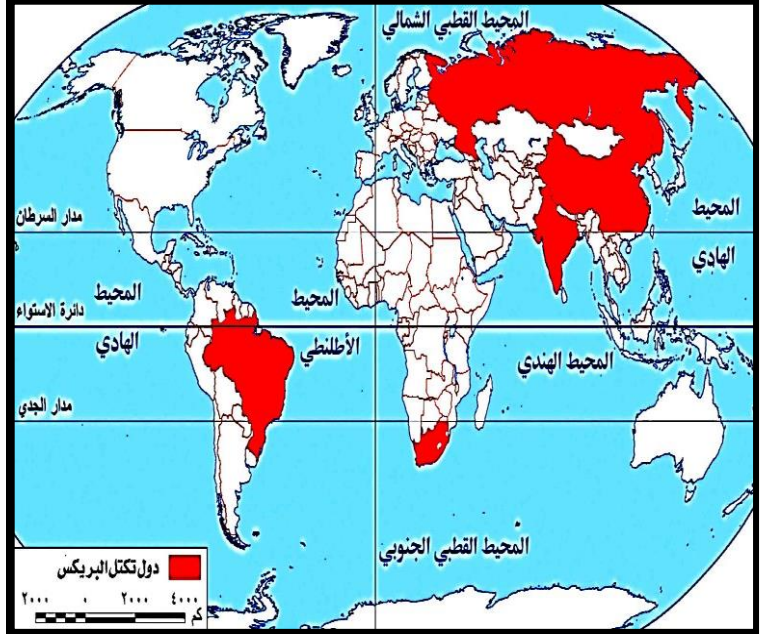
- من الدول التي يمكن اعتبارها حلقة وصل بين تكتلات قارة أفريقيا الاقتصادية
- ليبيا وتونس
- دولة عربية تربط بين تكتلين اقتصاديين أحدهما إثنوغرافي خالص ليبيا
- في العالم " في ضوء ما درسته ، استنتج : التكتل الاقتصادي الذي تعاني من المشكلات السياسية والاقتصادية بعض دوله من تلك المشكلات هو اتحاد المغرب العربي
- ما ضاع حق وراءه مطالب استفادت الجغرافيا في حل أحد المشكلات الاقتصادية ذات بعد سياسي داخل التكتل الاقتصادي المغرب العربي

٤ :- تشابه الأقلية الموجودة جنوب الصحراء الكبرى بأفريقيا من حيث النوع مع الأقلية الموجودة في ..

- أ- تكتل الناftا  
ب- اتحاد المغرب العربي  
ج- مجلس التعاون لدول الخليج العربي  
د- تكتل الكوميكيون

### تذكر أن

- التكتل الاقتصادي الذي يضم كل دول القارة الناftا
- التكتل الاقتصادي الذي حقق أكبر استفادة من التركيب النوعي لسكانه هو ناftا
- الاتحاد الأوروبي
- أقل قارات العالم تأثرت من الأزمة الروسية الأوكرانية بسبب ناftا
- التكتل الاقتصادي الذي عانى دولها من عدم استقرار حدودها بسبب عوامل جيومورفولوجيا الناftا
- تشابه الأغلبية الموجودة جنوب الصحراء الكبرى من حيث النوع مع الأقلية الموجودة في ناftا (الزوج)
- من الدول التي تشترك في تكتل اقتصادي خارج إطارها القاري شيلي وكندا و الولايات المتحدة والمكسيك وبيرو



- أ- الناftا  
ب- الأبيك  
ج- اتحاد المغرب الأوروبي  
د- الاتحاد الأوروبي

### تذكر أن

- من التكتلات الاقتصادية التالية يُعد الأكثر افتقاراً لمعظم مقومات التكتلات الاقتصادية الأبيك
- التجمع الاقتصادي الذي يضم أكبر عدد من القوى الديموجرافية العالمية هو أبيك
- التكتل الاقتصادي الذي يضم في عضويته بعض دول العالم القديم والحديث معاً هو منتدى التعاون الاقتصادي (الأبيك).
- التكتل الاقتصادي الذي يمتلك المورفولوجية والديموغرافية ويفتقد لمقوم الجغرافي منتدى التعاون الاقتصادي (الأبيك)
- من التكتلات الاقتصادية التالية الأكبر في حجم السوق الضخمة وجود العمالة المهارة المتخصصة أبيك
- لكي تعم الفائدة على دول التكتل لابد من التقارب في المستوى التكنولوجي وهو لم يتحقق في تكتل منتدى التعاون الاقتصادي " الأبيك

٥ : التكتل - اقتصادي الذي تتفرد معظم دولها بإنتاج المحاصيل المعتدلة

- أ- الأبيك  
ب- الكوميسا  
ج: الاتحاد الأوروبي  
د: مجلس التعاون

### تذكر أن

- تكتل اقتصادي يفتر دولها إلى إنتاج المحاصيل الغذائية مجلس التعاون
- تكتل اقتصادي إنتاج المادة الخام لصناعة إطارات السيارات ( الأبيك و الكوميسا )
- الأقلية التي لم تحصل على حقوقها الاثنوجرافية تنتمي للتكتل الاقتصادي الاتحاد الأوروبي
- تتعدد مميزات الاتحاد الأوروبي كتكتل اقتصادي ناجح ومنها تعدد الثقافات واللغات دون تنافر

٩: التكتل الاقتصادي الأكثر تنوعاً في موارده الطبيعية وظروفها المناخية هو

- (أ) الاتحاد الاوربي  
(ب) مجلس التعاون  
(ج) اتحاد المغرب العربي  
(د) الأيبك

### تذكر أن

- التجمع الاقتصادي الذي يظهر فيها معظم الاقاليم المناخية الايبك والكوميسا
- اهم التجمع الاقتصادي الذي يبره اكبر عدد من دوائر العرض الايبك
- اكبر التكتلات من حيث القوة الديموغرافية ( الايبك )
- التكتل الذي يضم في عضويته دول نامية ومتقدمة أو دول العالم القديم والنامى الايبك
- التكتل الاقتصادي الذي يفتقد الى المقوم الجغرافي الايبك
- اكثر التكتلات الاقتصادية امتداد وانتشاراً الايبك
- اكبر التكتلات الاقتصادية في حجم السوق الايبك
- أحد مقومات نجاح منتدى التعاون الاقتصادي الايبك
- التكتلات الاقتصادية ان اكبر عدد من الجزر يمكن ان توجد داخل كتل الايبك

١٠: يوجد على خريطة العالم السياسية العديد من التكتلات الاقتصادية

يتشابه بعضها البعض في احتوائها على عدد من الدول الحبيسة ” ينطبق مضمون هذه العبارة السابقة على

- (أ) الاتحاد الاوربي ومجلس التعاون (ب) النافتا والكوميسا  
(ج) الكوميسا والاتحاد الاوربي (د) مجلس التعاون والنافتا

### تذكر أن

- الدولة التي خالفت شروط كوبنهاجن السياسية في الاتحاد الاوربي تقع غرب البحر الادياتى ( ايطاليا )
- يقطع مدار السرطان عدد من التكتلات الاقتصادية يخرج عنها الاتحاد الاوربي
- اهم ما يميز اصغر سوق داخل الاتحاد الاوربي في دول تتميز ب افتقاد القدرة في تبني نظرية الدفاع من العمق
- تحيل ان الاتحاد الاوربي عبارة عن شكل الدولة البري البحري المتجزأ
- دول الأيبك تتوقع أن تضم سوقاً ضخمة وعمالة ماهرة الصين

١١: (النافتا - اتحاد المغرب العربي ، مجلس التعاون لدول الخليج العربي )

تكتلات اقتصادية تتشابه في .....

- (أ) معدل الانفاق على البحث العلمي (ب) العامل الاثنوغرافي  
(ج) عدد الوحدات السياسية (د) سهولة الاحتكاك الحضاري

### تذكر أن

- اقل قارات العالم تأثراً من الازمة الروسية الاوكرانية بسبب النافتا
- تشابه الاغلبية الموجودة جنوب الصحراء الكبرى من حيث النوع مع الاقلية الموجودة في كتلت النافتا (الزنج)
- من الدول التي تشترك في كتلت اقتصادي خارج اطارها القاري شيلي وكندا والولايات المتحدة والمكسيك وبيرو
- تعد كندا والولايات المتحدة والمكسيك حلقة وصل او جسر او قاطرة تربط بين التكتلات الاقتصادية
- التكامل الاقتصادي الذي يضم جميع الوحدات السياسية في القارة كتلت النافتا
- اقل التكتلات الاقتصادية من حيث الوحدات السياسية النافتا

٦: تعمل منظمة الأغذية والزراعة (فاو) على بناء قدرات الخبراء المحليين في

مجال الري لمراقبة موارد المياه وتحسين إنتاجيتها ) من المتوقع ان اكثر التكتلات الاقتصادية استفادة من منظمة الاغذية والزراعة هو تكتل .....

- (أ) الاتحاد الاوربي  
(ب) الكوميسا  
(ج) النافتا  
(د) الأيبك

### تذكر أن

- ما ضاع حق وراءه مطالب استفادت الجغرافيا السياسية في حل احد المشكلات السياسية الحدودية لاحد الدول التي تنتمي للتكتل الكوميسا
- الاتحاد الاوربي قد يتخلص من احدي مشكلاته الاجتماعية حال رفع مستوى رفاهية مواطني كتلت الكوميسا
- من التكتلات الاقتصادية التالية الاكثر استفادة من منظمة اليونيدو الكوميسا
- تكتل اقتصادي تتفرد دولها بإنتاج المحاصيل الاستوائية الكوميسا
- التكتل الاقتصادي الاكثر ضرراً من سياسات صندوق النقد الاجنبي والبنك الدولي الكوميسا

٧: من التكتلات الاقتصادية الآتية تعد بعض دوله منبعاً للهجرات غير الشرعية

- (أ) مجلس التعاون لدول الخليج العربي والايبيك  
(ب) اتحاد المغرب العربي والايبيك  
(ج) النافتا والاتحاد الاوربي  
(د) الكوميسا ومجلس التعاون لدول الخليج العربي

### تذكر أن

- التكتلات الاقتصادية ان اكبر عدد من الجزر يمكن ان توجد داخل كتلت الايبك
- اكبر التكتلات الاقتصادية في حجم السوق الايبك
- أحد مقومات نجاح منتدى التعاون الاقتصادي الايبك كتكتل اقتصادية هو حجم السوق
- التكتل الاقتصادي الذي يفتقد الى المقوم الجغرافي الايبك
- اكثر التكتلات الاقتصادية امتداد وانتشاراً الايبك
- التكتل الذي يضم في عضويته دول نامية ومتقدمة أو دول العالم القديم والنامى الايبك
- اكبر التكتلات من حيث القوة الديموغرافية ( الايبك )

٨: التكتل الاقتصادي الذي يقع به أحد أهم مناطق القلب الديني في العالم هو

- (أ) الاتحاد الاوربي  
(ب) مجلس التعاون لدول الخليج العربي  
(ج) النافتا  
(د) الأيبك

### تذكر أن

- ينطبق مفهوم الامة على مجلس التعاون لدول الخليج العربي
- يستمد مجلس التعاون لدول الخليج العربي قوته من الخصائص الديموغرافية
- تستطيع دولة قطر او اي دولة من دول مجلس التعاون الخليجي العربي ) أن تستقطب عمالة ماهرة دون الاخلال بالتجانس الاثنوغرافي بها من اي دولة عربية من الجناح العربي الافريقي او الآسيوية ( مثل مصر وليبيا او العراق )
- يمكن توجيه نقد موضوعي لمنظمة مجلس التعاون لدول الخليج العربي متمثلاً في محدودية التركيب الاقتصادي
- يعتذر انضمام مصر الى مجلس التعاون لدول الخليج العربي بسبب المقوم جغرافية
- مجلس التعاون لدول الخليج العربي قد يتخلص من احدي مشكلاته الاجتماعية حال رفع مستوى رفاهية بعض دول مواطني كتلت الايبك
- تحيل كتلت الخليج العربي عبارة عن دولة فان شكلها يميل لشكل الدول البرية البحرية الجزأة

## الاتحاد الاوربي

١- وضع الاتحاد الأوروبي قيودا خاصة بالجانب الاجتماعي للدول المطالبة بالانضمام له ، ويتمثل ذلك في شروط كوبنهاجن .....

- (أ) الاقتصادية  
(ب) السياسية  
(ج) التشريعية  
(د) القانونية

### تذكر أن

- تقل درجة تقدم دول شرق أوروبا من دول وسط وغرب أوروبا . كان سببا في وضع قيود على الالتحاق بالاتحاد الأوروبي
- تظهر قوة الاتحاد الأوروبي في شروط كوبنهاجن التشريعية
- الدولة التي خالفت شروط كوبنهاجن السياسية في الاتحاد الاوربي تقع غرب البحر الادياتي
- بعض الدول من التنوع الثقالي مما جعلها تفرض قيودا على الاقليات بها وهي تنتمي الى دولة الاتحاد الاوربي
- استحدثت وجود اقليات داخل اوربا الى وضع شروط كوبنهاجن الاقتصادية

٢- عقد مؤتمر السكان العالمي في مصر عام ١٩٩٤م لمناقشة تأثير الزيادة السكانية على الجوانب الاقتصادية " بالعالم في ضوء العبارة ، وضح : الهيئة التابعة للاتحاد الأوروبي التي شاركت في المؤتمر هي ..

- (أ) المفوضية الأوروبية.  
(ب) المجلس الأوروبي.  
(ج) البرلمان الأوروبي.  
(د) مجلس الاتحاد الأوروبي.

### تذكر أن

- المؤسسة المنوط بها المحافظة على الالتزامات الدولية داخل الاتحاد الأوروبي
- المفوضية الأوروبية
- تشبه المفوضية الاوربية مجلس الأمن في كونها سلطة مركزية في اتحاد كونفدرالي
- يعد بمثابة وزارة الخارجية بالنسبة للدول الاتحاد الاوربي المفوضية الأوربية
- يفتقد الاتحاد الأوروبي كأحد التكتلات الاقتصادية تشابه النظم السياسية والإدارية

٣- أي مما يلي يمثل واجهة سياسية عالمية للاتحاد الأوروبي ؟ .....

- (أ) السلطة التشريعية.  
(ب) المجلس الأوروبي.  
(ج) الجهاز التنفيذي.  
(د) مجلس الاتحاد الأوروبي.

### تذكر أن

- عقد مؤتمر التغيرات المناخية (COP٢٧) في شرم الشيخ من المتوقع ان يمثل الاتحاد الاوربي في هذا المؤتمر المفوضية الاوربية
- القاسم المشتركة بين المفوضية الاوربية والمجلس الوزاري في مجلس التعاون لدول الخليج العربي في متابعة القرارات او هيئات تنفيذية
- بتشابه المجلس الوزاري بمجلس التعاون لدول الخليج العربي مع المفوضية الاوربية فان كل منهما هيئة تنفيذية
- تتمثل أهم الملامح الديموجرافية لدول الاتحاد الأوروبي في التباين في التعداد السكاني
- توجد علاقة بين مجلس الاتحاد الأوروبي والبرلمان الأوروبي في الوظيفة التشريعية
- تفتقد دول الاتحاد الاوربي السيادة البحرية على بحر قزوين

٤- من أهم ما يميز الاتحاد الأوروبي كتكتل اقتصادي ناجح

- (أ) وجود قوى عسكرية موحدة.  
(ب) أنه اتحاد فيدرالي.  
(ج) وجود دستور واحد.  
(د) تعدد الثقافات واللغات دون تنافر

### تذكر أن

- يتمثل الركائز التي اعتمد عليها في قيام الاتحاد الاوربي على جوانب سياسية
- من المناطق التي يسهل ان يتحقق بها امتزاج ثقافي بسبب مظاهر السطح هي منطقة السهل الاوربي العظيم
- من المناطق التي يصعب ان يتحقق بها امتزاج ثقافي بسبب مظاهر السطح هي ( جنوب غرب أوربا )

٥- تعاني دولة مالطة في علاقتها مع بقية دول الاتحاد الأوروبي من صعوبات خاصة ..

- (أ) الجوانب الاقتصادية  
(ب) الاتصال الأرضي.  
(ج) التركيب الديموجرافي  
(د) النظام السياسي.

### تذكر أن

- قاطرة الاتحاد الاوربي لتحقيق التنمية بفضل قوتها الديموجرافية المانيا
- من دول الاتحاد الاوربي التي تتمتع بالتحكم في مواقع استراتيجية ( ايطاليا واسبانيا وفرنسا وبريطانيا )
- من دول الاتحاد الاوربي تتوقع أن تضم سوقاً ضخمة وعمالة ماهرة ( المانيا )
- من الدول التي يمكن اعتبارها حائط صد المباشر للاتحاد الاوربي في مواجهة الوريث الشرعي للاتحاد السوفيتي السابق ( فنلندا )

٦- توجد علاقة بين مجلس الاتحاد الأوروبي والبرلمان الأوروبي في

- (أ) إصدار القرارات.  
(ب) الوظيفة التنفيذية  
(ج) إبرام المعاهدات  
(د) الوظيفة التشريعية.

### تذكر أن

- يعتبر المجلس الأوروبي قمة مؤسسات الاتحاد الأوروبي بسبب طبيعة تكوينه
- من مؤسسات الاتحاد الأوروبي الآتية هي الأقل تأثيراً في تشريعات الاتحاد الأوروبي المجلس الأوروبي
- يفتقد البرلمان الأوروبي عن بقية مؤسسات الاتحاد الأوروبي التمثيل الشعبي
- يجتمع المجلس الاوربي بالاتحاد الاوربي في بروكسيل بهدف تحديد السياسة الخارجية للاتحاد
- يمثل إصدار قانون جديد لتنظيم الأسواق الرقمية DMA في دول الاتحاد الاوربي من اختصاص البرلمان الاوربي ومجلس الاتحاد

٧- تعد الجهة المسؤولة عن رسم الملامح الرئيسية لسياسة الاتحاد الأوروبي

- (أ) مجلس الاتحاد الأوروبي  
(ب) البرلمان الأوروبي.  
(ج) المجلس الأوروبي.  
(د) المفوضية الأوروبية.

### تذكر أن

- كل الدول التالية لها الحق في التمثيل البرلماني الأوروبي ولكن يخرج عن تلك الدول سويسرا
- كل الدول التالية يمكنها الاستفادة من مزايا الانتاج الكبير في أوروبا ويخرج عنها الدول الغير عضو في التكتل مثل سويسرا والنرويج
- على الرغم من التنوع في الوعاء الثقافي في دول الاتحاد الاوربي إلا انها استطاعت تجاوز هذه الحالة بفضل اعتماد الانجليزية اللغة الرسمية للاتحاد

٤- يمكن اعتباره أهم ما يميز هيئة تسوية المنازعات داخل مجلس التعاون لدول الخليج العربي.....

- (أ) أنه جهاز دائم لتسوية الخلافات.  
 (ب) علاقته مباشرة بالجهاز التنفيذي للمنظمة.  
 (ج) ارتباطه بالأمانة العامة للمنظمة.  
 (د) اعضاؤه غير دائمي العضوية.

#### تذكر أن

- الهيئة المنوط بها في حل المشكلات بين دول الاعضاء مجلس التعاون لدول الخليج العربي يتم تشكيلها من قبل المجلس الاعلى
- القاسم المشتركة بين المجلس الأوربي في الاتحاد الأوربي المجلس الأعلى "في مجلس التعاون لدول الخليج العربي" قمة الاجهزة
- فرض السلام الإقليمي داخل مجلس التعاون لدول الخليج العربي من مهام المجلس الأعلى
- التكتل الاقتصادي الذي يستطيع زيادة عدد وحداته السياسية مع احتفاظه بالمقوم الجغرافي والاثنوجغرافي مجلس التعاون لدول الخليج العربي

٤- من المقومات التي يفتقدها مجلس التعاون لدول الخليج العربي.....

- (أ) وجود قوة عسكرية.  
 (ب) الاتصال الأرضي ووحدة الثقافة  
 (ج) توافر العمالة المحلية وتنوع الموارد.  
 (د) التعريف الجمركية الموحدة.

#### تذكر أن

- من اصغر التكتلات الاقتصادية الموجودة على الخريطة السياسية من حيث الوزن السكاني " القوة المورفولوجية " مجلس التعاون لدول الخليج العربي
- يفتقر مجلس التعاون لدول الخليج العربي الى التنوع المناخي والتنوع الاقتصادي
- " التباين في الثقافات والعادات " بسبب الهجرة الغير شرعية والرسمية او نقص العمالة المحلية

٦- توجد بعض الاختصاصات المتشابهة في كل من المجلس الوزاري بمجلس التعاون لدول الخليج العربي و.....

- (أ) المجلس الأوروبي.  
 (ب) المفوضية الأوروبية.  
 (ج) مجلس الاتحاد الأوروبي.  
 (د) البرلمان الأوروبي.

#### تذكر أن

- بتشابه المجلس الوزاري بمجلس التعاون لدول الخليج العربي مع المفوضية الأوروبية فان كل منهما هيئة تنفيذية
- الإشراف على مشروعات التنمية وتطويرها بين دول مجلس التعاون للخليج العربي مسئولية المجلس الوزاري
- من المؤسسات الاتحاد الأوربي الاقرب في مهامه من المجلس الوزاري لمجلس التعاون لدول الخليج العربي المجلس الوزاري
- إعداد جدول اعمال الاجتماعات داخل مجلس التعاون لدول الخليج العربي من اختصاص الامانة العامة ( هيئة الادارية المركزية )
- أذا تحقق مشروع العملة الموحدة بين دول مجلس دول الخليج العربي يعنى وصول التكتل الى الوحدة الاقتصادية
- القاسم المشترك بين الاتحاد الأوربي ومجلس التعاون لدول الخليج العربي في امتلاك القوى العسكرية
- يتميز الاتحاد الأوربي عن مجلس التعاون لدول الخليج العربي في اصدار عملة موحدة

## مجلس التعاون للدول الخليج العربي

١- يمكن للدول المنضمة لمجلس التعاون لدول الخليج العربي ألا تلجأ لمحكمة العدل الدولية في حال وجود مشكلة بينهم، وذلك بسبب.....

- (أ) وجود درع الجزيرة المشتركة.  
 (ب) إمكانية تشكيل هيئة تسوية النزاعات.  
 (ج) وجود جهاز تنفيذي للمجلس.  
 (د) وجود سوق خليجية مشتركة.

#### تذكر أن

- يتميز الاتحاد الأوروبي عن مجلس التعاون لدول الخليج العربي في إصدار عملة موحدة من المقومات التي يفتقدها مجلس التعاون لدول الخليج العربي توافر العمالة المحلية وتنوع الموارد
- أقرب الدول للانضمام لمنظمة مجلس التعاون لدول الخليج العربي من الناحية الجغرافية العراق

٢- استطاع مجلس التعاون لدول الخليج العربي كأحد التكتلات الاقتصادية....

- (أ) توحيد النظم السياسية بين الدول الأعضاء.  
 (ب) تحديد تعريف موحدة على السلع المستوردة.  
 (ج) تنسيق السياسات المالية والنقدية بين الأعضاء.  
 (د) تنوع الإنتاج بطريقة اقتصادية.

#### تذكر أن

- يرجع اهتمام دول الخليج العربي بإنشاء الاتحاد الجمركي إلى زيادة وارداتها من السلع المختلفة
- يتشابه مجلس التعاون لدول الخليج العربي مع الاتحاد الأوروبي في كونها اتحادين كوندرايين
- يتمثل الشبه بين المجلس الأعلى بمجلس التعاون لدول الخليج العربي والمجلس الأوروبي بالاتحاد الأوروبي في. أفرادهما بالتخطيط الاستراتيجي

٣- يتميز الاتحاد الأوروبي عن مجلس التعاون لدول الخليج العربي في..

- (أ) الاتصال الجغرافي  
 (ب) وجود قوة عسكرية موحدة.  
 (ج) رفع الحواجز الجمركية.  
 (د) إصدار عملة موحدة.

#### تذكر أن

- من أهم مهام المجلس الأعلى لمجلس التعاون لدول الخليج العربي الحفاظ على الأمن الإقليمي بين أعضاء التكتل
- أهم نقاط القوة الطبيعية في مجلس التعاون لدول الخليج العربي سهولة الاتصال بين دوله
- أقرب دول مجلس التعاون الخليج العربي تشابهاً مع الولايات المتحدة الأمريكية من حيث شكل الدولة " دول سلطنة عمان
- الركيزة التي يقوم عليها اقتصاد تجمع مجلس التعاون للدول الخليج العربي على مصادر الطاقة الحضرية

٤- تعد التكتلات الاقتصادية أحد سمات العصر الحديث . في ضوء العبارة السابقة :  
يتشابه الاتحاد الأوروبي مع الكوميسا في.....

- (أ) المستوى التكنولوجي.  
(ب) تنوع الموارد الاقتصادية.  
(ج) إصدار عملة موحدة.  
(د) التجانس الثقافي للسكان.

### تذكر أن

- تخيل تكتل الكوميسا عبارة عن دولة واحدة فان شكلها يميل الشكل البري البحري مجزأ
- تبدأ مرحلة التملك والاستثمار داخل الكوميسا التكتل الاقتصادي في مرحلة السوق المشتركة (المرحلة الرابعة)
- بتحليل خريطة التكتل الاقتصادي "الكوميسا" نستنتج ان دول المقر تتميز ب تواجه مشكلا الاحتكاك الحضاري او الاتصال الخارجي
- تتميز الكوميسا عن باقي التكتلات الاقتصادية الأخرى بمرحلة التجارة التفضيلية

٥- بتحليل التجارة البينية بين مصر وبقية دول الكوميسا نستنتج أن.....

- (أ) اتجاه الطرفين لتكتلات اقتصادية أخرى.  
(ب) الميزان التجاري لصالح مصر.  
(ج) الميزان التجاري في صالح بقية دول الكوميسا..  
(د) ضعف التبادل التجاري بين الطرفين.

### تذكر أن

- من تمثل مصر بالنسبة للتكتل الكوميسا قاطرة التنمية في تجمع الكوميسا و مصدر الثقل السكاني
- يمكن للمصريين السفر إليها دون تأشير اي دولة عضو في الكوميسا مثل زيمبابوي والصومال
- يعد من النتائج السياسية لانضمام مصر لتكتل الكوميسا التأكيد على دور مصر الريادي الأفريقي
- أهم المكاسب الاقتصادية التي حققتها مصر من الانضمام الى تكتل الكوميسا تحسين الميزان التجاري المصري

٦- تتمثل الغاية النهائية للسوق المشتركة لدول الشرق والجنوب الأفريقي في .

- (أ) رفع الحواجز الجمركية بين الدول.  
(ب) حرية انتقال السلع بين الدول  
(ج) حرية انتقال عناصر الإنتاج.  
(د) توحيد السياسات الاقتصادية بين الدول.

### تذكر أن

- تبادل السلع بين زامبيا وكينيا بقيمة منخفضة يعنى دخول الدولتان مرحلة التجارة التفضيلية
- يفتقد التكتل الاقتصادي الكوميسا الى التجانس السكاني
- من دول الكوميسا التي تتحكم في طرق التجارة العالمية ( الصومال وجيبوتي - مصر)
- السوق الراحبة من اهم المزايا التي يتميز بها تجمع الكوميسا يرتبط ذلك بالوزن السكاني
- يصعب على دولة ليسوتو الانضمام الى تجمع الكوميسا بسبب التبعية السياسية للدول جنوب افريقيا او بسبب شكل الدولة

## ٤: السوق المشتركة لدول شرق وجنوب افريقيا ( الكوميسا )

١- تتوقع في حالة تحول منظمة الكوميسا بهيكلها التنظيمي القائم إلى شركة متعددة الجنسيات فإن ذلك سيؤدي إلى.....

- (أ) الحفاظ على السيادة الوطنية للدول الأعضاء.  
(ب) سيطرة الدول الكبرى عليها.  
(ج) زيادة حجم التبادل التجاري بين الدول الأعضاء  
(د) زيادة السيادة الإقليمية لدولة زامبيا

### تذكر أن

- أكثر التكتلات الاقتصادية احتياجاً الى التعامل مع منظمة اليونيدو للزيادة دخلها من التصنيع بدلا من تصدير مواردها الأولية خام الكوميسا
- تتمثل الغاية النهائية للسوق المشتركة لدول الشرق والجنوب الأفريقي في توحيد السياسات الاقتصادية بين الدول
- تتعدد اهداف مجلس اعمال السوق المشتركة لدول شرق وجنوب أفريقيا منها دعم القطاع الخاص لمواجهة المنافسة الخارجية

٢- من المتوقع عند تحول دولة الكونغو الديمقراطية إلى الشكل المندمج بدون بروز فإن ذلك سوف يؤثر على منظمة الكوميسا من خلال.....

- (أ) زيادة صلاتها التجارية مع العالم الخارجي.  
(ب) صعوبة اتصالها بدول العالم الجديد.  
(ج) تطور علاقاتها مع بقية الدول الأفريقية.  
(د) صعوبة تطبيق مرحلة التجارة الحرة.

### تذكر أن

- ما ضاع حق وراءه مطالب استفادت الجغرافيا السياسية في حل احد المشكلات السياسية الحدودية لاحد الدول التي تنتمي للتكتل الاقتصادي الكوميسا
- من دول قارة التي تسعى لإقامة اتحاد جمركي للتغلب على سلبيات الموقع أي دولة داخلية او حبيسة مثل جنوب السودان
- من دول الكوميسا التي تفتقد الى الاحتكاك الحضاري او التواصل مع العالم الخارجي (دولة داخلية او حبيسة) زامبيا

٣- تعد مشاركة مصر في مجلس أعمال الكوميسا دليلا على.....

- (أ) مساهمة المرأة المصرية في الإنتاج.  
(ب) التقدم الاقتصادي لمنظمة الكوميسا.  
(ج) مساهمة مصر في تأسيس الكوميسا  
(د) مدى التقدم العلمي للسكان.

### تذكر أن

- انضمام مصر إلى مجلس أعمال الكوميسا يعد مؤشر على أهمية دور المرأة في العمل والانتاج
- السوق الراحبة من اهم المزايا التي يتميز بها تجمع الكوميسا يرتبط ذلك بالوزن السكاني
- يصعب على دولة ليسوتو الانضمام الى تجمع الكوميسا بسبب التبعية السياسية للدول جنوب افريقيا او بسبب شكل الدولة
- الهدف الاسمى الذى تسعى اليه الدول فى الانضمام الى تجمع الكوميسا هو تحقيق الوحدة الاقتصادية

١٠- وصلت مرحلة الوحدة الاقتصادية داخل الكوميسا إلى ..... .

- منح السلع المحلية امتيازات جمركية
- تشابه القوانين المنظمة للسوق المشتركة.
- خضوع السلع المستوردة لجمرك موحد داخل التكتل
- تدفق رؤوس الأموال بحرية تامة بين دول التكتل.

### تذكر أن

- من أهم مهام المجلس الأعلى لمجلس التعاون لدول الخليج العربي الحفاظ على الأمن الإقليمي بين أعضاء التكتل
- أهم نقاط القوة الطبيعية في مجلس التعاون لدول الخليج العربي سهولة الاتصال بين دوله
- أقرب دول مجلس التعاون الخليجي تشابها مع الولايات المتحدة الأمريكية من حيث شكل الدولة " دول سلطنة عمان

١١- تتعدد أهداف وكالة الاستثمار الإقليمية للكوميسا ومنها..... .

- دعم استثمارات القطاع الخاص بالدول الأعضاء.
- دعم التنافس في منطقة الكوميسا.
- إلقاء الضوء على أهم مناطق التوسع الزراعي.
- حماية المستهلك داخل دول التكتل.

### تذكر أن

- من أهداف مجلس الاعمال الكوميسا دعم رجال الاعمال بالإقليم لمواجهة المنافسة الخارجية
- من أهداف مجلس اعمال الكوميسا دعم الهيئات الغير حكومية ( القطاع الخاص)
- من اهداف وكالة الاستثمار الاقليمية للكوميسا لقاء الضوء على المناطق الزراعية السياحية او الصناعية لجذب الاستثمارات في تلك القطاعات
- المؤسسات التابعة لمنظمة الكوميسا المسئولة على حماية المنافسة والتزام اعضاء بالقوانين المنظمة مفوضية المنافسة

١٢- من خلال دراستك للخريطة الكوميسا

يمكن تسهيل عملية التنمية الاقتصادية واقامة مشروعات مشتركة بين دولتي

- السودان وجنوب افريقيا (أ)
- الجزائر وليبيا (ب)
- سوازيلاند وجنوب افريقيا (ج)
- زامبيا وزيمبابوي (د)

### تذكر أن

- من المتوقع تزداد واردات دول الكوميسا من بعض المنتجات المصرية مثل الادوية والحديد و الصلب واللدائن
- بتحليل الصادرات المصرية داخل تكتل الكوميسا نجد ان مصر تمتلك صناعات استراتيجية
- يقع مقر منظمة الكوميسا في دولة جيبسة
- كان للجغرافيا السياسية دوراً في حل بعض المشكلات المرتبطة بالوقود الحفري في بعض التكتلات الاقتصادية اتحاد المغرب العربي أو الكوميسا
- وصلت الوحدة الاقتصادية داخل الكوميسا الى منح السلع المحلية امتيازات جمركية
- دولة عربية تعد قاطرة تربط بين تكتلين اقتصاديين أحدهما أثوغرافي خالص تونس
- من الفوائد الاقتصادية التي تعود على مصر من الانضمام لتكتل الكوميسا زيادة الصادرات المصرية من المواد المصنعة

٧- من أهداف مجلس أعمال السوق المشتركة لدول شرق وجنوب أفريقيا..... .

- تحويل منطقة الكوميسا لمنطقة جذب استثماري.
- دعم رجال الأعمال بالإقليم لمواجهة المنافسة الخارجي
- حماية ودعم التنافس بين دول الكوميسا.
- تقديم الخدمات اللوجستية لدول الكوميسا

### تذكر أن

- دفع عجلة التنمية الاقتصادية داخل تجمع منظمة الكوميسا بجوانب سياسية (تحقيق الاستقرار والامن)
- تبادل السلع بين زامبيا وكينيا بقيمة منخفضة يعنى دخول الدولتان مرحلة التجارة التفضيلية
- أولى خطوات تعزيز التكامل الاقتصادي بين دول الكوميسا من خلال تخفيض الرسوم الجمركية

٨- تمثل دولة مصر بالنسبة لتكتل الكوميسا..... .

- مصدر الثقل السكاني.
- مصدر المعظم المواد الأولية.
- إحدى الدول المؤسسة للتكتل.
- المقر الرئيسي للتكتل.

### تذكر أن

- تبادل السلع داخل دول الكوميسا بدون رسوم جمركية يحدث في مرحلة التجارة الحرة
- يختفى دور الحدود السياسية كوظيفة اقتصادية عند الانضمام الى تجمع الكوميسا في مرحلة التجارة الحرة
- انضمام مصر إلى مجلس أعمال الكوميسا يعد مؤشر على اهمية دور المرأة في العمل والانتاج

٩- يمنح الأشخاص المنتمون لدول تكتل الكوميسا تأشيرة المرور بين تلك الدول في

حالة الوصول لمرحلة..... .

- التجارة التفضيلية.
- التجارة الحرة.
- السوق المشتركة.
- الاتحاد الجمركي

### تذكر أن

- يملك الأشخاص المنتمون لدول تكتل الكوميسا تأشيرة المروري تلك الدول في حالة الوصول لمرحلة السوق المشتركة
- مرحلة تعزيز التكامل الاقتصادي بين دول الكوميسا التي اهتمت بالبعد الاجتماعي السوق المشتركة
- اقامة مشروعات استثمارية داخل دول الكوميسا تتم من خلال السوق المشتركة
- التجارة البينية بين دول الكوميسا ومصر لصالح الميزان التجاري المصري
- استفادت مصر بالانخراط في مجتمع شرق وجنوب افريقيا من الناحية سياسية
- من حيث التعرف على مشكلات القارة الافريقية
- من المزايا السياسية الناتجة عن مشاركة مصر في منظمة الكوميسا ادارة الحوار
- لضرب الامن والاستقرار بين الدول الاعضاء

### الأحلاف العسكرية

1- يعد من أهداف الأحلاف العسكرية تنمية التعاون الاقتصادي والاجتماعي بين الدول الأعضاء. في ضوء العبارة السابقة

قد يواجه حلف الناتو بعض الصعوبات لتحقيق هذا الهدف بسبب افتقاد أعضائه

- (أ) المقومات الجغرافية. (ب) الحجم السكاني المناسب.  
(ج) التقارب التكنولوجي (د) تنوع الأنشطة الاقتصادية.

#### تذكر أن

- يشابه دور الاحلاف العسكرية في حل النزاعات بين الدول الاعضاء مع دور المجلس الاعلى للدول التعاون
- السبب الدفين وراء نشأة الاحلاف العسكرية حماية الامن القومي والإقليمي للدول
- يرتبط زيادة انتشار الاحلاف العسكرية في العصر الحديث للصراع الايدلوجي وقيام الحرب الباردة
- من الاهداف السياسية لنشأة الاحلاف العسكرية تسوية النزاعات بطرق السلمية

- دولة تستطيع الدفاع عن نفسها دون استنزاف مواردها

- (أ) البرازيل (ب) اليونان  
(ج) السويد (د) الصين

#### تذكر أن

- دولة تستطيع الدفاع عن نفسها دون استنزاف مواردها هي عضو في حلف عسكري
- دولة تنتمي الى لحلف عسكري يخترقها دائرة عرض ٢٣ جنوباً استراليا
- ولة تنتمي الى لحلفين عسكريين يقطعها خط طول صفر بريطانيا
- اتسع نطاق الدخول في الاحلاف العسكرية نتيجة الصراع الايدلوجي
- الهدف الدفين في نشأة الاهداف العسكرية ردع الاعداء

- أي من القارات الآتية تُعد الأكثر في عدد الدول التي تتبع حالياً استراتيجية التسليح الجماعي؟ .....

(أ) أفريقيا وأمريكا الجنوبية.

(ب) أوروبا وأفريقيا.

(ج) أمريكا الشمالية وأمريكا الجنوبية.

(د) أوروبا وأمريكا الشمالية.

#### تذكر أن

- من الاحلاف العسكرية التالية ضمت في عضويتها معظم دول الاتحاد الاوربي حلف شمال الاطلسي
- اكثر الاحلاف العسكرية تشابه مع كتل الايبك من حيث مدى الجغرافي جنوب شرق آسيا
- ارتبط نشأة حلف وارسو والاطلنطي ب احدى الدول المشرفة على البحر الباطني
- من الاحلاف العسكرية التالية يمتد نطاقها بين نصفي الكرة الارضية حلف جنوب شرق آسيا
- اكثر الاحلاف العسكرية التي تم حلها امتداد وانتشارا على الخريطة السياسية حلف جنوب شرق آسيا
- تشابه الاحلاف العسكرية مع التكتلات الاقتصادية في الظهور والاختفاء على خريطة العالم.

- حدثت في الأونة الأخيرة مشكلة على تقسيم المياه بين تركيا واليونان وعند تدخل حلف الناتو في تلك المشكلة سوف تتحقق أحد أهداف الأحلاف العسكرية وهي

- (أ) ربع الأعداد  
(ب) تسوية النزاعات سلمياً بين الأعضاء  
(ج) زيادة القوة.  
(د) تنمية التعاون الاجتماعي بين الأعضاء

#### تذكر أن

- اكثر الاحلاف العسكرية تشابه مع كتل الايبك من حيث مدى الجغرافي جنوب شرق آسيا
- عرفت البشرية منذ فجر التاريخ كلا من العلاقة الدولية والاحلاف العسكرية
- حقق نشأة الاحلاف العسكرية العديد من الاهداف ولكن يخرج عن تلك الاهداف التي لم تتحقق بصورة واضحة حماية موارد الدول الاقتصادية
- تختلف التكتلات الاقتصادية عن الاحلاف العسكرية في الوحدة الجغرافية بين الاعضاء

- في ضوء تحليلك لخريطة توزيع الأحلاف العسكرية نستنتج اشتراك دولة عربية في أحد هذه الأحلاف وهي ...

- (أ) مصر (ب) العراق  
(ج) لبنان (د) ليبيا

#### تذكر أن

- الدول الاسلامية في شبه الجزيرة الهندية تشترك كل منهما حلف جنوب شرق آسيا
- الدول العربية التي انضمت الى الحلف المركزي تتميز بتمتلك واجهة بحرية صغيرة بالنسبة لمساحتها
- الاحلاف العسكرية التي يمتد نطاقها بين نصفي الكرة الارضية جنوب شرق آسيا
- القارات التي حرمت من مزايا الدخول في احلاف عسكرية تتمثل في افريقيا وامريكا الجنوبية

- يمكن اعتباره أحد أهداف تشكيل الأحلاف العسكرية ..

- (أ) زيادة ميزانيات الجيوش المتحالفة.  
(ب) المحافظة على استدامة الموارد.  
(ج) تبني سياسات عسكرية هجومية  
(د) التوسع على حساب الدول المجاورة.

#### تذكر أن

- من الدول الآسيوية التي كانت عضو في حلفين عسكريين بالعالم القديم باكستان
- من الدول العالم التي كانت عضو في حلفين عسكريين احدهما " المركزي والناتو " بريطانيا وفرنسا والولايات المتحدة الأمريكية
- الاحلاف العسكرية التي ضمت في عضويتها معظم دول الاتحاد الاوربي حلف شمال الاطلسي
- اهم المسطحات المائية التي تفصل بين مؤسسي اكبر حلفين عسكريين في النصف الثاني من القرن ٢٠ المحيط الهادي
- دولة تنتمي الى لحلفين عسكريين يقطعها خط طول صفر (خط جرينتش ) بريطانيا ذات نظام برلاني - دولة جزرية

## أولاً- حلف شمال الأطلسي

- ١- حدثت في الآونة الأخيرة مشكلة على تقسيم المياه بين تركيا واليونان وعند تدخل حلف الناتو في تلك المشكلة سوف تتحقق أحد أهداف الأحلاف العسكرية وهي
- (أ) ربع الأعداد (ب) تسوية النزاعات سلمياً بين الأعضاء (ج) زيادة القوة. (د) تنمية التعاون الاجتماعي بين الأعضاء

### تذكر أن

- إحدى الدول الأعضاء بحلف الناتو ولها سيادة على بعض المناطق العربية الآن إسبانيا
- يمكن أن نشاهد محاولات حلف الناتو للخروج من إطار حيزه المكاني من خلال مساهمته في تخفيف آثار زلزال باكستان
- يؤكد قيام حلف الناتو عام ٢٠١١م بجملة جوية في ليبيا على دوره في الأزمات بالشرق الأوسط

## ٢- اتسمت فترة الحرب الباردة بين المعسكرين الشرقي والغربي بـ

- أ- تفوق المعسكر الغربي ب تفوق المعسكر الشرقي
- ج- المنافسة الاستعمارية د- الاستقطاب العالمي

### تذكر أن

- فشل حلف شمال الأطلسي في تحقيق أحد أهداف الأحلاف العسكرية المتمثلة في الابتعاد عن سياسة التسليح المنفرد
- يرجع الهدف الأساسي في اسراع الولايات المتحدة الى نشأة حلف شمال الأطلسي حماية الكيان الاقليمي والامن القومي
- أكبر الدول في حلف الناتو من حيث القوة المورفولوجية والديموغرافي تقع في النصف الشمال الغربي (الولايات المتحدة الأمريكية)

## ٣- أي من الدول الآتية تبنت سياسة الحياد العسكري والاقتصادي؟....

- (أ) بيرو (ب) المكسيك
- (ج) زامبيا (د) سويسرا

### تذكر أن

- ارتبط نشأة حلف وارسو والأطلسي بالتغيرات السياسية في ألمانيا
- يقع مقر حلف شمال الأطلسي ميثاق الامم المتحدة في شمال مدار السرطان
- عرفت البشرية منذ فجر التاريخ كلا من . العلاقة الدولية والاحلاف العسكرية
- الدول التالية اعضاء في حلف عسكري والتجمع الاقليمي الاقتصادي في اوربا ولكن يخرج عن هذا النطاق ايسلندا
- تتفرد قارة اوربا بانها مقرأ الاحلاف العسكرية
- تدخل حلف شمال الأطلسي في حل احد المشكلات الناتجة عن عوامل باطنية (كوارث طبيعية) في جنوب آسيا
- تدخل حلف شمال الأطلسي في حل احد المشكلات الناتجة عن التغيرات المناخية (كوارث طبيعية) في امريكا الشمالية
- اعتمدت استراتيجية رعماء حلف الناتو في المستقبل على تطبيق الفكر الديناميكي من الناحية السياسية

## ٤- تشابهت جهود حلف شمال الاطلسي في حفظ السلام ودور الامم المتحدة السياسي في منطقة

- أ-شرق البحر الادرياتي ب-شرق بحر الشمال
- ج-شمال بحر قزوين د- شرق البحر الاحمر

### تذكر أن

- من اهم الادوار التي يحاول حلف الناتو القيام بها في الوقت الحالي الفصل في المنازعات الدولية
- اتسم دور هيئة الامم المتحدة بالسلبية في التعامل مع بعض القضايا الدولية في النصف الثاني من القرن ٢٠ قوة الكتلتين الشرقية والغربية
- من دول حلف شمال الأطلسي الذي يختفي بها الأثر الديموجرافي في نشأة حدودها السياسية بريطانيا
- اهم ما يميز قارة اوربا الآن بانها مقرأ للأحلاف العسكرية

٥- تم وضع ميثاق حلف شمال الأطلسي في دولة تتسم ب.....

- أ-تحقيق الديمقراطية واحترام حقوق الانسان
- ب-وجود مشكلة في الاتصال والدفاع عن الدولة
- ج-المسافة من المركز الى الاطراف على ابعاد متساوية
- د-الوحدة الوطنية واختلاف الخصائص الثقافية

### تذكر أن

- يقع مقر حلف شمال الاطلسي في دولة تقع على الاطراف الغربية من السهل الأوروبي العظيم
- مدينة واشنطن التي تم توقيع ميثاق حلف الناتو والامم المتحدة تنتمي لدول اتحاد فيدرالي وذات نظام رئاسي ودولة مجزأة برية
- حلف الناتو الاكثر حظا في تنوع الثروة المعدنية والقدرة انتاج الصناعات الاستراتيجية كندا والولايات المتحدة
- الدول الاقل ضرازا من التعرض للكوارث الطبيعية من دول حلف الناتو الولايات المتحدة الأمريكية وكندا
- من دول حلف الناتو التي يقل بها فاعلية الانشطة البشرية بها بسبب موقعها ايسلندا والنرويج وشمال كندا

## ٦- يعد من أهداف الأحلاف العسكرية تنمية التعاون الاقتصادي والاجتماعي بين

الدول الأعضاء». في ضوء العبارة السابقة قد يواجه حلف الناتو بعض الصعوبات لتحقيق هذا الهدف بسبب افتقاده أعضاء ل.....

- (أ) المقومات الجغرافية. (ب) الحجم السكاني المناسب.
- (ج) التقارب التكنولوجي (د) تنوع الأنشطة الاقتصادية.

### تذكر أن

- من أهم الأدوار التي يحاول حلف الناتو القيام بها في الوقت الحالي الفصل في المنازعات الدولية
- ارتبط انضمام بعض دول أوروبا الشرقية لحلف الناتو بانتهاء الصراع الأيديولوجي
- كان لتشكيل حلف الناتو تأثيراً سلبياً على الولايات المتحدة الأمريكية تمثل فيمباغتتها في الإنفاق العسكري
- يتمثل عجز حلف وارسو والناتو عن تحقيق أحد أهداف الأحلاف العسكرية بشكل واضح استنزاف الموارد الاقتصادية

١١- ترتب على حدوث نزاعات غير مسلحة بين قطبي العالم في النصف الثاني من القرن العشرين إلى الاتجاه نحو .....

- (أ) قلة الإنفاق العسكري. (ب) تكوين التكتلات الاقتصادية  
(ج) انتشار الأحلاف العسكرية (د) إنشاء الأمم المتحدة.

### تذكر أن

- الآثار السياسية الناتجة لتفكك الاتحاد السوفيتي انتصار الرأسمالية الأمريكية
- من الآثار العسكرية الناتجة عن تفكك الاتحاد السوفيتي **الغاء الهيكل العسكري لحلف وارسو**
- من الآثار الاجتماعية الناتجة لتفكك الاتحاد السوفيتي ظهور الاقليات القومية
- اعتمدت استراتيجيات زعماء حلف الناتو في المستقبل على تطبيق مفهوم **الجيوپولتيك من الناحية السياسية**

١٢- « تقع جبال القوقاز غرب الاتحاد السوفيتي السابق وهي غنية بالمعادن، كما تقع جبال روكي غرب الولايات المتحدة الأمريكية وهي أيضاً غنية بالمعادن ». في ضوء العبارة وضح : لعبت الجبال في الاتحاد السوفيتي السابق والولايات المتحدة الأمريكية دوراً هاماً في .....

- (أ) الصراع بينهما. (ب) توازن القوى بينهما.  
(ج) تشابه الفكر الأيدولوجي (د) انتهاء الحرب الباردة

### تذكر أن

- شهد العقد الأخير من الألفية الثانية جهود حلف شمال الأطلسي في حفظ السلام
- إعادة الاستقرار في احد الدولة المشرفة على **بحر الاديارينكي**
- اهم المسطحات المائية التي تفصل بين مؤسسي اكبر حلفين عسكريين في النصف الثاني من القرن **المحيط الهادي**
- أكبر دول حلف شمال الأطلسي من حيث القوة المورفولوجية **كندا والولايات المتحدة** من المدن التي كانت السبب الرئيسي في بداية ظهور الاحلاف العسكرية **برلين**

١٣- يُعد تدخل حلف الناتو لتخفيف آثار زلزال باكستان تعبيراً عن .....

- (أ) أسباب نشأته. (ب) جهوده العسكرية  
(ج) استراتيجيته الجديدة (د) زيادة عدد أعضاؤه.

### تذكر أن

- الآثار السياسية الناتجة لتفكك الاتحاد السوفيتي انتصار الرأسمالية الأمريكية
- من الآثار العسكرية الناتجة عن تفكك الاتحاد السوفيتي **الغاء الهيكل العسكري لحلف وارسو**
- من الآثار الاجتماعية الناتجة لتفكك الاتحاد السوفيتي ظهور الاقليات القومية
- بدأ زعماء الحلف الناتو يعيدون النظر في استراتيجيات الحلف اواخر القرن ٢٠ بسبب **انتهاء الصراع الأيدولوجي - الحرب الباردة**
- تدخل حلف الناتو في السنوات الأخيرة في الشؤون الداخلية للشرق الاوسط واوريا سواء سياسياً أو عسكرياً من نتائج **انتهاء الصراع الأيدولوجي - انتهاء الحرب الباردة - الغاء الهيكل العسكري للحلف وارسو**

٧- تتشابه الأحلاف العسكرية مع التكتلات الاقتصادية في .....

(أ) عدد الدول الفعلية المنضمة

- (ب) أقدمية الانتشار على خريطة العالم.  
(ج) الظهور والاختفاء على خريطة العالم.  
(د) تركيز وجودها في الدول المتقدمة

### تذكر أن

- اتفق كل من عبد الرحمن بن خلدون وفرديريك راتزل مع نظرتهم للدولة والتي تحققت في **الحلف المركزي**
- تزامن الخلاف بين الهند وباكستان مع تأسيس **حلف الناتو**
- من الآثار الناتجة عن نشأة حلف شمال الأطلسي وحلف وارسو الى تدهور **الاقتصاد المحلي للدولتين**
- تأثر مستوى المعيشة والاقتصاد الأمريكي والروسي بعد الحرب العالمية الثانية بالصراع الأيدولوجي او بالحرب الباردة نتيجة **نشأة الاحلاف العسكرية**
- فشلت منظمة الامم المتحدة في تحقيق اهدافها نتيجة للصراع الأيدولوجي وقيام **الحرب الباردة**
- من أهم الأدوار الإيجابية لحلف الناتو في القارة الآسيوية **بعمليات الإغاثة في باكستان**

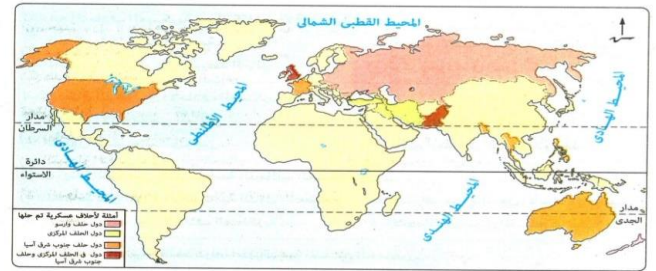
٨- شهد بداية عام ٢٠٢٣ م التصاعد الشديد للأزمة بين أوكرانيا الراغبة في الانضمام لحلف الناتو وروسيا التي تعارض ذلك، تتوقع أن يرجع هذا الرفض الروسي إلى .....

- (أ) قوة أوكرانيا العسكرية والسياسية  
(ب) رغبتها في وقف توسع الحلف شرقاً.  
(ج) رغبتها في زيادة دور الأمم المتحدة.  
(د) ضعف روسيا سياسياً وعسكرياً.

### تذكر أن

- تركزت جهود زعماء حلف الناتو بعد الغاء الهيكل العسكري لحلف وارسو على **جوانب انسانية (اجتماعية) - عسكرية -**
- تركزت جهود حلف شمال الأطلسي في عام ٢٠٠٦ على **جوانب انسانية**
- يتركز جهود حلف شمال الأطلسي في السنوات الأخيرة على **جوانب سياسية**

٩- من خلال الخريطة التالية يتضح وجود دولة آسيوية كانت عضو في حلفين عسكريين بالعالم القديم هي .....



- (أ) العراق  
(ب) باكستان  
(ج) إيران  
(د) بريطانيا

### تذكر أن

- من أهم الأدوار التي يحاول حلف الناتو القيام بها في الوقت الحالي **الفصل في المنازعات الدولية**
- ارتبط انضمام بعض دول أوروبا الشرقية لحلف الناتو **انتهاء الصراع الأيدولوجي**

## ثانياً: حلف وارسو

١- يظهر عدم التزام بعض دول حلف وارسو بميثاق الصداقة والتعاون والمساعدة المتبادلة بدليل.....

- (أ) إضعاف هيئة الأمم المتحدة.  
(ب) التدخل في الشؤون الداخلية لبعض الدول  
(ج) عدم انضمام الصين للحلف.  
(د) انضمام تشيكوسلوفاكيا للحلف.

### تذكر أن

- أدت محاولات جورباتشوف الاقتصادية إلى زيادة هيمنة الرأسمالية عالمياً
- ارتبط توقيع معاهدة الصداقة والتعاون والمساعدة المتبادلة بشكل مباشر تأسيس حلف الناتو ١٩٤٩م
- الدولة التي تعهدت بدعم أعضاء حلف وارسو هي دول وحدوية كبيرة المساحة
- تنفرد قارة أوروبا في كونها مقراً للأحلاف العسكرية ( وارسو بولندا ) و ( بروكسيل بلجيكا

٢- كانت الدولة الأقرب أيديولوجياً لدول حلف وارسو هي.....

- (أ) الهند.  
(ب) الصين.  
(ج) كندا.  
(د) مصر.

### تذكر أن

- من أهم الأدوار التي يحاول حلف الناتو القيام بها في الوقت الحالى الفصل في المنازعات الدولية
- ارتبط انضمام بعض دول أوروبا الشرقية لحلف الناتو انتهاء الصراع الأيديولوجي
- كان لتشكيل حلف الناتو تأثيراً سلبياً على الولايات المتحدة الأمريكية تمثل فيمبالفتها في الإنفاق العسكري

٣- أي مما يلي ساهم في انتهاء الصراع الأيديولوجي العالمي؟.....

- (أ) سياسة جورباتشوف الاقتصادية.  
(ب) انقسام دولة ألمانيا.  
(ج) نشأة حلف وارسو.  
(د) نشأة حلف الناتو.

### تذكر أن

- ارتبطت سياسة الرئيس السوفيتي جورباتشوف منتصف الثمانينيات من القرن الـ ٢٠م بإصلاح القوة التنظيمية والاقتصادية
- قدم الشركاء الأجانب للسوفيتي رأس المال والتكنولوجيا والخبرات المختلفة أواخر القرن العشرين . توضح العبارة محاولة إعادة هيكلة البناء الاقتصادي للاتحاد السوفيتي
- تمثل العامل الرئيسي لسقوط حلف وارسو التباطؤ الاقتصادي لدول الحلف
- أكثر الدول التي استفادت من تفكك الاتحاد السوفيتي بولندا
- تشابهت سياسات الرئيس جورباتشوف في إعادة البناء الاقتصادي للاتحاد السوفيتي مع ميثاق حلف وارسو في الانفتاح السياسي
- يتمثل الحلف العسكري الذي ارتبط اختفاءه بزيادة عدد دول قارتي آسيا وأوروبا في حلف وارسو

٤- أهم الأسباب التي ساعدت على انهيار حلف وارسو بسهولة.....

- (أ) التقسيم السياسي والإداري للاتحاد السوفيتي  
(ب) التفوق السكاني للكتلة الغربية.  
(ج) ضعف الاتحاد السوفيتي العسكري.  
(د) صغر مساحات الدول المشكلة للحلف.

### تذكر أن

- أعلنت دولة روسيا في عام ١٩٩١م حل حلف وارسو رسمياً ويرجع ذلك إلى عدم القدرة على منافسة النظام الرأسمالي الغربي
- كانت سياسة جورباتشوف الاقتصادية أثرها انعكاساتها على الهيكل العسكري لحلف وارسو
- يمثل ما حدث لحلف وارسو أواخر القرن العشرين يتوافق مع افكار ( بن خلدون وراتزل ) في مراحل تطور الدولة

٥- تم انتهاك ميثاق حلف وارسو من قبل.....

- (أ) المانيا  
(ب) الاتحاد السوفيتي  
(ج) تشيكوسلوفاكيا  
(د) ألبانيا

### تذكر أن

- انسحبت دولة ألبانيا من حلف وارسو نتيجة مخالفة الاتحاد السوفيتي لأهداف الحلف
- يعبر عن أحد التناقضات التي عانى منها الحلف العسكري للكتلة الشرقية ( وارسو تعامل الاتحاد السوفيتي مع ثورة تشيكوسلوفاكيا
- ظهر أول تناقص في أعداد الدول المؤسسة لحلف وارسو نتيجة عدم احترام سيادة الدول الأعضاء
- ارتباط واضحة بين انهيار حلف وارسو بالتنظيم الإداري ( القوة التنظيمية في الاتحاد السوفيتي ) النزعة الانفصالية لجمهوريات السوفيتية
- توجد علاقة ارتباط بين انهيار حلف وارسو وسياسة البناء الاقتصادي لجورباتشوف

٦- تم تجسيد احياء الديناميكي في العقد الثالث من الالفية الثالثة على يد احد

### الدول المشرفة على

- (أ) البحر الاسود  
(ب) الكاريبي  
(ج) الادرياتيكي  
(د) بحر الشمال .

### تذكر أن

- ارتبط نشأة حلف وارسو والأطلنطي المتغيرات السياسية في غرب أوروبا
- الدول التي لم توقع على ميثاق حلف وارسو وتعهدت بدعم أعضاء تميز المركزية في جميع قراراتها وتبني نظرية الدفاع من العمق وتنوع التركيب الجيولوجي والتأثير الايجابي على العلاقات الدولية
- من القارات التي تعد الأكثر في عدد الدول التي تتبع حالياً استراتيجية التسلح الجماعي أوروبا وأمريكا الشمالية
- كان الأكثر أهمية للانضمام لحلف وارسو الأيديولوجية الفكرية للدولة
- الدول المنضمة لحلف وارسو كانت تمتلك الحق في رفض دخول دول جديدة للحلف
- اتسم دور هيئة الأمم المتحدة بالسلبية في التعامل مع بعض القضايا الدولية في النصف الثاني من القرن الـ ٢٠م نتيجة قوة الكتلتين الشرقية والغربية

### العلاقات الدولية

### تطور العلاقات الدولية عبر الزمن

١- يمثل أقدم صور العلاقات الدولية؟ .....

(أ) الاعتماد الدولي المتبادل.

(ب) الصادرات المصرية لأستراليا.

(ج) السوق المشتركة الشرق وجنوب أفريقيا.

(د) الصلات التجارية بين مصر والصومال.

#### تذكر أن

- من الواضح ان المتحكم الأساسي في العلاقات الدولية في العصور القديمة والوسطى هي القوة العسكرية (الوزن السياسي وعلاقات الجوار)
- المنطقة التي شهدت الصراع بين الفرس والروم في العصور القديمة والوسطى تقع في شرق البحر المتوسط
- أقدم صورة العلاقات الدولية التي ترتبط بين الدول الاحلاف العسكرية
- من أقدم صور العلاقات الدولية تلك التي ظهرت في بعض دول قارتى آسيا وأفريقيا
- أرسلت الملكة حنشبوت رحلات تجارية إلى بلاد بونت والتي نقشت مناظرها على جدران معبدها بالدير البحرى» يدل ذلك قدم العلاقات الدولية
- أكثر الدول التي تأثرت سلبيا بالعلاقات الدولية في العصور الوسطى هي سوريا ولبنان

٢- أخذت العلاقات الدولية طابع العالمية وارتبط ذلك .....

(أ) ظهور الأحلاف العسكرية

(ب) الصراع بين الفرس والروم.

(ج) الفتوحات الإسلامية.

(د) الثورة الصناعية

#### تذكر أن

- أكبر صهوة العلاقات الدولية كانت خلال فترة ما بعد الثورة الصناعية
- تغيرت نوعية العلاقات الدولية مع منتصف القرن ١٨ بفضل الثورة الصناعية أو تطور وسائل الإنتاج
- أثرت الثورة الصناعية على تطور الحدود السياسية والعلاقات الدولية
- أخذت العلاقات الدولية طابع العالمية نتيجة لـ الثورة الصناعية
- تطورت العلاقات الدولية في العصر الحديث ليشمل العالم كلة دليلاً على تأثير الثورة الصناعية

٣- يدل على تشعب العلاقات الدولية بين دول العالم انتشار.....

(أ) الأحلاف العسكرية

(ب) السفارات

(ج) التكتلات الاقتصادية

(د) الحروب.

#### تذكر أن

- يعد من أهم اختصاصات حكومات الدول على المستوى الخارجي متابعة البعثات الدبلوماسية
- أثبتت جائحة كورونا وحدة المصير العالمى». يتضح ذلك من خلال أهمية العلاقات الدولية
- العامل الأكثر تأثيراً في العلاقات الدولية في عصرنا الحالى الوزن الاقتصادية
- أهم العلاقات الدولية التي تربط دول العالم في وقتنا الحالى ( المصالح الاقتصادية )
- يحدث التقارب الثقافى او العسكري او الاقتصادي الخ في الفترات الاخيرة بين الدول نتيجة البعثات الدبلوماسية
- يحدث تبادل الخبرات العلمية الفترات الاخيرة بين دول العالم نتيجة البعثات الدبلوماسية

### العوامل المؤثرة في العلاقات الدولية

### المقومات الطبيعية

تؤثر مساحة الدولة في قوة علاقاتها الدولية ، وينطبق ذلك على دولة

(أ) بوليفيا

(ب) تونس

(ج) سويسرا

(د) الولايات المتحدة الأمريكية.

#### تذكر أن

- تؤثر مساحة الدولة في قوة علاقاتها الدولية ، وينطبق ذلك على دولة الولايات المتحدة الأمريكية روسيا والصين
- المواقع الهامشية المتطرفة له اثره السلبى على العلاقات الدولية مثل موقع نيوزيلندا وتشيلي أو الأرجنتين أو استراليا
- أثرت القوة المورفولوجية (المساحة الصغيرة ) سلبياً في العلاقات الدولية مثل ( البحرين - قطر - الكويت - هولندا - بلجيكا
- مساحة الدولة (القوة المورفولوجية ) من العوامل المؤثرة في العلاقات الدولية لتمييزها بالتنوع الجيولوجي

أثر الموقع الجغرافي في قوة العلاقات الدولية لدولة .....

(أ) كندا

(ب) شيلي

(ج) المغرب

(د) أستراليا

#### تذكر أن

- تؤثر مصر في العلاقات الدولية بصورة ايجابية من خلال موقعها الاستراتيجي والجغرافي
- تأثرت علاقات تشيلي الدولية سلبياً بسبب موقعها الجغرافي او موقعها الهامشي
- أهم الاسلحة التي يمتلكها الوطن العربي وتؤثر في علاقاتها الدولية يتمثل مصادر الطاقة الحضرية والمواقع الاستراتيجية
- أهم الاسلحة التي يمتلكها الوطن العربي وتؤثر في علاقاتها الدولية بشكل ايجابي الموارد الطبيعية والموقع الجغرافي

٣- تظهر في الخريطة المقابلة دولة تتسم بضعف علاقاتها الدولية

بسبب.....

(أ) موقعها الجغرافي.

(ب) شكل الدولة.

(ج) تعدد الديانات

(د) اختلاف اللغات



#### تذكر أن

- تلعب مصر دوراً مؤثراً في العلاقات الدولية بسبب امتلاكها ممر برى يربط بين قارتين
- تتعدد العوامل المؤثرة سلباً على أستراليا في العلاقات الدولية ومنها امتدادها الضلكي والجغرافي
- تركيا إندونيسيا مصر المغرب اسبانيا ايطاليا اليمن جيبوتي سلطنة عمان الصومال لها ثقل على الساحة العالمية السياسية بسبب امتلاكهم مواقع استراتيجي
- تعد من اقل قارات العالم تأثيراً في العلاقات الدولية في أمريكا الجنوبية واستراليا
- تمتلك مصر علاقات دولية متشابكة نتيجة لـ موقعها المركزى .....
- أكسبت سنغافورة مكانة دولية بفضل موقعها الجغرافي تؤكد صحة آراء ارسطو

## العلاقات الدولية في الحرب والسلام

١- تدخلت الجزائر عام ١٩٧٥م لحل النزاع بين العراق وإيران حول منطقة شط العرب». في ضوء هذه العبارة، أجب : تدخل الجزائر لحل النزاع بين إيران والعراق يعبر عن أحد طرق حل النزاعات الدولية ، وهي .....

- (أ) المساعي الحميدة. (ب) المفاوضات  
(ج) التوفيق (د) التحكيم

### تذكر أن

- تم اللجوء إلى التحكيم الدولي في حل النزاع بين تونس وليبيا حول منطقة الرصييف البحري بعد فشل مرحلة التوفيق
- واجهت الامم لحل مشكلة سبتة ومليلية لاحد طرق حل النزاعات وهي المفاوضات
- تم اللجوء إلى التحكيم الدولي في حل في حل المشكلات الحدودية البرية في الشرق الاوسط عن طريق التحكيم

٢- عندما تقوم دولة ما بالدعوة إلى الحوار من أجل وقف القتال بين دولتين متجاورتين فهذا يشير إلى أحد صور العلاقات الدولية حيث.....

- (أ) التوفيق (ب) التحكيم  
(ج) الوساطة (د) المفاوضات

### تذكر أن

- شكلت منظمة مؤتمر التعاون الاسلامي لجنة اسلامية لحل النزاع بين العراق وإيران عام ١٩٨٠ يمكن اعتبار هذا الدور شكلاً من اشكال التوفيق
- تنازعت دولتان على إحدى المدن الحدودية تم الرجوع للمنظمة الدولية الكاننة لمدينة لاهاي بهنولندا لحل المشكلة " تم حل النزاع بأسلوب التحكيم

٣- تم تعديل الحدود بين العراق وسوريا في منطقة جبل سنجار وفقاً لما أوصت به اللجنة المكلفة بذلك». العبارة السابقة تمثل أحد طرق حل النزاعات سلمياً وهي.

- (أ) المفاوضات (ب) التحكيم  
(ج) المساعي الحميدة. (د) التوفيق

### تذكر أن

- عندما تفشل المفاوضات بين دولتين متجاورتين فانهما يتم اللجوء إلى الوساطة
- واجهت الامم المتحدة الى حل مشكلة سبتة ومليلية عن طريق المفاوضات
- الحل الامثل لحل اقدم المشكلات السياسية الموجودة على الساحة العالمية للجوء الى التحكيم
- لجأت مصر إلى التحكيم الدولي لاستعادة طابا بعد فشل التوفيق
- تنازعت دولتان على مجموعة آبار بترول لجأت الدولتان للجنة اقتصادية جغرافية لتحديد حقوق الدولتين واعترفت الدولتان بقرارها " ثم حل هذا النزاع بأسلوب التوفيق
- أهم ما يميز أسلوب التحكيم عن أسلوب التوفيق في العلاقات الدولية وجوبية تنفيذ القرارات الصادرة

## المقومات البشرية

١- كان سلاح الصين الأساسي للتأثير في العلاقات الدولية في منتصف القرن العشرين هو .....

- (أ) كبر المساحة. (ب) الثقل الاقتصادي.  
(ج) الوزن العسكري. (د) القوة الديموجرافية.

### تذكر أن

- من اهم العوامل المشتركة التي تمتلكها الصين وروسيا يجعل كل منهما يلعبان دوراً فعالاً في العلاقات الدولية تتمثل في القوة المورفولوجية والديموغرافية
- من الدول اثرت قوتها الديموغرافية والمورفولوجية على علاقاتها الدولية بالإيجاب ( روسيا / الصين / الولايات المتحدة الامريكية
- حصول بعض الدول الكبرى على مقاعد دائمة في مجلس الأمن ارتبط بالوزن السياسي والسكاني
- أثبتت جائحة كورونا وحدة المصير العالمي». يتضح ذلك من خلال أهمية العلاقات الدولية

٢- يرجع قوة العلاقات الدولية لدولة الأرجنتين إلى.....

- (أ) قوتها العسكرية. (ب) موقعها الاستراتيجي  
(ج) قوتها الديموجرافية (د) وزنها الاقتصادي.

### تذكر أن

- تمتلك إيطاليا علاقات إقليمية كبيرة بفضل الخصائص الاثنوغرافية موقعها الجغرافي
- تلعب روسيا الاتحادية دوراً مؤثراً في الاحداث السياسية العالمية ويدخل ذلك ضمن مجالات الجغرافيا السياسية من خلال العلاقات الدولية
- تأثر الصين في وقتنا الحالي على العلاقات الدولية نتيجة لقوتها الاقتصادية
- بدأت بزوغ الصين في التأثير على العلاقات الدولية نتيجة القوة الديموغرافية ( وزنها السكاني
- تمتلك المملكة العربية السعودية علاقات دولية بسبب خصائصها الاثنوغرافية ومواردها الاقتصادية

٣- ظهر أثر القوة العسكرية في العلاقات الدولية في.....

- (أ) غرب البحر الأسود (ب) جنوب البحر الأسود.  
(ج) شمال البحر الأسود. (د) شرق البحر الأسود.

### تذكر أن

- ظهر أثر القوة العسكرية في العلاقات الدولية في شمال البحر الاسود
- نتيجة لاجتياح روسيا لأوكرانيا
- حصول روسيا الاتحادية على لقب الوريث الأكبر للاتحاد السوفيتي هو علاقاتها الدولية ( قوتها العسكرية )
- لعبت روسيا الاتحادية خلال العقد الثالث من الالفية الثالثة دوراً هاماً في العلاقات الدولية بفضل القوة العسكرية
- العامل الأكثر تأثيراً في العلاقات الدولية في عصرنا الحالي الوزن الاقتصادي

## المنظمات العالمية (الدولية)

٧- تتشابه عصبة الأمم مع الأمم المتحدة في .....

(أ) ظروف نشأة كل منهما.

(ب) افتقارهما للقوة العسكرية.

(ج) خلوهما من الدول الرأسمالية.

(د) نجاحهما في تحقيق الأمن والسلم الدولي.

تذكر أن

ترجع فكرة ظهور المنظمات العالمية للأسباب عسكرية

كانت الصراعات المسلحة خلال الربع الأول من القرن العشرين سبباً في ظهور

عصبة الأمم المتحدة

كانت الصراعات المسلحة خلال النصف الأول من القرن العشرين سبباً في ظهور

المنظمات الدولية

٢٩- ساهمت نتائج مؤتمر سان فرانسيسكو عام ١٩٤٥م في .....

(أ) تأسيس حلف الناتو.

(ب) نهاية الحرب الباردة.

(ج) ظهور التكتلات الاقتصادية.

(د) منع قيام حرب عالمية ثالثة.

تذكر أن

أخذت العلاقات الدولية العالمية شكلاً أكثر تنظيماً خلال فترة ما بعد

الحرب العالمية الثانية

رغم الاختلاف الأيديولوجي بين الولايات المتحدة الأمريكية والاتحاد السوفيتي

الا انها لعبا دوراً مشتركاً في فشل منظمة دولية

ما بعد الحرب العالمية الثانية

رغم الاختلاف الأيديولوجي بين الولايات المتحدة الأمريكية والاتحاد السوفيتي

الا انها لعبا دوراً مشتركاً في فشل منظمة دولية

ارتبط حل مشكلات وسط أوروبا في النصف الأول من القرن الـ ٢٠م ب إنشاء

منظمة دولية

## دور الأمم المتحدة من الناحية السياسية والإنسانية

١- تتعدد أدوار الأمم المتحدة السياسية والإنسانية لحل العديد من المشكلات. في

ضوء العبارة وضع : في أي المناطق التالية يظهر الدور الإنساني لها

(أ) وسط أمريكا الجنوبية.

(ب) شمال أمريكا الشمالية.

(ج) غرب أستراليا

(د) جنوب أوروبا.

تذكر أن

تتشابه دولتا روسيا والمملكة المتحدة في عدة خصائص ومنها تأثيرهما على قرارات

الأمم المتحدة

إذا اجتمع كل رؤساء وملوك دول العالم في مدينة ما للتصويت حول مشكلة دولية

فمن المتوقع أن تكون نيويورك

يتشابه دور كلا من الأمم المتحدة وحلف الناتو في تقديم المساعدات الاجتماعية

للسهوب

المدينة الذي تم بها توقيع ميثاق الأمم المتحدة وحلف الناتو تنتمي لدول اتحاد

فيدرالي ونظام رئاسي

تتقارب جهود الأمم المتحدة في حل المشكلات الدولية مع بعض شروط كوبنهاجن

السياسية

ساهمت عدة جهات في حل المشكلات الخاصة شرق البحر الادرياتيكي منها

حلف الناتو والأمم المتحدة

٣١- رغم الجهود التي تبذلها هيئة الأمم المتحدة إلا أنه توجد عوامل تساهم في

تعطيل بعض قراراتها ومنها .....

(أ) تمتع بعض الدول بامتيازات سياسية عن بقية دول العالم.

(ب) شدة النزاع بين الولايات المتحدة الأمريكية والاتحاد السوفيتي

(ج) انتهاء الحرب الباردة بانتصار الرأسمالية الغربية.

(د) عدم انضمام بعض الدول للمنظمة.

تذكر أن

يتسم موقف الامم المتحدة تجاه القضايا العالمية بعدم الحيادية بالسلبية

بازدواجية المعايير

القارة التي حرمت دولها من الحصول على حق الفيتو قارة افريقيا وامريكا

الجنوبية واستراليا

أكثر القارات التي تستطيع بعض دولها تعطيل قرارات الأمم المتحدة هي .

( أوروبا

كانت للأمم المتحدة تأثيرها السلبي في مشكلتي فلسطين وسبتة ومليلة

ظهر الدور المتخاذل للأمم المتحدة في حل أقدم النزاعات السياسية في الدول

المطلية جنوب البحر المتوسط

- تقدم المنظمات الدولية مساعدات لدول القارة السمراء والتي عانت من

التشريد بسبب الحروب، وهو ما يتشابه مع دورها في .....

(أ) تركيا وسوريا وإيران

(ب) تونس والجزائر وأوكرانيا.

(ج) أفغانستان وباكستان وإيطاليا. (د) البوسنة والهرسك وفلسطين.

تذكر أن

أكثر الدول استفادة من جهود الامم المتحدة في كثير من الجوانب البوسنة الهرسك

(شرق البحر الادرياتي) ا جنوب شرق اوربا ( فلسطين ( شرق البحر المتوسط )

ارتبط حل مشكلات الطاقة الحضرية في جنوب حوض البحر المتوسط اتحاد المغرب

العربي بمنظمات الدولية

كانت الأمم المتحدة دوراً هاماً في تفاقم المشكلات الاثنوغرافية في جنوب آسيا

ساعد حلف الناتو في عودة الهدوء والاستقرار في بعض مناطق العالم ونزع فتيل

القتال مرة اخرى وهو ما يتشابه مع دور الامم المتحدة في البوسنة وكرواتيا

١- تم تفعيل دور منظمة الأمم المتحدة من خلال .....

(أ) إنشاء محكمة العدل الأوروبية.

(ب) تدويل المشاكل والقضايا

(ج) تكوين قوات حفظ السلام.

(د) تقليص دور السيادة الوطنية للدول.

تذكر أن

تتشابه دولتا روسيا والمملكة المتحدة في عدة خصائص ومنها تأثيرهما على

قرارات الأمم المتحدة

إذا اجتمع كل رؤساء وملوك دول العالم في مدينة ما للتصويت حول مشكلة

دولية فمن المتوقع أن تكون نيويورك

تعطلت كثير من قرارات الامم المتحدة بسبب الصراع الايديولوجي او الحرب البارد

القاسم المشترك بين جهود حلف الناتو ومنظمة الامم المتحدة في الجوانب

اجتماعية ( انسانية ) سياسية او عسكرية

استطاعت الدول الأوروبية تحويل حالة الحرب والصراعات فيما بينهم الى

تعاون سياسي واقتصادي فيما بينهم من خلال معاهدة ماستريخت

احد ي دول اوربا شهدت حروباً مسلحة ادى الى ظهور مشكلة اللاجئين في

الاونه الاخيرة تقع على البحر الاسود

### النظام العالمي الجديد

### أثار سقوط الاتحاد السوفيتي على خريطة العالم

#### ١- أصبح من الضروري الإعلان عن إقامة نظام عالمي جديد كنتيجة

- (أ) اختلال توازن القوى العالمية.
- (ب) ضعف دور الأمم المتحدة.
- (ج) ظهور اليابان وألمانيا كقوى عسكرية.
- (د) هيمنة الصفة الأيدولوجية على العلاقات الدولية.

#### تذكر أن

- من أهم المؤثرات الاقتصادية الناتجة عن تفكك الاتحاد السوفيتي سقوط كتل الكوميون
- أهم المتغيرات السياسية الناتجة على سقوط الاتحاد السوفيتي انتهاء الصراع الأيدولوجي - ظهور ظاهر القطب الاوحد - ظهور النظام العالمي الجديد
- ظهور ظاهرة القطب الاوحد دليلاً دامغاً على سقوط مبدأ توازن القوى

#### ٢ :- يشتمل النظام العالمي الجديد على عدة حقائق منها .....

- (أ) تضاول دور الكتلة الراسمالية في العلاقات الدولية
- (ب) ظهور الأحادية القطبية وانتهاء الحرب الباردة
- (ج) هيمنة الصراعات الأيدولوجية على العلاقات الدولية
- (د) التواصل بين دول العالم هو العامل المؤثر في ظهوره

#### تذكر أن

- ظهرت بداية الرغبة الأمريكية في إقامة نظام عالمي جديد في أوائل القرن العشرين
- القاسم المشترك بين النظام العالمي الجديد و الجيوبولتيك السيطرة والهيمنة و تقلص دور السيادة الوطنية
- يهدف النظام العالمي الجديد الى تحقيق مبدأ السيطرة والهيمنة على موارد الدول النامية
- حلت الخريطة السياسية المعاصرة من الصراع الأيدولوجي
- السبب الرئيسي لظهور الأقليات في بعض دول شرق أوروبا وشمال آسيا هو تفكك الاتحاد السوفيتي

### الحقبة التاريخية لظهور النظام العالمي الجديد

#### ١ :- ارتبطت جذور النظام العالمي الجديد بـ .....

- (أ) الصراعات في الشرق الأوسط. (ب) ظهور الأحلاف العسكرية.
- (ج) الصراعات العالمية المسلحة. (د) ظهور التكتلات الاقتصادية.

#### تذكر أن

- بدأت الهيمنة الأمريكية العالمية خلال حكم الرئيس جورج بوش الأب
- تقاربت أفكار العسكريين الشرقي والغربي عندما صعد للحكم الرئيس جورباتشوف
- الدول التي كانت سبباً في مفهوم النظام العالمي الكويت والعراق
- استهدف خطاب جورباتشوف عن المبادئ الحاكمة للعلاقات بين الاتحاد السوفيتي والولايات المتحدة تحقيق مبدأ الشراكة والتعاون أو المصاحبة المتبادلة أو الانفتاح

النظام العالمي الجديد في الحقيقة لم يكن ثمرة اتفاق بين الدول . نستنتج من العبارة أن نشأة النظام العالمي الجديد ارتبطت بـ .....

- (أ) قدرة الولايات المتحدة الأمريكية عسكرياً.
- (ب) فشل سياسات جورباتشوف الاقتصادية.
- (ج) نقلص دور هيئة الأمم المتحدة.
- (د) اتساع نطاق حلف الناتو سياسياً.

#### تذكر أن

- بدأت ملامح النظام العالمي الجديد تظهر في الأفق عقب الحرب العالمية الاولى من خلال ( مبادئ الرئيس ويلسن )
- تبلور مفهوم فكرة النظام العالمي الجديد بوضوح اثناء ازمة حرب الخليج العربي
- تركزت معظم مبادئ الرئيس جورباتشوف الحاكمة على تحقيق اهداف سياسية
- تقاربت افكار العسكريين الشرقي والغربي عندما صعد للحكم الرئيس جورباتشوف
- ترجع جذور النظام العالمي الجديد الى الحرب العالمية الاولى
- يستدل على مبادئ التي اعلنها الرئيس جورباتشوف على الانفتاح السياسي نحو الغرب

### المتغيرات التي صاحبت النظام العالمي الجديد

١- يُعد من المتغيرات التي حدثت على الساحة الدولية ودفعت إلى إعلان النظام العالمي الجديد .....

- انضمام الولايات المتحدة الأمريكية والاتحاد السوفيتي للأمم المتحدة.
- (ب) انتهاء العديد من النزاعات في قارة آسيا.
- (ج) تطور دول شرق آسيا عسكرياً.
- (د) سعى دول غرب أوروبا لإنشاء العديد من التكتلات الاقتصادية.

#### تذكر أن

- أهم المتغيرات الإيجابية السياسية التي صاحبت ظهور النظام العالمي الجديد تتعلق ب تفعيل دور الامم المتحدة
- أهم المتغيرات الاجتماعية التي صاحبت ظهور النظام العالمي الجديد تتعلق الثورة المعلوماتية
- الآثار السلبية على لانتشار العولمة الثقافية ( الاجتماعية ) اختلال القيم والعادات في المجتمعات العربية

٢- أي مما يلي يمكن اعتباره أحد المتغيرات التي دفعت لظهور النظام العالمي الجديد؟ .....

- (أ) تدخل الأمم المتحدة في مشكلة كشمير.
- (ب) الحفاظ على السيادة القومية للدول.
- (ج) تفعيل دور قوات الطوارئ الدولية.
- (د) زيادة حدة الاستقطاب العالمي.

#### تذكر أن

- يتم اختراق الأمن الثقافي العربي من خلال وسائل الاتصالات السلكية واللاسلكية كانت منظمة عدم الانحياز مواقف محايدة ضد الصراع الأيدولوجي
- تركزت معظم المراكز الصناعية الجديد التي تزامنت مع النظام العالمي الجديدة في دول جنوب شرق آسيا
- ارتبط ظهور النظام العالمي الجديد بالمتغيرات السياسية في شمال شرق آسيا
- ارتبط ظهور النظام العالمي الجديد بإيجاد حلول للعديد من القضايا معظمها في قارة آسيا

٢- أي مما يلي يمكن اعتبارها السمة الغالبة على خصائص النظام العالمي الجديد...

- (أ) احترام استقلالية الدول.
- (ب) انتشار الحروب الحدودية.
- (ج) سيطرة الفكر الاقتصادي الواحد.
- (د) تحقيق مبادئ الرئيس جورج واشنطن

### تذكر أن

- تعد اتفاقية "إجات" المبرمة لتخفيف القيود الجمركية بين دول العالم بالنسبة للنظام العالمي الجديد أحد خصائصه
- يظهر التناقض بين خصائص النظام العالمي الجديد وأهدافه في السيادة الوطنية للدول
- يشير تدويل قضايا النزاعات الحدودية بين نيجيريا والكاميرون بالنسبة للنظام العالمي الجديد الى أحد أهداف المعلنة

٣- يظهر التناقض بين خصائص النظام العالمي الجديد وأهدافه فيما يخص...

- (أ) حركة التجارة العالمية.
- (ب) دور الأمم المتحدة.
- (ج) حقوق الإنسان
- (د) السيادة الوطنية للدول

### تذكر أن

- من خصائص النظام العالمي الجديد تقصص دور السيادة الوطنية " تماشى هذه العبارة مع آراء العالم كيلين
- ظل النظام العالمي الجديد أصبح الثقل العالمي في جنوب الدائرة القطبية الشمالية
- المعاهدة التي لعبت دوراً مؤثراً في إعلان متغيرات النظام العالمي الجديد كانت في مدينة ماسترخيت
- قوتان عظيمان لعبتا دوراً فعالاً في الاسراع بإعلان النظام العالمي تتشابهان في معدل الانضاق على البحث العلمي

٤- يمكن اعتبار اتفاقية التجارة الحرة بالنسبة للنظام العالمي الجديد أحد

- (أ) متغيراته
- (ب) تأثيراته
- (ج) خصائصه
- (د) أهدافه

### تذكر أن

- تفكك الاتحاد السوفيتي وجناحية الاقتصادي والعسكري يؤكد على صحة آراء العالم ابن خلدون
- أحد المفاهيم التي تعبر عن الوجهة الأخر للنظام العالمي الجديد العولمة

٥- من خصائص النظام العالمي الجديد .....

- (أ) انتشار الأخلاف العسكرية.
- (ب) تراجع أهمية المشكلات المحلية.
- (ج) إزالة الحواجز الجمركية بين الدول (د) استمرار مبدأ توازن القوى

### تذكر أن

- الاحتباس الحراري اصبح حالياً مجال اهتمام قادة العالم المتقدم والنامي على حد سواء " هذه العبارة توضح احد خصائص النظام العالمي الجديد وهي تدويل المشاكل والقضايا التي يواجهها العالم
- كان نشل معاهدة الصداقة والتعاون والمساعدة المتبادلة اثر في زيادة الاقليات القومية
- يمكن اعتبار نشاه تجمع اقتصادي بالنسبة للنظام العالمي الجديد أحد خصائص النظام العالمي الجديد ( ظهور ظاهر الاعتماد الدولي وانشاء التكتلات الاقتصادية

٣- أحد المتغيرات التي أدت إلى إعلان النظام العالمي الجديد هو نهضة بعض المناطق اقتصادياً والتي تقع في.....

- (أ) جنوب شرق أستراليا.
- (ب) جنوب شرق أمريكا الشمالية.
- (ج) جنوب شرق آسيا.
- (د) جنوب شرق أفريقيا.

### تذكر أن

- تزامن ظهور النظام العالمي الجديد بمجموعة من المتغيرات من معظمها في قارة آسيا
- معظم المتغيرات التي تزامنت مع ظهور النظام العالمي الجديد تركزت على البعد الاقتصادي
- تمركزت معظم المراكز الصناعية الناشئة جديد التي تزامنت مع النظام العالمي الجديدة في جنوب شرق آسيا

٤- استطاعت الدول الصناعية الآسيوية الناشئة للحصول على مكانة مهمة في الساحة الاقتصادية والسياسية بفضل .....

- (أ) مواردها الطبيعية
- (ب) قوتها العسكرية
- (ج) قوتها البشرية
- (د) قوتها المورفولوجية

### تذكر أن

- اهم ما تتميز به القوة الصناعية الناشئة جديد في القارة الآسيوية تتمتعها بالعديد من الخصائص بالأخص القوة الديموغرافية
- تلعب اليابان والمانيا دوراً هاماً في النظام العالمي الجديد بسبب قوتها الاقتصادية
- معظم الدولة الصناعية في آسيا الناشئة جديد التي تزامنت مع ظهور النظام العالمي الجديد تقع شمال دائرة الاستواء

٥- تمركزت الدول الصناعية الجديدة في ظل النظام العالمي الجديد في....

- (أ) شمال أفريقيا.
- (ب) جنوب شرق آسيا.
- (ج) جنوب أمريكا الجنوبية.
- (د) شمال أمريكا الشمالية.

### تذكر أن

- كان انتهاء الصراع الايدلوجي بين الكتلتين الشرقية والغربية في نهاية القرن العشرين اثره في تناقص دول غرب اوربا وزيادة عدد دول شمال آسيا وشرق وجنوب اوربا
- استطاعت الدول الصناعية الآسيوية الناشئة للحصول على مكانة مهمة في الساحة الاقتصادية والسياسية بفضل موارد البشرية

## خصائص واهداف النظام العالمي الجديد

١- تتقارب بعض أهداف النظام العالمي الجديد مع بعض شروط كوبنهاجن.....

- (أ) الاقتصادية
- (ب) السياسية
- (ج) التشريعية
- (د) العسكرية

### تذكر أن

- من الاهداف الخفية للنظام العالمي الجديد انتهاك سيادة الدول
- يعد النظام العالمي الجديد الوجهة الأخر للفكر الجيوبولتيكي نتيجة تهديد السيادة الوطنية
- اهم العوامل التي ساعدت على تقصص السيادة الوطنية للدول في ظل النظام العالمي الجديد ظهر الشركات متعددة الجنسيات المؤسسات النقدية

## تأثير النظام العالمي الجديد على الدول المتقدمة والنامية

١- يمكن اعتبار الجانب السلبي للعولمة هو أحد أسباب عجز النظام العالمي الجديد عن.....

- (أ) إحلال قيم السلام العالمي. (ب) احترام دور الأمم المتحدة.  
(ج) نشر قيم الديمقراطية. (د) احترام سيادة الدول على أراضيها.

### تذكر أن

- الاحتباس الحراري أصبح حالياً مجال اهتمام قادة العالم المتقدم والنامي على حد سواء " هذة العبارة توضح احد خصائص النظام العالمي الجديد وهي تدويل المشاكل والقضايا التي يواجهها العالم
- كان لفشل معاهدة الصداقة والتعاون والمساعدة المتبادلة اثر في زيادة الاقليات القومية
- يمكن اعتبار نشاء تجمع اقتصادي بالنسبة للنظام العالمي الجديد احد خصائص النظام العالمي الجديد ( ظهور ظاهر الاعتماد الدولي وانشاء التكتلات الاقتصادية

٢- استولت الدول المتقدمة قديماً على الموارد الأولية من دول العالم النامي وأصبحت الآن تعمل على.....

- (أ) سلبه الأمل في التقدم. (ب) تطوير قدراته الإنتاجية.  
(ج) إعاقة دخوله في المنظمات الدولية (د) إقامة أحلاف عسكرية معه.

### تذكر أن

- ظهر التأثيرات السياسية للنظام العالمي الجديد على الدول النامية من خلال فرض سياسة العولمة او من خلال تقصص السيادة الوطنية
- يتم اختراق الامن الثقافي العربي من خلال وسائل الاتصالات السلكية واللاسلكية
- الأثار السلبية على لانتشار العولمة الثقافية ( الاجتماعية ) اختلال القيم والعادات في المجتمعات العربية

٣- يتمثل الأثر الإيجابي للنظام العالمي الجديد على العديد من دول قارتي أفريقيا وأمريكا الجنوبية في.....

- (أ) توظيف التكنولوجيا لزيادة الإنتاج.  
(ب) استقرار الأوضاع على الحدود السياسية.  
(ج) التحسين في علاقاتها مع دول الغرب الرأسمالية.  
(د) التأكيد على أهمية تطبيق خطط الإصلاح الاقتصادي.

### تذكر أن

- تستطيع الدول النامية التعبير عن وجودها عالمياً في إطار النظام العالمي الجديد من خلال هيئة الأمم المتحدة
- أى من المناطق التالية يتركز حولها مركز الثقل الدولي في ظل النظام العالمي الجديد شمال المحيط الأطلنطي
- أقل قارات العالم التي لم تتأثر بالتغيرات السياسية التي شهدتها خريطة العالم السياسية بعد الحرب العالمية الثانية هي أمريكا الشمالية او أمريكا الجنوبية
- الدولة المحورية التي احدثت تغيرات سريعة في الخريطة السياسية اواخر القرن العشرين . الاتحاد السوفيتي
- ارتبط ظهور النظام العالمي الجديد بإيجاد حلول للعديد من القضايا معظمها في قارة آسيا

٤- أي مما يأتي يعد من التأثيرات الناتجة عن النظام العالمي الجديد بالنسبة لدول قارة أمريكا الجنوبية؟.....

- (أ) احتكارهم المطلق للسلاح.  
(ب) اختراق أمنهم الثقافي.  
(ج) تحقيقهم للسيادة الوطنية الكاملة.  
(د) تغيير حدودهم السياسية.

### تذكر أن

- الأكثر المستفيدين من النظام العالمي الجديد دول شرق اوربا (تحول المساعدات الى دول شرق اوربا)
- أكثر المتضررين من النظام العالمي الجديد دول قارة أفريقيا او دول آسيا النامية أو الدول العربية ( دول العالم النامي )
- عبث الولايات المتحدة في مقدرات الاقتصادية لبعض الدولة العربية يعد من اهم تأثيرات النظام العالمي الجديد

٥- ساهم في تناوّل أهمية حركة عدم الانحياز.....

- (أ) انتشار الأحلاف العسكرية. (ب) ظهور المنظمات الدولية.  
(ج) انقسام ألمانيا إلى دولتين. (د) سقوط الكتلة الشيوعية

### تذكر أن

- احتكار مطلق للسلاح والمال والتكنولوجيا من قبل دول الغرب الرأسمالية كان له آثاره الايجابية على منطقة جنوب بحر البلطيق
- احتكار مطلق للسلاح والمال والتكنولوجيا من قبل دول الغرب الرأسمالية كان له آثاره السلبية على منطقة جنوب الصحراء الكبرى
- احتكار مطلق للسلاح والمال والتكنولوجيا من قبل دول الغرب الرأسمالية كان له آثاره السلبى على دول العالم الثالث
- كان لرأس المال والتكنولوجيا المتطورة الأثر السلبى على استغلال الموارد الطبيعية الغير متجددة او الموارد الطبيعية

٦- يظهر التأثير السلبى للنظام العالمي الجديد خاصة على قارة..

- (أ) أمريكا الشمالية. (ب) أفريقيا  
(ج) أوروبا (د) أستراليا

### تذكر أن

- يُعد أثرًا سلبيًا للنظام العالمي الجديد على السياسات الداخلية للعديد من الدول النامية انتشار العنف والحروب الأهلية
- يعد الأثر الناتج عن ارتباط العولمة بالنظام العالمي الجديد سلب إرادة الشعوب النامية
- كان لرأس المال والتكنولوجيا المتطورة الأثر السلبى على استغلال الموارد الطبيعية بقارة افريقيا
- حدث تأثير سلبي على مقومات الأمة العربية من خلال العولمة الفكرية
- الجانب الديموجرافي الأكثر تأثيراً على قوة الدولة في ظل النظام العالمي الجديد هو المستوى التعليمي
- كان لمنظمة دول عدم الانحياز دوراً فعالاً أثناء الحرب الباردة الأيدولوجية بدأت الهيمنة الأمريكية العالمية خلال حكم الرئيس جرج بوش الأب
- أقل قارات العالم التي لم تتأثر بالتغيرات السياسية التي شهدتها خريطة العالم السياسية بعد الحرب العالمية الثانية هي أمريكا الشمالية